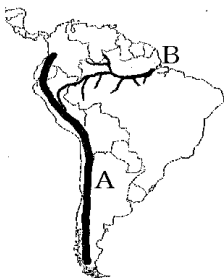


【FdData 中間期末：中学社会地理：南アメリカ】  
【地形・気候・各国】

【問題】(2学期中間)

右の地図にAで示した山脈、Bで示した世界最大の流域面積をもつ川の名をそれぞれ答えよ。

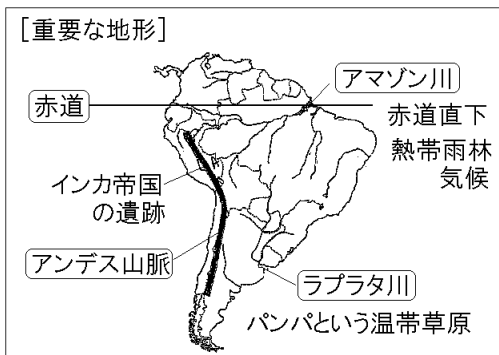


【解答】A アンデス山脈

B アマゾン川

【解説】

【重要な地形】



南アメリカ大陸の西部には、環太平洋造山帯に属し、高くてけわしいアンデス山脈が走っている。ペルーのアンデス山中には、スペインに滅ぼされたインカ帝国の遺跡が残っている。ブラジルを流れるアマゾン川(流域面積は世界最大)の流域は、赤道直下にあるため年中高温多雨で熱帯雨林が広がっている(熱帯雨林気候)。近年、開発などによる熱帯雨林の減少が問題になっている。アルゼンチンを流れるラプラタ川周辺はパンパという温帯草原が広がり、小麦の栽培や肉牛の飼育がさかんである。

### [問題](1 学期中間)

次の各問いに答えよ。

- (1) 南アメリカにある世界最大の流域面積をもつ河川を何というか。
- (2) 南アメリカ大陸の太平洋側を南北に走る山脈を何というか。
- (3) アルゼンチンのラプラタ川周辺に広がる広大な草原地帯を何というか。

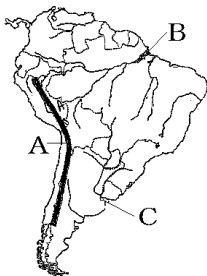
[解答](1) アマゾン川 (2) アンデス山脈

(3) パンパ

【問題】(2 学期期末)

地図を見て、各問いに答えよ。

- (1) Aの山脈、BとCの川の名前を書け。
- (2) Bの川の流域ではどんな困ったことがおきているか。
- (3) Cの川の下流域に広がる温帯の草原を何とよぶか。

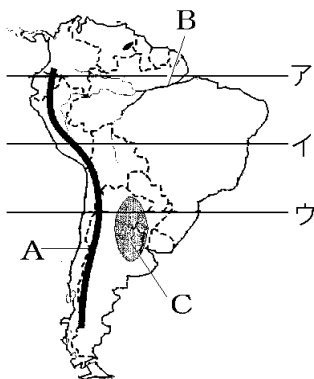


【解答】(1)A アンデス山脈 B アマゾン川

C ラプラタ川 (2) 開発などにより熱帯雨林が減少していること。 (3) パンパ

[問題](2学期中間)

次の略地図を見て以下の各問いに答えよ。

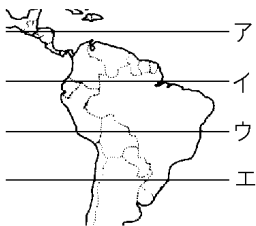


- (1) 略地図の緯線ア、イ、ウの中で、赤道を示しているものはどれか、その記号を答えよ。
- (2) 略地図のAの山脈の名を答えよ。
- (3) 略地図のBの川の名を答えよ。
- (4) 略地図のBの川の流域の大部分は、1年じゅう高温で降水量が多い。その気候区の名を次から選べ。  
[ 熱帯雨林気候 サバナ気候  
ステップ気候 温暖湿潤気候  
西岸海洋性気候 ]
- (5) 略地図のCの草原は栄養分に富んだ土が広がっていて、作物栽培や牧畜業がさかんである。この草原を何というか。

[解答](1) ア (2) アンデス山脈 (3) アマゾン川  
(4) 熱帯雨林気候 (5) パンパ

[問題](2 学期中間)

右の略地図で赤道を示す緯線はどれか、ア～エから選べ。

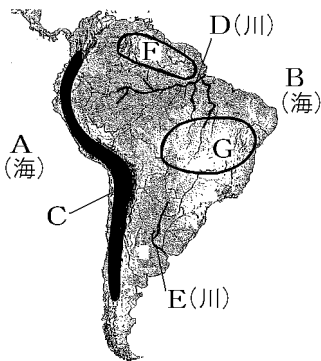


[解答]イ

[問題](2 学期期末)

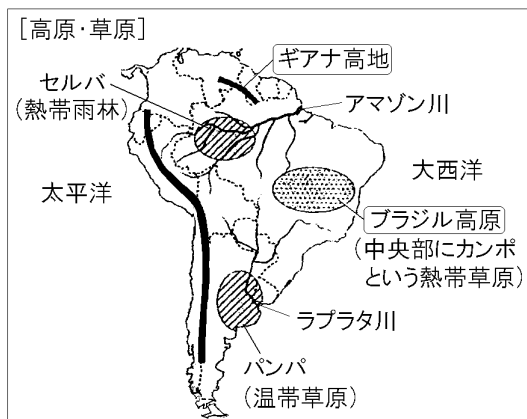
右の地図の A～G の地形名を下の [ ] を参考に答えよ。

[ アンデス  
アマゾン  
ラプラタ  
ギアナ  
ブラジル  
太平 大西 ]



[解答]A 太平洋 B 大西洋 C アンデス山脈  
D アマゾン川 E ラプラタ川 F ギアナ高地  
G ブラジル高原

## [解説]



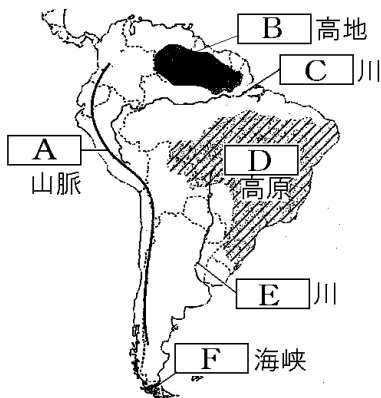
北部にはなだらかなギアナ高地がある。アマゾン川流域にはセルバという熱帯雨林が広がっている。東部にはブラジル高原があり、その中にはカンポという熱帯草原が広がっており、コーヒー豆やカカオ豆の栽培がおこなわれている。

ラプラタ川流域にはパンパという温帯草原が広がっており、小麦の栽培や肉牛の飼育がおこなわれている。

[問題](2学期中間)

地図中のA～Fの地形名を、次から1つずつ選べ。

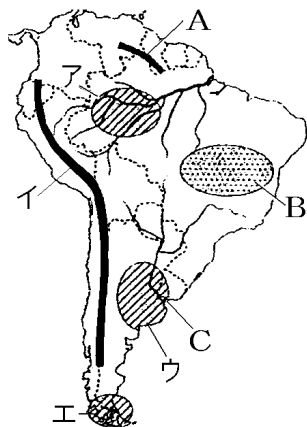
[ ラプラタ ブラジル マゼラン ギアナ  
アマゾン アンデス ]



[解答]A アンデス B ギアナ C アマゾン  
D ブラジル E ラプラタ F マゼラン

[問題](2学期中間)

南アメリカ州について、以下の各問いに答えよ。



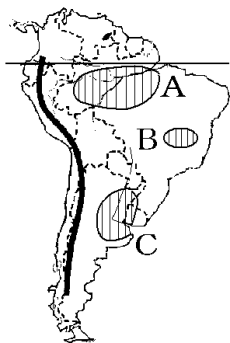
- (1) 地図中のA, Bの高地・高原名と, Cの河川名を書け。
- (2) 次の文に適する地域を, 地図中のア～エからそれぞれ選べ。
  - ① パンパとよばれる草原地帯での牧畜がさかんである。
  - ② 降水量が多く, 1年を通して気温が高い。
  - ③ 15世紀に最盛期をむかえたが, のちにスペインに滅ぼされた帝国が含まれている。

[解答](1)A ギアナ高地 B ブラジル高原  
C ラプラタ川 (2)① ウ ② ア ③ イ



[問題](2学期中間)

次の地図を見て、各問いに答えよ。



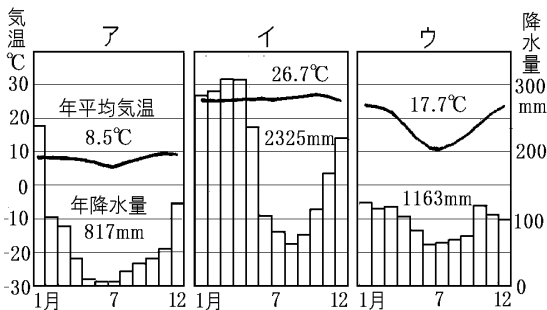
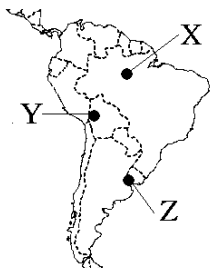
- (1) Aの熱帯雨林が広がる地域を何というか。
- (2) Bの熱帯の草原を何というか。
- (3) Cの温帯の草原を何というか。
- (4) Bの草原で栽培がさかんな農作物を次の[ ]から2つ選べ。  
[ コーヒー 米 小麦 カカオ ]
- (5) Cの草原で栽培がさかんな農作物と放牧がさかんな家畜を次の[ ]から1つずつ選べ。  
[ コーヒー 米 リヤマ 小麦 カカオ豆 肉牛 ]

[解答](1) セルバ (2) カンポ (3) パンパ

(4) コーヒー, カカオ (5) 小麦, 肉牛

[問題](2学期中間)

地図の X～Z の都市の雨温図を，下のア～ウから1つずつ選べ。



[解答]X イ Y ア Z ウ

## [解説]

### [雨温図の判断]

・まず、乾燥帯、寒帯かどうかを判断

- 乾燥帯：降水量が少ない
- 寒帯：最暖月 $10^{\circ}\text{C}$ 未満



・熱帯、温帯、冷帯は最寒月に注目

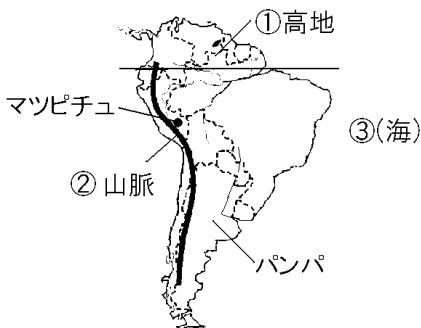
- 熱帯：最寒月 $18^{\circ}\text{C}$ 以上
- 温帯：最寒月 $-3^{\circ}\text{C}\sim 18^{\circ}\text{C}$
- 冷帯：最寒月 $-3^{\circ}\text{C}$ 未満

(ケッペンの区分法による)

Xは赤道近くにあるマナオスで<sup>ねったい</sup>熱帯である。Yはアンデス山脈にあるラパスで<sup>こうざんきこう</sup>高山気候である。Zはラプラタ川下流のブエノスアイレスで温帯である。次に、雨温図ア～ウが示す気候帯について考える。イは最寒月の気温が $18^{\circ}\text{C}$ をこえているので熱帯で、Xの雨温図である。ウは最寒月が $-3^{\circ}\text{C}\sim 18^{\circ}\text{C}$ の間にあるので温帯で、Zの雨温図である。アは年間の気温の変化が少なく低いことから高山気候であると判断できる。したがって、アはYの雨温図とわかる。

[問題](後期中間)

次の各問いに答えよ。



- (1) 地図の①～③にあてはまる名称を次の[ ]から1つずつ選べ。

[ ロッキー アンデス ギアナ メキシコ  
大西洋 太平洋 ]

- (2) 地図にあるパンパの説明として正しいものを次のア～エから1つ選べ。

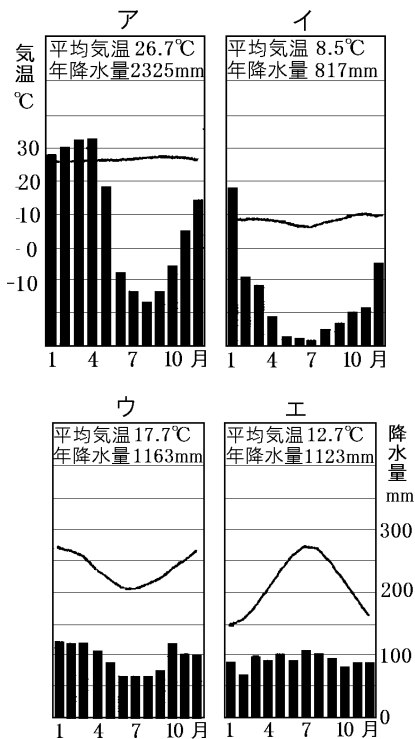
ア アマゾン川流域に広がる熱帯雨林のことである。

イ ラプラタ川の下流域に広がる草原のことである。

ウ ラプラタ川の下流域に広がる熱帯雨林のことである。

エ アマゾン川流域に広がる草原のことである。

(3) 地図のマチュピチュに近い高山気候の都市の雨温図を、次のア～エから1つ選べ。



[解答](1)① ギアナ ② アンデス ③ 大西洋  
 (2) イ (3) イ

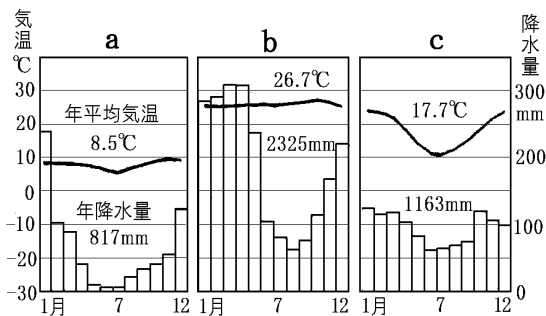
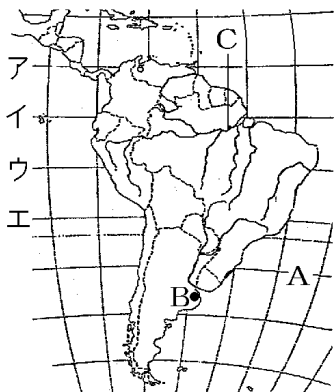
## 【解説】

(2) アは熱帯，イは高山気候，ウとエは温帯である(ウは気温のグラフがU字型で，7月ごろの気温が低いので南半球である。)

(3) アマゾン川流域に広がるのはセルバという熱帯雨林である。ラプラタ川の下流域に広がる草原はパンパである。

[問題](前期期末)

南アメリカ州についてあとの各問いに答えよ。



- (1) 地図中で赤道を表している線をア～エから1つ選べ。

- (2) 地図中 A の海洋の名前を答えよ。
- (3) 地図中 B の都市の説明を参考にして、気候を表す雨温図を a～c から 1 つ選べ。

[B の都市の説明]

B の都市はアルゼンチンの首都のブエノスアイレスである。この都市の周辺にはパンパとよばれる温帯の草原が広がり、肉牛の飼育がさかんである。

- (4) 地図中の C の河川の名前を次の[ ]から選べ。

[ ナイル川 ミシシッピ川 アマゾン川  
ライン川 ]

- (5) C の河川の説明として正しいものを次のア～エから選べ。

ア この川は国際河川で、川の流域では多くの工業都市が発達している。

イ この川の流域は年中高温多雨で熱帯雨林が広がり、多くの動植物が生育している。

ウ この川はおもに乾燥地帯を流れ、下流には古代文明が発達した。

エ この川の流域には綿花やだいた、小麦などの大規模な農業が行われている。

- [解答](1) イ (2) 大西洋 (3) c (4) アマゾン川  
(5) イ



[問題](2学期中間)

次の地図のA～Cの国名を答えよ。



[解答]A ブラジル B ペルー C アルゼンチン

[解説]



ブラジル：<sup>しゅと</sup>首都はブラジリア。南アメリカ州で最大の国である。北部にはアマゾン川が流れ、南部にはブラジル<sup>こうげん</sup>高原が広がっており、国土の大部分

が<sup>ねったい</sup>熱帯に属する。日系人が多い。

アルゼンチン：首都はブエノスアイレスで、ラプラタ川流域のパンパという草原で小麦の<sup>さいばい</sup>栽培と肉牛の<sup>しいく</sup>飼育がさかんである。

チリ：アンデス山脈の西側にあり、南北に長細い。

ボリビア：首都はラパスで、南アメリカ州の中央部に<sup>ないりくこく</sup>ある内陸国である。

ペルー：インカ文明の<sup>いせき</sup>遺跡であるマチュピチュがある。

コロンビア：南部を赤道が通る。国名は<sup>たんけんか</sup>探検家のコロンブスにちなんでつけられた。

[問題](2学期中間)

次の略地図のA～Dの国名を答えよ。



[解答]A ペルー B チリ C アルゼンチン  
D ブラジル

[問題](2学期中間)

次の①～⑥にあてはまる国名を地図中から1つずつ選べ。



- ① 首都はブエノスアイレスで、広大な草原で小麦栽培や放牧がさかんである。
- ② インカ文明の遺跡であるマチュピチュがある。
- ③ 首都はラパスで、南アメリカ州の中央部にある内陸国である。
- ④ 南アメリカ州の面積の半分近くを占め、多くの日系人が住む。
- ⑤ 山脈の西側で、太平洋に面し、国土が南北に細長い。
- ⑥ 南部を赤道が通る。国名は探検家のコロンブスにちなんでつけられた。

- [解答]① アルゼンチン ② ペルー  
③ ボリビア ④ ブラジル ⑤ チリ  
⑥ コロンビア

[問題](2 学期期末)

ブラジルの首都はどこか。次の[ ]から選べ。  
[ ブエノスアイレス ブラジリア  
リオデジャネイロ ]

[解答]ブラジリア

◆社会地理の各ファイルへのリンク

<http://www.fdtype.com/dp/sc2/index.html>

◆FdData 中間期末の特徴(QandA 方式)

[http://www.fdtype.com/dp/qanda\\_k.html](http://www.fdtype.com/dp/qanda_k.html)

◆製品版(パソコン Word 文書：印刷・編集用)  
の価格・購入方法

<http://www.fdtype.com/dp/seihin.html>

※ iPhone でリンク先が開かない場合は、  
「iBooks」を開いてリンクをタップください。

【Fd 教材開発】 Mail : [info2@fdtype.com](mailto:info2@fdtype.com)