

【FdData 中間期末：中学社会地理：南アメリカ】
【資源と工業化】

【問題】(2 学期中間)

次の各問いに答えよ。

- (1) 南アメリカ州で、近年、先端技術産業が発達し、経済が急速に発展している国はどこか。
- (2) かつて(1)の国の最大の輸出品であった農産物を次から選べ。

【 だいず 小麦 コーヒー カカオ 】

【解答】(1) ブラジル (2) コーヒー

【解説】

【ブラジルの発展】

かつて、が最大の輸出品



だいず、さとうきび

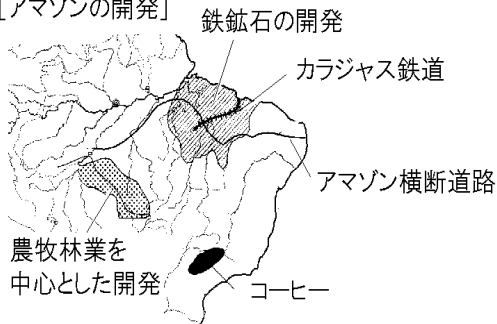
:カラジャス鉄道

鉄鋼業、自動車、航空機など工業が発達

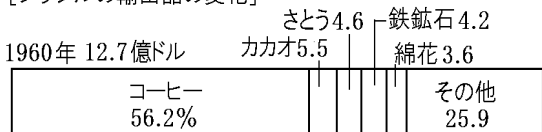
ブラジルはかつて、コーヒーの輸出に頼るモノカルチャー^{けいざい}経済であった。しかし、近年、コーヒーだけにたよらない農業を実現するため、だいずや

さとうきびの生産を増やしている。とくにだいは重要な輸出品になっている。また、アマゾン開発の一環として、カラジャス鉄道を建設して沿線で大量にとれる鉄鉱石^{てっこうせき}を輸送している。鉄鉱石は重要な輸出品になっている。また、外国企業を受け入れて鉄鉱石を使った鉄鋼業^{てっこうぎょう}や、自動車産業、航空機産業を発展させた。さらに、コンピューター関連産業などの先端技術産業も発展している。このような変化は、輸出品の変化にも現れている。かつては、コーヒーが輸出額の半分以上をしめていたが、現在では、鉄鉱石や石油などの鉱産資源、だいや砂糖のほか、機械類や自動車などの工業製品の輸出が増えている。

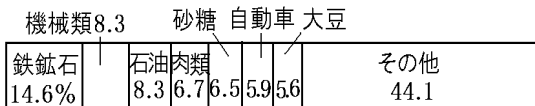
[アマゾンの開発]



[ブラジルの輸出品の変化]

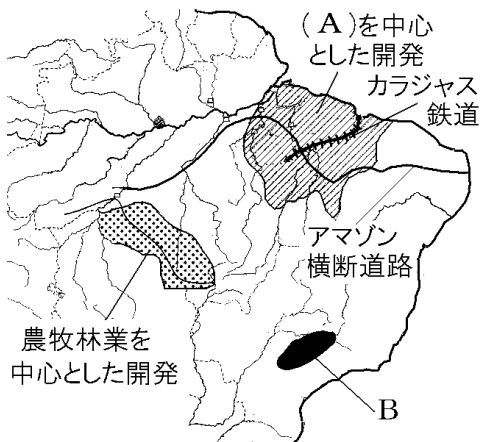


2010年 1974億ドル



[問題](2学期中間)

南アメリカ州における開発について、以下の各問いに答えよ。



(1) 地図中の A にあてはまる語句を、次から 1 つ選べ。

[炭田 鉄鉱山 油田 銅山]

(2) 地図中の B の地域でもっとも栽培がさかんな農作物を、次から 1 つ選べ。

[コーヒー豆 茶 小麦 米]

[解答](1) 鉄鉱山 (2) コーヒー豆

[問題](2 学期中間)

略地図のXはカラジャス鉄道を表している。この鉄道は沿線で大量にとれる「ある鉱産資源」の開発のために建設された。この鉱産資源名を答えよ。



[解答]鉄鉱石

[問題](2 学期中間)

次の文中の①，②にあてはまる語句を[]から1つずつ選べ。また，③にあてはまる語句をアルファベットで答えよ。

ブラジルでは，日本の技術協力で国内でとれる鉱産資源を原料とする(①)業が発達し，自動車や(②)(世界第4位)などの工業製品の生産も伸びている。このように経済発展がめざましい，ブラジル，ロシア，インド，中国，南アフリカ共和国の5か国を(③)とよぶ。

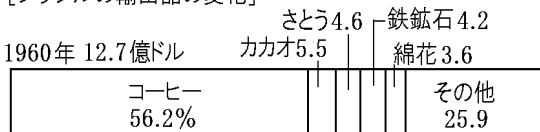
[綿織物 船舶 航空機 鉄鋼]

[解答]① 鉄鋼 ② 航空機 ③ BRICS

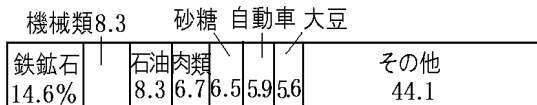
[問題](2 学期中間)

下の資料を見て、ブラジルの産業の変化を「工業化」という語句を使って書け。

[ブラジルの輸出品の変化]



2010年 1974億ドル



[解答]ブラジルでは、工業化が進み、工業製品の輸出が増えた。

[問題](前期期末)

地図中の■, ▲, ★の地下資源名を答えよ。



[解答] ■ : 石油 ▲ : 鉄鉱石 ★ : 銅

[解説]

[鉱産資源]

鉄鉱石: ブラジル

銅: チリ(世界1位)

石油: ベネズエラ, ブラジルなど

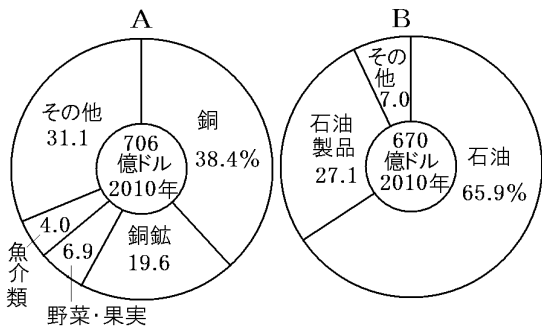
南アメリカは鉱産資源にめぐまれている。鉄鉱石はブラジルで、銅はチリで採掘さいくつされている。石油は、生産量の多い方から、ベネズエラ, ブラジル,



コロンビア、アルゼンチン、エクアドルなどで採掘されている。また、南アメリカは、マンガンやアンチモンなど電子機器に使われる希少金属(レアメタル)も豊富である。

[問題](2 学期期末)

次のグラフは、南アメリカにある国の輸出品を示したものである。



(1) AとBの国名を、次の[]より1つずつ選べ。

[アルゼンチン コロンビア チリ
ベネズエラ]

(2) このような特定の輸出品にたよっている経済を何というか。

[解答](1)A チリ B ベネズエラ

(2) モノカルチャー経済

[問題](2 学期中間)

南アメリカでは、マンガンやアンチモンなど電子機器に使われる金属が豊富である。これらを何というか。

[解答]希少金属(レアメタル)

[問題](2 学期期末)

南アメリカ州やアフリカ州などの大都市で貧しい人々がくらしている、生活環境が悪い地域を何というか、カタカナ3文字で答えよ。

[解答]スラム

[解説]

最近、南アメリカ州では、農村部から都市部への移住者が急増している。これによって都市部では、生活環境の悪化がすすみ、スラムに住む人が増えるという問題が起こっている。

[問題](2 学期中間)

最近、南アメリカ州では、農村部から都市部への移住者が急増している。これによって都市部でおこっている問題を「生活環境」「スラム」という語句を使って、簡単に書け。

[解答]生活環境の悪化がすすみ、スラムに住む人が増えている。

◆社会地理の各ファイルへのリンク

<http://www.fdtype.com/dp/sc2/index.html>

◆FdData 中間期末の特徴(QandA 方式)

http://www.fdtype.com/dp/qanda_k.html

◆製品版(パソコン Word 文書：印刷・編集用) の価格・購入方法

<http://www.fdtype.com/dp/seihin.html>

※ iPhone でリンク先が開かない場合は、
「iBooks」を開いてリンクをタップください。

【Fd 教材開発】 Mail : info2@fdtype.com