

【FdData 中間期末：中学社会地理：アフリカ】
【各国の特徴】

【問題】(2 学期中間)

以前、アパルトヘイト(人種隔離政策)をとり、世界各国から人権侵害と非難を受けていたが、撤廃後、黒人大統領が誕生し、現在では工業化が進んで、アフリカ最大の経済大国になった国は何か。

【解答】南アフリカ共和国

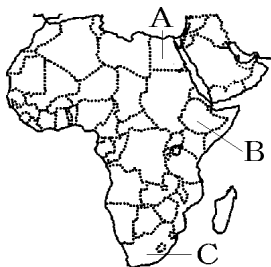
【解説】



南アフリカ共和国は、オランダやイギリスの植民地であったが、1910年に独立した。少数の白人が有色人種を差別するアパルトヘイトという人種隔離政策を行っていたが、1991年に撤廃した。さらに、1994年に初の黒人大統領(マンデラ大統領)が誕生した。

[問題](後期中間)

アフリカのある国では 20 世紀末まで人種隔離政策が行われてきた。



- (1) ①この国の国名を答えよ。②また、その位置を地図の A～C から選べ。
- (2) この人種隔離政策を何とよぶか。カタカナで答えよ。

[解答](1)① 南アフリカ共和国 ② C

(2) アパルトヘイト

[問題](1 学期期末)

次の各問いに答えよ。

- (1) アフリカ大陸南端の南アフリカ共和国で、長い間とられてきた人種隔離政策を何というか。カタカナで答えよ。
- (2) (1)の体制がくずされ、1994 年に大統領となったのは誰か。

[解答](1) アパルトヘイト (2) マンデラ

[問題](2 学期期末)

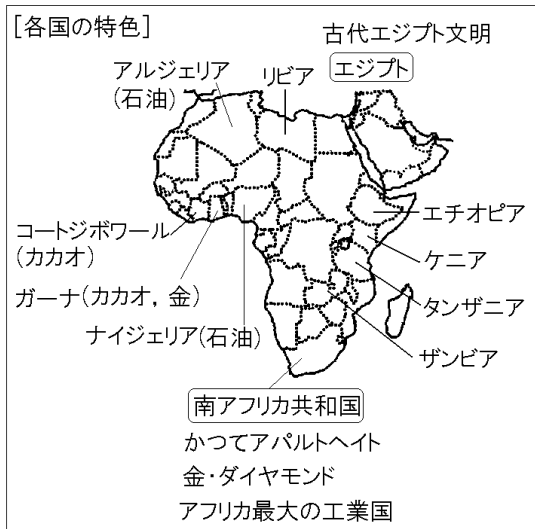
次の各問いに答えよ。



- (1) 地図中の A の国名を答えよ。
- (2) 地図中の A の国の多くの人々が信仰している宗教は何か。
- (3) 地図中の B の国の輸出品の中でチョコレートの原料になる農産物は何か。
- (4) B の国では植民地時代に作られた大規模な農園が広がっている。このような農園を何とよいか、カタカナで答えよ。
- (5) 地図中の C の国名を答えよ。
- (6) C の国で 1990 年代に廃止された人種隔離政策を何とよいか、カタカナで答えよ。

[解答](1) エジプト (2) イスラム教 (3) カカオ
(4) プランテーション (5) 南アフリカ共和国
(6) アパルトヘイト

[解説]



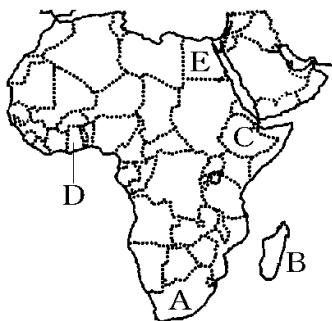
南アフリカ共和国^{きょうわこく}は、かつて、アパルトヘイトという人種隔離政策がとられていた。金やダイヤモンドの産出が多い。アフリカ最大の工業国である。エジプトでは、ナイル川下流域で古代エジプト文明が栄えた。イスラム教徒が多い。ギニア湾に面しており、チョコレートの原料にな

るカカオの生産が多いのは、コートジボワール(世界1位)と、ガーナ(世界3位)である。ガーナは金の輸出量も多い。

ナイジェリアとアルジェリアは石油産出国である。ナイジェリアはギニア湾に面しており、人口はアフリカで最大である。カカオやヤムいもの生産も多い。アルジェリアは地^ち中^{ちゅう}海^{かい}に面しており、沿岸部では地中海式農業がさかんである。

[問題](2学期中間)

次の①, ②の文について, 各問いに答えよ。

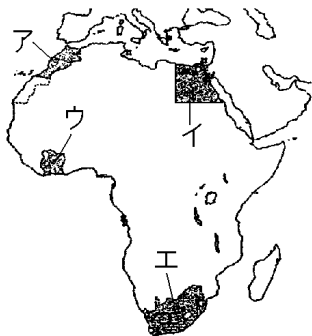


- ① この国は, チョコレートの原料になる(ア)の世界的な生産国である。この国と同じく(イ)湾に面しているコートジボワールも世界有数の(ア)の生産国である。
- ② この国は金やダイヤモンドなどの資源が豊富であったことから, アフリカ州の中で最もはやく, ヨーロッパ諸国の植民地として支配された。独立後も白人政府によって(ウ)とよばれる人種隔離政策が行われてきたが, 1991年に廃止された。
- (1) 上の①, ②の文にあてはまる国を地図のA~Eからそれぞれ選べ。
- (2) 文中のア~ウにあてはまる語句を書け。

[解答](1)① D ② A (2)ア カカオ イ ギニア
ウ アパルトヘイト

[問題](2 学期期末)

次の各問いに答えよ。



(1) 次の①～③にあてはまる国を地図のア～エから1つずつ選べ。また、それぞれの国名を書け。

- ① カカオの生産がさかんで、輸出量も多い国である。
- ② ナイル川下流域に位置し、古代文明が栄えた国である。
- ③ 金やダイヤモンドの産出量が多い国である。

(2) かつて(1)の③の国でおこなわれていた差別政策を何というか。カタカナで答えよ。

[解答](1)① ウ, コートジボワール

② イ, エジプト ③ エ, 南アフリカ共和国

(2) アパルトヘイト

[問題](2 学期中間)

次の①～④の文章は、それぞれ略地図中のア～エのどこかの国について説明している。それぞれの国か、記号を答えよ。また、その国名を下の [] から選んで答えよ。



- ① 金やダイヤモンドがとれる。イギリスの植民地から独立した後も、白人優位の国であり続けるために、厳しい人種差別政策(アパルトヘイト)が行われていた。
- ② 古くからナイル川の水を使った、かんがい農業が行われ、古代文明が栄え、その遺跡が現在も重要な観光資源になっている。

- ③ 石油の産出が多いこの国は、かつては、海をはさんで向かい合うフランスの植民地であった。
- ④ ギニア湾に面するこの国は、周辺の国々と同様カカオの生産がさかんで、世界に輸出されている。

[南アフリカ共和国 エジプト アルジェリア
コートジボワール]

[解答]① ウ, 南アフリカ共和国

② イ, エジプト ③ ア, アルジェリア

④ エ, コートジボワール

[問題](2学期中間)

次の①～⑥にあてはまる国を地図中から1つずつ選べ。



- ① 中央アフリカの産油国で、ヤムいもの生産量が世界有数である。
- ② 首都はナイロビで、茶の生産量が世界有数である。
- ③ 最大の都市はケープタウンである。金やダイヤモンドの産出量が多い。
- ④ 首都はカイロで、なつめやしの生産量が世界有数である。
- ⑤ 北アフリカの産油国で、沿岸部では地中海式農業がさかんである。
- ⑥ 首都はダルエスサラームで、キリマンジャロ山の南側にあたる。

- [解答]① ナイジェリア ② ケニア
③ 南アフリカ共和国 ④ エジプト
⑤ アルジェリア ⑥ タンザニア

[問題](1 学期期末)

2011 年にスーダンから独立してできた国は何か。

[解答]南スーダン

◆社会地理の各ファイルへのリンク

<http://www.fdtype.com/dp/sc2/index.html>

◆FdData 中間期末の特徴(QandA 方式)

http://www.fdtype.com/dp/qanda_k.html

◆製品版(パソコン Word 文書：印刷・編集用)
の価格・購入方法

<http://www.fdtype.com/dp/seihin.html>

※ iPhone でリンク先が開かない場合は、
「iBooks」を開いてリンクをタップください。

【Fd 教材開発】 Mail : info2@fdtype.com