

【FdData 中間期末：中学社会地理：オセアニア】

【農業】

【問題】(2 学期中間)

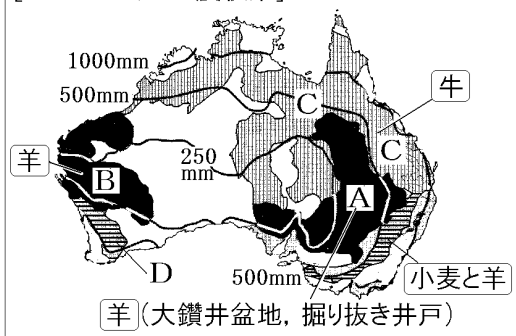
次の図の X の地域で飼育され、その毛が輸出されている家畜は何か。



【解答】羊

【解説】

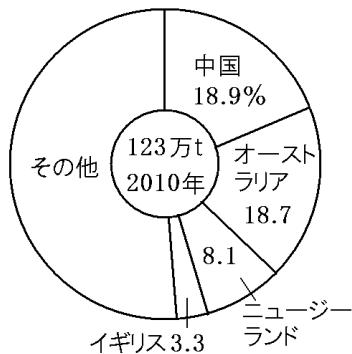
【オーストラリアの農牧業】



オーストラリアでは、小麦の栽培さいばいのほかに、牛(牛肉用)と羊(羊毛用)の飼育がさかんである。AとBの地域では羊が飼育されている。羊は乾燥に強いので、乾燥した地域でも飼育することができる。大鑽井盆地だいさんせいぼんちでは掘り抜き井戸ほぬきいどをつかって水をくみ上げて、羊の飲み水として利用している。やや降水量の多いCの地域では牛の放牧が行われている。また、Dの地域では小麦の栽培と羊の放牧が行われている。

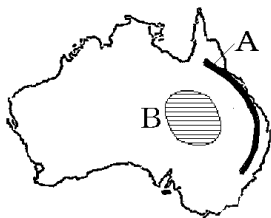
ニュージーランドでも羊の飼育がさかんで、オーストラリアとともに羊毛の生産が多い。

羊毛の国別生産量



[問題](1 学期中間)

次の地図を見て各問いに答えよ。



- (1) 地図中の A の山脈名を答えよ。
- (2) 地図中の B の盆地名を答えよ。
- (3) B の盆地では羊が飼われている。羊の飲み水や牧草のかんがい利用されている井戸を何というか。

[解答](1) グレートディバイディング山脈

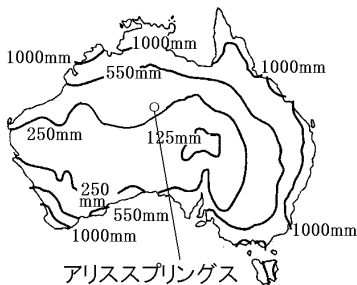
(2) 大鑽井盆地 (3) 掘り抜き井戸

[問題](2 学期期末)

下の写真を参考にして、地図中のアリスプリングス周辺の牧畜の様子を記述した文の空欄①～⑤を埋めるのに適切な語句を[]からそれぞれ選べ。

アリスプリングス周辺は降水量の(①)い(②)地帯である。(③)の水を(④)の飲料水に使った(④)の(⑤)が行われている。

[牛 ラクダ 多 少 熱 帯 乾 燥
掘り抜き井戸 放牧 酪農 湖]



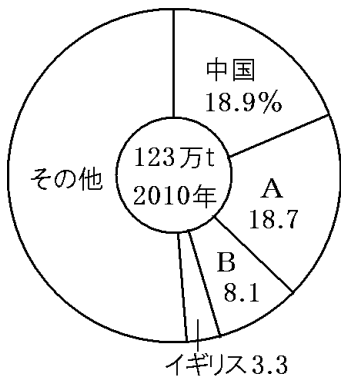
放牧されている牛

- [解答]① 少な ② 乾燥 ③ 掘り抜き井戸
④ 牛 ⑤ 放牧

[問題](2 学期期末)

羊毛の生産量を表す下のグラフ中の A, B にあてはまるオセアニア州の国名をそれぞれ書け。

羊毛の国別生産量

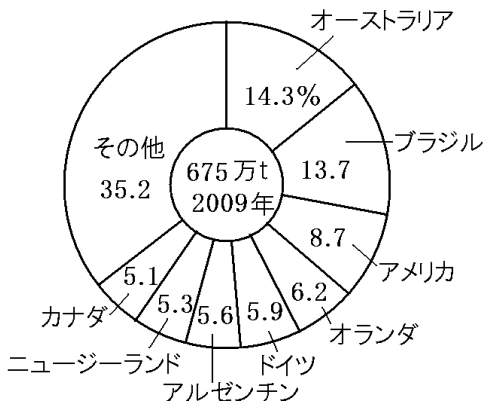


- [解答]A オーストラリア B ニュージーランド

[問題](2学期中間)

次のグラフは、ある農産物のおもな輸出国をあらわしている。あてはまるものを次の[]から選べ。

[米 大豆 牛肉 花]



[解答]牛肉

◆社会地理の各ファイルへのリンク

<http://www.fdtype.com/dp/sc2/index.html>

◆FdData 中間期末の特徴(QandA 方式)

http://www.fdtype.com/dp/qanda_k.html

◆製品版(パソコン Word 文書：印刷・編集用)
の価格・購入方法

<http://www.fdtype.com/dp/seihin.html>

※ iPhone でリンク先が開かない場合は、
「iBooks」を開いてリンクをタップください。

【Fd 教材開発】 Mail : info2@fdtype.com