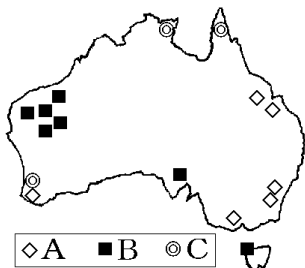


【FdData 中間期末：中学社会地理：オセアニア】
【鉱業・貿易】

【問題】(2 学期期末)

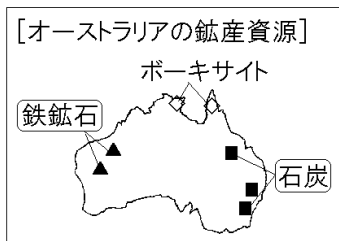
次はオーストラリアの鉱産資源の産地を示した地図である。各問いに答えよ。



- (1) A と B にあてはまる鉱産資源を次の[]からそれぞれ選べ。
[金 ダイヤモンド 鉄鉱石 石炭 石油 天然ガス]
- (2) 地図中の C はアルミニウムの原料となる鉱産資源である。C の鉱産資源の名前を書け。

【解答】(1)A 石炭 B 鉄鉱石 (2) ボーキサイト

[解説]

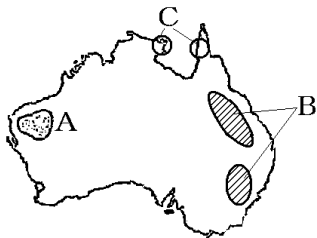


オーストラリアは豊富な地下資源に恵まれている。石炭は東部にあるグレートディバイディング山脈の東側で多く産出する。鉄鉱石は西部で多く産出する。アルミニウムの原料となるボーキサイトは北部で産出する。鉄鉱石と石炭は産出量、輸出量ともに世界有数で、日本への輸出が多い。その他に、石油、天然ガス、金、銅なども産出する

オーストラリア→日本への輸出(2011年)：石炭(33%)，鉄鉱石(22%)，液化天然ガス

[問題](1 学期中間)

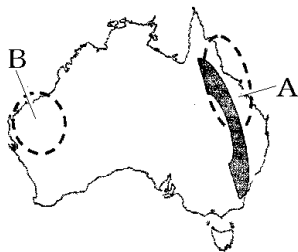
地図中のA, B, Cの地域で産出されるおもな鉱産資源をそれぞれ答えよ。



[解答]A 鉄鉱石 B 石炭 C ボーキサイト

[問題](2 学期中間)

次の略地図中のA, Bの地域は、それぞれ、ある鉱産資源の産地であり、その資源は日本に輸出されている。A, B それぞれから日本に輸出されている鉱産資源名を答えよ。

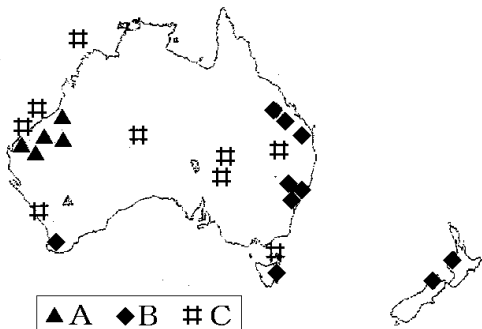


[解答]A 石炭 B 鉄鉱石

[問題](2 学期期末)

A～C にあてはまる鉱産資源を、次から 1 つずつ選べ。

[金 鉄鉱石 石炭 石油]



[解答]A 鉄鉱石 B 石炭 C 石油

[問題](1 学期中間)

オーストラリアから日本へ輸出されている代表的な鉱産資源を 2 つ書け。

[解答]鉄鉱石, 石炭

[問題](1 学期中間)

オーストラリアに関して述べた次の文の①, ②にあてはまる国名をそれぞれ答えよ。

1960年代の中ごろまで、オーストラリアの最大の輸出相手国は、かつてこの国を植民地としていた(①)であった。近年は日本が最大の輸出相手国であったが、現在では、(②)が最大の輸出相手国となっている。

[解答]① イギリス ② 中国

[解説]

[オーストラリアの輸出相手国]

かつて:イギリスが1位

現在:1位中国, 2位日本

オーストラリアはかつてイギリスの植民地であったため、1960年代の中ごろまでは、イギリスが最大の輸出相手国であった。近年は日本が最大の輸出相手国であったが、現在では、中国が最大の輸出相手国となっている

オーストラリアの輸出相手国(2010年):1位 中国(25%), 2位 日本(19%), 3位 韓国(9%), 4位 インド(7%), 5位 アメリカ(4%)

[問題](2 学期期末)

オーストラリアの貿易相手国を表す次の表の①, ②にあてはまる国を次から1つずつ選べ。

[日本 ドイツ 韓国 イギリス]

| 順位 | 1960 年 | 2010 年 |
|-----|--------|--------|
| 1 位 | ① | 中国 |
| 2 位 | アメリカ | ② |
| 3 位 | ② | 韓国 |

[解答]① イギリス ② 日本

[問題](2 学期中間)

現在, オーストラリアにとって, 輸出額の大きい上位 2 国の国名を書け。

[解答]中国, 日本

◆社会地理の各ファイルへのリンク

<http://www.fdtype.com/dp/sc2/index.html>

◆FdData 中間期末の特徴(QandA 方式)

http://www.fdtype.com/dp/qanda_k.html

◆製品版(パソコン Word 文書：印刷・編集用)
の価格・購入方法

<http://www.fdtype.com/dp/seihin.html>

※ iPhone でリンク先が開かない場合は、
「iBooks」を開いてリンクをタップください。

【Fd 教材開発】 Mail : info2@fdtype.com