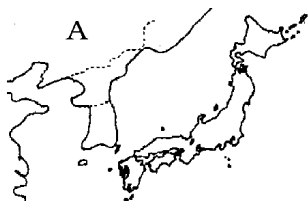


【FdData 中間期末：中学社会地理：日本の位置】

[周囲の大陸・海・国]

[問題](1 学期中間)

日本は、A の大陸の東に位置する。A の大陸名を書け。



[解答]ユーラシア大陸

[解説]

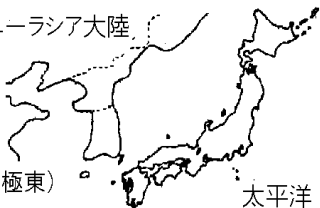
[日本の位置] ユーラシア大陸

・ユーラシア大陸の東

・太平洋の北西

・東アジアの一部

(ヨーロッパから見ると極東)



[問題](後期中間)

次の各項目は、日本の位置をさまざまな方法で表現したものである。()にあてはまる方位を入れよ。

- (1) ユーラシア大陸の()
- (2) 太平洋の()

[解答](1) 東 (2) 北西

[問題](1 学期期末)

日本の位置を説明せよ。ただし、次の[]の語句を必ず使うこと。

[ユーラシア大陸 太平洋]

[解答]日本は、ユーラシア大陸の東にあり、太平洋の北西部に位置する。

[問題](1 学期期末)

以下の文中にあてはまる言葉を下の[]から選べ。

日本はユーラシア大陸の(①)のはしにあり、太平洋の(②)にある。フィリピンから見るとおおよそ(③)の方向にある。

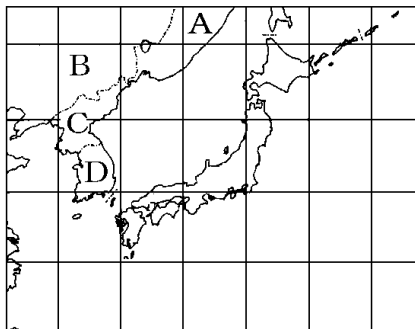
(語群)

[東 西 南 北 北東 北西]

[解答]① 東 ② 北西 ③ 北東

[問題](2学期中間)

次の地図中のA～Dにあてはまる国名を書け。



[解答]A ロシア連邦 B 中国(中華人民共和国)
C 北朝鮮(朝鮮民主主義人民共和国) D 韓国(大韓民国)

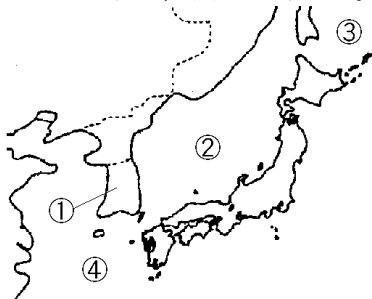
[解説]

日本のまわりで、
海の上で日本と国
境を接しているの
は、ロシア連邦、
北朝鮮(朝鮮民主
主義人民共和国)、
韓国(大韓民国)、中国(中華人民共和
国)である。



[問題](1 学期期末)

次の地図を見て、各問いに答えよ。



- (1) 地図中①の国は、歴史的にも、距離的にも、日本にとって一番身近な国である。この国の正式名称を、漢字で書け。
- (2) 地図中②～④は、日本をとりまく海を示している。それぞれの海の名を書け。

[解答](1) 大韓民国 (2)② 日本海

③ オホーツク海 ④ 東シナ海

[解説]



◆社会地理の各ファイルへのリンク

<http://www.fdtype.com/dp/sc3/index.html>

◆FdData 中間期末の特徴(QandA 方式)

http://www.fdtype.com/dp/qanda_k.html

◆製品版(パソコン Word 文書：印刷・編集用)
の価格・購入方法

<http://www.fdtype.com/dp/seihin.html>

※ iPhone でリンク先が開かない場合は、
「iBooks」を開いてリンクをタップください。

【Fd 教材開発】 Mail : info2@fdtype.com