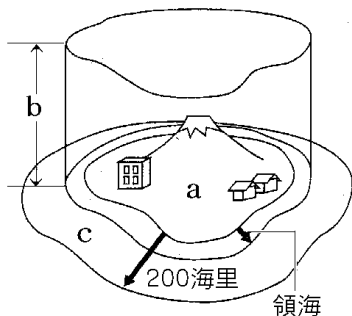


【FdData 中間期末：中学社会地理：日本の領域】  
【領土・領空・領海・経済水域】

【問題】(1 学期期末)

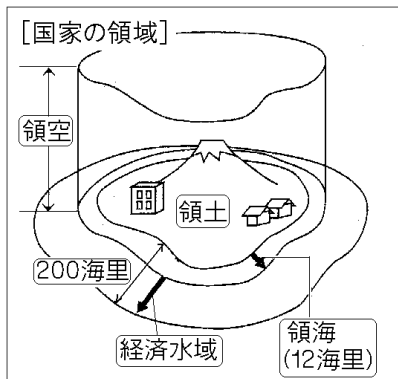
次の図は、領域について示したものである。各問いに答えよ。



- (1) 図中の a, b にあてはまる語句を漢字で書け。
- (2) 国連海洋法条約では、領海の幅は、海岸から何海里となっているか。
- (3) 自国の沿岸の水産資源や鉱産資源を守るために、他国を排除して利用できる c の水域を何というか。

【解答】(1) a 領土 b 領空 (2) 12 海里  
(3) 経済水域(排他的経済水域)

## [解説]

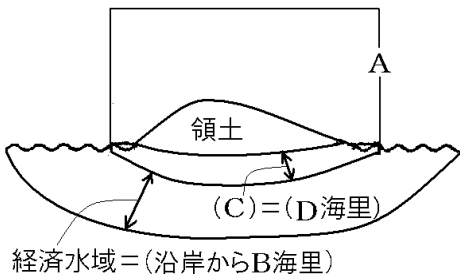


国家の領域は、領土・領海(海岸線から 12海里(約 22km)) (1 海里は 1852m)・領空(領土と領海の上空)である。大気のあるあたりまでが領空とされており、それ以上の高さは宇宙空間とされ、領有も軍事利用もできないことになっている。

領海の外側の、沿岸から 200海里(約 370km)以内の水域は経済水域(排他的経済水域)である。世界の国々は、経済水域で得られる水産資源や鉱産資源を沿岸国のものとするをたがいに認め合っている。日本は離島が多く、細長い島国なので経済水域は国土の約 10 倍と広い。

[問題](1学期中間)

図のA～Dにあてはまるものを答えよ。



[解答]A 領空 B 200 C 領海 D 12

[問題](2 学期期末)

図 I・II を見て、次の各問いに答えよ。

図 I

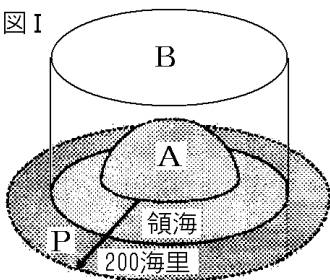
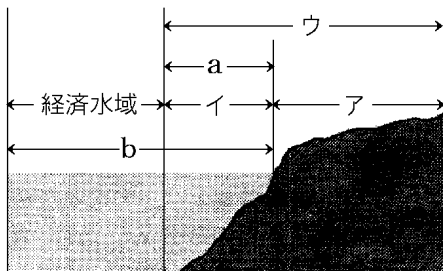


図 II 国家の領域



- (1) 図 I の A の部分は図 II ではア・イ・ウのどれか。また、この部分を何というか。
- (2) 図 I の B の部分は図 II ではア・イ・ウのどれか。また、この部分を何というか。
- (3) 領海は日本を含む多くの国で海岸から何海里としているか。
- (4) 図 II の b の距離を答えよ。

[解答](1) ア, 領土 (2) ウ, 領空 (3) 12 海里  
(4) 200 海里

[問題](1 学期期末)

次の文の( )にあてはまる語句を, 下の[ ]  
からそれぞれ選べ。

領海の外まで広がる経済水域は, 沿岸の国が  
( ① )や海底の( ② )を利用する権利をもつ  
範囲である。日本の経済水域は領土の約( ③ )  
倍以上もあり, アメリカ合衆国の( ④ )倍にく  
らべて, 比率が大きい。領空は領土と領海の上空  
で, ( ⑤ )の発達でその重要性を増している。

[ 10 0.8 鉱産資源 水産資源 航空機  
船舶 領海 ]

[解答]① 水産資源 ② 鉱産資源 ③ 10 ④ 0.8  
⑤ 航空機

◆社会地理の各ファイルへのリンク

<http://www.fdtype.com/dp/sc3/index.html>

◆FdData 中間期末の特徴(QandA 方式)

[http://www.fdtype.com/dp/qanda\\_k.html](http://www.fdtype.com/dp/qanda_k.html)

◆製品版(パソコン Word 文書：印刷・編集用)  
の価格・購入方法

<http://www.fdtype.com/dp/seihin.html>

※ iPhone でリンク先が開かない場合は、  
「iBooks」を開いてリンクをタップください。

【Fd 教材開発】 Mail : [info2@fdtype.com](mailto:info2@fdtype.com)