


## 【FdData 中間期末：中学社会地理】

[日本の領域]

### [問題](1 学期期末)

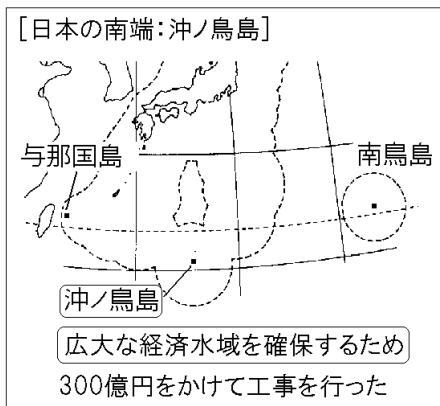
日本は、水没しそうになった最南端にある図の小さな島に 300 億円という莫大なお金をかけて、水没を防ぐための工事を行った。次の各問いに答えよ。



- (1) この島の名前を下の[ ]から選べ。  
[ 与那国島 南鳥島 沖ノ鳥島 択捉島 ]
- (2) この島を巨額の資金を投じて守っているのは、どのような理由からか、簡単に説明せよ。

[解答](1) 沖ノ鳥島 (2) この島の周りの 200 海里の経済水域(排他的経済水域)を確保するため。

## [解説]



日本は離島りとうが多く、細長い国なので、経済水域が非常に広く、国土面積の10倍以上もある。日本の南端おきのとりしまの沖ノ鳥島(東京都)は、満潮のときは2つの岩が海面上に1mほど出るだけであった。日本は、1989年に約300億円の費用をかけて水没を防ぐための工事を行った。これは、この島の周りの200海里の経済水域(排他的経済水域)を確保するためであった。(この島がなくなってしまうと約40万km<sup>2</sup>という日本の国土面積を上回る経済水域を失うことになる。)

[問題](1学期中間)

日本は、最南端の島の水没を防ぐために護岸工事をおこなったが、その理由を、「200」という数字を使って書け。

[解答]この島の周りの 200 海里の経済水域(排他的経済水域)を確保するため。

[問題](1 学期中間)

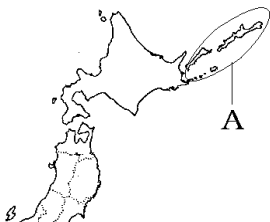
日本の最( ① )端は沖ノ鳥島だが、今にも沈みそうなので300億円をかけて工事をして沈まないようにしている。沖ノ鳥島は( ② )(都道府県名)に属する。

[解答]① 南 ② 東京都

[北方領土など]

[問題](1 学期中間)

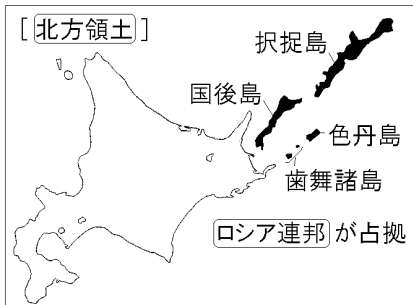
A の島々は、日本固有の領土である。次の各問いに答えよ。



- (1) この島々を何とよめるか。
- (2) A を占拠している国に対して、日本は返還を要求している。A を占拠している国はどこか。

[解答](1) 北方領土 (2) ロシア連邦

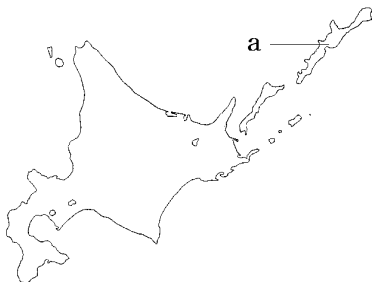
[解説]



太平洋戦争末期の1945年8月15日に日本は無条件降伏こうふくを行ったが、そのわずか1週間前の8月8日、ソ連はまだ有効期限内であった日ソ中立条約を一方的に破棄はきし、日本に宣戦布告せんせんぷこくして千島列島ちしまれつとうを占拠せんきよした。日本は、北方領土(歯舞群島ほっぽうりょうど、色丹島はぼまいぐんとう、国後島くなしり、択捉島えとろふ)の4島)は日本固有の領土であるとして、ロシア連邦れんぽうに対し返還へんかんを要求している。

[問題](1 学期期末)

次の文の①、②に適語を入れよ。



現在、領土をめぐるっては、地図中 a の択捉島をはじめとする( ① )領土について、( ② )と協議を重ねているが、解決には困難な問題が山積している。一日も早く(②)と平和条約を結ぶのが、日本の大きな外交課題である。

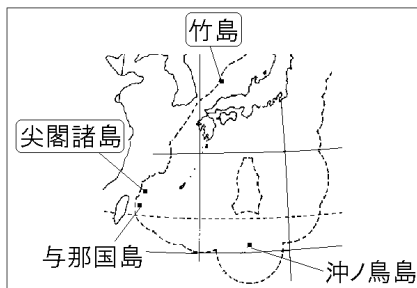
[解答]① 北方 ② ロシア連邦

[問題](1 学期期末)

日本固有の領土であるが、現在、韓国が占拠している島根県に属する島の名を書け。

[解答]竹島

[解説]



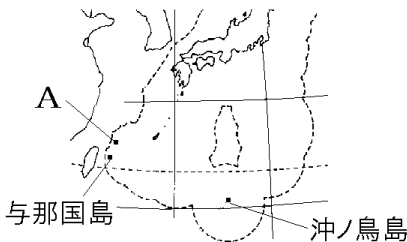
竹島は島根県<sup>おき</sup>隠岐諸島の北西約 160 キロにあり、総面積は東京の日比谷公園とほぼ同じ約 23 ヘクタールである。海面にそびえたつ火山島で、植生や飲料水は乏しい。1905 年、明治政府は竹島を島根県に編入し国際法的にも日本の領土になった。しかし日本の敗戦後、GHQは竹島を沖縄や小笠原諸島と同様に、日本の行政権から外した。これを

口実に 1952 年に韓国は竹島(韓国側は「独島」とよんでいる)の領有権を主張し、海岸警備隊による不法占拠せんきょを現在も続けている。竹島の領有権問題をめぐって日本と韓国の対立が続いている。

また、尖閣諸島せんかくしょとうは日本の領土であるにもかかわらず、近年、中国が領有権を主張して島の領海内に巡視船による不法侵入をくり返している

### [問題](補充問題)

日本の固有の領土であるにもかかわらず、近年、中国が領有権を主張して島の領海内に巡視船による不法侵入をくり返している次の地図中のAの諸島は何か。

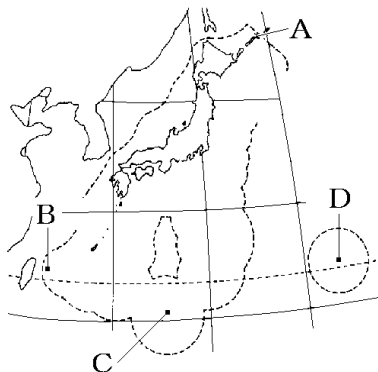


[解答]尖閣諸島

[日本の領域の東端・西端・南端・北端]

[問題](2 学期期末)

次の地図を見て、各問いに答えよ。

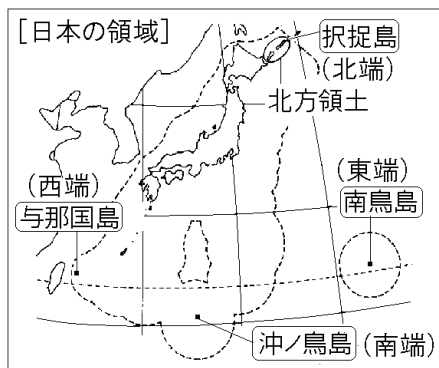


- (1) 日本の東西南北のはしに位置する A~D の島の名を書け。
- (2) 地図中の A をふくむ地域は日本固有の領土であるが、現在はロシア連邦が占拠している。この地域を何とよんでいるか。

[解答](1)A 択捉島 B 与那国島 C 沖ノ鳥島  
D 南鳥島 (2) 北方領土



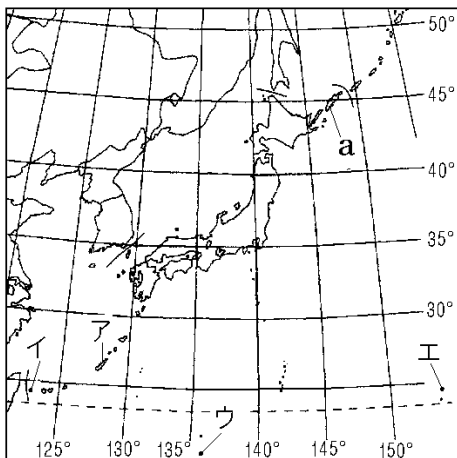
## [解説]



日本の南端は<sup>おきのとりしま</sup>沖ノ鳥島(東京都), 東端は<sup>みなみとりしま</sup>南鳥島(東京都), 西端は<sup>よなぐにしま</sup>与那国島(沖縄県)である。北端は<sup>えとろふ</sup>択捉島(北海道)であるが, この島を含む<sup>ほっほうりょうど</sup>北方領土はロシア連邦が<sup>せんきよ</sup>占拠したままになっている。図の点線かこまれた部分は, 日本の経済水域(排他的経済水域)を表している。

[問題](2 学期期末)

次の図を見て、各問いに答えよ。

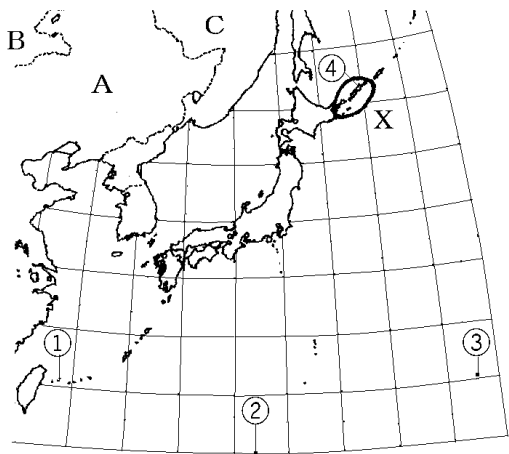


- (1) 日本の①最西端, ②最南端, ③最東端を図中のア～エの中から選べ。
- (2) 日本の最北端はaの島であるが、この島を含む地域を特に何とよんでいるか。
- (3) (2)の地域を日本は日本の固有の領土としているが、実際はどこの国が領土のように占拠しているか。

[解答](1)① イ ② ウ ③ エ (2) 北方領土  
(3) ロシア連邦

[問題](1 学期期末)

次の地図を見て、各問いに答えよ。



- (1) 日本の東西南北のはしの島①～④の名称を書け。
- (2) ④を含むXの島々を何とつか。
- (3) Xについて日本はどの国に返還を要求しているか、その国名を書き、記号も地図中のA～Cから選べ。
- (4) 300億円かけて護岸工事をしたのは①～④のどれか。
- (5) (4)の護岸工事をしたのはなぜか。

[解答](1)① 与那国島 ② 沖ノ鳥島 ③ 南鳥島  
④ 択捉島 (2) 北方領土 (3) ロシア連邦, C  
(4) ② (5) この島の周りの 200 海里の経済水域  
(排他的経済水域)を確保するため。

[問題](1 学期中間)

日本の① 最西端, ② 最南端, ③ 最東端の島を  
それぞれ次の[ ]から選べ。

[ 沖ノ鳥島 与那国島 南鳥島 ]

[解答]① 与那国島 ② 沖ノ鳥島 ③ 南鳥島

◆社会地理の各ファイルへのリンク

<http://www.fdtype.com/dp/sc3/index.html>

◆FdData 中間期末の特徴(QandA 方式)

[http://www.fdtype.com/dp/qanda\\_k.html](http://www.fdtype.com/dp/qanda_k.html)

◆製品版(パソコン Word 文書：印刷・編集用)  
の価格・購入方法

<http://www.fdtype.com/dp/seihin.html>

※ iPhone でリンク先が開かない場合は、  
「iBooks」を開いてリンクをタップください。

【Fd 教材開発】 Mail : [info2@fdtype.com](mailto:info2@fdtype.com)