

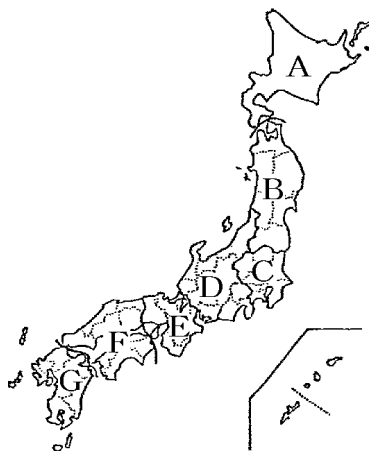
【FdData 中間期末：中学社会地理：地域区分】

[7 地方区分]

[問題](2 学期中間)

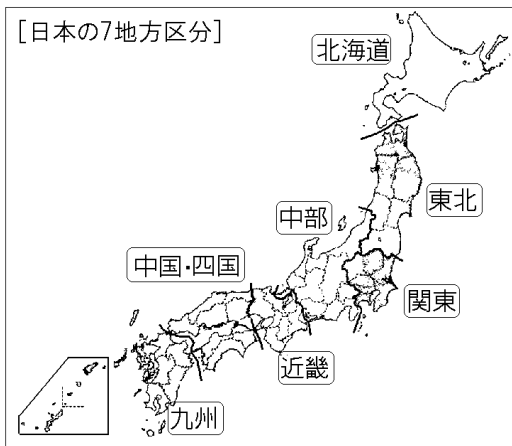
日本を7つの地方に分けた地図中のA～Gにあてはまる地方名を，次から選んで書け。

[近畿地方 九州地方 中部地方 東北地方
関東地方 北海道地方 中国・四国地方]



[解答]A 北海道地方 B 東北地方 C 関東地方
D 中部地方 E 近畿地方 F 中国・四国地方
G 九州地方

[解説]



[問題](1 学期期末)

次の文の()に適する語句を入れよ。

日本には現在、47の都道府県がある。これらの都道府県を分ける場合、7地方区分が使われるが、それを北から順にしめすと、(①), 東北, (②), 中部, (③), (④), 九州の7地方となる。

[解答]① 北海道 ② 関東 ③ 近畿
④ 中国・四国

[問題](前期期末)

地図中の②は、日本の3つの地方区分で「中央部」といわれる部分である。この地域には、7つの地方区分でわけた3つの地方がある。3つの地方を答えよ。



[解答]近畿地方, 中部地方, 関東地方

[問題](1 学期期末)

次の図で、東北地方、関東地方、中部地方の 3 地方を区分する境界線を引け。



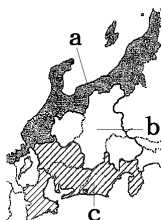
[解答]



[その他の区分]

[問題](1 学期期末)

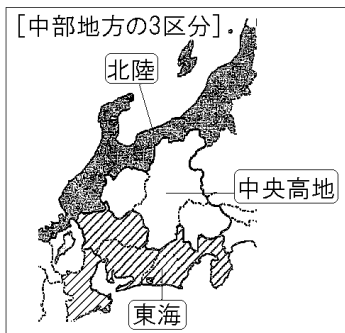
日本の中央部にあたる中部地方をさらに区分すると，地図中 a～c のように 3 つに区分できる。それぞれの区分名を，漢字で書け。



[解答]a 北陸(地方) b 中央高地(地方)

c 東海(地方)

[解説]



中部地方は、東海、中央高地、北陸に分けられる。

東海には愛知県・静岡県・岐阜県南部・三重県、

中央高地には長野県・山梨県・岐阜県北部、北陸

には新潟県・富山県・石川県・福井県がそれぞれ含まれる。三重県は近畿地方に属するが、中部地方との結びつきが強く、「東海・中央高地・北陸」という分類では、東海に属する。

[問題](2 学期中間)

中部地方のうち、①日本海側、②太平洋側の地方の呼び名を、次からそれぞれ選んで書け。

[東海 中央高地 北陸]

[解答]① 北陸 ② 東海

[問題](1 学期期末)

中国地方を2つに分けたとき、瀬戸内海側の地方を何というか。

[解答]山陽

[解説]

中国地方は、山陽と山陰に分けられる。

[問題](2 学期中間)

フォッサマグナの線を境に日本を大きく 2 つに分けた場合、秋田県を含む地域を何とよぶか。

[解答]東日本

◆社会地理の各ファイルへのリンク

<http://www.fdtype.com/dp/sc3/index.html>

◆FdData 中間期末の特徴(QandA 方式)

http://www.fdtype.com/dp/qanda_k.html

◆製品版(パソコン Word 文書 : 印刷・編集用) の価格・購入方法

<http://www.fdtype.com/dp/seihin.html>

※ iPhone でリンク先が開かない場合は、
「iBooks」を開いてリンクをタップください。

[Fd 教材開発] Mail : info2@fdtype.com