

【FdData 中間期末：中学社会地理：日本の地形】  
[変化に富んだ海岸]

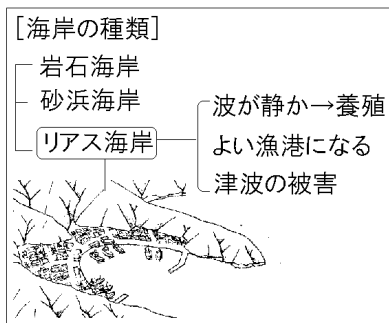
[問題](2 学期期末)

次の各問いに答えよ。

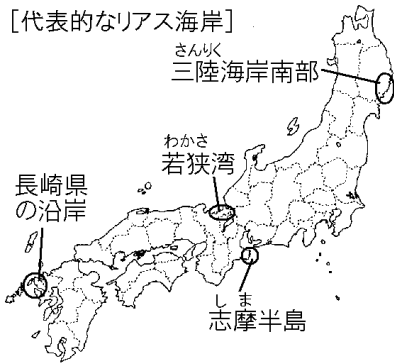
- (1) 岩場ががけのように切り立った海岸を何と  
いうか。
- (2) 出入りの少ない、砂の多い海岸を何と  
いうか。
- (3) 三陸海岸の南半分などに見られる出入りの  
多い海岸を何と  
いうか。

[解答](1) 岩石海岸 (2) 砂浜海岸  
(3) リアス海岸

[解説]



[代表的なリアス海岸]



日本の海岸は変化に富んでいる。海岸には、岩場  
ががけのように切り立った岩石海岸と、一面砂に  
おおわれた砂浜海岸がある。砂浜海岸には、鳥取  
砂丘や新潟砂丘のように砂丘が発達しているところ  
もある。

三陸海岸や志摩半島には、海岸線が複雑なリアス  
海岸が見られる。リアス海岸は、もともと山地の  
谷であった部分に海水が入りこんでできた海岸線  
である。湾の水深が深いので船が入りやすく、港  
(漁港など)が発達しやすい。湾内は波が静かなの  
で、魚の養殖場として利用されることもある。

しかし、津波が押し寄せてきた場合、入り江がせ  
まくなるにつれて波の高さが高くなるので被害が

大きくなる。2011年3月11日、国内の観測史上最大のマグニチュード9.0の東日本大震災があり、三陸海岸など東北地方の太平洋岸を大津波がおそい、<sup>かいめつてき</sup>壊滅的な被害をもたらした。

### 【問題】(前期期末)

次の文の①～③に適語を入れよ。

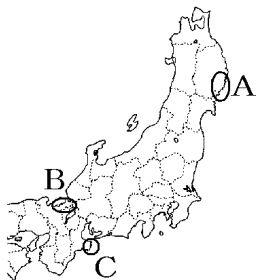
日本の海岸は変化に富んでいる。海岸には、岩場ががけのように切り立った( ① )海岸と、一面砂におおわれた( ② )海岸がある。(②)海岸には鳥取砂丘や新潟砂丘のように砂丘が発達しているところもある。三陸海岸や志摩半島には、海岸線が複雑な( ③ )海岸が見られる。

【解答】① 岩石 ② 砂浜 ③ リアス

[問題](1 学期期末)

次の略地図中の A, B, C の地域に共通して見られる地形を, 次の[ ]から1つ選べ。

[ 砂浜海岸 リアス海岸 岩石海岸 ]



[解答]リアス海岸

[問題](3 学期)

次の文の①, ②に適語を入れよ。

リアス海岸では湾の水深が深いので船が入りやすく入り江の奥は天然の( ① )になる。また, 湾内は波が静かなので, 魚の養殖場として利用されることもある。しかし, 地震のときには( ② )の被害を受けやすい。

[解答]① 漁港 ② 津波

【問題】(2 学期中間)

岩手県の三陸海岸や三重県の志摩半島のリアス海岸では養殖がさかんである。その理由を「波」「湾」の語句を用いて簡潔に説明せよ。

【解答】リアス海岸の湾内は波が静かだから。

【問題】(2 学期期末)

琉球諸島や小笠原諸島には多くの生物が生息している( )の海岸がみられる。( )にあてはまる語句を答えよ。

【解答】さんごしょう(サンゴ礁, さんご礁)

◆社会地理の各ファイルへのリンク

<http://www.fdtype.com/dp/sc3/index.html>

◆FdData 中間期末の特徴(QandA 方式)

[http://www.fdtype.com/dp/qanda\\_k.html](http://www.fdtype.com/dp/qanda_k.html)

◆製品版(パソコン Word 文書：印刷・編集用)  
の価格・購入方法

<http://www.fdtype.com/dp/seihin.html>

※ iPhone でリンク先が開かない場合は、  
「iBooks」を開いてリンクをタップください。

【Fd 教材開発】 Mail : [info2@fdtype.com](mailto:info2@fdtype.com)