

# 【FdData 中間期末：中学社会地理：日本の地形】

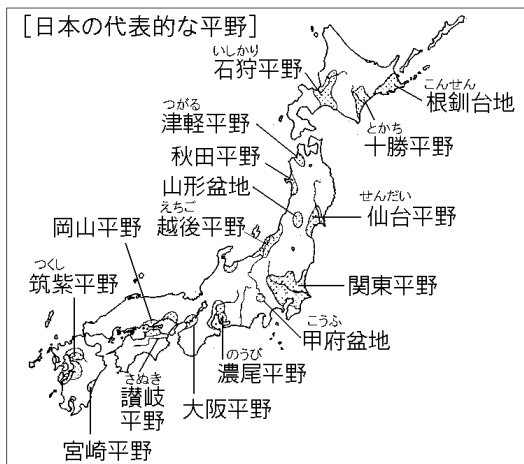
## 【日本の平野】

### 【問題】(前期期末)

日本で一番面積が広い平野は何か。

### 【解答】関東平野

### 【解説】



こんせん 根釧台地：酪農がさかんな台地。

とにかち 十勝平野：北海道で畑作の中心。

いしかり 石狩平野：札幌がある平野で稲作。

いしかり 津軽平野：りんごの栽培がさかん。

秋田平野：江戸時代からの米どころ。

仙台平野：東北一広い平野。

えちご 越後平野：しなのがわりゅういき 信濃川流域の平野，こくそう 穀倉地帯。

関東平野：日本でもっとも大きい平野。

のうび 濃尾平野：中部地方最大，下流にわじゅう 輪中。

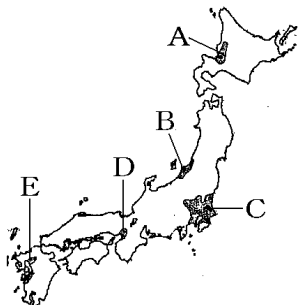
つくし 筑紫平野：ちくごがわ 筑後川下流にできた九州最大の平野。

九州の米どころ。

### [問題](1 学期中間)

次の河川が流れる平野を地図中の A～E から選び、記号と平野名を書け。

- ① 日本最長の信濃川
- ② 日本一の流域面積をもつ利根川

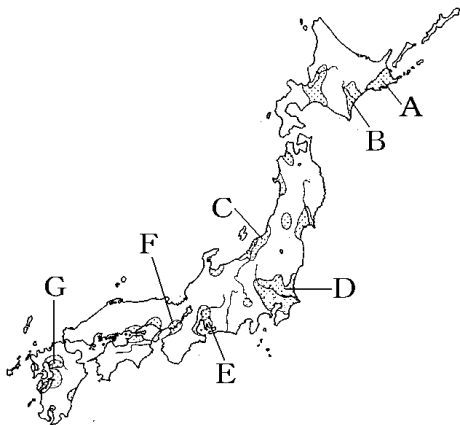


[解答]① B, 越後平野 ② C, 関東平野

[問題](2 学期期末)

A~G の平野・台地の名前を次から選べ。

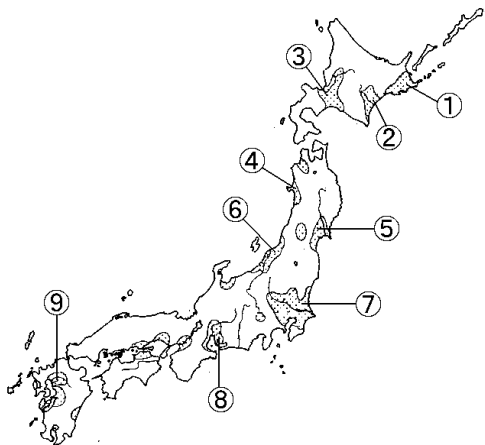
[ 筑紫平野 越後平野 根釧台地 関東平野  
十勝平野 濃尾平野 仙台平野 富山平野  
大阪平野 ]



[解答]A 根釧台地 B 十勝平野 C 越後平野  
D 関東平野 E 濃尾平野 F 大阪平野  
G 筑紫平野

[問題](3学期)

次の①～⑨の平野・台地の名前を書け。



- ① 酪農がさかんな台地。
- ② 大規模な畑作が行われている。
- ③ 北海道の中心都市である札幌がある平野。
- ④ 江戸時代からの米どころ。
- ⑤ 東北一広い平野。
- ⑥ 信濃川流域の平野。日本の穀倉地帯。
- ⑦ 日本一広い平野。
- ⑧ 下流に輪中が見られる平野。
- ⑨ 筑後川下流にできた平野。九州の米どころ。

- [解答]① 根釧台地 ② 十勝平野 ③ 石狩平野  
④ 秋田平野 ⑤ 仙台平野 ⑥ 越後平野  
⑦ 関東平野 ⑧ 濃尾平野 ⑨ 筑紫平野

[問題](3 学期)

次の①～⑤の平野名を、下の[ ]からそれぞれ選べ。

- ① 日本でもっとも大きい平野。  
② 中部地方でもっとも大きい平野。  
③ 稲作がさかんな九州最大の平野。  
④ りんごの栽培がさかんな平野。  
⑤ 北海道で畑作の中心となっている平野。

[ 十勝平野 濃尾平野 越後平野 関東平野  
筑紫平野 宮崎平野 石狩平野 讃岐平野  
岡山平野 高知平野 仙台平野 津軽平野  
大阪平野 富山平野 ]

- [解答]① 関東平野 ② 濃尾平野 ③ 筑紫平野  
④ 津軽平野 ⑤ 十勝平野

◆社会地理の各ファイルへのリンク

<http://www.fdtype.com/dp/sc3/index.html>

◆FdData 中間期末の特徴(QandA 方式)

[http://www.fdtype.com/dp/qanda\\_k.html](http://www.fdtype.com/dp/qanda_k.html)

◆製品版(パソコン Word 文書：印刷・編集用)  
の価格・購入方法

<http://www.fdtype.com/dp/seihin.html>

※ iPhone でリンク先が開かない場合は、  
「iBooks」を開いてリンクをタップください。

【Fd 教材開発】 Mail : [info2@fdtype.com](mailto:info2@fdtype.com)