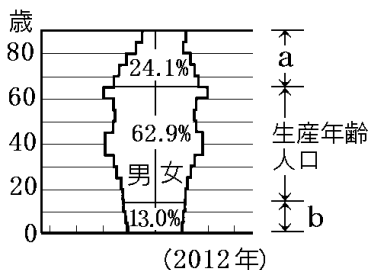


【FdData 中間期末：中学社会地理：日本の人口】
【少子高齢化】

[問題](2 学期中間)

次の図は現在の日本の人口ピラミッドである。
各問いに答えよ。



- (1) グラフ中の a で示した範囲の人口比が高くなる現象を何というか。
- (2) グラフ中の b で示した範囲の人口比が低くなる現象を何というか。

[解答](1) 高齢化 (2) 少子化

[解説]

[少子高齢化]

老年人口(65歳～):増加→高齡化

生産年齢人口(15～64歳)

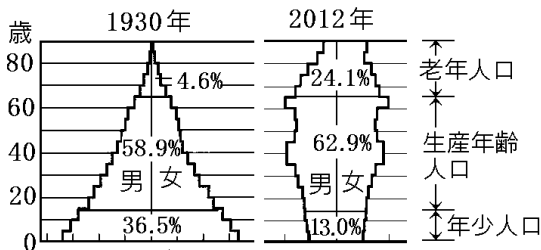
年少人口(～14歳):減少→少子化

↑
出生率の大幅低下

老年人口の割合が 7% を超えると、人口の^{こうれいか}高齡化が進んでいる社会といわれる。日本では、1970年ごろに老年人口が7%をこえ、現在(2012年)の老年人口は24.1%になっている。今後はもっと高齡化が進むと予想されている。日本は他の^{おうべい}欧米諸国と比較して、高齡化の進行速度が非常に速い。また、出生率は年々低下し、いわゆる^{しょうしか}少子化も進んでいる。

[問題](2 学期中間)

次のグラフは日本の人口ピラミッドである。これについて、下の文章の①～③にあてはまる語句を答えよ。ただし、①、②はグラフ中の語句で答えよ。



1930年に比べて2012年は、(①)人口の割合が大きく増え、(②)人口の割合が大きく減っている。このことは、(③)化と少子化が進んでいることを示している。

[解答]① 老年 ② 年少 ③ 高齢

[問題](1 学期期末)

日本の人口について、次の各問いに答えよ。

	A	B	C
1950年	35.4%	59.7	4.9
1970	23.9	69.0	7.1
1990	18.2	69.7	12.1
2012	13.0	62.9	24.1

- (1) 上のグラフは、日本の年齢別人口の割合の変化を示したものである。グラフのA～Cのうち、0～14歳の人口はどれか、記号で答えよ。
- (2) (1)の割合が、グラフに示されているように変化してきていることを何というか。

[解答](1) A (2) 少子化

[問題](3 学期)

次の文の①～③に適語を入れよ。

老年人口の比率が(①)%を越えると、普通、人口の(②)化が進んでいるといわれるが、現在はすでに約 24%になっている。今後はもっと(②)化が進むと予想されている。また、出生率も低い水準にあり、いわゆる(③)化も進んでいる。

[解答]① 7 ② 高齢 ③ 少子

[問題](3 学期)

次の各問いに答えよ。

- (1) 生産年齢人口とは何歳から 64 歳までのことをいうか。
- (2) 高齢者の割合が 7%を超えると、()が進んだ社会といわれる。()に適語を入れよ。

[解答](1) 15 歳 (2) 高齢化

[問題](2 学期期末)

少子高齢化に関して、次の各問いに答えよ。

(1) 少子高齢化とはどのような現象か。簡潔に説明せよ。

(2) 少子高齢化の傾向を示す“つぼ型”の人口ピラミッドの略図を解答用紙に描け。

(3) 少子高齢化の影響について述べたア～オの文章のうち、正しいものを2つ選べ。

ア 将来的に労働者が減少し、その国の産業が衰退してしまう。

イ 高齢者福祉にかかる国の費用が減少する。

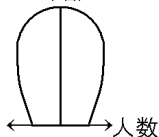
ウ 学校では生徒数が増加し、1 学年の人数が増加する。

エ 高齢者が受け取る年金を支払っている現役世代の負担は重くなる。

オ 子どもが増加し、子ども関連の商品の消費が増える。

[解答](1) 子供が減少し、高齢者が増加する現象。

(2) 年齢 (3) ア, エ



[解説]

[少子高齢化の問題点]

高齢者の増加，少子化→生産年齢人口の減少



生産年齢人口1人あたりの負担が増える

しょうしこうれいか

少子高齢化は、さまざまな面で今後ますます大きな問題になってくると考えられる。たとえば、高齢者福祉を支える生産年齢人口が減っていくため、生産年齢者1人あたりの負担が増えていくという問題がある。

[問題](3 学期)

65 歳以上の人口の割合が高い社会で起こる問題について、次の文中の①，②から正しい語句をそれぞれ選べ。

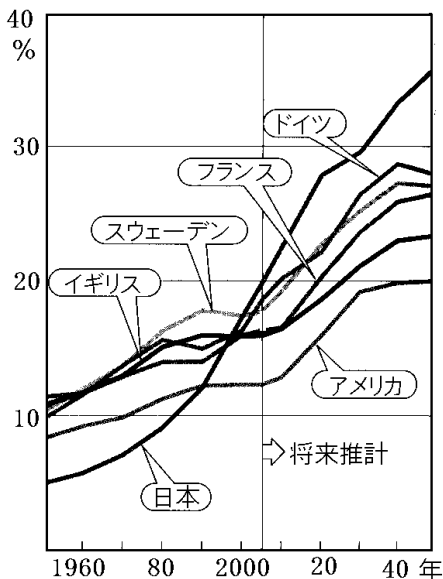
高齢者福祉を支える①(産業別／生産年齢／年少)人口の割合が減っていくため、①の1人あたりの負担が②(減って／軽くなって／増えて)いく。

[解答]① 生産年齢 ② 増えて

[問題](1 学期期末)

次のグラフは、各国の 65 歳以上の人口の増加率を示している。このグラフから、日本は諸外国に比べてどんな特徴があるといえるか、簡潔に説明せよ。

おもな国の高齢者(65歳以上)の割合の推移



[解答]他の欧米諸国と比較して、高齢化の進行速度が非常に速い。

[問題](1 学期期末)

世界一の長寿国はどこか。次の[]から選べ。

[日本 エチオピア アメリカ
スウェーデン]

[解答]日本

[解説]

2011 年現在, 平均^{じゆみょう}寿命が最も長いのは日本で,
男子が 79 歳, 女子が 86 歳である。

◆社会地理の各ファイルへのリンク

<http://www.fdttext.com/dp/sc3/index.html>

◆FdData 中間期末の特徴(QandA 方式)

http://www.fdttext.com/dp/qanda_k.html

◆製品版(パソコン Word 文書 : 印刷・編集用)
の価格・購入方法

<http://www.fdttext.com/dp/seihin.html>

※ iPhone でリンク先が開かない場合は,
「iBooks」を開いてリンクをタップください。

【Fd 教材開発】 Mail : info2@fdtext.com