

【FdData 中間期末：中学社会地理：日本の人口】  
[過密と過疎]

[三大都市圏への人口集中]

[問題](2学期中間)

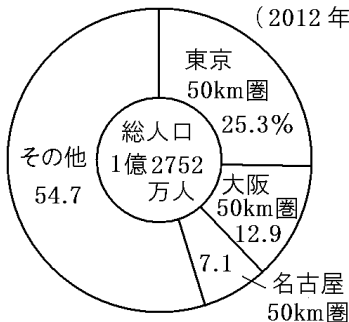
人口集中が目立つ日本の三大都市圏とはどの都市が中心か。3つ答えよ。

[解答]東京都，大阪市，名古屋市

[解説]

三大都市圏の人口の割合

(2012年)

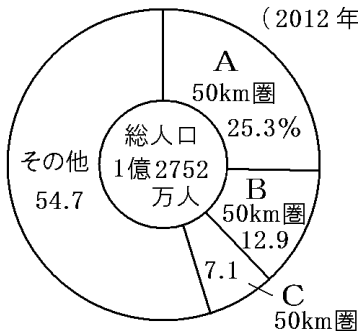


第二次世界大戦後から高度経済成長期にかけて都市への人口集中がすすんだ。日本の人口集中が目立つ三大都市圏は、東京大都市圏、大阪大都市圏、名古屋大都市圏である。

[問題](1 学期期末)

次の資料は、日本の人口にしめる三大都市圏の50km 圏内の人口の割合である。A～C にあてはまる語句を答えよ。

三大都市圏の人口の割合  
(2012 年)

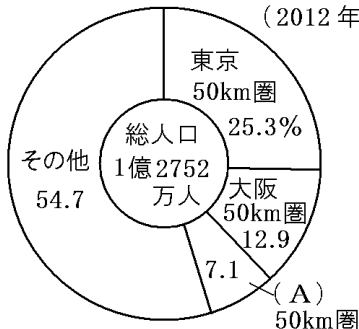


[解答]A 東京 B 大阪 C 名古屋

[問題](3 学期)

日本の人口分布について、次の図を参考に各問いに答えよ。

三大都市圏の人口の割合  
(2012 年)



- (1) 図中の A にあてはまる都市名を書け。
- (2) 三大都市圏には、日本の人口の何%が集まっているか。
- (3) 図から東京 50km 圏に住む人数は何人か。約〇〇百万人という形で答えよ。

[解答](1) 名古屋 (2) 45.3% (3) 約 32 百万人

[解説]

- (2) 資料より、 $25.3 + 12.9 + 7.1 = 45.3(\%)$ である。
- (3) 資料より、日本の総人口が 12752(万人)で、東京 50km 圏に住む人の割合は 25.3%なので、

(東京 50km 圏に住む人数) = 12752(万人) × 0.253  
= 約 3226(万人) = 約 32(百万人)

[問題](2 学期期末)

都市部に人口が集中する理由として正しくないものを次のア～エから 1 つ選べ。

- ア 大学などが集中していて、高校を卒業した後引っ越す人が多いから。
- イ 工場や事務所などの職場が多いから。
- ウ 都市の中心では、周辺地域より土地の値段が安いから。
- エ 交通網が整備されていて便利だから。

[解答]ウ

[過密]

[問題](1 学期期末)

次の( )に適切な語句を記入せよ。

ある地域に人口や建物などが集中しすぎることを( )という。その地域では、高い土地の値段、通勤ラッシュ、公害の問題などが深刻である。

[解答]過密

## [解説]

### [過密]

住宅不足・交通渋滞・公害問題

ニュータウン, ドーナツ化現象



都心回帰現象

ある地域に人口や建物などが集中しすぎることを  
過密という。とくに、東京は、政治や経済などの  
様々な中心が集まっている(一極集中)ため、過  
密地域になっている。

日本の大都市の中心部には、官庁・企業のオフィ  
ス・商業施設が集まり、そのまわりには住宅地が  
広がっている。この住宅地の多くも 1km<sup>2</sup>あたり  
の人口密度が1万人を超える過密地域になってい  
る。このような過密地域では、住宅不足, 交通渋滞  
, 公害問題などが深刻である。

都心部の地価が上昇し、人々は、比較的安い土地  
が得られる郊外のニュータウンなどに住むようにな  
った。その結果、都心部の人口が減少する一方  
で郊外の人口が増加し、人口が都心を中心にして  
ドーナツのように分布するようになった。この  
現象をドーナツ化現象という。(東京や大阪の中

心部の昼間人口が夜間人口よりも多いのは、昼間、通勤や通学で都市の中心部へ来ていた人が、夜は周辺の郊外へ帰るからである。)

ただ、バブル経済が崩壊した 1990 年代以降、地価が安定してきたこともあって、再開発された都心部の高層住宅に住む人が増える都心回帰現象も見られるようになっている。

### [問題](1 学期期末)

次の各問いに答えよ。

- (1) 人口が過度に集中し、住宅不足、交通渋滞、ゴミ問題や騒音などを引き起こしている状態を何というか。
- (2) 東京や大阪の中心部の昼間人口が夜間人口よりも多いのはなぜか。
- (3) (2)のように、中心部の人口が減少し、空洞のようになる現象を何というか。
- (4) (3)に対し、1990 年代に地価が下がると、東京湾岸などの都市再開発が進み、再び郊外よりも都心に近い地域の人口が増加するようになった。この現象を何というか。

[解答](1) 過密 (2) 昼間、通勤や通学で都市の中心部へ来ていた人が、夜は周辺の郊外へ帰るから。

(3) ドーナツ化現象 (4) 都心回帰現象

[問題](1 学期期末)

次の各問いに答えよ。

- (1) 人口密度が1万人/km<sup>2</sup>をこえるような地域を何地域というか。
- (2) 東京には政治や経済などの様々な中心が集まっている。このことを一極何というか。
- (3) 人口が過密な地域の郊外につくられた、大規模な住宅地を何というか。
- (4) 都心の人口減少と、郊外の人口増加が進むことを何現象というか。

[解答](1) 過密地域 (2) 一極集中 (3) ニュータウン (4) ドーナツ化現象

[問題](2 学期期末)

過密によって生じる問題点を2つ述べよ。

[解答]交通渋滞や通勤ラッシュ, 住宅難

[過疎]

[問題](1 学期期末)

農村や山間部にみられるように、教育・消防など地域社会を支える活動が困難になるほど人口が減少する現象を何というか。漢字2字で答えよ。

[解答]過疎

[解説]

[過疎問題]

農村(とくに山間部や離島):若者の流出



人口減少, 高齢化 → 過疎

さらに, 限界集落

農村(とくに、<sup>さんかんぶ</sup>山間部や<sup>りとう</sup>離島)では、若い人が仕事を求めて都会に出て行き、人口の減少と<sup>こうれいか</sup>高齢化が進んでいる。その結果、経済活動がおとろえ、病院や学校などの社会施設の運営が困難になり、バスや鉄道などの公共交通機関も<sup>さいさん</sup>採算がとれなくなって廃止されて、社会生活が成り立たなくなってしまう。このように、地域の人口が減少することにより、地域住民の生活が成立しなくなる現象を<sup>かそ</sup>過疎といひ、そのような地域を<sup>ちいき</sup>過疎地域という。過疎地域の中には、高齢化が極端に進み、65歳以



上の人口が過半数をしめる<sup>しゅうらく</sup>集落もある。このような集落を<sup>げんかいしゅうらく</sup>限界集落という。

このような過疎問題に対し、大分県の<sup>いっそんいっぴん</sup>一村一品運動のように、地域の産物や自然を生かした町おこし・村おこしがさかんになっている。観光地の開発・<sup>さんそんりゅうがく</sup>山村留学に力を入れる村も出てきている。

### [問題](2 学期期末)

過疎地域の特徴として正しいものを次のア～エから1つ選べ。

- ア 交通渋滞が深刻である。
- イ 地域社会の維持が困難である。
- ウ 商業施設が多い。
- エ 住宅不足の問題がおこっている。

[解答]イ

## [問題](2 学期期末)

過疎について説明したもので、まちがっているものを1つ選び、記号で答えよ。

- ア 昼間は働く人々で人口は多いが、夜の人口は昼の人口より少なくなってしまう地域である。
- イ 若者は仕事を求めて都市に出て、高齢者の割合が多くなってきている地域である。
- ウ 学校や病院、商店など、地域を支える活動もさびれて生活が成り立ちにくくなる。

[解答]ア

## [問題](3 学期)

次の①・②の文で、過疎地域の特徴にあてはまれば○を、そうでなければ×を書け。

- ① 農業や林業の後継者が不足している。
- ② 若い人が減り、高齢者が増えている。

[解答]①○ ②○

## [問題](2 学期期末)

過疎に関して、次の各問いに答えよ。

- (1) 下の文章は過疎について説明している。空欄にあてはまる言葉を答えよ。

過疎とは、( ) ことにより、地域住民の生活が成立しなくなる現象である。

- (2) 過疎地域の中には、地域住民の高齢化が進んでいる地域が多い。その理由を簡潔に説明せよ。

[解答](1) 地域の人口が減少する (2) 若い人々が過疎地域から都会へ出て行ってしまうから。

## [問題](1 学期期末)

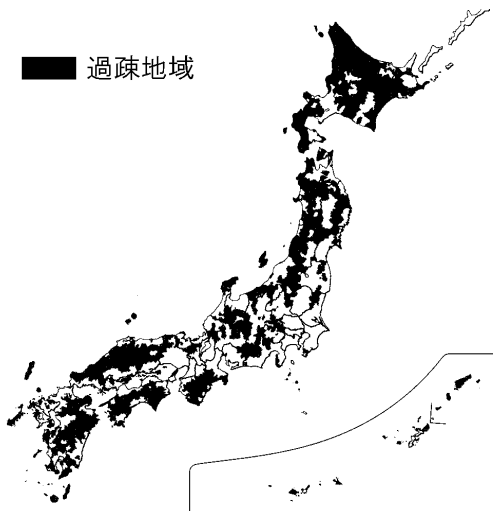
次の各問いに答えよ。

- (1) 人口密度が非常に低い地域を何というか。  
(2) (1)のような地域で生じてくる問題はどんなことか。  
(3) 村おこしにはどのようなものがあるか。例をあげよ。

[解答](1) 過疎地域 (2) 様々な公共施設・サービスが維持できなくなり、社会生活が成り立たなくなること。 (3) 村の特産品の開発(一村一品運動)

[問題](前期期末)

日本の過疎地域はどのような所に多いか。下の地図を読み取って、答えよ。



[解答]山間部や離島

[問題](前期期末)

過疎集落で、過疎がさらに進み、65歳以上の人々が過半数を占める集落を何というか。

[解答]限界集落

## [過密と過疎全般]

### [問題](3 学期)

次の各問いに答えよ。

- (1) 都市で起こる住宅不足や交通渋滞などの問題を何というか。漢字2字で答えよ。
- (2) 山間部や離島で、人口減少にともない社会生活を送りにくくなった地域がある。そのことを何というか。漢字2字で答えよ。

[解答](1) 過密 (2) 過疎

### [問題](3 学期)

次の文の①～④に適する語句を下の[ ]からそれぞれ選べ。

第二次世界大戦後から高度経済成長期にかけて都市への人口集中がすすんだ。その結果、都市は( ① )となり、( ② )が流失した農村では( ③ )の割合が高くなり、( ④ )問題が生じた。

[ 過疎 過密 若者 高齢者 ]

[解答]① 過密 ② 若者 ③ 高齢者 ④ 過疎

### [問題](3 学期)

次の文中の①～③にあてはまる語句を答えよ。

三大都市圏では、人口や産業が集まりすぎる( ① )とよばれる現象が見られ、住宅問題や( ② )渋滞、環境の悪化など多くの問題をかかえている。一方、地方や農村では、人口の減少が大きく、学校やスーパーがなくなるなど社会生活が困難になる( ③ )とよばれる現象がおこっている。

[解答]① 過密 ② 交通 ③ 過疎

### [問題](3 学期)

次の説明文は、過疎か過密か。答えよ。

- ① 若者の多くが流出し、農業後継者もいなくなった。
- ② 宅地の価格が高くて手に入らない。
- ③ 出生率が下がり、学校が閉鎖された。
- ④ 通勤ラッシュが起こる。
- ⑤ 高齢化が進み、結婚難をもたらした。
- ⑥ ドーナツ化現象で通勤に時間がかかる。

[解答]① 過疎 ② 過密 ③ 過疎 ④ 過密 ⑤ 過疎 ⑥ 過密

◆社会地理の各ファイルへのリンク

<http://www.fdtype.com/dp/sc3/index.html>

◆FdData 中間期末の特徴(QandA 方式)

[http://www.fdtype.com/dp/qanda\\_k.html](http://www.fdtype.com/dp/qanda_k.html)

◆製品版(パソコン Word 文書：印刷・編集用)  
の価格・購入方法

<http://www.fdtype.com/dp/seihin.html>

※ iPhone でリンク先が開かない場合は、  
「iBooks」を開いてリンクをタップください。

【Fd 教材開発】 Mail : [info2@fdtype.com](mailto:info2@fdtype.com)