

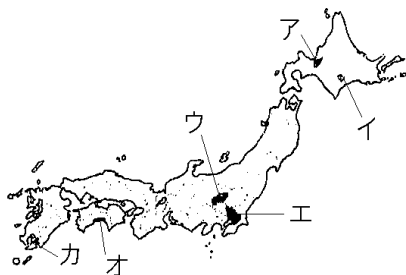
【FdData 中間期末：中学社会地理：農業】

【各地域の農業の特色】

[各地域の農業]

[問題](1 学期中間)

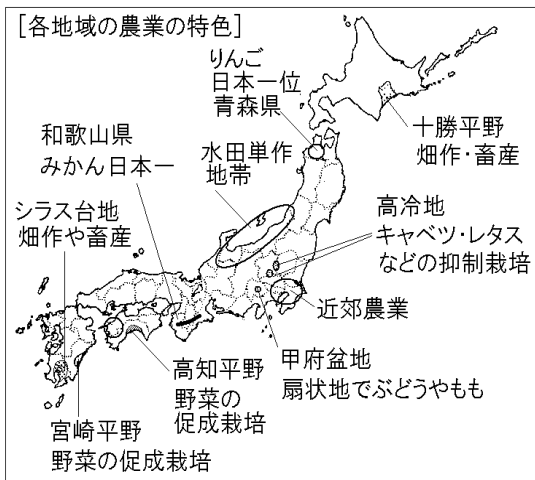
次の農業が行われている地域を次の地図中のア～カから1つずつ選べ。



- ① 肉牛，ぶた，にわとりを飼う，畜産がさかん。温暖な気候を利用して，茶の栽培もさかんである。
- ② 広い土地を利用して，畑作や，肉牛や乳牛などの大規模な畜産がさかんである。
- ③ 市場への近さを生かして，農作物を新鮮なうちに出荷する農業が発達している。

[解答]① カ ② イ ③ エ

[解説]



[問題](前期期末)

下の図の①～⑦にあてはまる語句を書け。

広い土地を生かし、肉牛を飼育する
(⑥)がさかん。

すずしい気候を生かし、
(①)の生産が日本一。

広い平野で(②)作がさかん。

水はけのよい扇状地で
(③)やももを栽培。

温暖な気候を生かし、
野菜の(④)栽培
がさかん。

市場への近さを生かし、
(⑦)農業がさかん。

(⑥)がさかん。

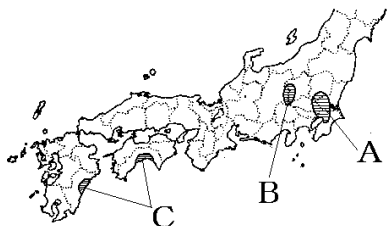
温暖な気候を生かした
(⑤)の生産が日本一。

[解答]① りんご ② 稲 ③ ぶどう

④ 促成 ⑤ みかん ⑥ 畜産 ⑦ 近郊

[問題](2 学期期末)

次の地図を見て、下の文の①～③にあてはまる語句を[]からそれぞれ選べ。



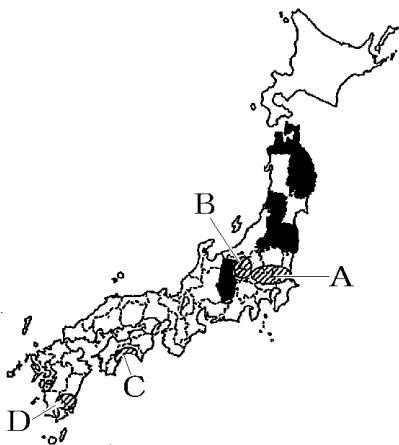
野菜の生産はA地域など新鮮な野菜を大都市に出荷する(①)の地域や、B の冷涼な気候を利用した(②)の地域、C のように温暖な気候を生かした(③)の地域でさかんである。


[近郊農業 促成栽培 抑制栽培]

[解答]① 近郊農業 ② 抑制栽培 ③ 促成栽培

[問題](1 学期期末)

次の各問いに答えよ。



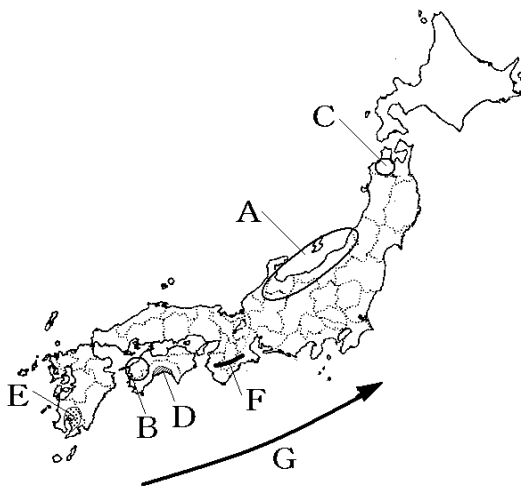
- (1) 地図中の  は、ある農産物の生産上位 5 位の県である。この農産物を、次の[]の中から 1 つ選べ。
[みかん りんご ぶどう もも]
- (2) 次の①～④で述べている地域を、地図中の A～D からそれぞれ選べ。
- ① 肉牛や豚、ブロイラーなどを飼育する畜産がさかんである。
 - ② 高地の冷涼な気候を生かした抑制栽培がさかんである。

- ③ 暖かい気候を生かした促成栽培がさかんである。
- ④ 大都市周辺で生鮮野菜をつくる近郊農業がさかんである。

[解答](1) りんご (2)① D ② B ③ C ④ A

[問題](2学期中間)

次の地図を見て、次の各問いに答えよ。



- (1) 雪の多いAの地域に広がる、米を中心に栽培する地域を何地帯というか。
- (2) 地図中のB、Cの地域を代表する果実をそれぞれ書け。
- (3) 地図中Dの平野で行われている、冬の温暖な気候を利用した野菜のハウス栽培のことを何というか。漢字4字で書け。
- (4) 畑作と畜産がさかんな、地図中Eの台地を何というか。

- (5) おもに私有林が分布する地図中 F の山地を何というか。
- (6) 地図中 G の暖流を何というか。

[解答](1) 水田単作地帯 (2)B みかん C りんご
(3) 促成栽培 (4) シラス台地 (5) 紀伊山地
(6) 黒潮(日本海流)

◆社会地理の各ファイルへのリンク

<http://www.fdtype.com/dp/sc3/index.html>

◆FdData 中間期末の特徴(QandA 方式)

http://www.fdtype.com/dp/qanda_k.html

◆製品版(パソコン Word 文書：印刷・編集用)
の価格・購入方法

<http://www.fdtype.com/dp/seihin.html>

※ iPhone でリンク先が開かない場合は、
「iBooks」を開いてリンクをタップください。

【Fd 教材開発】 Mail : info2@fdtype.com