

【FdData 中間期末：中学社会地理：地形図】

[方位]

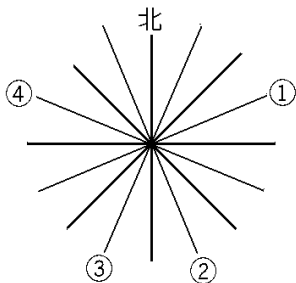
[問題](1 学期期末)

地図はふつう、どの方位が上になるようにえがかれているか。

[解答]北

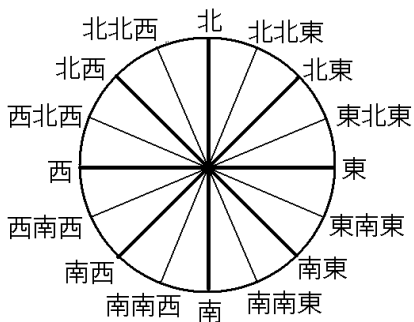
[問題](1 学期期末)

次の 16 方位の図の①～④にあてはまる方位を答えよ。



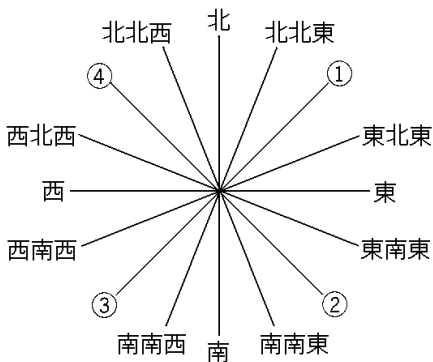
[解答]① 東北東 ② 南南東 ③ 南南西
④ 西北西

[解説]



[問題](1 学期中間)

下の()に当てはまる方位を書きなさい。



[解答]① 北東 ② 南東 ③ 南西 ④ 北西

◆社会地理の各ファイルへのリンク

<http://www.fdtype.com/dp/sc3/index.html>

◆FdData 中間期末の特徴(QandA 方式)

http://www.fdtype.com/dp/qanda_k.html

◆製品版(パソコン Word 文書：印刷・編集用)
の価格・購入方法

<http://www.fdtype.com/dp/seihin.html>

※ iPhone でリンク先が開かない場合は、
「iBooks」を開いてリンクをタップください。

【Fd 教材開発】 Mail : info2@fdtype.com