



















【FdData 中間期末：中学社会地理：地形図】

【地図記号】

【問題】(1 学期中間)

次の(1)～(18)は何を表すか。

- (1)  (2)  (3)  (4)  (5) 
- (6)  (7)  (8)  (9)  (10)  (11) 
- (12)  (13)  (14)  (15) 
- (16)  (17)  (18) 

- 【解答】(1) 三角点 (2) 警察署 (3) 官公署
(4) 裁判所 (5) 消防署 (6) 発電所・変電所
(7) 病院 (8) 水準点 (9) 郵便局 (10) 記念碑
(11) 灯台 (12) 田 (13) 畑・牧草地 (14) 果樹園
(15) 桑畑 (16) 茶畑 (17) 広葉樹林
(18) 針葉樹林

[解説]



田(水田)



茶畑



畑・牧草地



広葉樹林



果樹園



針葉樹林



桑畑



荒地

◎ 市役所
東京都の区役所

⊕ 病院

○ 町・村役場

⌌ 神社

⦿ 官公署

卍 寺院

⊗ 警察署

⌒ 記念碑

∩ 消防署

凸 城跡

⊖ 郵便局

∴ 史跡

⚙ 工場

△ 三角点

⚡ 発電所・変電所

□ 水準点

ㄨ 小・中学校

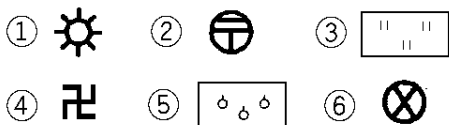
⚙ 灯台

⊗ 高等学校

↓ 漁港

[問題](1学期期末)

次の地図記号①～⑥は何を表しているか、下から選べ。



[寺院 警察署 果樹園 田 工場 郵便局]

[解答]① 工場 ② 郵便局 ③ 田 ④ 寺院
⑤ 果樹園 ⑥ 警察署

[問題](1学期中間)










次の地図記号①, ②は何を示しているか答えなさい。



[解答]① 工場 ② 果樹園

[問題](前期期末)

次の図を見て、各問いに答えなさい。

土地利用		建物・施設	
	① 荒地		A
	② 畑		B
	③ 桑畑		C
	④ 広葉樹林	文	D
	⑤ 針葉樹林		E

- (1) 上図の土地利用を示す地図記号について、①～⑤の意味が正しいものには○を書き、まちがっているものは正しい意味を次の[]から選んで書きなさい。

[くわ畑 果樹園 田 広葉樹林
針葉樹林 茶畑]

- (2) 上図のA～Eの意味を次の[]から選びなさい。

[病院 小・中学校 郵便局 工場
市役所]

[解答](1)① 田 ②○ ③ 茶畑 ④ 果樹園
⑤○ (2)A 工場 B 市役所 C 郵便局
D 小・中学校 E 病院

◆社会地理の各ファイルへのリンク

<http://www.fdtype.com/dp/sc3/index.html>

◆FdData 中間期末の特徴(QandA 方式)

http://www.fdtype.com/dp/qanda_k.html

◆製品版(パソコン Word 文書：印刷・編集用)
の価格・購入方法

<http://www.fdtype.com/dp/seihin.html>

※ iPhone でリンク先が開かない場合は、
「iBooks」を開いてリンクをタップください。

【Fd 教材開発】 Mail : info2@fdtype.com