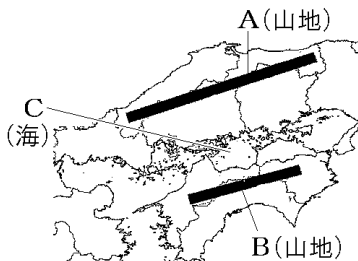


【FdData 中間期末：中学社会地理：中国・四国】
[地形]

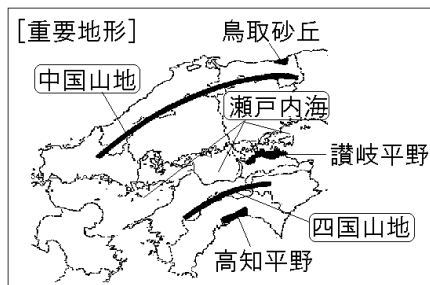
[問題](2 学期期末)

次の地図の A～C の地形名を答えよ。



[解答]A 中国山地 B 四国山地 C 瀬戸内海

[解説]



[問題](3学期)

中国・四国地方の自然環境について、a～dの説明文を参考に、あてはまる地形名をそれぞれ[]から選べ。



a 本州と四国地方をへだてる海。

b 中国地方のなだらかな山地。

c 四国地方のけわしい山地。

d 野菜の促成栽培がさかんな平野。

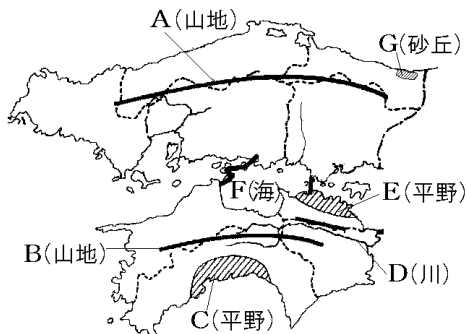
[中国山地 高知平野 四国山地 九州山地
日本海 讃岐平野 瀬戸内海]

[解答]a 瀬戸内海 b 中国山地 c 四国山地

d 高知平野

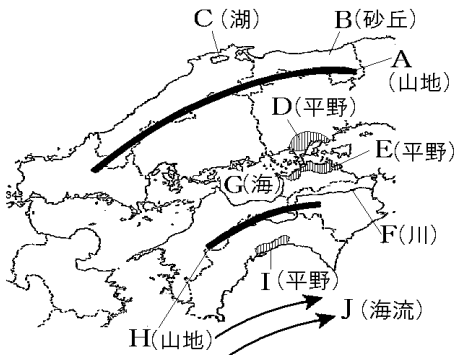
[問題](2 学期期末)

次の略地図のA～Gの地形名を書け。



[解答]A 中国山地 B 四国山地 C 高知平野
D 吉野川 E 讃岐平野 F 瀬戸内海
G 鳥取砂丘

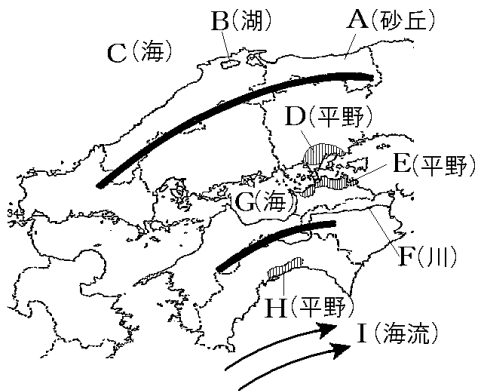
[解説]



- A 中国山地 B ^{とっとりさきゆう}鳥取砂丘 C ^{しんじこ}宍道湖
 D 岡山平野 E ^{さぬき}讃岐平野 F ^{よしの}吉野川
 G ^{せとないかい}瀬戸内海 H 四国山地 I 高知平野
 J ^{くろしお}黒潮(日本海流)

[問題](3 学期)

次の略地図のA～Iの地形名を書け。



- [解答]A 鳥取砂丘 B 宍道湖 C 日本海
 D 岡山平野 E 讃岐平野 F 吉野川
 G 瀬戸内海 H 高知平野 I 黒潮(日本海流)

◆社会地理の各ファイルへのリンク

<http://www.fdtype.com/dp/sc4/index.html>

◆FdData 中間期末の特徴(QandA 方式)

http://www.fdtype.com/dp/qanda_k.html

◆製品版(パソコン Word 文書：印刷・編集用)
の価格・購入方法

<http://www.fdtype.com/dp/seihin.html>

※ iPhone でリンク先が開かない場合は、
「iBooks」を開いてリンクをタップください。

【Fd 教材開発】 Mail : info2@fdtype.com