

【FdData 中間期末：中学社会地理：中国・四国】

[3 地域の気候]

[問題](3 学期)

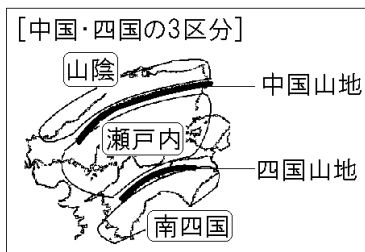
中国・四国地方は次の図の X, Y, Z の 3 つの地域に分けることができる。X, Y, Z の地域名を次の[ ]からそれぞれ選べ。

[ 山陰 南四国 山陽 瀬戸内 ]



[解答]X 山陰 Y 瀬戸内 Z 南四国

[解説]



中国地方と四国地方は、地形や気候の特色によって、中国山地の北側を山陰<sup>さんいん</sup>、瀬戸内海<sup>せとないかい</sup>に面した地域を瀬戸内<sup>せとうち</sup>、四国山地の南側を南四国<sup>みなみしこく</sup>と3つの地域に分けることができる。

また、中国地方を山陰と山陽<sup>さんよう</sup>に分ける場合もある(中国山地の北が山陰、南が山陽)。

### [問題](3 学期)

中国・四国地方を中国山地と四国山地で区分したとき、次の①～③の地域を何というか。

- ① 中国山地より北の地方
- ② 中国山地と四国山地の間の地方
- ③ 四国山地より南の地方

[解答]① 山陰 ② 瀬戸内 ③ 南四国

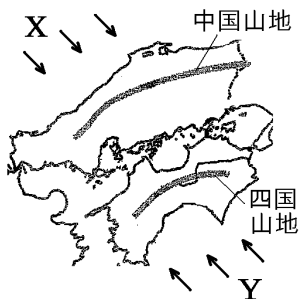
### [問題](2 学期期末)

中国地方は、中国山地によって北と南に分けられるが、それぞれの地域名を書け。

[解答]北：山陰 南：山陽

[問題](2 学期期末)

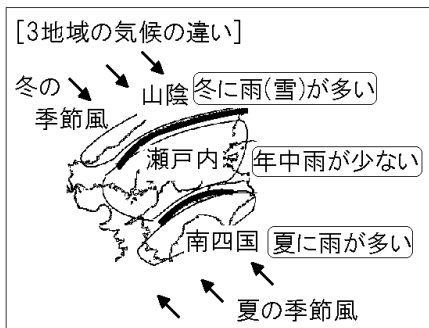
次の各問いに答えよ。

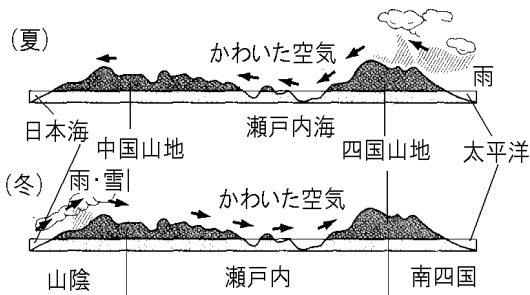


- (1) 中国・四国地方に大きな影響を与えている地図中のXやYの風を何というか。
- (2) 冬に吹くのはXとYのどちらか。

[解答](1) 季節風 (2) X

[解説]





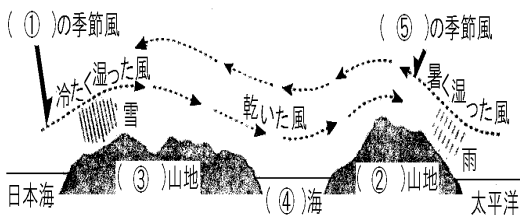
中国・四国地方は、東西に走るなだらかな中国山地とけわしい四国山地の2つの山地によって、日本海側の山陰、瀬戸内海沿岸の瀬戸内、太平洋側の南四国の3つに区分される。この3つの区域は気候が大きく異なる。すなわち、南四国は夏の降水量が多く、山陰は冬の降水量(雪)が多く、瀬戸内は年間を通して雨が少ない。

夏は、太平洋で湿気を運びた南東の季節風が四国山地にぶつかって上昇気流となって雲を発生させ、太平洋側に雨をもたらす。しかし、四国山地をこえて瀬戸内を通るときは、かわいた風となっているため、瀬戸内や山陰では雨がふりにくい。冬は、北西の季節風が中国山地にぶつかって上昇気流となって雲を発生させ、日本海側に多くの雨

や雪をもたらすが、瀬戸内を通るときは、かわいた風となっているため、雨・雪がふりにくい。このことから、瀬戸内は年中雨が少ない。瀬戸内地方は、年間を通じて降水量が少ないため、さまざまなくふうが行われてきた。たとえば、農業用水が不足しがちな<sup>さぬき</sup>讃岐平野ではため池をつくって水を確保してきた。また、坂出<sup>さかいで</sup>や鳴門<sup>なると</sup>などの沿岸には、かつて、雨の少ない気候と潮<sup>しお</sup>の干満を生かして<sup>えんでん</sup>塩田がつくられた。

### [問題](前期中間)

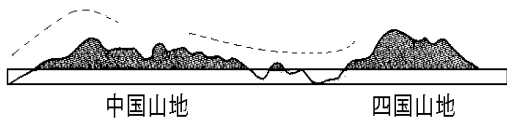
次の資料は中国・四国地方の断面図である。①と⑤には季節、②と③には山地名、④には海の名前を入れよ。



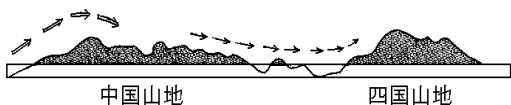
[解答]① 冬 ② 四国 ③ 中国 ④ 瀬戸内  
⑤ 夏

[問題](後期中間)

次の図に、冬の季節風の流れを矢印で示せ。(その際、しめった空気を⇒, 乾いた空気を→で書け。)



[解答]



### [問題](3 学期)

次の文の①～⑩に適語を入れよ。

中国地方には 1000m 前後のなだらかな山並みが続く( ① )山地が広がる。この山地より北を( ② ), 南を( ③ )とよび、中国地方を 2 つに分けている。四国地方には( ④ )山地が連なる。

(②)地方とよばれる(①)山地より北の地域では、冬には北西から吹く( ⑤ )の影響で、雪が多く降る。(①)山地と(④)山地にはさまれた( ⑥ )地方では、年間を通じて降水量が少なく、温暖である。南四国地方では、太平洋の( ⑦ )海流の影響を受けるため九州と同じように、年間を通じて温暖で多くの雨が降る。

2 つの山地にはさまれた(⑥)海は、たくさんの島が点在し、日本最大の内海になっている。(⑥)地方では、年間を通じて降水量が少ないため、さまざまなくふうが行われてきた。たとえば、農業用水が不足しがちな( ⑧ )平野では( ⑨ )をつくって水を確保してきた。また、坂出や鳴門などの沿岸には、かつて、雨の少ない気候と潮の干満を生かして( ⑩ )がつけられた。

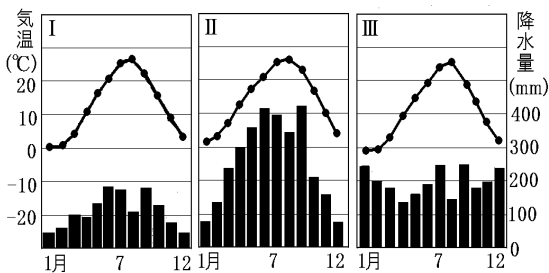
[解答]① 中国 ② 山陰 ③ 山陽 ④ 四国

⑤ 季節風 ⑥ 瀬戸内 ⑦ 日本 ⑧ 讃岐

⑨ ため池 ⑩ 塩田

[問題](後期中間)

中国・四国の自然について，地図や雨温図を見て，各問いに答えよ。



- (1) 地図中 B の地域名を漢字で書け。
- (2) B に位置する都市の雨温図を I ~ III から選べ。
- (3) B に位置する都市の降水量の特色を，季節風との関連から説明せよ。



[解答](1) 瀬戸内 (2) I (3) 夏の南東の湿った季節風は四国山地にはばまれ、冬の湿った北西の季節風は中国山地にはばまれるため、1年を通して降水量が少ない。

[解説]

[雨温図の見分け方]

日本海側：冬の降水量が多い→凹型

太平洋側：夏の降水量が多い→凸型

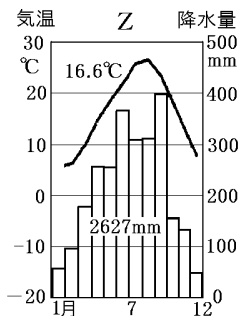
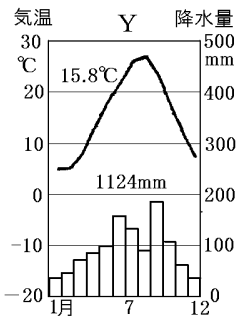
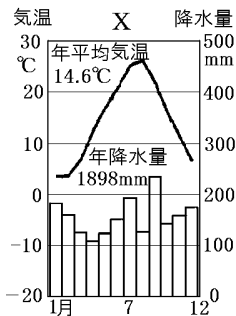
瀬戸内：年間降水量が少ない，凸型  
(1000mm程度)

中国山地の北側のAは山陰，中国山地と四国山地にはさまれたBは瀬戸内，四国山地の南側のCは南四国である。Aの山陰は，冬にふく北西の季節風の影響で，冬の降水量(雪)が多い。したがって，雨温図は凹型になっているⅢのようになる。Bの瀬戸内は，1年中雨が少なく，雨温図はIのようになる。Cの南四国は夏にふく南東の季節風の影響で，夏の降水量が多い。また，年間の降水量も多い。よって，雨温図はⅡのようになる。

[問題](3 学期)

次の各問いに答えよ。

- (1) 高松市をはじめとする瀬戸内の気候の特色を「中国山地」「四国山地」の語を用いて答えよ。
- (2) 高松市の雨温図にあてはまるものを下の X～Z から選べ。



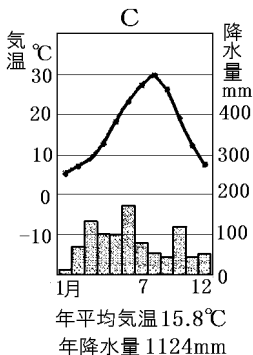
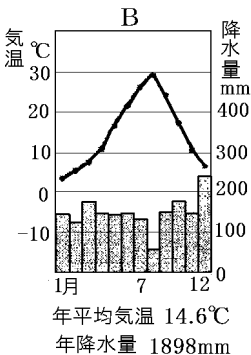
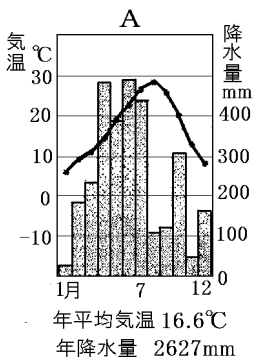
[解答](1) 夏の湿った南東の季節風は四国山地にはばまれ、冬の湿った北西の季節風は中国山地にはばまれるため、1年を通して降水量が少ない。  
(2) Y

[問題](2 学期期末)

次の地図の地方について、各問いに答えよ。



- (1) 地図中ア～ウの各県庁所在都市名を漢字で書け。
- (2) 地図中ア～ウの3か所の雨温図としてあてはまるものを、下のA～Cより選べ。そのときに、なぜそれを選んだのか、理由を降水量に着目して答えよ。



[解答](1)ア 鳥取市 イ 高松市 ウ 高知市

(2)ア B, 冬の降水量が比較的が多いから。イ C, 年間を通して降水量が少ないから。ウ A, 年間降水量が多く, とくに夏の降水量が多いから。

◆社会地理の各ファイルへのリンク

<http://www.fdtype.com/dp/sc4/index.html>

◆FdData 中間期末の特徴(QandA 方式)

[http://www.fdtype.com/dp/qanda\\_k.html](http://www.fdtype.com/dp/qanda_k.html)

◆製品版(パソコン Word 文書：印刷・編集用)  
の価格・購入方法

<http://www.fdtype.com/dp/seihin.html>

※ iPhone でリンク先が開かない場合は、  
「iBooks」を開いてリンクをタップください。

【Fd 教材開発】 Mail : [info2@fdtype.com](mailto:info2@fdtype.com)