

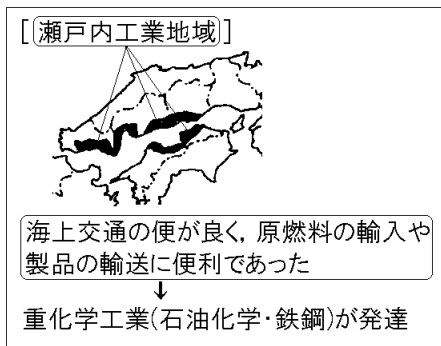
【FdData 中間期末：中学社会地理：中国・四国】
[工業]

[問題](2 学期中間)

瀬戸内海の沿岸に発達している工業地域を何と
いうか。

[解答]瀬戸内工業地域

[解説]

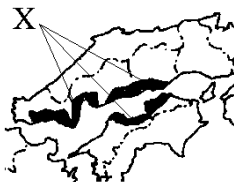


瀬戸内工業地域は、石油化学や鉄鋼などの重化学工業を中心として、戦後発展した。発展の理由は、第一に海上交通の便がよく、海外からの原燃料の輸入や製品の輸送に便利な港湾にめぐまれていたことである。(原料や製品が重い鉄鋼業や石油化学工業では、輸送コストがかかりすぎる内陸部には

立地しにくい。船による海上輸送は鉄道やトラックによる陸上輸送よりもはるかに費用が安くすむ。) 北九州工業地帯と阪神工業地帯の中間という有利な位置にあったこともプラスであった。発展の理由の第二は、広い埋め立て地や塩田跡地などの工業用地にめぐまれたことである。

[問題](2 学期期末)

中国・四国地方の工業について、次の地図を見て各問いに答えよ。



- (1) Xの工業地域を何というか。
- (2) 次の文章の①, ②にあてはまる語句を、下の [] からそれぞれ選べ。

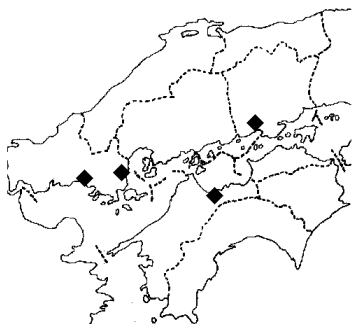
Xの工業地域は、原燃料が重い石油化学工業や(①)業などの(②)工業の立地に適している。

[重化学 軽 鉄鋼 IC]

[解答](1) 瀬戸内工業地域 (2)① 鉄鋼 ② 重化学

[問題](3 学期)

次の各問いに答えよ。



- (1) 上の資料中の◆は、石油化学コンビナートである。また、これ以外にも、広島県の福山市などには製鉄所が建設されている。なぜ、沿岸部の都市にこのような工場が建設されるようになったのか、説明せよ。
- (2) (1)のように、瀬戸内に広がる工業地域の名称を書け。

[解答](1) 海上交通の便が良く、原燃料の輸入や製品の輸送に便利であったため。

(2) 瀬戸内工業地域

[問題](後期中間)


瀬戸内地方にコンビナートをつくりやすかった理由を、地形的な特徴から考えて答えよ。

[解答]海上交通の便が良く、原燃料の輸入や製品の輸送に便利であったため。

[問題](後期中間)

次の各問いに答えよ。



- (1) 地図中の  の工業地域を何というか。
- (2) 倉敷市の南部にあるような、関連工場が燃料を利用し合う石油化学の大規模な工場群を何というか。

[解答](1) 瀬戸内工業地域 (2) 石油化学コンビナート

[解説]



岡山県倉敷市の^{くらしき}水島^{みずしま}地区は、第二次世界大戦後、
埋め立てによって^う大規模な^{だいきぼ}石油化学コンビナート
や製鉄所が建設され、水島臨海工業地域として発
展し瀬戸内工業地域の中心となった。瀬戸内工業
地域の石油化学コンビナートとしては、水島の他
に、山口県の^{いわくに}岩国市と^{しゅうなんし}周南市(旧徳山市)、愛媛県
の^{にい はま}新居浜市がある。

[問題](2 学期期末)

次の各問いに答えよ。

- (1) 岡山県倉敷市にある水島臨海工業地域で、生産能率を高めるために計画的につくられた工場群を何というか。カタカナ 6 字で答えよ。
- (2) 水島臨海工業地域のような臨海部で特にさかんに行われている工業を、次の[]から 2 つ選んで書け。
[食料品 金属 繊維 石油化学]
- (3) (2)の工業が臨海部でさかんな理由について、ア～エから、正しいものを 1 つ選べ。
- ア 生産に大量の水を使用するから。
- イ 海外から工場で働く労働者がやってくるから。
- ウ 広い工場用地を必要としないから。
- エ 原燃料を運ぶ船が接岸する港があるから。

[解答](1) コンビナート (2) 金属, 石油化学

(3) エ

[問題](2学期中間)

次の図の、倉敷市のX地区では石油化学コンビナートや鉄鋼関連の工場が集まっている。Xの地名を漢字2字で書け。



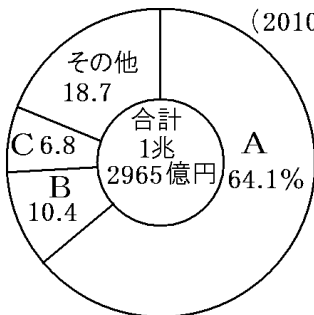
[解答]水島

[問題](前期中間)

次の資料のAにあてはまるものとして適切なものを[]から選べ。

水島港の輸入品目の内訳

(2010年)



[自動車 石油・石油製品 鉄鋼石 石炭
化学製品]

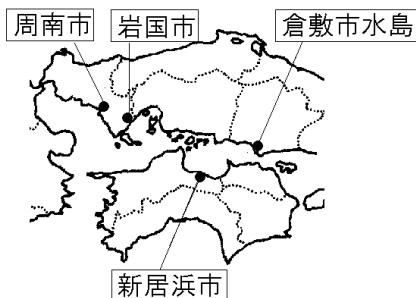
[解答]石油・石油製品

[解説]

Bは鉄鉱石，Cは石炭である。

[問題](後期中間)

下の資料の□で囲んだ都市に共通して立地している工業は何か。



[解答]石油化学工業

[問題](前期中間)

中国・四国地方の工業について、正しくないものを下から1つ選べ。

- ア 中国自動車道沿いに工業団地が建設されている。
- イ 日本海沿岸と太平洋岸には工業が少ない。
- ウ 瀬戸内海沿岸に化学工業が発展している。
- エ 本州四国連絡橋沿いにコンビナートが多く建設されている。

[解答]エ

[解説]

エが誤り。コンビナートは原燃料や製品の輸送に便利な港湾の近くに立地している。

ア, イ, ウは正しい。中国・四国地方の工業は瀬戸内を中心に発展してきた。日本海沿岸と太平洋岸には工業が少ない。中国山地も産業が未発達かその過疎地域であったが、東西や南北を結ぶ高速道路の開通によって工業団地や流通センターの建設が進んだ。これによって働き場所が確保され、都市へ出る人が少なくなった地域も出てきた。

[問題](3 学期)

中国・四国地方の工業について、次の文の①～⑤に適語を入れよ。

瀬戸内では、古くから、(①)織物工業、製塩業、造船業などが発達していた。1960～70年代に、瀬戸内の臨海部に、関連工場をパイプラインで結ぶ(②)を建設し、鉄鋼業や石油化学工業などが発達した。この工業地域を(③)工業地域という。一方、中国山地の山間部にも、東西や南北を結ぶ高速道路の開通によって(④)団地や流通センターの建設が進んだ。これによって(⑤)化が進む地域に働き場所が確保され、都市へ出る人が少なくなった地域も出てきた。

[解答]① 綿 ② コンビナート ③ 瀬戸内

④ 工業 ⑤ 過疎

◆社会地理の各ファイルへのリンク

<http://www.fdtype.com/dp/sc4/index.html>

◆FdData 中間期末の特徴(QandA 方式)

http://www.fdtype.com/dp/qanda_k.html

◆製品版(パソコン Word 文書：印刷・編集用)
の価格・購入方法

<http://www.fdtype.com/dp/seihin.html>

※ iPhone でリンク先が開かない場合は、
「iBooks」を開いてリンクをタップください。

【Fd 教材開発】 Mail : info2@fdtype.com