

【FdData 中間期末：中学社会地理：中国・四国】
[本州四国連絡橋]

[問題](後期中間)

次の各問いに答えよ。

- (1) 本州と四国を結ぶルートは大きく分けて3つあるが、これらをすべて合わせて何というか。

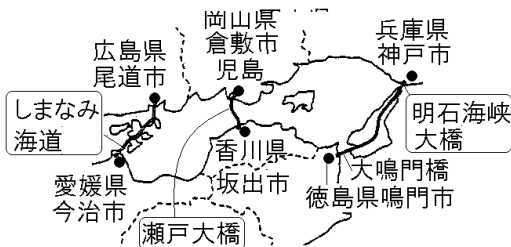


- (2) (1)のうち図のAの橋の名称を書け。

[解答](1) 本州四国連絡橋 (2) 瀬戸大橋

[解説]

[本州四国連絡橋 の3つのルート]

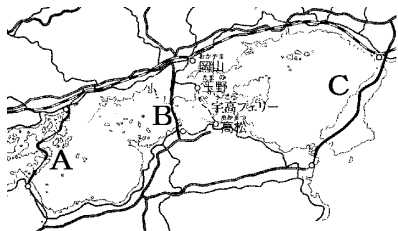


本州と四国を結ぶ3つのルート^{れんらくきょう}の橋をまとめて本州四国連絡橋という。3つの連絡橋の中で最も早い1988年に開通したのは、岡山県の倉敷市^{くらしき}児島と香川県の坂出市^{さかいで}を結ぶ児島・坂出ルート(瀬戸大橋^{せとおおほし})である。

1998年に神戸・鳴門ルート^{こうべ なると}が完成した。兵庫県の神戸市と淡路島^{あわじしま}を結ぶのは明石海峡大橋^{あかしakaiきょう}で、淡路島と徳島県の鳴門市^{おおなるとほし}を結ぶのは大鳴門橋である。その後、広島県の尾道市^{おのみち}と愛媛県の今治市^{いまばり}を結ぶ尾道・今治ルート(しまなみ海道^{かいどう})が開通した。

[問題](1 学期中間)

瀬戸大橋がある、児島・坂出ルートを地図中のA～Cから1つ選べ。



[解答]B

[問題](3 学期)

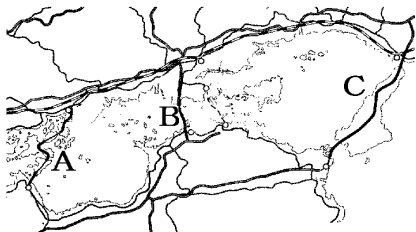
中国と四国を結ぶ橋の中で、岡山県から香川県にかけて結ばれた橋を何というか。次の[]から1つ選べ。

[明石海峡大橋 しまなみ海道 瀬戸大橋
大鳴門橋]

[解答]瀬戸大橋

[問題](2 学期期末)

次の地図中の A～C の各ルートは本州四国連絡橋を示している。次の①～③の説明文は A～C のどのルートを説明したものであるか。

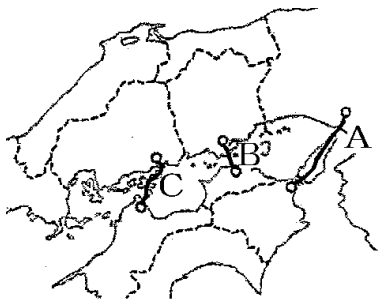


- ① 岡山県の児島と香川県の坂出を結ぶルート。
- ② 兵庫県の神戸と徳島県の鳴門を結ぶルート。
- ③ 広島県の尾道と愛媛県の今治を結ぶルート。

[解答]① B ② C ③ A

[問題](3 学期)

次の資料を見て、各問いに答えよ。



- (1) 地図中のA～Cは本州と四国を結ぶ3つのルートを示している。A～Cにあてはまるものを次の[]からそれぞれ選べ。

[しまなみ海道 瀬戸大橋 明石海峡大橋]

- (2) (1)の3つのルートをまとめて何というか。

[解答](1)A 明石海峡大橋 B 瀬戸大橋

C しまなみ海道 (2) 本州四国連絡橋

[問題](1 学期中間)

本州と四国を結ぶ橋について、次の各問いに答えよ。

- (1) 児島・坂出ルートにかかる橋の名前を書け。
- (2) 尾道・今治ルートの別名を何海道というか。
- (3) 神戸・鳴門ルートにかかる橋を2つ書け。

[解答](1) 瀬戸大橋 (2) しまなみ海道

(3) 明石海峡大橋, 大鳴門橋

[問題](2 学期期末)

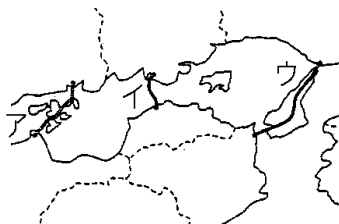
次の各問いに答えよ。

- (1) 瀬戸大橋は何県と何県を結んでいるか。
- (2) しまなみ海道は何県と何県を結んでいるか。

[解答](1) 香川県と岡山県 (2) 愛媛県と広島県

[問題](3 学期)

次の各問いに答えよ。



- (1) 地図のア～ウの橋をまとめて何とよぶか。
- (2) (1)の交通網が整備された結果、大都市に人が吸い寄せられて、地方経済が衰退してしまうことが問題になっている。この現象を何というか。

[解答](1) 本州四国連絡橋 (2) ストロー現象

[解説]

[ストロー現象]

大都市に買い物客が吸い寄せられ
地元の商店の客が奪われる

橋や高速道路が開通すると、地元で買い物や観光をする人が減り、大都市に人が吸い寄せられるストロー現象がおこり、地元商店の客が奪われて地

方経済が^{すいたい}衰退してしまうという問題が生じた。
例えば、1998年、^{あかしかいきょうおおはし}明石海峡大橋が開通すると、
徳島県^{なると}鳴門市と兵庫県^{こうべ}神戸市は、1時間30分ほど
で結ばれるようになった。橋の開通前、四国の中心地は香川県の^{たかまつ}高松市であった。しかし、橋が開通すると、四国から近畿地方の神戸や大阪まで買い物や観光で出かける人が増えた。

[問題](2 学期期末)

次の各問いに答えよ。

- (1) 本州と四国を結ぶ 3 つのルートが建設されたが、総称して何とよばれるか。
- (2) (1)のうち、次の①、②は何とよばれているか。
 - ① 岡山県倉敷市と香川県坂出市を結ぶ橋
 - ② 1998年に神戸市と淡路島の間が開通し、徳島県鳴門市と兵庫県神戸市を1時間半ほどで結ぶことを可能にした橋
- (3) 橋や高速道路が開通すると、地元で買い物や観光をする人が減り、大都市に人が吸い寄せられる現象が起こる。この現象を何というか。

[解答](1) 本州四国連絡橋 (2)① 瀬戸大橋
② 明石海峡大橋 (3) ストロー現象

[問題](2学期中間)

本州四国連絡橋の開通後、ストロー現象が見られたが、これはどのような現象か。

「大都市」、「地元の商店」の語句を用いて説明せよ。

[解答]大都市に多くの人が吸いよせられて地元の商店の客が奪われ、衰退していく現象。

[問題](後期中間)

本州四国連絡橋の開通は、地域に多くの利点をもたらしたが、問題点も発生した。問題点の1つを「買い物」という語句を使って書け。

[解答]地元の商店街で買い物をする客が減り、売上額が減少した。

[問題](前期中間)

本州四国連絡橋が開通して、中国・四国地方の人々の生活や産業に変化が起こった。次のア～エのうち、適当でないものはどれか。

- ア 鉄道や自動車との船の乗り換えがなくなり、移動時間が短縮した。
- イ 橋がかかった島々では、夜間に施設の整った病院に行けるようになった。
- ウ フェリーの便が減り、橋がかかっていない島にすむ人々が移動手段に困った。
- エ たくさんの人が近畿地方から、四国地方に買い物に訪れるようになり、経済が活性化した。

[解答]エ

[解説]

[本州四国連絡橋の開通による影響]

(プラス) 時間の短縮→海を越えた通勤・通学

新鮮な野菜の輸送

橋が通る島→夜間に病院

(マイナス) フェリー便の減少

ストロー現象

本州四国連絡橋の開通によって、陸上交通で本州と四国地方が結ばれたことで、鉄道や自動車と船

との乗りかえがなくなり、移動時間が短縮^{たんしゆく}された。その結果、人々の生活が変化してきている。例えば、岡山県と香川県では、鉄道によって瀬戸内海をわたって通勤・通学する人が増えた。橋がかかった島々では、夜間に施設の整った病院に行けるようになった。また、四国でとれた農作物を新鮮なうちにトラックで運べるようになった。

しかし、フェリーの便が減り、橋がかかっていない島にすむ人々が移動手段に困るという問題がおこっている。また、橋や高速道路が開通すると、地元で買い物や観光をする人が減り、大都市に人が吸い寄せられるストロー現象がおこり、地方経済が衰退^{すいたい}してしまうという問題も生じた。

[問題](前期中間)

本州四国連絡橋ができて本州と四国の間の人
の移動が大幅に増えた。橋のできる前と後でど
のような変化があったか。あてはまらない文を1つ選
べ。

- ア 橋の通行料が高いので四国と本州の間で通勤、
通学する人の人数が減った。
- イ 四国でとれた農作物を新鮮なうちにトラック
で運べるようになった。
- ウ フェリーで移動する人が減り、フェリーが廃
止され船員が職を失った。
- エ 遠くに買い物に出かける人が増え、地元の商
店街がおとろえた。

[解答]ア

[解説]

アが誤り。橋の開通により四国と本州の間で通勤、
通学する人の人数は増えた。

[問題](3 学期)

本州四国連絡橋の建設により、どのような影響が出たか。次のア～オから 2 つ選べ。

- ア 四国地方から、近畿地方の大都市に買い物や観光に出かける人が増えた。
- イ 中国地方や近畿地方の農産物が、四国地方にたくさん出荷されるようになった。
- ウ バスや自動車を利用する人が減り、交通渋滞や騒音・振動などの公害が減った。
- エ 瀬戸内海を走るフェリー便が減少して、一部の地域では移動が不便になった。
- オ 四国地方の都市の古い商店街がにぎわいを取り戻し、商業が活発になった。

[解答]ア, エ

[問題](3 学期)

本州四国連絡橋ができた影響について、次の各問いに答えよ。

- (1) 本州四国連絡橋の開通で、地元の商店の売り上げが減少した地域もある。それはなぜか。「大都市」という語句を使って、簡単に説明せよ。
- (2) 本州四国連絡橋の開通による生活の変化を「橋のかかった島」について、「急病」の語句を使って、簡単に書け。

[解答](1) 大都市へ買い物に行く人が増えたから。
(2) 橋のかかった島では、急病の際に設備の整った病院にすぐに行けるようになった。

[問題](後期中間)

岡山・香川県間には、橋の開通により、どんな影響があったか。表から読み取れることを書け。

岡山・香川県間の所要時間

	フェリーとJR	瀬戸大橋(JR)
所要時間	120分	40分

[解答]橋の開通により所要時間が短縮された。

[問題](2 学期期末)

島根県浜田市と広島県北広島町を結ぶ自動車道を何とというか。

[解答]浜田自動車道

[解説]

1991年に島根県浜田市と広島県北広島町の間には浜田自動車道が全線開通した。山陰地方と瀬戸内地方が1時間程度で結ばれると、沿線の住民は中国山地をこえて広島市へ買い物に出かけるようになった。

◆社会地理の各ファイルへのリンク

<http://www.fdtype.com/dp/sc4/index.html>

◆FdData 中間期末の特徴(QandA 方式)

http://www.fdtype.com/dp/qanda_k.html

◆製品版(パソコン Word 文書：印刷・編集用)
の価格・購入方法

<http://www.fdtype.com/dp/seihin.html>

※ iPhone でリンク先が開かない場合は、
「iBooks」を開いてリンクをタップください。

【Fd 教材開発】 Mail : info2@fdtype.com