

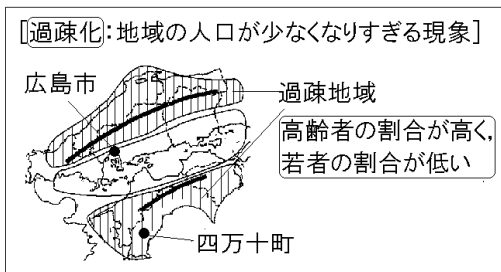
【FdData 中間期末：中学社会地理：中国・四国】  
【過疎化】

【問題】(前期中間)

中国・四国地方の山間部や離島には、人口が減少し、高齢化が進んで、社会生活を営むことが困難になっている地域が多い。このように、ある地域の人口が少なくなりすぎる現象を何というか。

【解答】過疎化

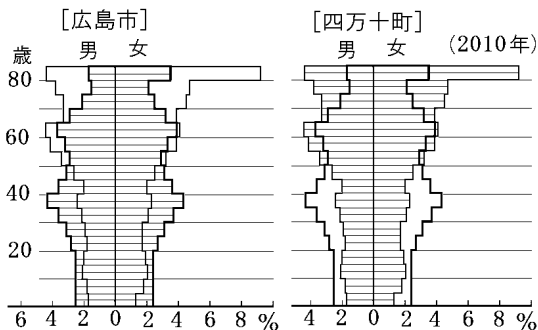
【解説】



中国・四国地方で人口が集中しているのは、広島県、岡山県などの瀬戸内地方の県である。人口が30万人をこえる都市の多くは、瀬戸内海の沿岸に集まっている。これに対し、中国山地や四国山地

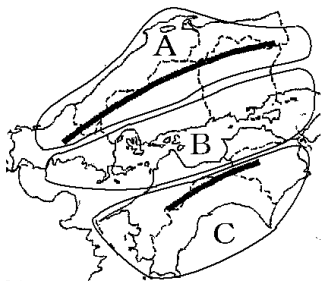
の山間部や離島では、地域の人口が少なくなりすぎる<sup>かそか</sup>過疎化が進んでいる。下の人口ピラミッドは、広島市と過疎化がすすんだ四万十町<sup>しまんとちょう</sup>を比較したものである。四万十町のような過疎地域では、高齢者<sup>こうれいしゃ</sup>の割合が高く、若者の割合が低い。

市町村の過疎化が進むと、地域の収入は減り医療や教育などといった公的なサービスの提供が難しくなる。



[問題](2 学期期末)

次の各問いに答えよ。

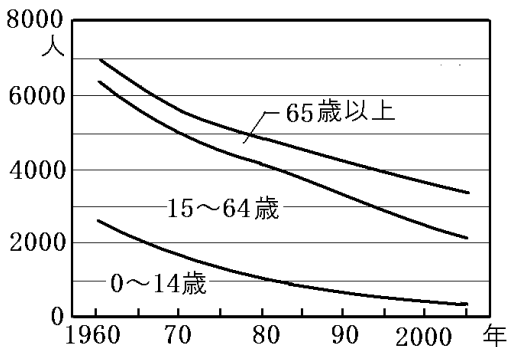


- (1) 過疎化とはどのような現象か。
- (2) 過疎化が問題となっている地域は地図中の A~C のどこか。すべて答えよ。

[解答](1) ある地域の人口が少なくなりすぎるこ  
と。 (2) A, C

[問題](2学期中間)

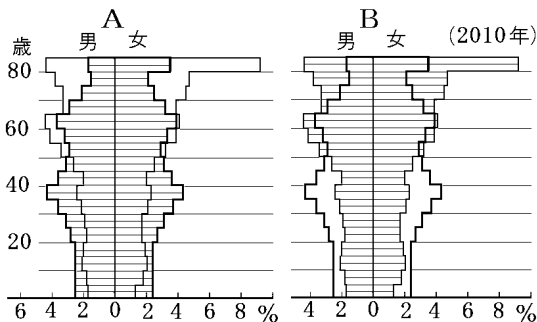
次のグラフは四万十町の人口の変化を示している。このグラフから読み取れることを2つ書け。



[解答]総人口が年々減少している。高齢者の割合が高くなり、若者の割合が低くなってきている。

[問題](後期中間)

下のグラフ A, B は広島市か四万十町のいずれかの人口ピラミッドである。次の各問いに答えよ。

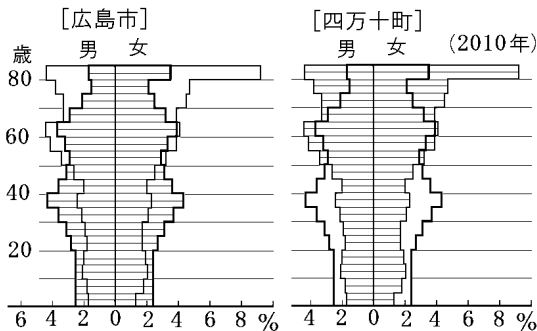
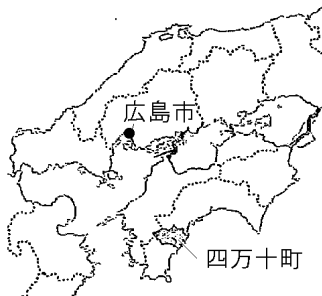


- (1) 上の 2 つの人口ピラミッドの中から四万十町のものを選び, 記号で答えよ。
- (2) (1)で選んだ四万十町の人口ピラミッドのような特徴をもつ町や村について, 次の説明文の( )にあてはまる漢字 1 字を答えよ。  
「過( )化が進んでいる。」

[解答](1) B (2) 疎

[問題](3学期)

次の各問いに答えよ。



- (1) 上の資料は、広島市と、高知県の四万十町の人口ピラミッドである。四万十町の人口構成の特色として読み取れることを説明せよ。
- (2) 四万十町のまちづくりを進めるうえで、課題となっていると考えられることを、「過疎化」の語句を使って説明せよ。

[解答](1) 高齢者の割合が高く、若者の割合が低い。  
(2) 過疎化が進むと、地域の収入が減り医療や教育などといった公的なサービスの提供が難しくなること。

[問題](2 学期期末)

次の資料について、各問いに答えよ。



- (1) このような田を何というか。
- (2) 「ゲゲゲの鬼太郎」の作者、水木しげるさんの出身地であることから、さまざまな妖怪オブジェや記念館をつくり、観光客を呼び込んでいるのは何県の何市か。

(3) これらのようなものを活用して地域の活性化を行うことを何とというか。

[解答](1) 棚田 (2) 鳥取県境港市

(3) 町おこし・村おこし

[解説]

過疎に直面する市町村では、地域の実状に応じたさまざまな町おこし・村おこしが行われている。

高知県ゆすはら檮原町では問題の左図のようなたなだ棚田を活用した町おこしが行われている。鳥取県さかいみなど境港市は「ゲゲゲの鬼太郎」の作者、水木しげるさんの出身地であることから、さまざまな妖怪オブジェや記念館をつくり、観光客を呼び込んでいる。



◆社会地理の各ファイルへのリンク

<http://www.fdtype.com/dp/sc4/index.html>

◆FdData 中間期末の特徴(QandA 方式)

[http://www.fdtype.com/dp/qanda\\_k.html](http://www.fdtype.com/dp/qanda_k.html)

◆製品版(パソコン Word 文書：印刷・編集用)  
の価格・購入方法

<http://www.fdtype.com/dp/seihin.html>

※ iPhone でリンク先が開かない場合は、  
「iBooks」を開いてリンクをタップください。

【Fd 教材開発】 Mail : [info2@fdtype.com](mailto:info2@fdtype.com)