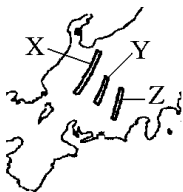


【問題】(2 学期期末)

次の各問いに答えよ。

- (1) 右の略地図の X, Y, Z の山脈名を次の [] からそれぞれ選べ。



[木曾山脈 飛驒山脈 赤石山脈]

- (2) 地図中の X~Z の山脈を含む山岳地帯は、標高 3,000m 前後の山々がそびえている。これらの地域は、その景観から何とよばれているか。

【解答】(1) X 飛驒山脈 Y 木曾山脈 Z 赤石山脈

(2) 日本アルプス

【解説】

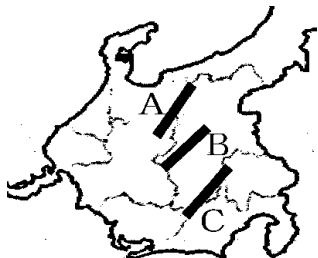
本州の中央部には、飛驒山脈、木曾山脈、赤石山脈があり、3000メートル前後の山がそびえ、日本アルプスとよばれている。



日本アルプスは、「日本の^{やね}屋根」ともよばれている。

[問題](3 学期)

次の略地図中の日本アルプスとよばれる山を、北から順に正しく表しているものをア～エから選べ。



- ア A : 飛驒山脈, B : 木曾山脈, C : 赤石山脈
- イ A : 木曾山脈, B : 飛驒山脈, C : 赤石山脈
- ウ A : 赤石山脈, B : 木曾山脈, C : 飛驒山脈
- エ A : 飛驒山脈, B : 赤石山脈, C : 木曾山脈

[解答]ア

[問題](3 学期)

地図中の X, Y, Z の山脈をあわせて何というか。



[解答]日本アルプス

[問題](3 学期)

日本アルプスではない山脈は次の[]のうち
のどれか。

[飛驒山脈 赤石山脈 木曾山脈 奥羽山脈]

[解答]奥羽山脈

[解説]

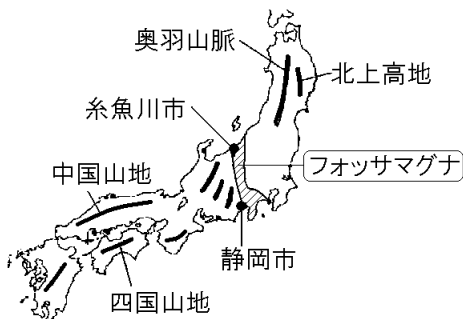
おうう
奥羽山脈は東北地方の中央部を南北に走っている。

[問題](2 学期期末)

新潟県と静岡県を結ぶ帯状のくぼ地(大地溝帯)
を何というか。カタカナで答えよ。

[解答]フォッサマグナ

[解説]

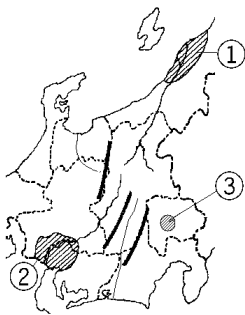


地球内部の力によって断層が生じて、深くくぼ地
ができることがある。こうしたくぼ地を地溝^{ちこう}とい
う。フォッサマグナは幅 100km以上の大地溝帯で、
その西側は新潟県糸魚川^{いといがわ}市と静岡県静岡市を結ぶ
線である。東側の線は、現在は、新しい土砂でう
まってしまっているためはつきりわからない。東
北日本では、奥羽^{おうう}山脈、北上^{きたかみ}高地のように山脈・
山地は南北に走っている。フォッサマグナや日本
アルプスあたりを境に、山脈・山地は向きを変え、
西南日本では、四国山地、中国山地のように東西
方向に走っている。

[問題](3学期)

地図中の①, ②, ③
にあてはまる地形名を
下の文を参考に答えよ。

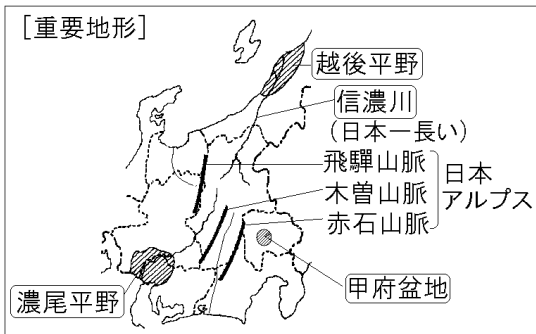
- ① 日本1長い川が流れる平野。
- ② 名古屋など大都市がある平野。
- ③ 扇状地が広がり果樹栽培がさかんな盆地。



[解答]① 越後平野 ② 濃尾平野 ③ 甲府盆地

[解説]

[重要地形]



日本アルプスから流れ出た^{しなのがわ}信濃川は、長野県から新潟県へ流れる日本一長い河川である。(長野県を流れる部分は千曲川とよばれる。) 信濃川の下流と阿賀野川下流の三角州にできた平野は、日本でも有数の水田単作地帯である^{えちご}越後平野である。

日本アルプスから太平洋側に流れ出る河川の上流部には^{こうふぼんち}甲府盆地などが点在しており、下流部には^{のうび}濃尾平野などの平野が広がっている。

[問題](3 学期)

次の各問いに答えよ。

- (1) 右図の A の河川は日本で最も長い川である。川の名前を答えよ。
- (2) A の河川の河口に広がる平野を次の[]から選べ。



[石狩平野 濃尾平野 筑紫平野
越後平野]

- (3) A の河川が流れている県名を漢字で2つ書け。

[解答](1) 信濃川 (2) 越後平野 (3) 長野県, 新潟県

[問題](前期期末)

次の各問いに答えよ。

- (1) 新潟県を流れる日本で一番長い川は何か。
- (2) (1)の川と阿賀野川下流の三角州にできた平野は、日本でも有数の水田単作地帯である。この平野は何か。

[解答](1) 信濃川 (2) 越後平野

[問題](2 学期中間)

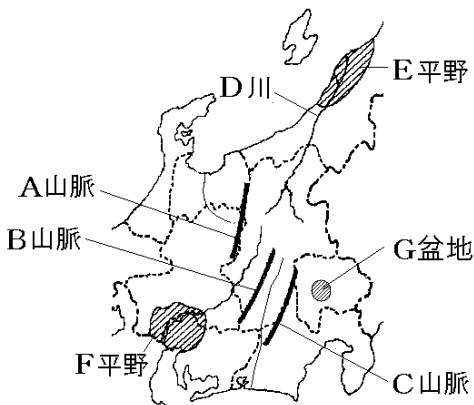
中部地方には、①日本で一番長い川と、②一番高い山がある。それぞれの名前を書け。

[解答]① 信濃川 ② 富士山

[問題](2 学期期末)

次の地図中の A~G にあてはまる地形名を、次から 1 つずつ選べ。

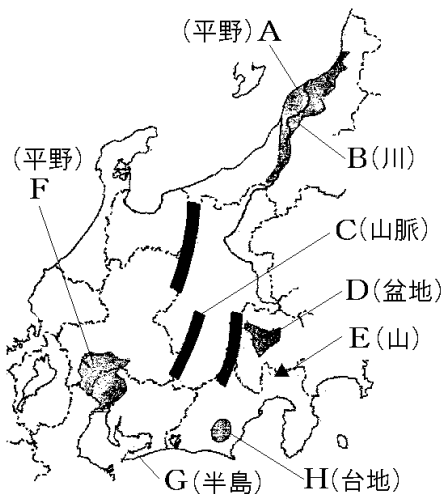
[赤石 越後 濃尾 甲府 信濃 飛驒
能登 木曾]



[解答]A 飛驒 B 木曾 C 赤石 D 信濃
E 越後 F 濃尾 G 甲府

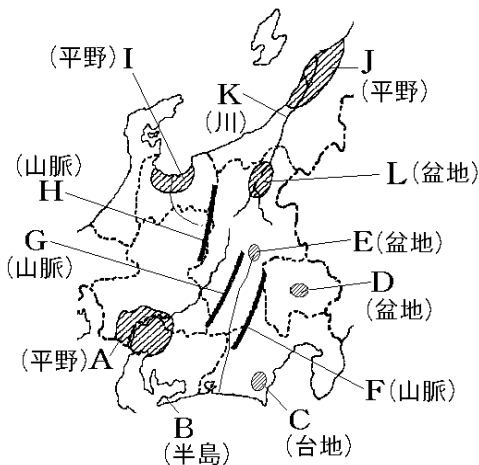
[問題](後期期末)

下の地図中のA~Hの地形名を答えよ。



[解答]A 越後平野 B 信濃川 C 木曾山脈
D 甲府盆地 E 富士山 F 濃尾平野
G 渥美半島 H 牧ノ原台地

[解説]



- | | | |
|------------------------------|------------------------------|---------------------------------|
| <small>のうび</small>
A 濃尾平野 | <small>あつみ</small>
B 渥美半島 | <small>まきのほら</small>
C 牧ノ原台地 |
| <small>こうふ</small>
D 甲府盆地 | <small>すわ</small>
E 諏訪盆地 | <small>あかいし</small>
F 赤石山脈 |
| <small>きそ</small>
G 木曾山脈 | <small>ひだ</small>
H 飛騨山脈 | <small>とやま</small>
I 富山平野 |
| <small>えちご</small>
J 越後平野 | <small>しなの</small>
K 信濃川 | L 長野盆地 |

◆社会地理の各ファイルへのリンク

<http://www.fdtype.com/dp/sc4/index.html>

◆FdData 中間期末の特徴(QandA 方式)

http://www.fdtype.com/dp/qanda_k.html

◆製品版(パソコン Word 文書：印刷・編集用)
の価格・購入方法

<http://www.fdtype.com/dp/seihin.html>

※ iPhone でリンク先が開かない場合は、
「iBooks」を開いてリンクをタップください。

【Fd 教材開発】 Mail : info2@fdtype.com