

【FdData 中間期末：中学社会地理：中部】

【気候】

【問題】(2 学期期末)

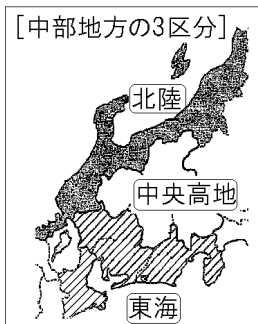
次の文の①～③に入れる適語を下の[ ]より選べ。

中部地方は、太平洋側の( ① ), 内陸部の( ② ), 日本海側の( ③ )という3つの地域に分けられる。

[ 北陸 関東 東海 中央高地 ]

【解答】① 東海 ② 中央高地 ③ 北陸

【解説】



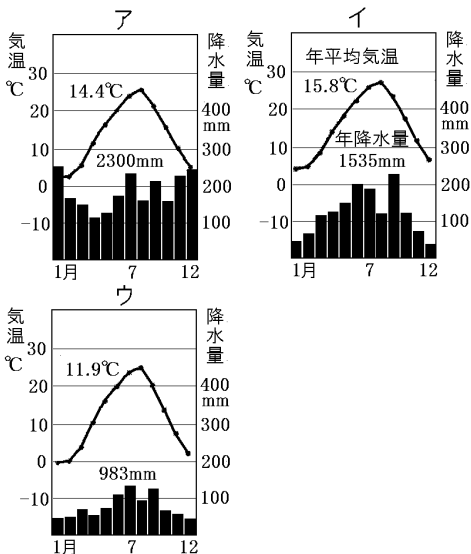
[問題](3学期)

次の各問いに答えよ。

(1) 中部地方を次の①～③の3つの地域に分けたときの名称をそれぞれ答えよ。

- ① 太平洋側の静岡県・愛知県・岐阜県南部
- ② 日本海側の新潟県・富山県・石川県・福井県
- ③ 3000m級の山々が連なる山梨県・長野県・岐阜県北部

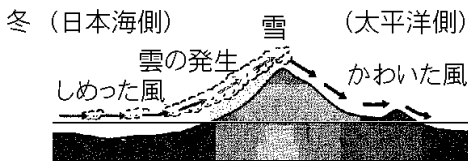
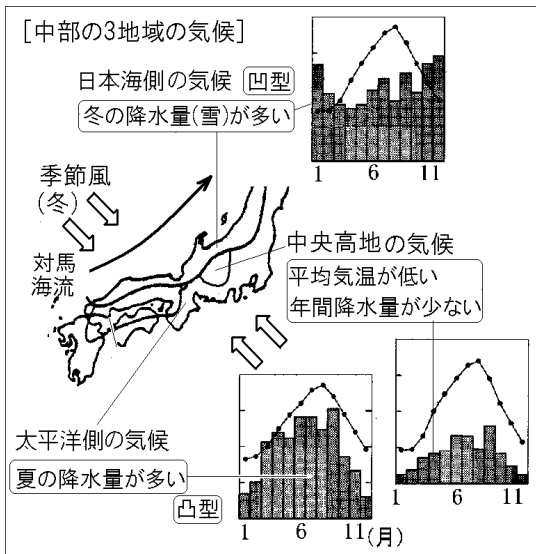
(2) (1)の①～③の地方に属する都市の雨温図を、次のア～ウからそれぞれ選べ。



[解答](1)① 東海 ② 北陸 ③ 中央高地

(2)① イ ② ア ③ ウ

[解説]



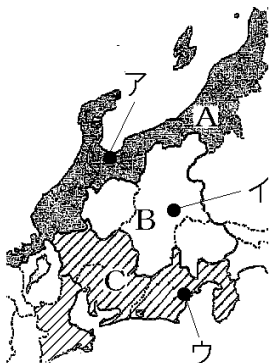
中部地方の気候は、図のように日本海側の気候・中央高地の気候・太平洋側の気候の3つに分ける

ことができる。

この 3 つの気候の大きな違いは季節ごとの降水量である。冬には北西の季節風が吹くが、この季節風は日本海を通るときに暖流である対馬海流から大量の湿気を与えられる。湿った季節風が日本列島に達し、山脈・山地で上昇気流ができて雲ができ、日本海側に多量の雪をもたらす。したがって、日本海側では冬(とくに12月・1月)の降水量が多くなり、雨量を示す棒グラフは凹型になる。この季節風が山脈・山地をこえて内陸から太平洋岸を通るときは、乾燥しているため、雨は降りにくい。したがって、冬の太平洋側や内陸の降水量は少なくなる。逆に、夏には南東の季節風が吹くため、太平洋側の降水量が多くなり、雨量を示す棒グラフは凸型になる。夏の日本海側や内陸の降水量は比較的少ない。内陸は冬も夏も降水量が少ないため、年間の降水量は太平洋側の半分程度である。冬の降水量の方が少ないため棒グラフの形は凸型になる。また、中央高地は標高が高いため、平均気温が低い。以上より、問題の雨温図のアは日本海側、イが太平洋側、ウが内陸にある中央高地のものであることがわかる。

[問題](3学期)

次の各問いに答えよ。



(1) 地図中のA～Cにあてはまる地域名を答えよ。

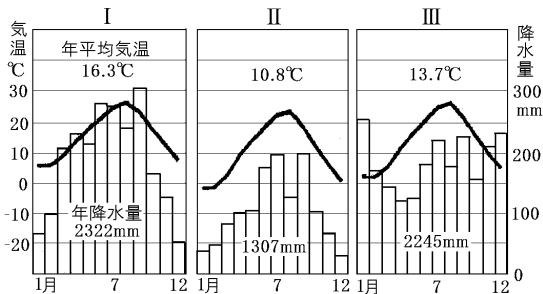
(2) 地図中のA～Cの地域の特色を示した次の各文の①～④にあてはまる語句をそれぞれ書け。

A 大きな平野が多く、冬に北西の( ① )の影響で雪が多い。

B 山間の( ② )に人口や産業が集中。冬は寒く降水量は( ③ )い。

C 冬でも比較的温暖で、降水量は夏に多い。中部地方最大の都市である( ④ )市などに人口が集中している。

(3) 次のⅠ～Ⅲの雨温図にあてはまる都市を、地図中のア～ウから1つずつ選べ。



[解答](1)A 北陸 B 中央高地 C 東海

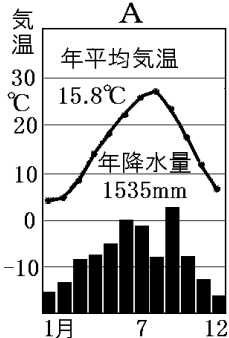
(2)① 季節風 ② 盆地 ③ 少な ④ 名古屋

(3)Ⅰ ウ Ⅱ イ Ⅲ ア

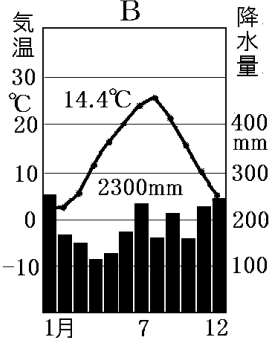
[問題](2学期中間)

中部地方は、その自然環境などから、東海地方・中央高地・北陸地方の3つに分けられる。それぞれの地方にあてはまる雨温図を次のA～Cより選べ。また、なぜその雨温図を選んだか、それぞれその理由を簡潔に答えよ。

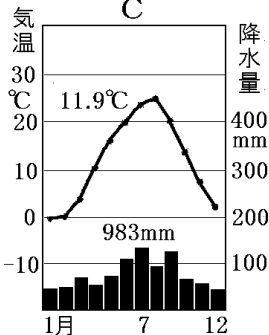
A



B



C



[解答]東海地方：A，夏の降水量が多いから。  
中央高地：C，年間の降水量が少なく，平均気温も低いから。  
北陸地方：B，冬の降水量が多いから。

[問題](3 学期)

地図中の X，Y はそれぞれ金沢市と名古屋市をあらわしている。この 2 都市は同じ中部地方に位置しているにもかかわらず，冬の気候に大きな違いがある。この違いを冬の降水量に着目して簡潔に説明せよ。



[解答]冬，金沢は降水量が多く，名古屋は降水量が少ない。



[問題](2 学期期末)

次の文中の①, ②にあてはまる語句を書け。

次の資料のような家の造りを( ① )といい、  
北陸など雪が多い( ② )地帯で見られる。



[解答]① 合掌造り ② 豪雪

[解説]

図のような家の造り

を<sup>がっしょうづく</sup>合掌造りという。

屋根の<sup>けいしゃ</sup>傾斜が

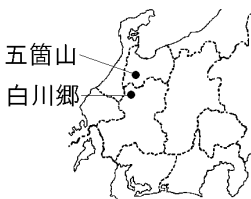
<sup>きゅうこうばい</sup>急勾配になっ

ているのは、<sup>ごうせつ</sup>豪雪による

雪下ろしの作業軽減のためである。合掌造りの集

落としては、世界文化遺産に登録されている<sup>しらかわ</sup>白川

<sup>ごう</sup>郷と<sup>ごかやま</sup>五箇山が有名である。



◆社会地理の各ファイルへのリンク

<http://www.fdtype.com/dp/sc4/index.html>

◆FdData 中間期末の特徴(QandA 方式)

[http://www.fdtype.com/dp/qanda\\_k.html](http://www.fdtype.com/dp/qanda_k.html)

◆製品版(パソコン Word 文書：印刷・編集用)  
の価格・購入方法

<http://www.fdtype.com/dp/seihin.html>

※ iPhone でリンク先が開かない場合は、  
「iBooks」を開いてリンクをタップください。

【Fd 教材開発】 Mail : [info2@fdtype.com](mailto:info2@fdtype.com)