

## 【FdData 中間期末：中学社会地理：関東】

### [地形]

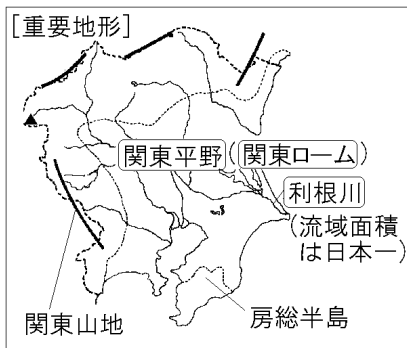
#### [問題](2学期中間)

次の各問いに答えよ。

- (1) 日本で最も広い平野の名前を答えよ。
- (2) (1)の平野の火山灰が堆積した赤土を何というか。
- (3) (1)の平野を流れる流域面積が日本最大の川の名前を答えよ。

[解答](1) 関東平野 (2) 関東ローム (3) 利根川

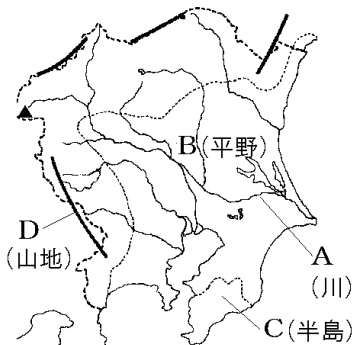
#### [解説]



関東地方には、利根川など多くの河川が流れていて、それらが日本最大の関東平野をつくっている。関東平野は、大量の火山灰が降りつもった関東ロームとよばれる赤土におおわれており、おもに畑や市街地に利用されている。千葉県と茨城県の県境になっている利根川は日本一の流域面積をもっている。関東平野の西部には関東山地がある。

[問題](3 学期)

次の地図をみて、各問いに答えよ。

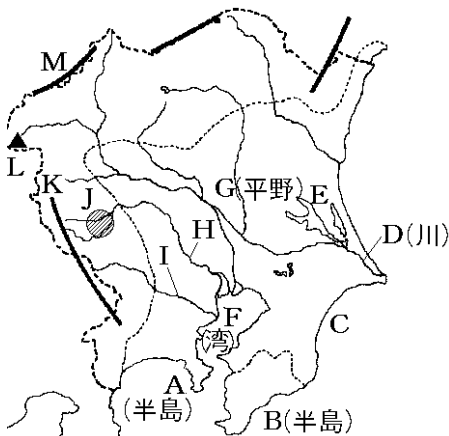


- (1) 流域面積が日本最大である A の川の名称を答えよ。
- (2) A の川などが土砂を運び、日本最大の平野となった B の平野の名称を答えよ。

- (3) Bの平野は、火山灰が堆積し赤土におおわれている。この赤土のことを何とよいか。  
 (4) Cの半島、Dの山地の名称を答えよ。

[解答](1) 利根川 (2) 関東平野 (3) 関東ローム  
 (4) C 房総半島 D 関東山地

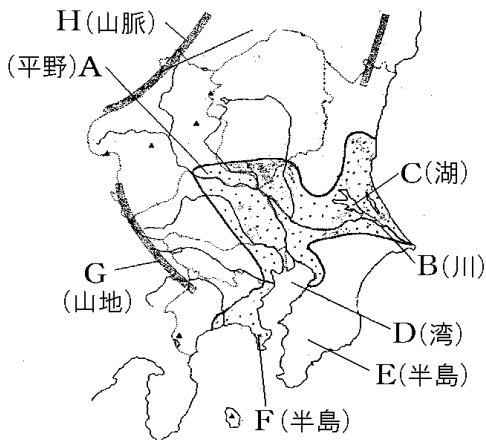
[解説]



- A みうら 三浦半島    B ぼうそう 房総半島    C くじゅうくり 九十九里浜  
 D とね 利根川    E かすみがうら 霞ヶ浦    F 東京湾  
 G 関東平野    H あら 荒川    I たま 多摩川  
 J ちちぶ 秩父盆地    K 関東山地    L あさま 浅間山  
 M えちご 越後山脈

[問題](3学期)

次の地図を見て、各問いに答えよ。

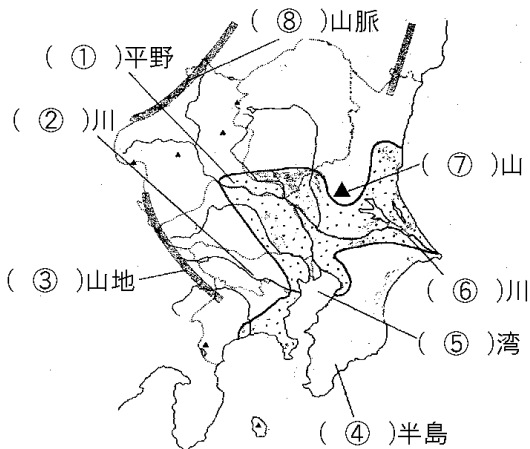


- (1) 地図中のA～Hの地形名を答えよ。
- (2) 地図中のAの平野は、火山灰が堆積した赤土におおわれている。この赤土を何とよぶか。

[解答](1) A 関東平野 B 利根川 C 霞ヶ浦  
D 東京湾 E 房総半島 F 三浦半島 G 関東山地 H 越後山脈 (2) 関東ローム

[問題] (3 学期)

次の地図中の①～⑧にあてはまる名称を、下の [ ] の中からそれぞれ選べ。(ただし、同じ語句を2度使ってもよい。)



[ 荒 隅田 利根 多摩 浅間 榛名 筑波  
富士 三浦 房総 関東 江戸 東京  
越後 赤石 ]

[解答] ① 関東 ② 多摩 ③ 関東 ④ 房総  
⑤ 東京 ⑥ 利根 ⑦ 筑波 ⑧ 越後

◆社会地理の各ファイルへのリンク

<http://www.fdtype.com/dp/sc4/index.html>

◆FdData 中間期末の特徴(QandA 方式)

[http://www.fdtype.com/dp/qanda\\_k.html](http://www.fdtype.com/dp/qanda_k.html)

◆製品版(パソコン Word 文書：印刷・編集用)  
の価格・購入方法

<http://www.fdtype.com/dp/seihin.html>

※ iPhone でリンク先が開かない場合は、  
「iBooks」を開いてリンクをタップください。

【Fd 教材開発】 Mail : [info2@fdtype.com](mailto:info2@fdtype.com)