

## 【FdData 中間期末：中学社会地理：関東】

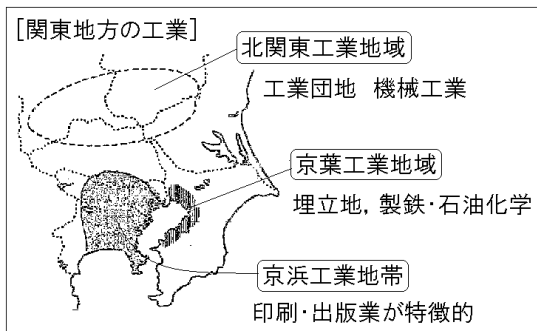
### 【工業】

#### 【問題】(2学期中間)

日本有数の工業地帯で、重化学工業中心であるほか、出版・印刷業もさかんである、関東地方にある工業地帯の名前を何というか。

【解答】京浜工業地帯

【解説】



けいひんこうぎょうちたい

京浜工業地帯は、東京都・神奈川県(川崎市や横浜市)・埼玉県にまたがる工業地帯である。原料・製品の輸出入に便利な港湾(東京港・川崎港・横浜港)のある臨海部<sup>りんかいぶ</sup>では鉄鋼業や化学工業が発達し

ており、内陸部では機械工業が発達している。また、印刷・出版業がさかんであるが、それは、政治・経済・文化の中心で情報が得やすいためである。

京葉工業地域は、1960年代以降、千葉の臨海部の埋立地に石油化学コンビナートや製鉄所がつくられ、工業地域ができた。

人口が増加して、住宅地やビルが増えてくると、工場を新しくつくったり広げたりするための用地を得ることが難しくなった。そのため京浜工業地帯では、1990年代以降、工場の移転や閉鎖が増えている。これらの多くの工場の移転先になったのが、栃木県や群馬などの東京から比較的近い北関東の地域である。ここでは、もともと繊維工業がさかんであったが、広い土地が安く得られ、働く人も確保しやすかったので、輸送に便利な高速道路の近くに、機械工業の工場ができた。さらに地元で働く場所をつくろうと、県や市町村が工業団地をつくって工場を誘致したため、京浜工業地帯から移転する工場が増えた。こうして北関東工業地域は、電気機械や自動車などを組み立てる機械工業がさかんになった。

[問題](3 学期)

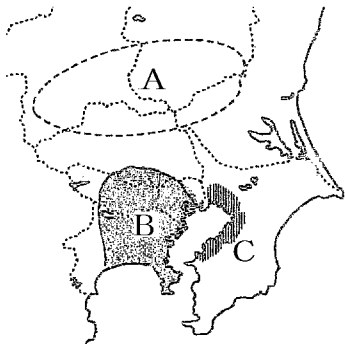
次の各問いに答えよ。

- (1) 東京都と神奈川県の臨海部を中心に広がる工業地帯名を答えよ。
- (2) ①群馬県, ②千葉県が含まれる工業地域名をそれぞれ答えよ。

[解答](1) 京浜工業地帯 (2)① 北関東工業地域  
② 京葉工業地域

[問題](1 学期期末)

次の文にあてはまる工業地帯、工業地域を地図中のA～Cから選べ。また、工業地帯名・工業地域名を書け。



- ① 東京から横浜にかけての有数の工業地帯で、重化学工業が中心だが、出版・印刷なども特徴的である。
- ② 1960年代以降、千葉の臨海部の埋立地に石油化学コンビナートや製鉄所がつくられ、工業地域ができた。
- ③ ①の工業地帯から群馬・栃木県などへ工場を移転し、工業団地がつけられた。

[解答]① B, 京浜工業地帯 ② C, 京葉工業地域  
③ A, 北関東工業地域

[問題](3 学期)

関東地方の産業に関する以下の文中の①～③にあてはまる適切な語句を書け。

東京湾の臨海部には( ① )工業地帯や( ② )工業地域が発達している。また、内陸部にも工業地域が形成され、埼玉、栃木、群馬には( ③ )団地が点在している。

[解答]① 京浜 ② 京葉 ③ 工業

[問題](3 学期)

次の各問いに答えよ。



- (1) 略地図中 A の工業地域名を答えよ。
- (2) (1)の工業地域の都市として適さないものを次の[ ]より1つ選べ。  
[ 太田市 船橋市 前橋市 桐生市 ]

- (3) (1)の工業地域で工業がさかんになった理由を「京浜工業地帯」「土地」の2語を使って答えよ。

[解答](1) 北関東工業地域 (2) 船橋市 (3) 広い土地が安く得られ、働く人も確保しやすかったの  
で、京浜工業地帯から工場が移転してきたから。

[解説]

(2) 船橋市は千葉県の都市である。

[問題](後期中間)

1990年代以降、京浜工業地帯から北関東工業地域に工場の移転が見られたが、その理由として適当でないものを次のア～エから選べ。

- ア 京浜工業地帯では、工場を広げるのが難しくなったから。
- イ 北関東工業地域は、大きな港が多数あり、原料の輸入や製品の輸出に便利だから。
- ウ 北関東工業地域は、県や市町村が地元で働く場所を作ろうと工業団地を作ったから。
- エ 北関東工業地域は、地価が安いので広い土地も得られ、働く人も確保しやすかったから。

[解答]イ

[解説]

イが誤り。北関東工業地域は内陸の工業地域である。

[問題](1 学期中間)

次の各問いに答えよ。

- (1) 北関東工業地域ではどのような工業がもっともさかんか。次の[ ]から1つ選べ。

[ 金属 化学 機械 繊維 ]

- (2) 北関東工業地域では工業団地が増えているが、その要因として考えられることを、次のア～エから1つ選べ。

ア 高速道路が増え、多くの人たちが通り過ぎるようになったから。

イ 新幹線などの鉄道を利用して多くの人たちが遊びに来るようになったから。

ウ 高速道路などによって物流がさかんになったから。

エ 道路の整備によって原料となる石油などを運搬しやすくなったから。

[解答](1) 機械 (2) ウ

【問題】(後期期末)

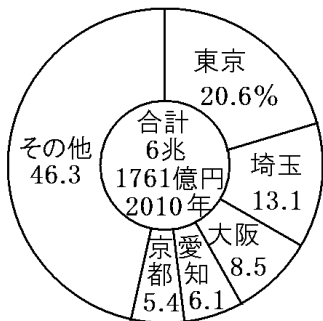
東京都は「印刷・出版業」がさかんであるが、それはなぜか。理由を答えよ。

【解答】政治・経済・文化の中心で情報が得やすいため。

【問題】(後期中間)

次のグラフは、ある工業の出荷額を表している。何に関連する工業を表しているか、次の[ ]から正しいものを1つ選べ。

[ 電気機械 印刷・出版 自動車 化学工業 ]



【解答】印刷・出版



◆社会地理の各ファイルへのリンク

<http://www.fdtype.com/dp/sc4/index.html>

◆FdData 中間期末の特徴(QandA 方式)

[http://www.fdtype.com/dp/qanda\\_k.html](http://www.fdtype.com/dp/qanda_k.html)

◆製品版(パソコン Word 文書：印刷・編集用)  
の価格・購入方法

<http://www.fdtype.com/dp/seihin.html>

※ iPhone でリンク先が開かない場合は、  
「iBooks」を開いてリンクをタップください。

【Fd 教材開発】 Mail : [info2@fdtype.com](mailto:info2@fdtype.com)