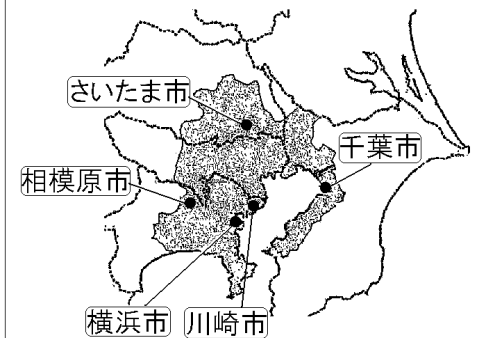


[解説]

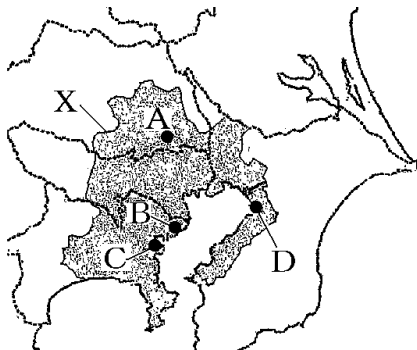
[東京大都市圏の5つの政令指定都市]



都心から放射状ほうしゃじょうにのびる鉄道に沿って、神奈川県、埼玉県、千葉県に広がっている地域を東京大都市圏だいでとしけんという。東京大都市圏には、東京 23 区のほかに、横浜市よこはまし(人口 363 万人)、川崎市かわさきし(139 万人)、相模原市さがみはらし(70 万人)、さいたま市(122 万人)、千葉市ちばし(94 万人)の 5 つの政令指定都市せいれいしていとしがある。政令指定都市は、政府によって指定を受けた都市で、市民の健康や福祉ふくしに関する多くの事務を都道府県にかわって行う。また、市域を複数の行政区に分けて区役所を設置する。

[問題](3 学期)

下の地図中の A～D は政令指定都市である。次の各問いに答えよ。



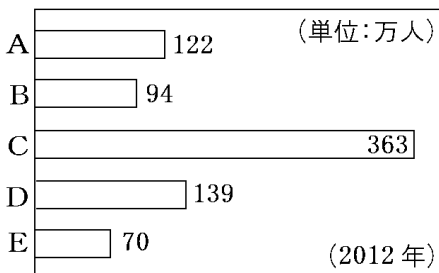
- (1) 地図中の X の地域に広がる都市圏を何というか。
- (2) 地図中の A～D の都市名を答えよ。

[解答](1) 東京大都市圏 (2) A さいたま市
B 川崎市 C 横浜市 D 千葉市

[問題](3 学期)

次の資料を見て、各問いに答えよ。

関東地方の政令指定都市の人口



- (1) C にあてはまる都市名を書け。
- (2) これらの都市で形成されている都市圏の名称を書け。
- (3) E の都市名を書け。ちなみに A~C は県庁所在地である。

[解答](1) 横浜市 (2) 東京大都市圏

(3) 相模原市

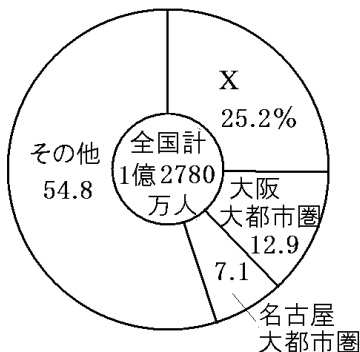
[解説]

A はさいたま市, B は千葉市, C は横浜市, D は川崎市, E は相模原市である。

[問題](2学期期末)

次の各問いに答えよ。

三大都市圏の人口比率(2011年)



- (1) 資料中の X にあてはまる語句を書け。
- (2) X の人口は、全国の約何分の 1 か。
- (3) X のように人口が集中しすぎる現象を何というか。

[解答](1) 東京大都市圏 (2) 約 4 分の 1
(3) 過密

[問題](3 学期)

次の文を読んで、地図中の X, Y の空港名をそれぞれ書け。



X : 国内線の中心であるが、アジアを中心に国際線も就航している。

Y : 国際線の中心であり、港湾別の貿易額は日本最大である。

[解答] X 東京国際空港 Y 成田国際空港

[解説]

[空港]

東京国際空港 国内線中心+国際線



成田国際空港

国際線中心

輸出入とも全国1位

東京都羽田の東京国際空港は国内線中心であるが、アジアを中心に国際線も就航している。千葉県成田市にある成田国際空港は国際線が中心である。成田国際空港は、貿易額が輸出入とも全国1位である。

【問題】(3 学期)

地図中の X, Y の空港名を次の[]内から選び、それぞれの説明文として最も適するものをア～ウから選べ。



- [東京国内空港 成田国際空港 東京国際空港]
- ア 国際線中心で港湾別の貿易額では日本最大である。
 - イ 国内線のみが就航しており、地方と首都を結ぶ役割を果たしている。
 - ウ 国内線中心であるが、アジアを中心に国際線も就航している。

[解答]X 東京国際空港, ウ Y 成田国際空港, ア

[問題](3 学期)

次の文の①, ②に適語を入れよ。

関東地方の航空交通では, 羽田の(①)空港が国内線の, 成田の(②)空港が国際線の中心となっている。

[解答]① 東京国際 ② 成田国際

[問題](2 学期期末)

次の各問いに答えよ。

- (1) 千葉県の浦安市にある夢にあふれた大レジャーランドは何か。
- (2) 東京の新名所となったタワーは何か。

[解答](1) 東京ディズニーランド

(2) 東京スカイツリー

[問題](2 学期期末)

現在、関東平野付近の山地では、若い世代が就職や進学で都市圏に移動し、人口の減少が進んでいる。こうした現象を何とというか。

[解答]過疎化

◆社会地理の各ファイルへのリンク

<http://www.fdtype.com/dp/sc4/index.html>

◆FdData 中間期末の特徴(QandA 方式)

http://www.fdtype.com/dp/qanda_k.html

◆製品版(パソコン Word 文書：印刷・編集用) の価格・購入方法

<http://www.fdtype.com/dp/seihin.html>

※ iPhone でリンク先が開かない場合は、
「iBooks」を開いてリンクをタップください。

【Fd 教材開発】 Mail : info2@fdtype.com