

【FdData 中間期末：中学社会地理：東北】

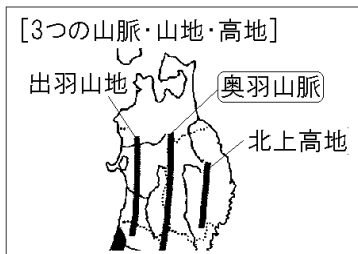
[地形]

[問題](2学期中間)

東北地方の中央部を南北に走っている山脈の名前を答えよ。

[解答]奥羽山脈

[解説]



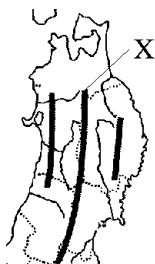
東北地方の中央部を^{おううさんみやく}奥羽山脈が南北に走っている。奥羽山脈によって、日本海側と太平洋側では気候が分かれる。日本海側は冬に雪が多く、太平洋側は夏に雨が多い。奥羽山脈は南北に走っているため、東西の交通が妨げられ、昔は人々の行動範囲が制限されたことで、地域ごとの違った伝統が発達した。東北の大動脈である東北自動車道は

奥羽山脈の東側を通っている。奥羽山脈の西側に出羽山地、東側に北上高地がある。

[問題](3 学期)

次の各問いに答えよ。

- (1) 右の略地図中の、東北地方の中央を南北に走っている大きな山脈 X の名前を答えよ。
- (2) 山脈 X による影響について誤っているものをア～エから 1 つ選べ。

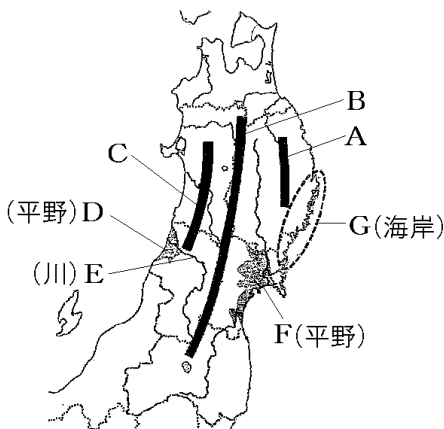


- ア この山脈によって、南北の交通が妨げられている。
- イ この山脈によって、日本海側と太平洋側では気候が分かれ、太平洋側は夏に多く雨が降る。
- ウ 東北の大動脈である東北自動車道はこの山脈の東側を通っている。
- エ 山脈により、人々の行動範囲が制限されたため、地域ごとの違った伝統が発達した。

[解答](1) 奥羽山脈 (2) ア

[問題](3 学期)

次の各問いに答えよ。



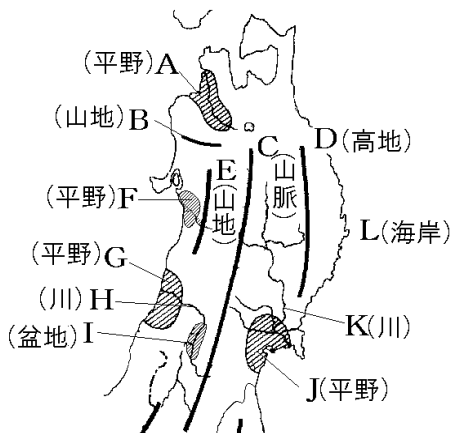
(1) 地図中の A～G の地形名を、次の[]からそれぞれ選べ。

[庄内平野 奥羽山脈 最上川 北上川
三陸海岸 九十九里浜 出羽山地
北上高地 仙台平野]

(2) G の海岸の南部は、山地が太平洋までせまり海岸線が複雑になっている。このような地形を何というか。

[解答](1)A 北上高地 B 奥羽山脈 C 出羽山地
 D 庄内平野 E 最上川 F 仙台平野
 G 三陸海岸 (2) リアス海岸

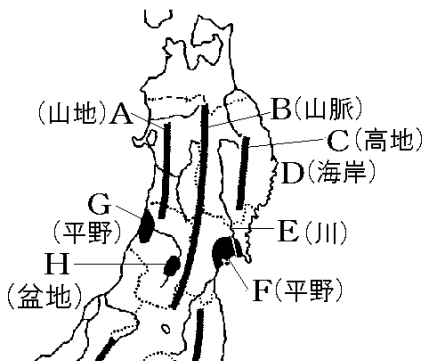
[解説]



<small>つがる</small> A 津軽平野	<small>しらかみ</small> B 白神山地	<small>おうう</small> C 奥羽山脈
<small>きたかみ</small> D 北上高地	<small>でわ</small> E 出羽山地	F 秋田平野
<small>しょうない</small> G 庄内平野	<small>もがみ</small> H 最上川	I 山形盆地
J 仙台平野	K 北上川	
<small>さんりく</small> L 三陸海岸(リアス海岸)		

[問題](1 学期期末)

次の地図を見て、各問いに答えよ。

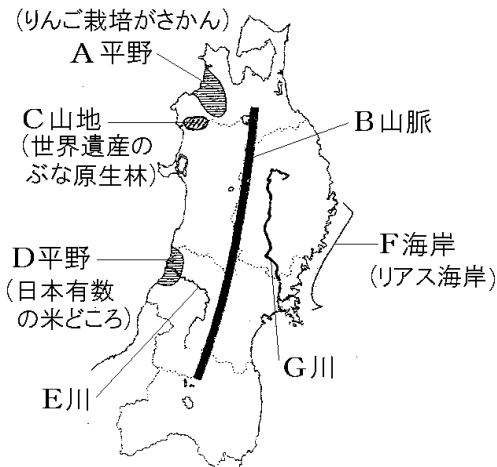


- (1) A～H の地形名を書け。
- (2) D の海岸の南部は、山地が太平洋までせまり海岸線が複雑になっている。このような地形を何というか。

[解答](1)A 出羽山地 B 奥羽山脈 C 北上高地
D 三陸海岸 E 北上川 F 仙台平野 G 庄内平野 H 山形盆地 (2) リアス海岸

[問題](1学期中間)

地図中の A~G にあてはまる地形名を、下の [] の中から選んで書け。



[白神 出羽 奥羽 阿武隈 北上 蔵王 男鹿
三陸 庄内 津軽 雄物 最上]

[解答]A 津軽 B 奥羽 C 白神 D 庄内
E 最上 F 三陸 G 北上

[問題](3学期)

岩手県の東にある三陸海岸では、右図のような地形が見られる。このような地形を何というか。



[解答]リアス海岸

[解説]

[三陸海岸南部: **リアス海岸**]

狭くて深い湾が複雑に入り組んでいる
漁港, **養殖漁業**に適する

地震による**津波**→大きな被害

(東日本大震災の大津波)



三陸海岸

^{さんりく}三陸海岸南部は、山地が太平洋までせまり、狭くて深い湾が複雑に入り組んだリアス海岸となっている。湾の水深が深いので入り江は漁港などに適した地形となっている。また、湾内は波が静かなので、かきやこんぶなど魚貝類の^{ぎょこう}養殖にむいている。

しかし、地震の際に津波^{つなみ}が発生すると、おしよせる大波が急にせまい所におしこめられたようになって高さを増すので、大きな被害が発生しやすい。

2011年3月11日の東日本大震災^{だいしんさい}で三陸海岸など東北地方の太平洋岸を大津波がおそい、^{かいめつてき}壊滅的な被害をもたらした。三陸海岸以外にも、福島県にある原子力発電所などで深刻な被害が発生した。

[問題](後期中間)

次の文の①, ②の()内よりそれぞれ適語を選べ。

三陸海岸の南部の海岸線は, ①(砂浜がなめらかに続いて／狭くて深い湾が複雑に入り組んで)いる。この海岸では, ②(地震／台風)の際に津波の被害が大きくなる危険がある。

[解答]① 狭くて深い湾が複雑に入り組んで

② 地震

[問題](3 学期)

右の地図のXの三陸海岸は、リアス海岸になっている。その特徴について、正しく説明している文章をア～エから1つ選べ。



ア 大きな船が入る港を建設しやすく、日本でも有数の貿易港がある。

イ 遠くまで浅い海が続いている。海の環境浄化に役立つ干潟がみられるところもある。

ウ この海岸では何か所か海底をほって港ができている。港の周りには大きな工場が多く見られる。

エ 港を出ると急に深くなっている。かきやこんぶなど魚貝類の養殖にむいている。

[解答]エ

[問題](2 学期期末)

東日本大震災で原子力発電所が大きな被害を受けたが、その原子力発電所のあった県名を答えよ。

[解答]福島県

[問題](2 学期中間)

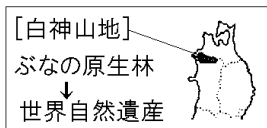
日本で最初の世界遺産の1つとして登録された、ぶなの原生林が広がる山地の名前を答えよ。

[解答]白神山地

[解説]

青森県と秋田県の県境に位置する^{しらかみ}白神山地には人間の手が加わっていない広い

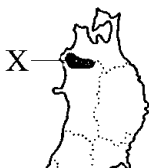
^{げんせいりん}ぶなの原生林があり、その面積は世界最大級である。1993年に^{いさん}世界自然遺産に登録された。



[問題](3 学期)

次の各問いに答えよ。

- (1) 世界遺産に登録されている右の地図中の X の山地名を書け。
- (2) X の山地の何が世界遺産に登録されているのか。



[解答](1) 白神山地 (2) ぶなの原生林

◆社会地理の各ファイルへのリンク

<http://www.fdtype.com/dp/sc4/index.html>

◆FdData 中間期末の特徴(QandA 方式)

http://www.fdtype.com/dp/qanda_k.html

◆製品版(パソコン Word 文書：印刷・編集用)
の価格・購入方法

<http://www.fdtype.com/dp/seihin.html>

※ iPhone でリンク先が開かない場合は、
「iBooks」を開いてリンクをタップください。

【Fd 教材開発】 Mail : info2@fdtype.com