


【FdData 中間期末：中学社会地理：東北】

[農業：果樹]

[問題](2 学期期末)

次のグラフは、ある農産物の都道府県別生産割合を示したものである。農産物名を書け。



[解答]りんご

[解説]

[果実の生産順位]

りんご：青森(56%)，長野(21%)，岩手(6%)

さくらんぼ：山形(77%)，北海道(6%)

東北地方には、果樹
栽培に適した山の斜面
や扇状地が多いので、
さまざまな果実が栽培
されている。青森県は

日本1位のりんごの生産県で、全国の約半分の量
にあたるりんごを生産している。中心地は、弘前



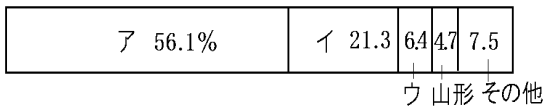
市を中心とした^{つがる}津軽平野である。りんごの生産第2位は中部地方の長野県で、3, 4位に東北地方の岩手県と山形県がはいる。

山形県は、さくらんぼ(おうとう)の生産量が日本1位である。最上川の中流に位置する山形盆地では、りんごやさくらんぼなどの果樹栽培がさかんである。

[問題](後期期末)

次のグラフは、りんごの県別生産量を表している。岩手県を表しているのは、ア～ウのうちどれか。

りんごの県別生産(2011年)(65.5万t)



[解答]ウ

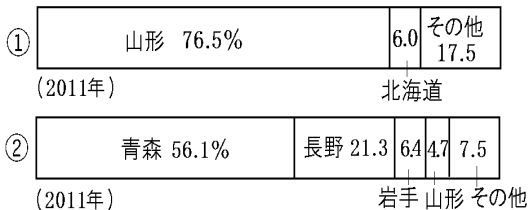
[問題](3学期)

さくらんぼの生産が日本1位の県名を答えよ。

[解答]山形県

[問題](3 学期)

下のグラフは果実の県別生産量を示したものである。それぞれ何という果実か。



[解答]① さくらんぼ(おうとう) ② りんご

[問題](1 学期中間)

次の各問いに答えよ。

	生産量	生産県(道)順位
①	852.3 万 t (2012 年)	新潟(7.7%), 北海道(7.5), 秋田(6.1), 茨城(4.8), 山形(4.7)
②	2.0 万 t (2011 年)	山形(76.5%), 北海道(6.0)

(1) 上のグラフ①, ②で示した農産物を次から 1 つずつ選べ。

[ぶどう さくらんぼ りんご 小麦 米]

(2) (1)の①, ②の農産物のおもな生産地を, 次から 1 つずつ選べ。

[平野 雪の多い山間地
扇状地や山の斜面]

[解答](1)① 米 ② さくらんぼ (2)① 平野

② 扇状地や山の斜面

[問題](2学期中間)

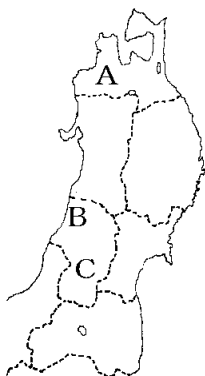
右の地図中のA～Cの地域で見られることとして正しいものを次からそれぞれ選べ。

ア 最上川の下流に位置する庄内平野は、稲作がさかんで水田単作地帯となっている。

イ 岩木川沿いに開けた津軽平野では、寒くても収穫が安定しているりんごの栽培が稲作より早く広まった。

ウ 最上川の中流に位置する山形盆地では、りんごや西洋なし、さくらんぼなどの果樹栽培がさかんである。

エ 日本で2番目に広がった湖の八郎潟を干拓し、広大な稲作地とした結果、一時は全国1位の米の生産県になった。



[解答]A イ B ア C ウ

[解説]

エは秋田県である。

◆社会地理の各ファイルへのリンク

<http://www.fdtype.com/dp/sc4/index.html>

◆FdData 中間期末の特徴(QandA 方式)

http://www.fdtype.com/dp/qanda_k.html

◆製品版(パソコン Word 文書：印刷・編集用)
の価格・購入方法

<http://www.fdtype.com/dp/seihin.html>

※ iPhone でリンク先が開かない場合は、
「iBooks」を開いてリンクをタップください。

【Fd 教材開発】 Mail : info2@fdtype.com