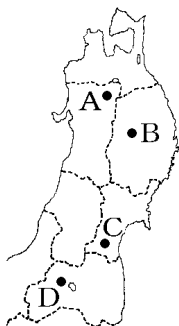



【FdData 中間期末：中学社会地理：東北】

【伝統産業】

【問題】(3 学期)

次の各問いに答えよ。



- (1) 図のような伝統的工芸品を何というか。次から1つ選べ。
[津軽塗 南部鉄器 天童将棋駒
伝統こけし]
- (2) 地図中のA～Dの都市のうち、(1)を伝統的工芸品としている都市を1つ選べ。
- (3) 伝統産業が東北の各地で発達した理由を答えよ。

[解答](1) 南部鉄器 (2) B (3) 雪に閉ざされた冬の期間の副業として発達した。

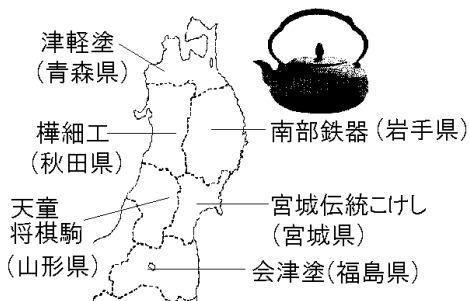
[解説]

[伝統産業]

伝統工芸品：**南部鉄器**(岩手県盛岡市)など

発達の理由：**雪に閉ざされた冬の副業**

問題点：輸入品の増加, 職人の高齢化



東北地方では、冬は雪におおわれるため農業を行うことができず、農業収入を得ることができなかった。そこで、冬の期間に家内で行う仕事として地元の森林資源や鉱産資源を利用しながら、こけしや家具、鉄器などのさまざまな^{でんとうてきこうげいひん}伝統的工芸品がつくられてきた。すなわち、東北地方では、雪に

閉ざされた冬の期間の副業として伝統産業が発達した。

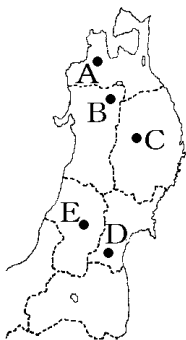
具体的な伝統的工芸品としては、岩手県^{もりおか}盛岡市の^{なんぶ}南部鉄器が有名で試験にもよく出題される。そのほか、青森県の^{つがるぬり}津軽塗、秋田県の^{かばざいく}樺細工、山形県の^{てんどうしょうぎこま}天童将棋駒、宮城県の^{みやぎ}宮城伝統こけし、福島県の^{あいづぬり}会津塗などがある。

しかし、大量生産による安い製品の普及^{ふきゅう}や、海外からの輸入品の増加^{ていたい}にともなって生産が停滞している場合がある。また、職人の高齢化^{こうれいか}も進み、後継者不足^{こうけいしゃ}という問題もある。

[問題](3 学期)

次の各問いに答えよ。

- (1) ①南部鉄器, ②津軽塗
が作られている場所
を右の地図中の A~E
から選び記号で答え
よ。
- (2) 伝統産業はなぜ北陸
地方や東北地方で発
達したか。「冬」「雪」
という言葉を使って
説明せよ。



- (3) 伝統的工芸品の現在の課題をまとめた, 次の
文中の()にあてはまる語句をそれぞれ書
け。
- ・大量生産の安い製品や, 海外からの(①)
の増加で, 生産が停滞している。
 - ・職人の(②)が進み, 後継者が不足して
いる。

[解答](1)① C ② A (2) 雪に閉ざされた冬の期
間の副業として発達した。 (3)① 輸入品

② 高齢化

[問題](3 学期)

東北地方の伝統的工芸品としてあてはまるものを、下から1つ選べ。

[輪島塗 南部鉄器 信楽焼]

[解答]南部鉄器

[解説]

わじまぬり

輪島塗は中部地方の石川県、南部鉄器は東北地方の岩手県、しがらきやき信楽焼は近畿地方の滋賀県の伝統工芸品である。

[問題](2 学期期末)

岩手県では南部鉄器、山形県では将棋の駒がつくられている。伝統産業でつくられる、このような製品を何というか。

[解答]伝統的工芸品

◆社会地理の各ファイルへのリンク

<http://www.fdtype.com/dp/sc4/index.html>

◆FdData 中間期末の特徴(QandA 方式)

http://www.fdtype.com/dp/qanda_k.html

◆製品版(パソコン Word 文書：印刷・編集用)
の価格・購入方法

<http://www.fdtype.com/dp/seihin.html>

※ iPhone でリンク先が開かない場合は、
「iBooks」を開いてリンクをタップください。

【Fd 教材開発】 Mail : info2@fdtype.com