

【FdData 中間期末：中学社会地理：東北】

【地方中枢都市仙台】

【問題】(2 学期期末)

「杜の都」として知られる東北地方の政治・経済・文化の中心都市はどこか。都市名を書け。

【解答】仙台市

【解説】

【仙台市】

地方中枢都市：中央官庁の出先機関や大企業の支社などが
おかれている

新幹線→仙台・東京の時間距離
が短縮(2時間)
↓
多くの観光客



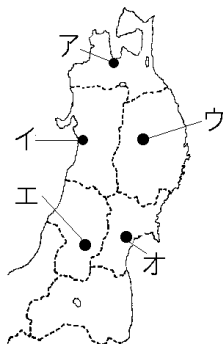
仙台市は、中央官庁の出先機関や大企業の支社などがおかれている地方中枢都市である。人口は100万人をこえ、「杜の都」とよばれるほど緑が豊かな都市である。

仙台市では、仙台七夕まつりが大切に守り育てられており、来場者が200万人をこえる大規模な祭

りとなった。仙台市は東京と新幹線で2時間程度で結ばれているため、関東地方からも多くの観光客が訪れるようになっている。

[問題](3 学期)

人口 100 万人をこえる東北地方の中心都市を、地図中のア～オから 1 つ選べ。



[解答]オ

[解説]

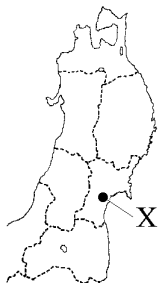
仙台市の人口は約 102 万人(2012 年)である。東北地方で人口が 100 万人をこえるのは仙台市だけである。(アの青森市は 30 万人、イの秋田市は 32 万人、ウの盛岡市は 29 万人、エの山形市は 25 万

人である。福島県でもっとも人口が多いいわき市は34万人である。)

[問題](3 学期)

東北地方について次の各問いに答えよ。

- (1) 地図中の X の都市は、プロスポーツチームの本拠地が置かれているほか、来場者が200万人をこえる祭りも行われ、関東地方からもたくさんの観光客が訪れるようになった。その理由について、交通の面から簡単に書け。

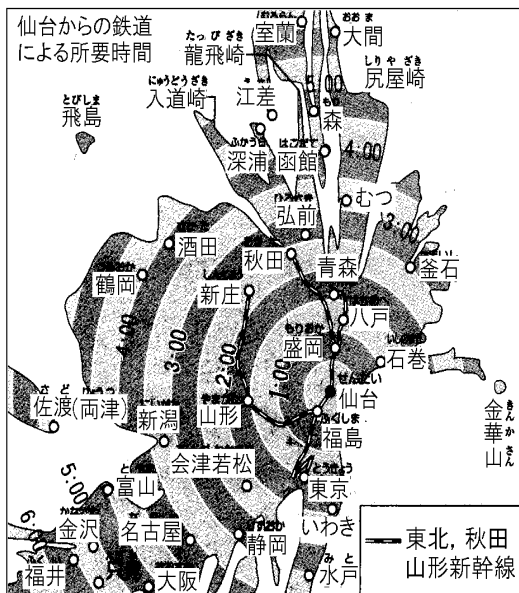


- (2) X の都市は東北地方の地方中枢都市である。地方中枢都市を「中央官庁」「企業」という言葉を使って簡単に説明せよ。

[解答](1) 新幹線の開通によって関東との時間距離が短くなったから。 (2) 中央官庁の出先機関や大企業の支社などがおかれている、その地方の中心となっている都市。

[問題](3学期)

次の資料を見て、各問いに答えよ。



- (1) 仙台から新幹線を利用して2時間以内で、直接行くことができる都市を、地図中からすべて選べ。
- (2) 地理的に近い岩手県釜石市よりも青森県青森市の方が、仙台からの所要時間が短くなっている。それはなぜか。

- (3) 名古屋からは何時間以内で仙台まで行くことができるか。「○時間以内」と整数を使って答えよ。

[解答](1) 福島, 盛岡, 石巻, 八戸, 青森, 山形, 東京, いわき (2) 青森と仙台の間には新幹線が通っているから。 (3) 4時間以内

◆社会地理の各ファイルへのリンク

<http://www.fdtype.com/dp/sc4/index.html>

◆FdData 中間期末の特徴(QandA 方式)

http://www.fdtype.com/dp/qanda_k.html

◆製品版(パソコン Word 文書 : 印刷・編集用)
の価格・購入方法

<http://www.fdtype.com/dp/seihin.html>

※ iPhone でリンク先が開かない場合は,
「iBooks」を開いてリンクをタップください。

【Fd 教材開発】 Mail : info2@fdtype.com