

【FdData 中間期末：中学社会地理：北海道】

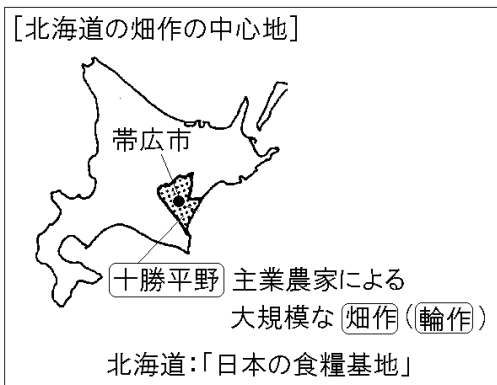
【北海道の農業：畑作】

【問題】(2 学期期末)

畑作がさかんであり、中心都市は帯広市である平野名を答えよ。

【解答】十勝平野

【解説】



北海道では、広大な土地をいかした^{だいきぼ}大規模農業が
^{しゅぎやうのうか}主業農家によって行われている。耕地の 8 割 近
くは畑である。日本最大の畑作地域である^{とかち}十勝平
野は、火山からの^{ふんしゅつぶつ}噴出物でおおわれたローム層と、

十勝川から運ばれた土からなっている。多くの畑では、土地の栄養を落とさないようにするために異なる作物を順番につくる^{りんさく}輪作が取り入れられている。また、畑作と^{らくのう}酪農を組み合わせた^{こんごうのうぎょう}混合農業もさかんである。たくさんの農産物が生産される北海道は、日本の^{しょくりょうきち}食糧基地とよばれることがある。

[問題](後期中間)

北海道の農業の特色をまとめた次の説明文の①～④にあてはまる語句を下の[]からそれぞれ選べ。

北海道では、広大な土地をいかした大規模農業が(①)農家によって行われている。耕地の(②)割近くが畑である。日本で最大の畑作地域である(③)を中心に、冷帯気候とローム層におおわれた土壤に適した作物を栽培している。多くの畑では、土地の栄養を落とさないように、異なる作物を順番につくる(④)が取り入れられており、畑作と酪農を組み合わせた混合農業もさかんである。

[石狩平野 十勝平野 3 5 8 主業 副業的
二期作 輪作]

[解答]① 主業 ② 8 ③ 十勝平野 ④ 輪作

[問題](3 学期)

十勝平野の多くの耕地で、土地の栄養を落とさないように入力されている栽培方法を何というか。

[解答]輪作

[問題](2 学期期末)

北海道の畑作では、輪作が行われている。なぜ、輪作を行うのか。簡単に説明せよ。

[解答]土地の栄養を落とさないようにするため。



[問題](3 学期)

たくさんの農産物が生産される北海道は、日本の何基地といわれることがあるか。漢字 4 字で答えよ。

[解答]食糧基地

[問題](2学期中間)

次のグラフは、北海道の十勝平野で栽培されている作物である。①、②の農作物名を書け。



[解答]① てんさい ② じゃがいも(ばれいしょ)

[解説]

[北海道が全国1位の農作物]

100%:

70%以上: あずき,

てんさい(甜菜)は さとうだいこん ともよばれ、
砂糖の原料となる。寒冷な気候が適しており、北海道で100%生産されている。帯広の製糖工場おびひろ せいとうで
白砂糖かちく しりょうに加工され、しぼりかすは家畜の飼料となる。
(てんさいが白砂糖の原料であるのに対し、沖縄などでとれる さとうきびは黒砂糖の原料になる。)

じゃがいもは、原産地は南米のアンデス山脈で、16世紀後半に日本に伝わった。「ばれいしょ」ともよばれ、寒冷な気候でも育つため、明治時代以降、北海道で栽培がさかんになった。

北海道が全国1位である農作物としては、次のようなものがある。

てんさい(100% : 2012年), じゃがいも(ばれいしょ)(77% : 2011年)

あずき(92% : 2012年), 小麦(58% : 2012年),
たまねぎ(54% : 2011年),

かぼちゃ(48% : 2011年), 生乳(50% : 2009年),
スイートコーン(48% : 2011年)

にんじん(28% : 2011年), 大豆(29% : 2012年),
大根(11% : 2011年)

[問題](後期中間)

北海道が全国1位の生産量をほこる次の①、②の作物の名をそれぞれ答えよ。

- ① さとうきびとならぶ重要な砂糖の原料で、「さとうだいこん」「ビート」ともよばれている。北海道が全国生産のほぼ100%を占めている。
- ② 原産地は南米のアンデス山脈で、16世紀後半に日本に伝わってきた。「ばれいしょ」ともよばれ、寒冷な気候でも育つため、明治時代以降、北海道で栽培がさかんになった。

[解答]① てんさい ② じゃがいも

[問題](2学期期末)

北海道が生産量1位でないものを次から1つ選べ。

[じゃがいも にんじん さとうきび 大根
たまねぎ]

[解答]さとうきび

[問題](3 学期)

次の会話文を読んで、各問いに答えよ。

A: 北海道は農業がさかんだね。

B: そうですね。(①)は100%北海道産です。

A: あずき, ジャガイモ, 小麦, たまねぎなども割合が高いね。

B: 農地を見ていると, 様々な色の畑が広がっていますが, それはなぜなのでしょう。

A: 同じ土地で年や時期ごとに異なる作物を作る(②)と関係がありそうだね。

B: あ, 聞いたことがあります。農地の(③)を落とさないための工夫なのですよね。ところで, 北海道は農業がさかんだと思うのですが, (④)産業就業者の割合が高いようには見えません。なぜでしょう。

A: それはね, 「 X 」

B: なるほど, 納得です。

A: 乳牛を飼育し, 乳製品を作る(⑤)も忘れるな。

(1) 会話文中の①～⑤にあてはまる語句を, 下の [] からそれぞれ選べ。

[とうもろこし 混合農業 酪農 輪作
栄養 小麦 第一次 第二次
てんさい]

- (2) 「 X 」にあてはまるせりふとして適切なものを次のア～ウから選び，記号で答えよ。
- ア 北海道の農業は適地適作で行うから，収穫量が他の都府県よりも多いからだ。
 - イ 北海道の農業は主業農家の割合が高く耕地面積も全国平均の何倍もあるからだ。
 - ウ 北海道の農業は冷涼な夏と極寒な冬のおかげで人気がないからだ。

[解答](1)① てんさい ② 輪作 ③ 栄養
④ 第一次 ⑤ 酪農 (2) イ

◆社会地理の各ファイルへのリンク

<http://www.fdtype.com/dp/sc4/index.html>

◆FdData 中間期末の特徴(QandA 方式)

http://www.fdtype.com/dp/qanda_k.html

◆製品版(パソコン Word 文書：印刷・編集用)
の価格・購入方法

<http://www.fdtype.com/dp/seihin.html>

※ iPhone でリンク先が開かない場合は、
「iBooks」を開いてリンクをタップください。

【Fd 教材開発】 Mail : info2@fdtype.com