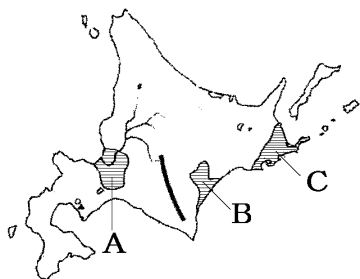


【FdData 中間期末：中学社会地理：北海道】

【北海道の農業総合】

【問題】(3 学期)

次の各問いに答えよ。

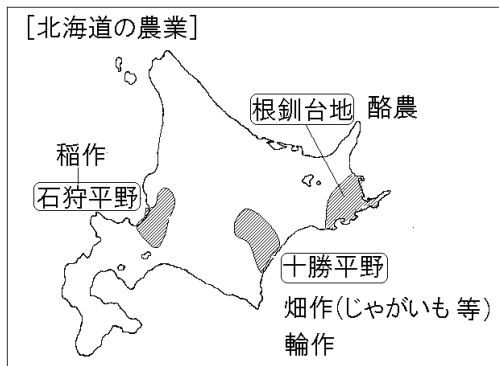


- (1) 地図中の A, B の平野, C の台地の名前をそれぞれ答えよ。
- (2) 地図中の A, B, C でさかんに生産されている農産物を, それぞれ[]内から 1 つずつ選べ。

[レタス ジャガイモ 生乳 米]

- 【解答】(1) A 石狩平野 B 十勝平野 C 根釧台地
(2) A 米 B ジャガイモ C 生乳

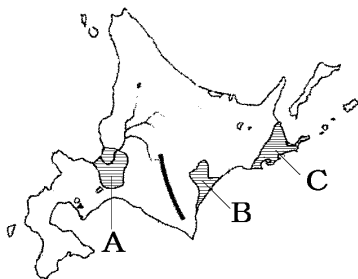
[解説]



いしかり
石狩川流域にある石狩平野は北海道の稲作の中心
になっている。火山灰地のとかち
十勝平野は北海道の畑
作の中心で、じゃがいも、てんさいなどを栽培し
ている。土地の栄養を落とさないために輪作も行
われている。また、畑作と酪農を組み合わせた混
合農業もさかんである。こんせんだいち らくのう
根釧台地では酪農がさか
んである。

[問題](3 学期)

次の各問いに答えよ。



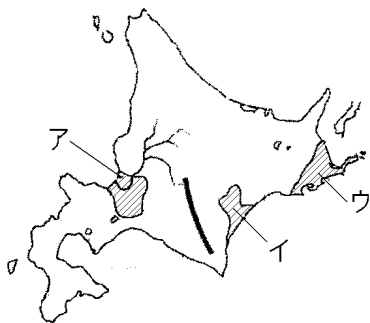
- (1) 地図中のA～Cの地域で生産がさかんな農産物を、次の[]からそれぞれ選べ。
[じゃがいも 米 生乳]
- (2) 地図中の B の地域で土地の栄養を落とさないために行われている耕作方法は何か。漢字2字で答えよ。
- (3) 乳牛を飼育して生乳やバター、チーズなどの乳製品を生産する、北海道でさかんな農業を何というか。

[解答](1)A 米 B じゃがいも C 生乳

(2) 輪作 (3) 酪農

[問題](2 学期期末)

次の地図を見て各問いに答えよ。

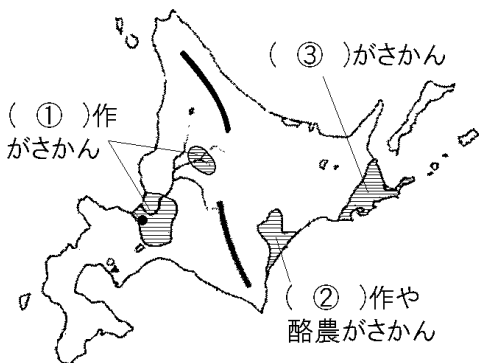


- (1) ア, イの平野, ウの台地の名前を書け。
- (2) 北海道の①畑作, ②稲作, ③酪農の中心地の位置を地図中のア～ウからそれぞれ 1 つずつ選べ。
- (3) 北海道が生産量日本一である農作物を 3 つ書け。ただし, 米は除く。
- (4) 酪農とはどのような農業か。説明せよ。

[解答](1)ア 石狩平野 イ 十勝平野 ウ 根釧台地 (2)① イ ② ア ③ ウ (3) てんさい, じゃがいも, あずき(小麦, たまねぎ, かぼちゃ, とうもろこし) (4) 牛などを飼育し, 乳や乳製品を生産する畜産。

[問題](2 学期期末)

次の地図を見て、各問いに答えよ。



- (1) 地図中の①～③にあてはまる語句を書け。
- (2) 地図中の②で栽培されているポテトチップスの原料となる農産物名を書け。
- (3) 石狩平野は、地図中の①の農産物の生産に向かない土地(泥炭地)であったが、どのような工夫をしてその生産を発展させてきたか。

[解答](1)① 稲 ② 畑 ③ 酪農 (2) じゃがいも (3) 稲作に適した土に入れかえる客土という土壌改良を行ったこと。

[問題](2学期中間)

次の各問いに答えよ。



A	北海道 77%	その他 23
---	---------	--------

(2012年)

B	新潟	北海道	秋田	茨城	山形	宮城	福島	栃木	その他 56.3
	7.7%	7.5	6.1	4.8	4.7	4.6	4.3	4.0	

(2012年)

- (1) 上の A, B のグラフは、北海道で生産されている農作物である。それぞれにあてはまるものを下の[]から選べ。

[てんさい 大豆 米 なす ピーマン
じゃがいも]

- (2) A, B の農作物の栽培がさかんな平野を、地図中のア～ウの平野・台地よりそれぞれ選べ。

[解答](1)A じゃがいも B 米 (2)A イ B ア

[解説]

(1)A 北海道の生産が全国の 7 割以上をしめる農作物は、てんさい、あずき、じゃがいもである。

てんさいは北海道が 100%をしめるので、A はあずきかじゃがいもである。[]内にはあずきはないので、じゃがいもと判断できる。

B 米の生産では、北海道と新潟県が 1, 2 位をあらそっている。

[問題](3 学期)

北海道の農業について述べた次の文中の下線部が正しいければ○を、間違っていれば正しい語句を答えよ。

石狩平野には農業に適さない①シラスが広がっていたが、土を入れかえて土地を改良し、全国有数の②小麦の産地となった。十勝平野では、原野を切り開いて③干害に強いじゃがいも、てんさいなどの畑作がさかんになった。作物栽培に適さない気候と土壌の根釧台地では、涼しい気候をいかして④酪農がさかんである。

[解答]① 泥炭地 ② 米 ③ 冷害 ④ ○

[問題](2 学期期末)

全国とくらべたときに、北海道で割合が高いのは、主業農家、副業的農家のどちらか。

[解答]主業農家

[解説]

[北海道の農業の特徴と問題点]

大規模農業：主業農家，大型機械

安い輸入農産物におされている

北海道では、広大な土地をいかし、大型機械を使った大規模な農業が^{しゅぎょうのうか}主業農家によって行われている。

外国産のさまざまな農産物が輸入される今日、北海道の畑作や酪農の経営は、安い輸入農産物におされて厳しい状況になっている。北海道の畑作地域や酪農地域では、食の安全性に配慮した農産物の生産に力を入れて、価格が安い輸入農産物に対抗している。

[問題](後期中間)

北海道の農業の特色を次から1つ選べ。

- ア 温室などを使った施設園芸農業がさかんである。
- イ 化学肥料を使わない有機農業がさかんである。
- ウ 大型機械を使った大規模農業が中心である。
- エ 大消費地に近いため、近郊農業が中心である。

[解答]ウ

[問題](3 学期)

北海道の畑作や酪農の経営は厳しい状況にあるが、それはなぜか。次から1つ選び記号で答えよ。

- ア 作物が育たなくなってきたから。
- イ 日本の他の地域の作物が良い品質になってきたから。
- ウ 企業が北海道産を使わなくなってきたから。
- エ 安い輸入農産物におされているから。

[解答]エ

[問題](後期期末)

北海道の畑作や酪農の経営の課題とその対策を「～ので・・・している。」という文で「輸入」「安全性」「生産」の語を用いて書け。

[解答]安い輸入農産物におされて厳しい状況になっているので、食の安全性に配慮した農産物の生産に力を入れて、これに対抗している。

◆社会地理の各ファイルへのリンク

<http://www.fdtype.com/dp/sc4/index.html>

◆FdData 中間期末の特徴(QandA 方式)

http://www.fdtype.com/dp/qanda_k.html

◆製品版(パソコン Word 文書：印刷・編集用) の価格・購入方法

<http://www.fdtype.com/dp/seihin.html>

※ iPhone でリンク先が開かない場合は、「iBooks」を開いてリンクをタップください。

【Fd 教材開発】 Mail : info2@fdtype.com