

【FdData 中間期末：中学公民】

[グローバル化]

◆パソコン・タブレット版へ移動

[グローバル化]

[問題](1 学期期末)

交通や通信技術の発達などにより、大量の人、物、お金、情報などが国境を越えて容易に移動できるようになり、世界の一体化が進んでいる。この動きを何と
いうか。

[解答]グローバル化

[解説]

[グローバル化]

世界を一体化する動き

交通や通信技術の発達などにより、大量の人、物、お金、情報などが国境を越えて容易に移動できるようになり、世界の一体化が進んでいる。これをグローバル化という。

※出題頻度：「グローバル化◎」

[問題](入試問題)

次の文中の①，②に適語を入れよ。

交通手段や通信手段の発達によって、
(①)・物・お金・情報が容易に国境をこえて移動できるようになり、世界の一体化が進んでいる。これを(②)化という。

(群馬県改)

[解答]① 人 ② グローバル

[問題](1 学期期末)

グローバル化とはどのようなことか。
「大量の人，物，お金，情報など」とい
う語句を使って説明せよ。

[解答]大量の人，物，お金，情報などが
国境を越えて容易に移動できるようにな
り，世界の一体化が進むこと。

[国際競争と国際分業]

[問題]

グローバル化によって商品を簡単に輸出入できるようになると、国内で生産された商品と輸入商品との間、あるいは異なる国から輸入した商品どうしで、どちらが安くて品質の良いものを提供できるかについての国際競争が行われるようになる。また、それぞれの国が国際競争力のある産業に力を入れ、競争力のないものは輸入するという国際(X)が進行する。文中の X に適語を入れよ(漢字 2 字)。

[解答]分業

[解説]

[国際分業]

それぞれの国が **国際競争** 力のある産業に力を入れ、競争力のないものは輸入すること

グローバル化によって商品を簡単に輸出入できるようになると、国内で生産された商品と輸入商品との間、あるいは異なる国から輸入した商品どうしで、どちらが安くて品質の良いものを提供できるかについての **国際競争** が行われるようになる。また、それぞれの国が国際競争力のある産業に力を入れ、競争力のないものは輸入するという **国際分業** が進行する。

※出題頻度：「国際競争○」「国際分業◎」

[問題](2 学期中間)

次の各問いに答えよ。

- (1) 貿易において、他の国や地域に比べ、より優れた製品をより安く生産できる力のことを何とというか。
- (2) 貿易がさかんになり、国や地域ごとに自分たちが強い(1)を持つものを生産し、(1)を持たないものは輸入するようになってきている。このような動きを何とというか。

[解答](1) 国際競争力 (2) 国際分業

[問題](1 学期期末)

次の文章を読んで、各問いに答えよ。

現代は、A 大量の人、物、お金、情報
などが国境を越えて自由に移動できるよ
うになり、世界の一体化が進んでいる。

商品の輸出入が容易になると、国産品と
輸入品との間で、または輸入品どうしで
(B)が行われる。また、各国は競争力
のある産業に力を入れて、競争力のない
ものは輸入するようになり、(C)が進
行する。

- (1) 下線部 A の動きを何とというか。
- (2) 文中の B, C にあてはまる語句を書
け。

[解答](1) グローバル化 (2)B 国際競争
C 国際分業

[問題](入試問題)

国際分業とはどのようなことか。説明せよ。

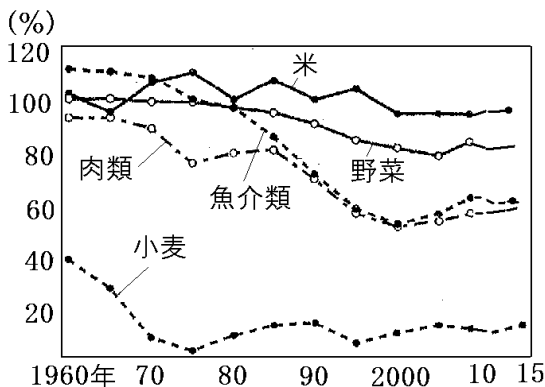
(滋賀県)

[解答]それぞれの国が国際競争力のある産業に力を入れ、競争力のないものは輸入すること。

[食料自給率の低下]

[問題](2 学期中間改)

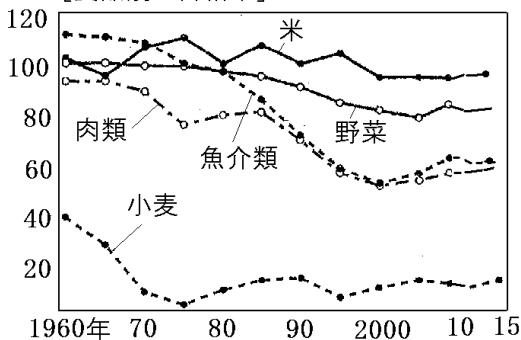
次の資料は、食料の国内消費量のうち国内で生産している割合を表している。この割合を(X)率という。グローバル化に伴い食料品も外国からの輸入が増えて食の国際化が進んでいるが、これにともなって、(X)率の低下という問題がおこっている。文中のXに適語を入れよ。



[解答]食料自給

[解説]

(%) [食品別の自給率]



スーパーマーケットに行くときさまざまな国の商品が並んでいるが、これ

[食の国際化]

輸入食料品の増加



食糧自給率の低下

(約37%)

は、航空機やコンテナ船などの発達によって、外国の商品を昔より速く大量に運べるようになったためである。また、輸入品にかかる関税かんぜいが引き下げられて、外

国の商品を安く買えるようになったためである。食料品も外国からの輸入が増えて食の国際化が進んでいるが、これにともなって、食料自給率の低下という問題がおこっている。食料自給率は、カロリーベースで約37%(2018年)である。

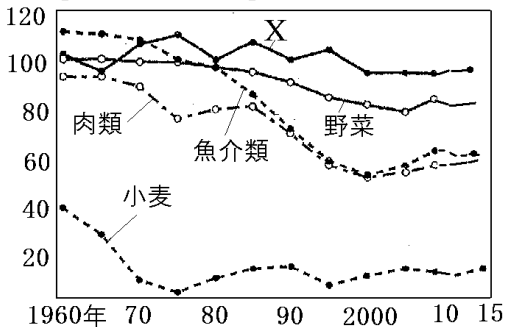
図のように、米はほぼ100%に近いが、パンやうどんの原料となる小麦は非常に低い。魚介類は1960年ころは100%をこえていたが、輸入が増えたため50～60%に落ちている。食料自給率が低い場合、世界的な不作や戦争などの場合に、食料を安定して確保できなくなるおそれがある。

※出題頻度：「食料自給率の低下○」「グラフ中の米と小麦○」

[問題](1 学期期末)

次のグラフについて、各問いに答えよ。

(%) [食品別の自給率]



- (1) グラフの X は何か。
- (2) 右のグラフは、日本で食べる食料のうち、国内でまかなう分がしめる割合を表している。これを何とというか。漢字 5 字で答えよ。
- (3) (2) は上昇傾向にあるか、低下傾向にあるか。

[解答](1) 米 (2) 食料自給率

(3) 低下傾向にある。

[問題](1 学期期末)

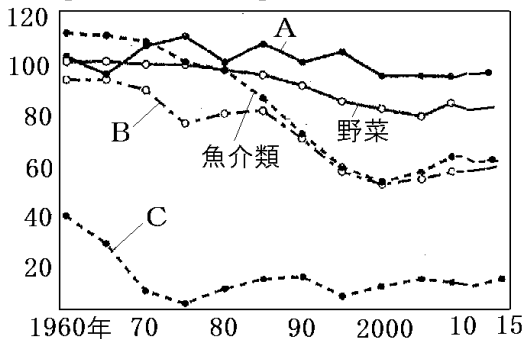
次の文を読んで、後の各問いに答えよ。

現在、世界では、人、物、お金、情報などが国境をこえて容易に移動するようになり、①世界の一体化が進んでいる。貿易においては、②それぞれの国や地域が競争力のある産業に力を入れ、競争力のないものは輸入するようになってきており、日本では③食料自給率の低下が問題となっている。

- (1) 下線部①のことを何というか。
- (2) 下線部②のことを何というか。
- (3) 下線部③について、日本の食料自給率が低下している理由を「外国からの輸入」という語句を用いて簡潔に説明せよ。

- (4) 図の A～C は何の自給率を表しているか。次の[]からそれぞれ選べ。
 [米 小麦 肉類]

(%) [食品別の自給率]



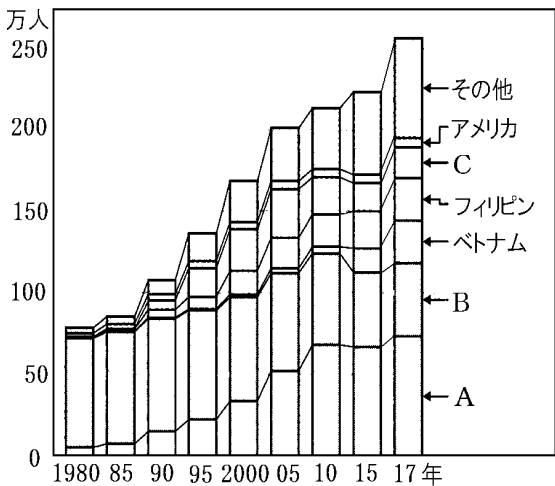
- [解答](1) グローバル化 (2) 国際分業
 (3) 食料品の外国からの輸入が増えたから。
 (4) A 米 B 肉類 C 小麦

[グローバル化による外国人の増加]

[問題](1 学期期末)

次の資料の A~C にあてはまる国名を、
下の[]からそれぞれ選べ。

[日本の外国人登録者数の推移]



[韓国・朝鮮 中国 ブラジル]

[解答]A 中国 B 韓国・朝鮮

C ブラジル

[解説]

[グローバル化による外国人の増加]
とくに 中国人，ブラジル人

日本では第二次世界大戦の前から、韓国・朝鮮人などがくらしていたが、近年、グローバル化にともなって日本でくらす外国人の数が増加している。グラフからわかるように、とくに増えたのはアジア州(中国，フィリピン，ベトナム)と南アメリカ州(ブラジル)である。これらの多くは、働くことを目的として日本にやってきた人々である。グローバル化によって日本でも、異なる文化を持つ外国人などの存在が身近になってきている。こうした人々とも、たがいを尊重し合い、共生できる社会が求められている。

※出題頻度：この単元はときどき出題される。

[問題](2 学期期末)

次の文を読んで、後の各問いに答えよ。

近年、a 世界の一体化が進んだことによって、ものや情報が入りやすくなり、外国との交流も活発化した。その結果、b 日本でくらす外国人が増え、身近な地域でも、c さまざまな文化をもった人々が共生する多文化社会が進展してきている。

- (1) 下線部 a について、この動きを何と
いうか。
- (2) 1980 年代以降、アジアや中南米など
からの外国人が増えているが、これ
らの人が増えているおもな要因を書
け。

(3) 下線部 c について、わたしたち一人一人にはどのような態度が求められているか、次の文から正しいものを1つ選び、記号で答えよ。

ア それぞれの文化のちがいを尊重しあい、すべての文化を1つにしていく態度。

イ それぞれの文化のちがいを認めず、ともに独立していこうとする態度。

ウ それぞれの文化のちがいを尊重しあい、ともに協力してくらししていく態度。

エ それぞれの文化のちがいを無視し、ともに協力してくらししていく態度。

[解答](1) グローバル化 (2) 働くために日本に来る外国人が増えたから。

(3) ウ

[グローバル化全般]

[問題](1 学期期末)

次は、A君と先生の会話の一部である。文中の①～⑥に適語を入れよ。

A君：近所のスーパーマーケットを見ると、さまざまな国や地域でつくられた商品が売られていますね。

先生：輸送手段の発達によって、外国でつくられた商品を昔よりはるかに速く、大量に運べるようになったからね。

A君：昔は「舶来品」といって、輸入品の多くは値段が高かったそうですね。

先生：そうだね。しかし，輸入品にかかる(①)が引き下げられるなどして，外国の商品を安く買えるようになったんだよ。

A 君：そうすると，国産品と輸入品，または輸入品どうしで，どちらがよりよい品をより安く提供できるかを競い合う(②)が激しくなるということですか。

先生：その通りです。それだけじゃないんだよ。それぞれの国や地域が(②)力のある産業に力を入れて，(②)力のないものは輸入する(③)が行われるようになってきているね。

A 君：食料品も外国からの輸入が増えて日本の(④)率が低下していると，新聞で読みました。

先生：どの国も、自国で生産した商品だけで生活していくことは難しくなっているんだ。

A君：それと、日本でくらす外国人が増え、身近な地域でも、様々な文化をもった人々が生活する(⑤)社会が進展していますね。

先生：その通りです。たくさんの人、物、お金、情報などが、国境をこえて移動することで(⑥)化が進んでいるね。

[解答]① 関税 ② 国際競争

③ 国際分業 ④ 食料自給 ⑤ 多文化

⑥ グローバル

【各ファイルへのリンク】

社会地理

[\[世界1\]](#) [\[世界2\]](#) [\[日本1\]](#) [\[日本2\]](#)

社会歴史

[\[古代\]](#) [\[中世\]](#) [\[近世\]](#) [\[近代\]](#) [\[現代\]](#)

社会公民

[\[現代社会\]](#) [\[人権\]](#) [\[三権\]](#) [\[経済\]](#)

理科1年

[\[光音力\]](#) [\[化学\]](#) [\[植物\]](#) [\[地学\]](#)

理科2年

[\[電気\]](#) [\[化学\]](#) [\[動物\]](#) [\[天気\]](#)

理科3年

[\[運動\]](#) [\[化学\]](#) [\[生殖\]](#) [\[天体\]](#) [\[環境\]](#)

【FdData 中間期末製品版のご案内】

このPDFファイルは、FdData 中間期末をPDF形式(スマホ用)に変換したサンプルです。製品版のFdData 中間期末はWindows パソコン用のマイクロソフトWord(Office)の文書ファイル(A4版)で、印刷・編集を自由に行うことができます。

◆FdData 中間期末の特徴

中間期末試験で成績を上げる秘訣は過去問を数多く解くことです。FdData 中間期末は、実際に全国の中学校で出題された試験問題をワープロデータ(Word 文書)にした過去問集です。各教科(社会・理科・数学)約1800～2100ページと豊富な問題を収録しているため、出題傾向の90%以上を網羅しております。

FdData 中間期末を購入いただいたお客様からは、「市販の問題集とは比べものにならない質の高さですね。子どもが受け

た今回の期末試験では、ほとんど同じような問題が出て今までにないような成績をとることができました。」「製品の質の高さと豊富な問題量に感謝します。試験対策として、塾の生徒に FdData の膨大な問題を解かせたところ、成績が大幅に伸び過去最高の得点を取れました。」などの感想をいただいております。

◆サンプル版と製品版の違い

ホームページ上に掲載しておりますサンプルは、製品の全内容を掲載しており、どなたでも自由に閲覧できます。問題を「目で解く」だけでもある程度の効果をあげることができます。しかし、FdData 中間期末がその本来の力を発揮するのは印刷ができる製品版においてです。印刷した問題を、鉛筆を使って一問一問解き進むことで、大きな学習効果を得ることができます。さらに、製品版は、すぐ印

刷して使える「問題解答分離形式」、編集に適した「問題解答一体形式」、暗記分野で効果を発揮する「一問一答形式」(理科と社会)の3形式を含んでいますので、目的に応じて活用することができます。

[FdData 中間期末の特徴\(QandA 方式\)](#)

◆FdData 中間期末製品版の価格

社会地理, 歴史, 公民 : 各 7,800 円

理科 1 年, 2 年, 3 年 : 各 7,800 円

数学 1 年, 2 年, 3 年 : 各 7,800 円

ご注文は電話, メールで承っております。

[FdData 中間期末\(製品版\)の注文方法](#)

※パソコン版ホームページは, Google
などで「fddata」で検索できます。

※Amazon でも販売しております。

(「amazon fddata」で検索)

【Fd 教材開発】 電話 : 092-811-0960

メール : info2@fdtext.com