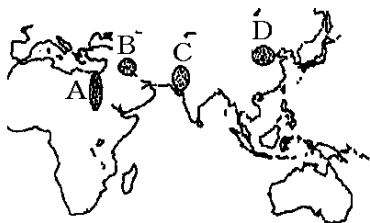


【FdData 中間期末：中学歴史：原始古代】

【中国文明：殷】

【問題】(1 学期中間)

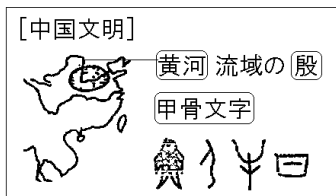
次の各問いに答えなさい。



- (1) 図は世界の古代文明が発達した地域である。中国文明が起こった場所を地図中の A～D から選び、記号で答えなさい。
- (2) 図の A～D の文明は大きな川のそばにある。中国文明のそばにある川を答えなさい。
- (3) 中国文明で紀元前 1600 年ころ殷という国が起こり、漢字のもとになった文字がつけられた。この文字を何といいますか。

【解答】(1) D (2) 黄河 (3) 甲骨文字

## [解説]



中国文明は黄河<sup>こうが</sup>流域で発達した。紀元前 1600 年ごろに殷<sup>いん</sup>という国が<sup>かめ</sup>つくられ、<sup>こう</sup>亀の甲や牛の骨に刻まれた<sup>こうこつ</sup>甲骨文字が使われた。また、<sup>せいどうき</sup>青銅器もつくられた。

## [問題](1 学期中間)

紀元前 1500 年ごろ、中国ではすぐれた青銅器の文明をもった国がおこりました。

- (1) この国を何といいますか。
- (2) この国では漢字のもととなった文字がつけられました。その文字を何といいますか。

[解答](1) 殷 (2) 甲骨文字

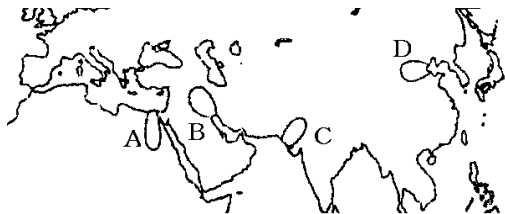
[問題](1 学期中間)

紀元前 1500 年頃，中国に出現した古代国家を何といますか。漢字で答えなさい。

[解答]殷

[問題](1 学期中間)

次の地図を見て各問いに答えなさい。



(1) 地図中の A～D の地域で古代文明が発生した。D の地域でおこった文明を何といますか。

(2) 地図中の D の文明で使用された，右の文字を何といますか。



[解答](1) 中国文明 (2) 甲骨文字

[問題](1 学期期末)

次の各問いに答えよ。

- (1) 中国文明は、何という川の流域で生まれたか。
- (2) 殷という国でつくられた漢字のもとになった文字を何というか。

[解答](1) 黄河 (2) 甲骨文字

[問題](1 学期中間)

次の各問いに答えなさい。

- (1) 中国の古代文明で使われた、動物の骨に刻まれている右のような文字を何とといいますか。



- (2) 中国の殷を中心に栄えた古代文明に



関係の深い川の名を書きなさい。

[解答](1) 甲骨文字 (2) 黄河

[問題](前期中間)

文中の( )に適語を入れよ。

数千年前、小麦などの栽培に適した場所に古代文明がおこった。中国では( ① )の流域に中国文明が生まれ、殷という国ができた。祭りでは独特の形をした( ② )器に酒や作物が入れられ、神にそなえられた。占いの記録は今の漢字のもとになる( ③ )で書かれた。

[解答]① 黄河 ② 青銅 ③ 甲骨文字

◆社会歴史の各ファイルへのリンク

<http://www.fdtype.com/dp/sr1/index.html>

◆FdData 中間期末の特徴(QandA 方式)

[http://www.fdtype.com/dp/qanda\\_k.html](http://www.fdtype.com/dp/qanda_k.html)

◆製品版(パソコン Word 文書：印刷・編集用)  
の価格・購入方法

<http://www.fdtype.com/dp/seihin.html>

※ iPhone でリンク先が開かない場合は、  
「iBooks」を開いてリンクをタップください。

【Fd 教材開発】 Mail : [info2@fdtype.com](mailto:info2@fdtype.com)