

【FdData 中間期末：中学歴史：原始古代】

[中国文明：秦・漢]

[問題](1 学期中間)

次の各問いに答えよ。

- (1) 春秋・戦国時代は、B.C.221年、ある人物によって、中国が統一されて終わりをつけることになる。①この中国を統一した人物と、②その国名を書け。
- (2) (1)の人物が建造した世界遺産にも指定されている右の写真の建造物は何か。(写真は当時のものではなく、明時代のものである)
- (3) (2)は何の目的で建造されたか、簡単に記述せよ。



[解答](1)① 始皇帝 ② 秦 (2) 万里の長城

(3) 北方の遊牧民族の侵入を防ぐため。

## [解説]

紀元前3世紀:秦の始皇帝が中国を統一



万里の長城

漢:ローマ帝国とシルクロードでつながる

紀元前3世紀に中国を統一して秦という国を成立させたのは始皇帝である。始皇帝は北方の遊牧民の侵入を防ぐために万里の長城を築いた。しかし、万里の長城の建設や度重なる外征に多くの農民をかりたてたため、始皇帝の死後各地で反乱が起きて秦は滅び、漢がこれにかわった。漢の時代に西のほうではローマ帝国が栄えていたが、この2つの文明はシルクロード(絹の道)でつながっていた。

## [問題](1 学期中間)

次の各問いに答えなさい。

- (1) 紀元前221年に中国を統一し、秦をつくった皇帝は誰ですか。
- (2) (1)の皇帝が、北方の遊牧民族の侵入を防ぐために築いた土塁を何といいますか。

[解答](1) 始皇帝 (2) 万里の長城

[問題](1 学期中間)

紀元前 3 世紀, 始皇帝は中国を統一して何という王朝をはじめたか, 書きなさい。

[解答]秦

[問題](前期中間)

次の文の①～③に適語を入れよ。

秦の( ① )によって中国は統一された。(①)は遊牧民の侵入を防ぐために( ② )を築いた。(②)の建設やたび重なる外征のために, 秦は短期間で滅亡したが, そのあとをついだ( ③ )は大帝国となった。

[解答]① 始皇帝 ② 万里の長城 ③ 漢

[問題](1 学期期末)

次の各問いに答えよ。

- (1) 始皇帝の死後まもなく、農民の反乱により秦は紀元前 208 年に滅亡した。紀元前 202 年に中国を再び統一したのは劉邦(りゅうほう)である。国名を漢字 1 文字で答えなさい。なお、この国は前後に分かれ約 400 年続いた。
- (2) (1)のころ地中海沿岸を支配していたのは何という帝国か。
- (3) 中国とヨーロッパを結ぶ当時の交通路を何というか。カタカナで答えよ。

[解答](1) 漢 (2) ローマ帝国 (3) シルクロード

[問題](1 学期中間)

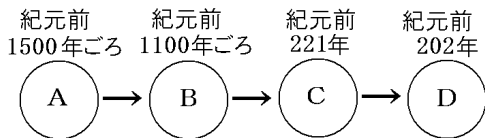
次の各問いに答えなさい。

- (1) 秦の後、約 400 年にわたり中国を支配した国を何といいますか。漢字で答えなさい。
- (2) (1)の時代に開けた、西方への交通路を何といいますか。カタカナで答えなさい。

[解答](1) 漢 (2) シルクロード

[問題](1 学期中間)

中国の古代国家について、図を見て次の各問いに答えよ。



(1) 図を見て、A～D にあてはまる中国の王朝名をそれぞれ次から選べ。

[ 秦 漢 周 殷 晋 ]

(2) C の王は中国を統一したが、何という名前の王か。

(3) C の王が築いた、外敵を防ぐための巨大な建造物を何というか。

(4) B の時代に広まった道具は何か。

(5) ローマ帝国と D を結んだ交通路を何というか。

[解答](1)A 殷 B 周 C 秦 D 漢 (2) 始皇帝 (3) 万里の長城 (4) 鉄器 (5) シルクロード(絹の道)

[問題](1 学期中間)

下の文を読んで、次の各問いに答えなさい。

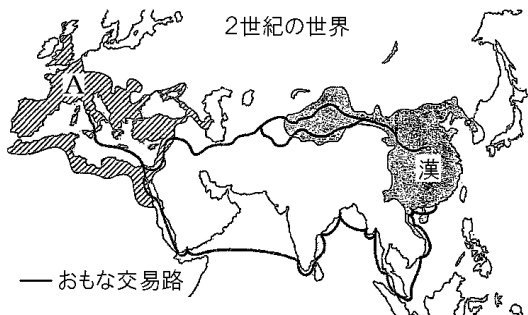
文明の交流は古くから各地で行われていた。その中でもよく知られているのが、中国から中央アジアをへて西アジアにぬける、いわゆる( )を通じての東西交流である。1～2世紀のころには、中国の漢王朝から遠く地中海のローマ帝国まで、交通路がひらかれた。

- (1) 上の文中の( )にあてはまる交通路の名前を答えなさい。
- (2) (1)の交通路がひらかれたことにより、①中国からローマ帝国に運ばれたもの、②インドから中国に伝えられた教えは何ですか。それぞれ1つずつ答えなさい。

[解答](1) シルクロード(絹の道) (2)① 絹  
② 仏教

[問題](1 学期期末)

次の図をみて、各問いに答えなさい。

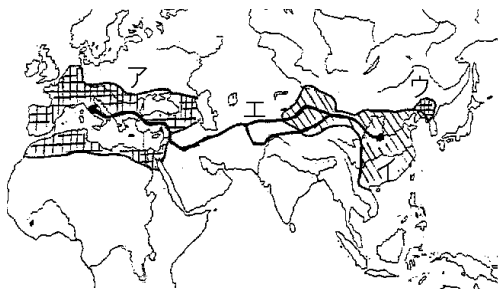


- (1) 図の A の国名を答えなさい。
- (2) 図の A と漢を結ぶ交易路は、東西の貿易、文化の交流の通路として歴史上重要な役割を果たした。この交易路を何といいますか。
- (3) 漢の時代に発明されたものを下の[ ]から選びなさい。  
[ 火薬 羅針盤 紙 剣 ]

[解答](1) ローマ帝国 (2) シルクロード(絹の道)  
(3) 紙

[問題](1 学期中間)

次の2世紀ごろの地図を見て、各問いに答えよ。



- (1) 地図中のア～ウの国名を書け。
- (2) 地図中エは、ヨーロッパとアジアを結ぶ交易路である。この交易路を何とよぶか。
- (3) 地図中イの国では、北方や西方の外国を「胡」とよんでいた。そのためこの時代に西方から伝えられた産物には、「胡」の漢字がつくものがある。「胡瓜」はきゅうり「胡麻」はごまであるが、「胡桃」は何か。
- (4) 地図中アの国では、奴隷の力を利用して多くのものが建造された。剣闘士や猛獣による競技が行われた、右の写真の円形競技場を何とよぶか。





- [解答](1)ア ローマ帝国 イ 漢 ウ 高句麗  
(2) シルクロード(絹の道) (3) くるみ  
(4) コロッセオ

[問題](1 学期期末)

次のア～ウのできごとのうち、最も新しいできごとを記号で答えなさい。

- ア シルクロード(絹の道)が発達し、インドでおこった仏教が日本に伝わった。  
イ 春秋・戦国時代には、孔子の説いた儒教のような新しい思想が生まれた。  
ウ 秦の始皇帝が中国を統一し大帝国をつくりあげた。

[解答]ア

[問題](1 学期中間)

漢王朝が領土の拡大のため、朝鮮半島北部に設置した代表的な郡を何といいますか。

[解答]楽浪郡

[問題](1 学期期末)

漢の支配を打ち破って、中国の東北地方から朝鮮北部にかけての地域に強力な国家を築いた国を何とといいますか。

[解答]高句麗

◆社会歴史の各ファイルへのリンク

<http://www.fdtype.com/dp/sr1/index.html>

◆FdData 中間期末の特徴(QandA 方式)

[http://www.fdtype.com/dp/qanda\\_k.html](http://www.fdtype.com/dp/qanda_k.html)

◆製品版(パソコン Word 文書：印刷・編集用)  
の価格・購入方法

<http://www.fdtype.com/dp/seihin.html>

※ iPhone でリンク先が開かない場合は、  
「iBooks」を開いてリンクをタップください。

【Fd 教材開発】 Mail : [info2@fdtype.com](mailto:info2@fdtype.com)