

【FdData 中間期末：中学歴史：原始古代】

[大和政権と古墳文化]

[大和政権と古墳]

[問題](前期中間)

次の文を読み、後の各問いに答えよ。

資料Ⅰ



資料Ⅱ

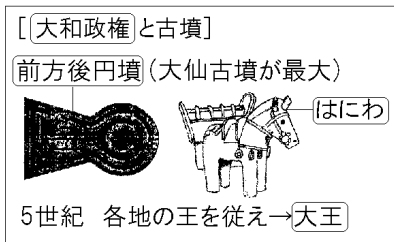


3世紀の後半になると、日本でも近畿地方を中心とする地域の豪族たちが連合して強力な国が生まれた。その政府を(①)と呼ぶ。この国の王は日本各地の王を従え、5世紀には(②)と呼ばれるようになった。また、資料Ⅰのような形の(③)と呼ばれる古墳がつくられるようになった。

- (1) 文中の空欄①～③にあてはまる語句を答えよ。
- (2) 下線部の古墳のまわりから出土する資料Ⅱのようなものを何というか。

[解答](1)① 大和政権 ② 大王 ③ 前方後円墳
(2) はにわ

[解説]



3世紀後半になると、奈良盆地を中心とする地域には、王を中心として、近畿地方の有力な豪族ごうぞくが支える強力な大和政権やまとせいけんが生まれ、大きな墓こふん(古墳)がつくられるようになった。大和政権の支配の広がりにもなって、前方後円墳ぜんぽうこうえんふんなどの古墳は、全国各地の豪族によってもつくられるようになった。大和政権の王は、5世紀には、九州から東北地方南部にいたる各地の王を従えるようになり、大王おおきみと呼ばれるようになった。古墳のなかで最大のものは、5世紀につくられた全長が486mの大仙古墳だいせんである。古墳のまわりや頂上には、人や動物をかたどったはにわが置かれた。

[問題](3 学期)

資料を見て、各問いに答えよ。

図 I



図 II

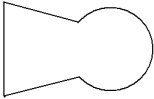


- (1) 図 I のような古墳の形を何というか、漢字で書け。
- (2) 近畿地方には図 I のような古墳が数多く集中している。この地域を支配した強力な国の支配者は、5 世紀には何と呼ばれるようになったか。
- (3) 図 II は、古墳の上やまわりに並べられたものである。このような遺物を何というか。

[解答](1) 前方後円墳 (2) 大王 (3) はにわ

[問題](1 学期中間)

次の各問いに答えよ。

- (1) 3世紀後半、奈良盆地を中心とする地域につくられた政権を何というか。
- (2) (1)で答えた政権は、5世紀には九州から東北地方南部まで従えるようになった。この政権の王を何というか。
- (3) このころ作られた、有力者の大きな墓を何というか。漢字2字で答えよ。
- (4) (3)の周りや頂上に置かれた、人物や動物などをかたどったものは何か。
- (5) (3)には様々な形があるが、右のような形のものを何というか。
- (6) 世界最大といわれている(5)は何と呼ばれているか。古墳の名前を書け。

[解答](1) 大和政権 (2) 大王 (3) 古墳

(4) はにわ (5) 前方後円墳 (6) 大仙古墳

[問題](1 学期期末)

次の各問いに答えよ。

- (1) 日本において古墳がつくられるようになったのはいつごろのことか。次の[]の中から選べ。

[紀元前 1500 年ごろ 3 世紀後半ごろ
6 世紀の末ごろ]

- (2) 右図のものが置かれた場所を、次の[]から 1 つ選べ。

[田のまわり 住居のまわり
古墳のまわり 古墳の内部]

- (3) 古墳の中におさめられたものを次の[]の中から 2 つ選べ。

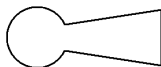
[銅鐸 武器 鏡 石包丁]

- (4) 前方後円墳と呼ばれる古墳を上から見た図を書け。



[解答](1) 3 世紀後半ごろ (2) 古墳のまわり

(3) 武器, 鏡 (4)



[大和政権の勢力範囲]

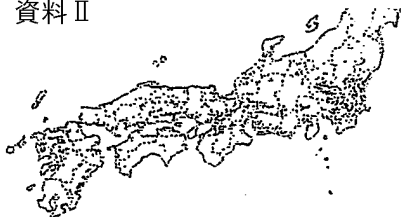
[問題](2 学期期末)


次の各問いに答えよ。

資料 I



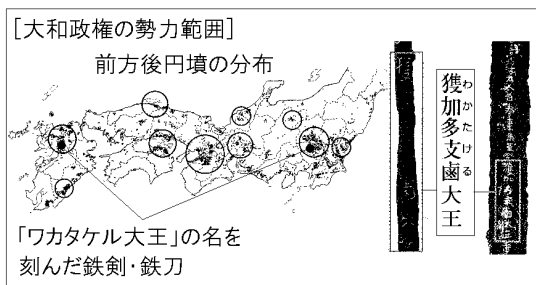
資料 II



- (1) 資料 I は、大阪府堺市にある日本最大の古墳である。この古墳を何というか。
- (2) 資料 I のような形の古墳を何というか。
- (3) 資料 II の  は資料 I と同じ形の古墳の分布を示している。古墳が集中しているところは、どのようなところだったと考えられるか。簡潔に説明せよ。

[解答](1) 大仙古墳 (2) 前方後円墳 (3) 大和政権の支配が及んでいたところ。

[解説]



大型の^{ぜんぼうこうえんぶん}前方後円墳が最も集中している地域は大和政権が生まれた近畿地方であるが、図のように九州から東北地方南部にも分布しているのがわかる。また、^{いなりやま}稲荷山古墳(埼玉県)出土の鉄剣や^{え た ふなやま}江田船山古墳(熊本県)出土の鉄刀には、「ワカタケル大王」(=^{わおうぶ}倭王武^{きざ})の名が刻まれている。これらのことから、5世紀には、大和政権の王は九州地方から東北地方南部に至る各地の^{ごうぞく}豪族を従え、^{おおきみ}大王と呼ばれていたことがわかる。

[問題](1 学期中間)

次の各問いに答えよ。

- (1) 大型の前方後円墳が最も集中している地域として適切なものを、次の[]から1つ選べ。

[九州地方 中国地方 四国地方
近畿地方]

- (2) (1)の地域に成立した政権を何というか。

[解答](1) 近畿地方 (2) 大和政権

[問題](1 学期中間)

次の各問いに答えよ。

- (1) 古墳がつくられたころの富と権力をもっていた各地の支配者を何というか。
- (2) 右図の鉄剣や鉄刀の一部分には右のようにきざまれている。□ □にあてはまる語句を漢字で書け。



- (3) 図の鉄剣や鉄刀が熊本県や埼玉県で発見されたこと、および、下図のような前方後円墳の分布から、この時代のどのような様子がわかるか。

前方後円墳の分布



[解答](1) 豪族 (2) 大王 (3) 大和政権の勢力が九州地方から東北地方南部にまでおよんでいたこと。

◆社会歴史の各ファイルへのリンク

<http://www.fdtype.com/dp/sr1/index.html>

◆FdData 中間期末の特徴(QandA 方式)

http://www.fdtype.com/dp/qanda_k.html

◆製品版(パソコン Word 文書：印刷・編集用)
の価格・購入方法

<http://www.fdtype.com/dp/seihin.html>

※ iPhone でリンク先が開かない場合は、
「iBooks」を開いてリンクをタップください。

【Fd 教材開発】 Mail : info2@fdtype.com