

【FdData 中間期末：中学歴史：鎌倉時代】

【元寇】

【問題】(2 学期期末)

次の文の①～⑥に適語を入れよ。

フビライ・ハンが高麗を征服した後、日本も従うようにと使者を送ってきた。幕府の執権(①)は使者を斬って、これを拒絶した。1274年、元軍 3 万が九州の(②)湾に上陸し、(③)戦法とすぐれた火器によって日本軍をなやましたすえ、引き上げた((④)の役)。さらに、1281年、約 14 万の大軍で、来襲した。幕府軍は、博多湾沿いに築いた石塁を利用して戦った。元の大軍は上陸できないまま、暴風雨に襲われて大損害を受けて退却した((⑤)の役)。この 2 度の元の襲来をあわせて(⑥)という。

【解答】① 北条時宗 ② 博多 ③ 集団 ④ 文永
⑤ 弘安 ⑥ 元寇

[解説]

[元寇]

フビライ・ハン : 高麗を征服

日本へ服属を求める使者

執権の 北条時宗 は拒絶



1274年 文永の役 博多湾岸に上陸

集団戦法・火器(てつほう)



幕府: 博多湾岸に 石塁, 元: 宋を滅ぼす



1281年 弘安の役



恩賞なし→御家人の不满

元のフビライ・ハンは高麗を征服した後、日本も従うようにと使者を送ってきた。幕府の執権北条時宗は使者を斬って、これを拒絶した。

1274年、元軍3万が九州の博多湾に上陸し、集団戦法とすぐれた火器(てつほう)によって日本軍をなやましたすえ、引き上げた(文永の役)。

さらに、1281年、約14万の大軍で、来襲した。幕府軍は、博多湾沿いに築いた石塁を利用して戦った。元の大軍は上陸できないまま、暴風雨に襲われて大損害を受けて退却した(弘安の役)。(一風

灰に(1281)に弘安こうあんの役) この2度の元の襲来を
あわせて元寇げんこうという。


[問題](2 学期期末)

元寇のときの元の皇帝は誰か。

[解答]フビライ・ハン

[問題](3 学期)


次の各問いに答えなさい。



- (1) 上の絵に描かれている戦いを何というか。漢字2字で書きなさい。
- (2) (1)の戦いで、日本側からみて、敵側の戦い方の特徴を2つ書きなさい。

[解答](1) 元寇 (2) 集団戦法, 火器の使用

【解説】



元軍が使った^{かき}火器は図の中央部に○で囲った「てつほう」である。「てつほう」は、鉄板で火薬をつつんだもので、点火して爆発させて、爆発音と煙で敵を混乱させるために使ったものと思われる(後の鉄砲とは異なる)。図では、その大きな音に驚いた馬が前のめりになって、^{きばむしや}騎馬武者が馬から落ちそうになっている様子が描かれている。このような火器とともに日本軍を悩ませたのは、元の兵士の^{しゅうだんせんぼう}集団戦法であった。

[問題](3 学期)

元との戦いで日本が苦戦した理由を述べた次の文中の①, ②にあてはまる語句を答えよ。

元軍が(①)戦法をとり, 武器として(②)を用いたため。

[解答]① 集団 ② 火器(てつほう)

[問題](2 学期中間)

元の軍隊は九州に上陸し, 日本の武士と戦った。元軍と武士の戦い方のちがいを答えなさい。

[解答]武士は一騎打ち戦法で, 元軍は集団戦法で火器も使用した。

[問題](3 学期)

絵と資料を見て問題に答えよ。



<資料>


「日本軍が攻めてくると横一列の陣が退き、左右両翼の軍が両方から日本軍を包むように取り囲んで皆殺しにしてしまう。…逃げるときはてつほうを撃った。煙がもうもうと立ちこめ、音は高く響くので、日本軍は、ただぼう然とした。」

- (1) 資料の絵は、中国の軍が日本に襲来したときのことを描いたものである。この襲来のことを何とというか。
- (2) ① 資料の文には、中国の軍が、ある武器を使ったと書かれている。その武器は何とというか。

② 合戦の絵のどこに①の武器が描かれているか。解答欄の絵でその武器を○でかこめ。

(3) 合戦に参加した武士が幕府に不満を持つようになった理由を分かりやすく書け。

[解答](1) 元寇 (2) ①てつほう



(3) 十分な恩賞がもらえなかったため。

[解説]

(3) 国内の戦いに勝ったのであれば、倒した敵の土地を、てがらに^{おんしょう}応じて恩賞として与えることになる。しかし、^{げんこう}元寇の場合は、戦いに勝っても土地が増えたわけではなかったため、幕府は^{ごけにん}御家人に恩賞として土地を与えることができなかった。当時は出陣のために要する費用はすべて自分持ちであったから、恩賞はそれを補うという意味もあったのである。したがって、恩賞を出さな

い(出せない)というのは、^{ごおん}御恩と^{ほうこう}奉公という関係から見れば、重大な契約違反といってもよいことなのである。御家人が幕府に対して不満をいやくようになったのは当然のことである。

[問題](2 学期期末)

次の各問いに答えよ。



- (1) 上の絵の左側の 3 人の人物はどこの国の人か。
- (2) 上の絵の騎馬武者は何のために戦ったか説明せよ。

[解答](1) 元 (2) 恩賞をもらうため。

[問題](3 学期)

次の各問いに答えなさい。



- (1) 上の絵のできごとは、当時の中国とモンゴルの地につくられた王朝である元の軍が日本に攻めてきた様子を表しています。このようなことが2度おきましたが、この2回のできごとをまとめて何といいますか。
- (2) (1)の時の日本側の幕府の執権はだれですか。次から選びなさい。
[源頼家 北条義時 北条泰時 北条時宗]
- (3) (1)のできごとの後、日本の国内でどのような現象が多く見られるようになったでしょうか。下から1つ選んで、記号で答えなさい。
ア 恩賞は十分で、御家人の生活も安定した。
イ 恩賞を十分もらった御家人が多く、生活ははでになっていった。
ウ 十分な恩賞がもらえない御家人が多かったが、生活は安定していた。

エ 十分な恩賞がもらえない御家人が多く、
所領を質に入れたり売ったりしていた。


[解答](1) 元寇 (2) 北条時宗 (3) エ

[問題](1 学期期末)

次の資料は、元が日本に攻めて来たときの戦いの様子を書いたものです。次の各問いに答えなさい。

(資料)…元軍の大將軍は、戦場が見渡せる高い所に登り、引くときは逃げ鼓をうち、攻撃の時は攻め鼓を打って合図を流す。元軍は、その音に従って行動する。逃げるときは()をとばして暗くする。爆音が高くひびきわたるので、日本の武士は驚いて肝をつぶし、目がくらみ、ぼうぜんとしてしまう…

(1) このできごとに関する絵は、次のどれがもっとも関係が深いですか。ア～ウから1つ選びなさい。



- (2) 文永の役と弘安の役の時では、どちらの時が日本にやってきた兵の数が多いですか。
- (3) 文永の役の時、元軍が最初にやってきた九州の町はどこですか。
- (4) 資料の中の()にあてはまる武器は何ですか。次から1つ選びなさい。
[毒の矢 石 てつほう 大砲]
- (5) これら元軍が攻めてきた襲来のことを何とよんでいますか。漢字2字で答えなさい。
- (6) このできごとの後、鎌倉幕府と御家人の関係はどうなっていますか。次のことばをすべて使って説明しなさい。
[恩賞 不満 領地]

[解答](1) ウ (2) 弘安の役 (3) 博多

(4) てつほう (5) 元寇 (6) 幕府が恩賞として領地を与えることができなかつたため、御家人は不満をもった。

[解説]

(2) 第1回目の襲来である文永の役の時の元軍は約3万人、第2回目の弘安の役の時は約14万人であった。

[問題](2 学期期末)

次の資料は、元軍との1回目の戦いの後、元の再度の襲来に備えて、日本軍が博多湾岸に築きあげたものです。これを何とというか。答えなさい。



[解答]石塁

[問題](2 学期期末)

文永の役において、元軍は博多湾岸に上陸し、幕府側は苦戦を強いられた。幕府軍は弘安の役では、工夫をした結果、元軍の上陸を阻むことができた。どのような工夫か、説明しなさい。

[解答]海岸に石塁を築いたこと。

[問題](3 学期)

地図を見て，①～④のことがらと関連のある場所を，地図のア～カから選べ。



- ① 平氏が滅びる
- ② モンゴルが襲来する
- ③ 中尊寺金色堂が建てられる
- ④ 源頼朝が幕府を開く

[解答]① オ ② カ ③ ア ④ イ

[解説]

- ① 壇ノ浦(オ)の合戦で平氏は源義経の率いる源氏の軍に敗れ，滅亡した。
- ② 元は博多湾(カ)などに来襲した。
- ③ 中尊寺金色堂は，浄土信仰の影響を受けた奥州藤原氏が平泉(ア)につくったものである。
- ④ 源頼朝は，鎌倉(イ)を本拠地とし，幕府を開いた。

◆社会歴史の各ファイルへのリンク

<http://www.fdtype.com/dp/sr2/index.html>

◆FdData 中間期末の特徴(QandA 方式)

http://www.fdtype.com/dp/qanda_k.html

◆製品版(パソコン Word 文書：印刷・編集用)
の価格・購入方法

<http://www.fdtype.com/dp/seihin.html>

※ iPhone でリンク先が開かない場合は、
「iBooks」を開いてリンクをタップください。

【Fd 教材開発】 Mail : info2@fdtype.com