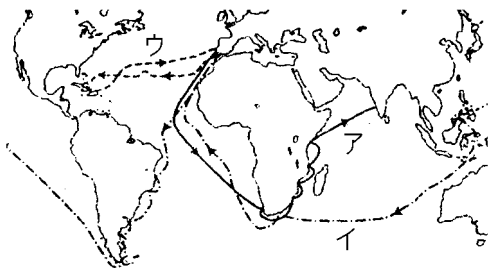


## 【FdData 中間期末：中学歴史】

### [地理上の発見]

#### [問題](2学期中間)

次の文の( )に適語を入れよ。



15世紀末からヨーロッパ人がアジアへ進出するようになったが、そのおもな目的は( ① )を手に入れるためであった。

スペインの援助を受けた( ② )は、地球が丸いという説を信じて西へ行けばインドにたどり着けると考え、西に向かって図の( ③ )のように航海を行い、1492年に西インド諸島にたどりついた。ついで、1498年( ④ )はアフリカ南端を回ってインドに至る航路(図の( ⑤ )の航路)を開拓した。さらに1519年、( ⑥ )の一行は西回り(図の( ⑦ )の航路)で世界一周に成功した。

- [解答]① 香辛料 ② コロンブス ③ ウ  
④ バスコ・ダ・ガマ ⑤ ア ⑥ マゼラン ⑦ イ

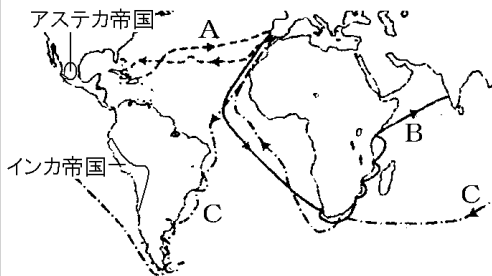
[解説]

インドや東南アジアの香辛料を求めて

1492年 コロンブスが新大陸発見(A)

1498年 バスコ・ダ・ガマがインド航路を発見(B)

1519年 マゼラン一行が世界一周(C)



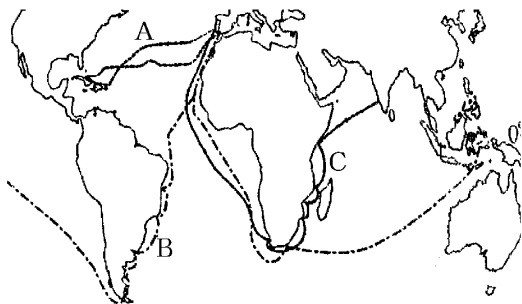
インドや東南アジア原産の香辛料(こしょうなど)は、食肉中心のヨーロッパ人にとって、調味料・防腐剤として重要であった(冷蔵設備のない時代なので、肉はいたみやすく、こしょうで味やにおいをごまかさないと、食べられたものではなかった)。しかし、香辛料は非常に高価であり(こしょう 100gの値段は銀 100g)、香辛料を使用することは、王侯・貴族にとっては地位の象徴で

もあったほどである。当時、香辛料は、インド商人→イスラム商人→イタリア商人と陸路で運ばれていたが、独占状態であったので、最終的には原価(輸送費を含む)の4~6倍の値段になり、イスラム商人やイタリア商人は大きな利益を得ていた。この利益に目をつけた人々は、ポルトガルやスペインの<sup>えんじょ</sup>援助を受けて、直接アジアに行く海路を求めて<sup>たんけん</sup>探検に乗り出した。ルネサンスで天文学や地理学も発達していたが、スペインの援助を受けたコロンブスは、地球が丸いという説を信じて西へ行けばインドにたどり着けると考え、西に向かって航海を行い、1492年に西インド諸島にたどりついた。(いよ！国(1492)発見コロンブス) スペインはコロンブスの発見した新大陸に進出し、アステカ帝国、インカ帝国などの文明を滅ぼした。

1498年バスコ・ダ・ガマはアフリカ南端を回ってインドに至る<sup>こうろ</sup>航路を<sup>かいたく</sup>開拓した。また、ヨーロッパで<sup>しゅうきょうかいかく</sup>宗教改革がおこっていた時代、1519年、マゼランの一行は西回りで世界一周に成功した。

[問題](3学期)

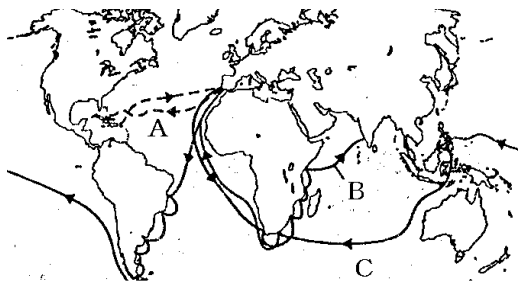
地図中のA～Cの航路を開いたのは誰ですか。



[解答]A コロンブス B マゼラン C バスコ・  
ダ・ガマ

[問題](1 学期中間)

地図を見て，各問いに答えよ。



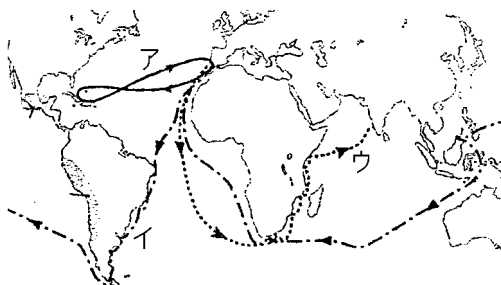
- (1) A～Cの航路を開いた人物を1人ずつ選べ。  
[ バスコ・ダ・ガマ コロンブス  
マゼラン ]
- (2) Aの航路を発見した人物を援助した国名を答えよ。
- (3) 新航路が開かれるきっかけとなった品物を1つ選べ。  
[ 香辛料 コーヒー ジャガイモ  
かぼちゃ ]

[解答](1)A コロンブス B バスコ・ダ・ガマ  
C マゼラン (2) スペイン (3) 香辛料

### 【問題】(3 学期)

下の資料を見て、後の各問いに答えなさい。

「1492年10月11日、木曜日。…帆をみじかくおろして、夜明けまで待った。そして、翌日の金曜日、船はルカヨ群島の一小島、インド人の言葉で、グアナアニ島(サンサルバドル島のこと)とよばれる島に到着した。やがて、裸の人びとが見えた。」



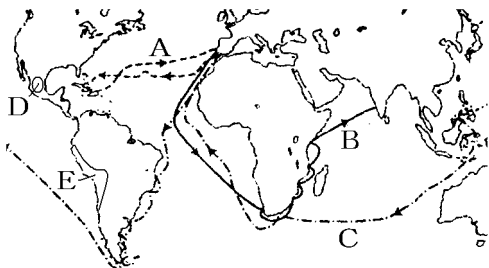
- (1) 資料について、これは15世紀末にある人物が書いた航海日誌である。この人物は誰ですか。
- (2) (1)の人物が航海した航路を、地図中ア～ウから1つ選びなさい。
- (3) アジアの物産の中で、当時のヨーロッパ人が求めていたものを、次の語群から1つ選びなさい。

〔毛織物 銀製品 ダイヤモンド 香辛料〕

[解答](1) コロンブス (2) ア (3) 香辛料

[問題](3 学期)

次の各問いに答えなさい。



- (1) スペインの援助を受けた( ① )は地球は丸いという当時の最新の考えにもとづいて、西に進めばアジアに着くと考えて出航し A の航路を通過して、1492 年に西( ② )諸島に到着した。( )に適語を入れなさい。
- (2) 地図中の B, C の航路を発見した人物を、それぞれ書きなさい。
- (3) 当時、ヨーロッパで高い値段で取り引きされていた調味料は何ですか。次から 1 つ選んで書きなさい。

[ 塩 香辛料 さとう ]

- (4) D と E の地域で栄えていた帝国はそれぞれ何といいますか。

(5) D, E を征服したヨーロッパの国はどこですか。

[解答](1)① コロンブス ② インド

(2)B バスコ・ダ・ガマ C マゼラン (3) 香辛料

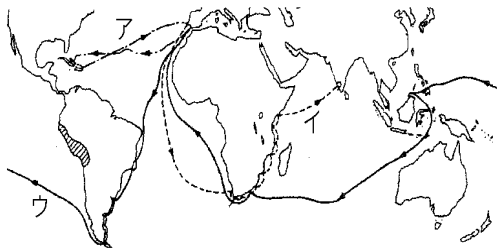
(4)D アステカ帝国 E インカ帝国 (5) スペイン

[問題](前期中間)


ヨーロッパ人の世界進出について、次の各問いに答えなさい。

(1) 下の地図は、15～16 世紀に新たに発見された航路を示しています。次の①, ②の人物が発見した航路を地図中のア～ウからそれぞれ選んで、記号で答えなさい。

① コロンブス ② マゼラン一行





- (2) こうした航海ができるようになったのは、方位を知るためのある道具の改良の結果です。大洋を航海するために必要なこの道具の名前を答えなさい。
- (3) 新航路が発見されると、ポルトガルは、インドや中国などの港町を根拠地としてアジア貿易に乗り出しました。ポルトガルの最も重要な目的は何でしたか。
- (4) 地図中の  に 16 世紀まで栄えた①帝国の名前と、②この帝国をほろぼしたヨーロッパの国の名前を答えなさい。

[解答](1)① ア ② ウ (2) 羅針盤 (3) 香辛料を手に入れるため。 (4)① インカ帝国  
② スペイン

## [問題](2 学期中間)

次の各問いに答えよ。

- (1) スペインやポルトガルは、アジアへの航路を求めていた。大西洋を西回りでアジアに行く航路を開いたのは、どちらの国か。
- (2) 1492 年、大西洋を横断してカリブ海の島に到着したのは、誰か。
- (3) (2)の人物は到着した島をどこの一部だと思ったか。
- (4) イギリスやオランダが貿易や植民地支配のために作った会社の名前は何か。

[解答](1) スペイン (2) コロンブス (3) インド  
(4) 東インド会社

## [問題](前期中間)

ヨーロッパ人が世界(特にアジア)に進出したおもな目的は何であったか。

[解答]アジアの香辛料などを手に入れること。

[問題](2 学期中間)

コロンブスは、西回りでアジアへ行く航路を開こうと考えました。これは当時、地球はどのようなと考えられるようになったからですか。

[解答]地球が球体であると考えられるようになったから。

[問題](2 学期期末)

アフリカの喜望峰を回ってインド航路を発見したのは誰か。

[解答]バスコ・ダ・ガマ

[問題](2 学期中間)

大航海時代、さかんに海外へ進出した国を2つ書きなさい。

[解答]ポルトガル, スペイン

[問題](前期中間)

スペインやポルトガルが、海路を使って世界に進出した時代を何とよんでいるか。

[解答]大航海時代

[問題](2学期中間)

アメリカ大陸原産で、世界中に広まった農作物を次から3つ選んで答えなさい。

[とうもろこし 小麦 米 ジャガイモ  
かぼちゃ]

[解答]とうもろこし, ジャガイモ, かぼちゃ

◆社会歴史の各ファイルへのリンク

<http://www.fdtype.com/dp/sr3/index.html>

◆FdData 中間期末の特徴(QandA 方式)

[http://www.fdtype.com/dp/qanda\\_k.html](http://www.fdtype.com/dp/qanda_k.html)

◆製品版(パソコン Word 文書：印刷・編集用)  
の価格・購入方法

<http://www.fdtype.com/dp/seihin.html>

※ iPhone でリンク先が開かない場合は、  
「iBooks」を開いてリンクをタップください。

【Fd 教材開発】 Mail : [info2@fdtype.com](mailto:info2@fdtype.com)