

## 【FdData 中間期末：中学歴史】

### 【鉄砲の伝来】

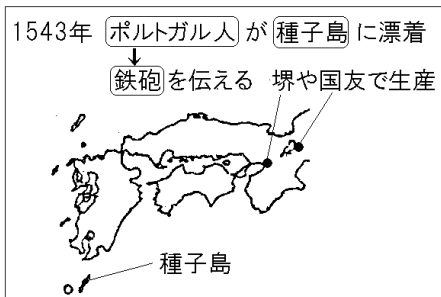
#### 【問題】(3 学期)

文中の( )に適語を入れよ。

肉食が中心のヨーロッパでは、インドなどでとれる こしょうなどの香辛料は保存や調理のために欠かせないものだったが、その取引はイスラムの商人ににぎられていた。ポルトガルとスペインは、インドまで行き来する海の道を探すことに努めた。( ① )(人名)は、西へ進めばアジアに着くと考え、1492年にアメリカ大陸の近くの西インド諸島に到達した。ポルトガルのバスコ・ダ・ガマは、アフリカを回ってインドに着く航路を切り開いた。それ以後、ポルトガルやスペインの船が、日本の近くにも来るようになり、( ② )島に流れ着いた( ③ )人が、日本に初めて( ④ )を伝えた。

【解答】① コロンブス ② 種子 ③ ポルトガル  
④ 鉄砲

## 【解説】



地理上の発見のあと、ポルトガルやスペインの船が、日本の近くにも来るようになり、1543年にたねがしま種子島に流れ着いたポルトガル人が、日本に初めて鉄砲を伝えた。(一期四散(1543)の鉄砲伝来)このとき伝えられた鉄砲は、まもなくさかいくにとも堺や国友などで、かたなかじしょくにん刀鍛冶職人によってつくられるようになり、戦国大名の間に広まった。鉄砲をもっとも有効に活用したのはおだのぶなが織田信長である。ながしの長篠の戦いであしがるてっぽうたい足軽鉄砲隊を使ったしゅうだんせんぼう集団戦法で、当時最強といわれたたけだきばたい武田の騎馬隊を打ち破ったのはあまりにも有名である。

[問題](2 学期中間)

次の資料をみて、各問いに答えよ。

a 天文 12 年 8 月 25 日、一隻の b 大船が流れ着いた。c どの国から来たのかわからない。(略)手に d 一つの物を持っている。長さは 2~3 尺、その形は中は空洞で、外はまっすぐで重い。

- (1) 資料の下線部 a は西暦では何年か。
- (2) 資料の下線部 b について、大船が流れ着いた島はどこか。
- (3) 資料下線部 c について、ヨーロッパのどこの国の人が乗っていたか。
- (4) 資料下線部 d は、何という武器か。

[解答](1) 1543 年 (2) 種子島 (3) ポルトガル  
(4) 鉄砲

[問題](2 学期期末)

次の各問いに答えなさい。

(資料) 天文 12 年 8 月 25 日、( A )島の西村の小浦に中国船が流れ着いた。B 乗客は百余人、その顔立ちは日本人と違ってことばも通じない。

一人は牟良叔舎(ムラシヤ)、もう一人は喜利志多佗孟太(キリシタダモタ)といった。この二人は手に C 何か持っていた。それは、長さ 2, 3 尺の細

長いもので、火をつけると稲妻のような光をだし、雷のような音をたてたかと思うと、飛んでいる鳥がバタリと地面に落ちてくる。

- (1) 上の資料の下線 B について、この乗客はどここの国からの人たちでしたか。
- (2) 下線 C について何を持っていましたか。
- (3) ① A に入る島の名前を答えなさい。  
② A 島は地図の中のどれですか。  
ア～エから一つ選びなさい。



[解答] (1) ポルトガル (2) 鉄砲 (3) ① 種子島  
② ア

### [問題](3 学期)

次の資料を見て、各問いに答えよ。

8月25日、種子島の西村の小浦に大きな船が着いた。a どの国から来たか分からない。

……手に b 一物 を持っていた。……その穴から火を放つと当たらないものはない。

- (1) 下線部 a について、この船に乗っていたヨーロッパ人はどこの国の人か。
- (2) 下線部 b について、これは何のことか。

[解答](1) ポルトガル (2) 鉄砲

### [問題](1 学期中間)

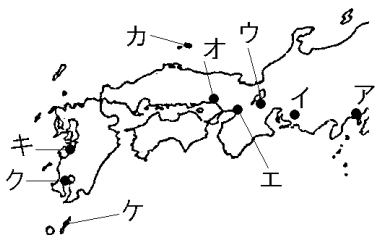
次の各問いに答えよ。

- (1) 鉄砲が日本に伝来したのは西暦何年か。
- (2) 鉄砲が最初に伝来した島はどこか。

[解答](1) 1543年 (2) 種子島

[問題](後期期末)

次の各問いに答えよ。



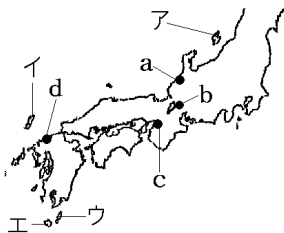
- (1) 日本に鉄砲が伝来したのはいつか。年代を書け。
- (2) 鉄砲が伝来した場所を、地図のア～ケから選んで答えよ。
- (3) 長篠の戦いなどで鉄砲を有効に使って、全国統一を進めた人物を下から選び、記号と名前を書け。



[解答](1) 1543年 (2) ケ (3) A, 織田信長

[問題](1 学期期末)

次の各問いに答えなさい。



- (1) 鉄砲を日本に伝えたポルトガル人が流れついた島を、地図中のア～エから1つ選び、記号と島の名をそれぞれ答えなさい。
- (2) 鉄砲がさかんにつくられた場所を、地図中のa～dから2つ選びなさい。

[解答](1) ウ, 種子島 (2) b, c

[解説]

- (2) 鉄砲がさかんにつくられたのは、堺(c), 国友くにとも(b)などである。

[問題](2 学期期末)

鉄砲の生産がさかんになった現在の大阪府にある都市名を答えよ。

[解答]堺

[問題](3 学期)

日本で鉄砲が普及した理由を下より選べ。

- ア とても安い値段であったため。
- イ 鉄砲を収集する趣味が広まったため。
- ウ 刀鍛冶職人により作られるようになったため。

[解答]ウ

[問題](3 学期)

鉄砲の伝来は、世の中にどんな変化をもたらしたか。次の中で間違っているものを1つ選び、記号で答えよ。

- ア 戦術の変化をもたらした。
- イ 城のつくり方に変化をもたらした。
- ウ 交通手段に変化をもたらした。

[解答]ウ



◆社会歴史の各ファイルへのリンク

<http://www.fdtype.com/dp/sr3/index.html>

◆FdData 中間期末の特徴(QandA 方式)

[http://www.fdtype.com/dp/qanda\\_k.html](http://www.fdtype.com/dp/qanda_k.html)

◆製品版(パソコン Word 文書：印刷・編集用)  
の価格・購入方法

<http://www.fdtype.com/dp/seihin.html>

※ iPhone でリンク先が開かない場合は、  
「iBooks」を開いてリンクをタップください。

【Fd 教材開発】 Mail : [info2@fdtype.com](mailto:info2@fdtype.com)