

【FdData 中間期末：中学歴史：江戸時代①】

【島原・天草一揆と鎖国】

【問題】(2 学期期末)

次の文の()に適語を入れよ。

1637年、重税とキリスト教徒への厳しい弾圧に苦しんだ3万7千人の農民たちが原城に立てこもる(①)一揆がおこった。(①)一揆に驚いた幕府は、キリスト教徒への徹底した弾圧をおこない、キリスト教徒の発見のために(②)を行うなどした。また、1639年、三代将軍(③)は(④)人の来航を禁止した。1641年には、平戸にあった(⑤)商館を(⑥)の出島へ移し、(⑤)と中国(清)に限って(⑥)でのみ貿易を認めることにした。こうして(⑦)が完成した。

【解答】① 島原・天草 ② 絵踏 ③ 徳川家光
④ ポルトガル ⑤ オランダ ⑥ 長崎 ⑦ 鎖国

【解説】

1637年 島原・天草一揆

→ 絵踏(キリスト教徒の発見), 宗門改帳



1639年 鎖国 徳川家光, ポルトガル人の来航禁止

オランダ → 長崎の出島, 清も長崎

1637 年,

しまばら
島原 (長崎

県)・天草(あまくさ熊

本県)地方の

キリスト

きょうと
教徒の農民約3万7千人が, 無理な年貢の取り立

てとキリスト教徒へのきびしい取り締まりに反対

して島原・天草一揆を起こした(指導者は天草四

郎)。幕府は12万の大軍を送ってようやく一揆を

しずめた。(人むざんなり(1637)島原・天草一揆)

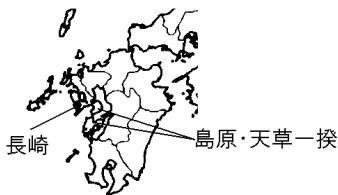
島原・天草一揆の後, 幕府は, キリスト教徒の発

見のために絵踏を行い, 役人の前でイエスの像な

どを踏ませてキリスト教徒でないことを証明させ

た。また, 幕府は, 人々を宗門改帳に記し

て仏教徒であることを寺院に保証させた。



当時、海外進出を行っていたヨーロッパ国の中で、ポルトガルとスペインの旧教(カトリック)国は、貿易とともにキリスト教の布教を行っていた。(これらの国は、まず宣教師せんきょうしを送りこんで信者しんじゃを増やし、反乱をおこさせて、やがてそこを植民地としてしまうということもやっていた) すでに1624年にスペイン船の来航らいこうを禁止していたが、島原・天草一揆後の1639年、三代將軍徳川いえみつ家光はポルトガル人の来航を禁止した。

当時日本と貿易を行っていたオランダは、キリスト教の新教しんきょう(プロテスタント)の国で、布教は行わず、貿易のみを行っていたので、引き続き貿易を認めることとしたが、貿易を行う場所を長崎ながさきの出島でじまに限定した。また、清しん(17世紀の初め中国では明が滅んで清が建国した)の商人も長崎でのみ貿易を認められた。こうして鎖国さこくが完成した。

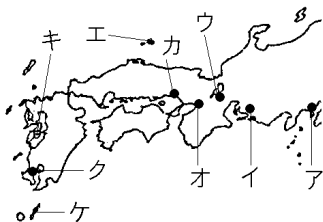
(一路鎖国(1639))

鎖国を行った理由の一つはキリスト教が広がるのを防ぐためであった。もう一つの理由は、西国の大名が貿易によって経済力を増すのを恐れ、貿易を行う場所を幕領ばくりょうである長崎に限定して、貿易を独占するためであった。

[問題](後期期末)

1637年、キリスト教徒農民の一揆が起こった。

- (1) この一揆は何とよばれているか。
- (2) この一揆について説明している文を、下のア～エから1つ選んで記号で答えよ。
- ア 信仰で結びついた武士や農民たちが、守護大名を倒した。
- イ 幕府に借金の帳消しを求めて起こした。
- ウ シャクシャインを指導者として蜂起したが、しずめられた。
- エ 信仰の迫害や重税に苦しむ百姓たちが蜂起した。
- (3) この一揆のおこった場所を、地図のア～ケから選んで答えよ。



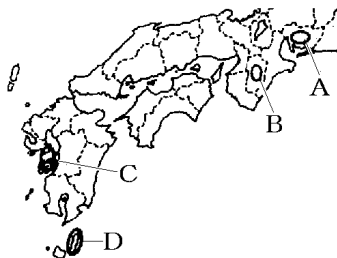
- (4) 次の絵は、キリスト教徒でないことを人々に証明をさせている様子である。これを何というか。



- [解答](1) 島原・天草一揆 (2) エ (3) キ
(4) 絵踏

[問題](2 学期中間)

次の各問いに答えよ。



- (1) 島原・天草一揆はキリスト教を中心とした農民の一揆である。この一揆が起こった地域を地図中のA～Dから1つ選べ。
- (2) ののち幕府は、キリスト教徒の発見のためにイエスの像などを利用したが、この方法を何というか。

[解答](1) C (2) 絵踏

[問題](1 学期中間)

島原・天草一揆の中心人物の名前を書きなさい。

[解答]天草四郎

[問題](1 学期中間)

絵踏はどのような人を探す目的で行われましたか。

[解答]キリスト教徒

[問題](前期期末)

島原・天草一揆ののち、仏教徒であることを寺院に証明させるためにつくらせた台帳を何といいますか。

[解答]宗門改帳

[問題](1 学期中間)

年表を見て，各問いに答えよ。

年代	おもなできごと
1612 年	幕領に(①)令をだし，キリスト教を禁止する
1624 年	スペイン船の来航を禁止
1635 年	日本人の海外渡航と帰国を禁止する
1637 年	九州で(②)がおこる
1639 年	(③)船の来航を禁止・・・ A

- (1) 年表中の()に適する語句を答えよ。
- (2) 年表中 A 以後も貿易を許された国について，
- I ヨーロッパで貿易を許された国はどこか。
 - II アジアで貿易を許された国はどこか。
 - III I・IIの国のみが，長崎で貿易を許された体制を何というか，漢字 2 字で答えよ。
- (3) 幕府が貿易を制限した理由を 2 つ述べよ。

[解答](1)① 禁教 ② 島原・天草一揆 ③ ポルトガル

(2) I オランダ II 清 III 鎖国

(3) キリスト教が広がるのをおさえる。西国の大名が貿易によって経済力を強めることをふせぐ。

[問題](2 学期期末)

次の各問いに答えよ。

- (1) 外国との交流が制限された鎖国後も、貿易が許されたヨーロッパの国はどこか。
- (2) (1)の国との貿易は、ある都市の人工島に限って行われた。①この人工島の名称と、②所在する都市名(港名)を書け。
- (3) 幕府が鎖国を行った理由を2つ答えよ。

[解答](1) オランダ (2)① 出島 ② 長崎

(3) キリスト教が広がるのをおさえる。西国の大名が貿易によって経済力を強めることをふせぐ。

[問題](2 学期中間)

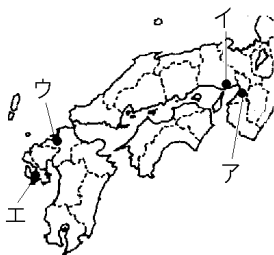
次の各問いに答えなさい。

- (1) 幕府は鎖国をおこなったが、貿易を許されたヨーロッパの国の名を答えなさい。
- (2) (1)の国が貿易を許された長崎の人工島の名を答えなさい。

[解答](1) オランダ (2) 出島

[問題](2学期中間)

次の各問いに答えよ。



- (1) 鎖国のおち、オランダと中国に限って貿易が認められた都市を地図中のア～エから 1 つ選べ。
- (2) (1)の都市名を書け。
- (3) オランダ人を(2)の何というところに移したか。

[解答](1) エ (2) 長崎 (3) 出島

[問題](2 学期期末)

下のア～エの文の中で、誤って説明している文を1つ選び、記号を答えなさい。

- ア 徳川家康は、朱印状を与え正式な貿易を許可した。
- イ 徳川家康は、日本船が海外に行くことと、海外にいる日本人が帰国することを禁止した。
- ウ 島原・天草一揆の後、絵踏や寺請制度がきびしく行われた。
- エ オランダ人は出島だけに住むことが許された。

[解答]イ

[解説]

イが誤り。日本船が海外に行くことと、海外にいる日本人が帰国することを禁止したのは1635年で、三代将軍徳川家光のときである。

[問題](2 学期中間)

島原・天草一揆の後、外国との交流が制限されたのちも、貿易が許されたヨーロッパの国はどこか。

[解答]オランダ

[問題](後期期末)

次の文は江戸時代を説明している。各問いに答えよ。

- A ① 幕府が私たちの来航を禁止したので、帰国しなければならない。日本に鉄砲を伝えたのは、私たちの国の人間なのに残念だ。
- B 幕府は、キリスト教徒が指導して大規模な一揆を起こしたとしている。だから、Aの国の人々を追放し、日本の国の人々にキリスト教徒でないことを証明させた。日本と貿易を認められたヨーロッパ人は私たちだけになったが、貿易を行なえるのは、②この町の狭い場所に限られた。

- (1) A, Bはそれぞれどこの国のことか、国名を書け。
- (2) 下線部①の政策をおこなった将軍はだれか。
- (3) 下線部②の町の名と場所名を答えよ。

[解答](1)A ポルトガル B オランダ

(2) 徳川家光 (3) 長崎, 出島

[問題](2 学期中間)

17世紀の前半に明を滅ぼして女真族が作った中国の王朝の名前を漢字一字で答えなさい。

[解答]清

◆社会歴史の各ファイルへのリンク

<http://www.fdtype.com/dp/sr3/index.html>

◆FdData 中間期末の特徴(QandA 方式)

http://www.fdtype.com/dp/qanda_k.html

◆製品版(パソコン Word 文書：印刷・編集用) の価格・購入方法

<http://www.fdtype.com/dp/seihin.html>

※ iPhone でリンク先が開かない場合は、
「iBooks」を開いてリンクをタップください。

【Fd 教材開発】 Mail : info2@fdtype.com