


【FdData 中間期末：中学歴史：明治】

【日清戦争】

【問題】(2 学期中間)


次の各問いに答えなさい。



- (1) 図は何という戦争の風刺画か、その戦争の名前を答えなさい。
- (2) 図の中の a, b, c にあたる国名をそれぞれ答えなさい。

【解答】(1) 日清戦争 (2)a 日本 b ロシア c 清

[解説]



朝鮮では、日本と清が勢力争い<sup>しん</sup>をくりひろげていた。朝鮮国内では、明治維新にならって近代化をはかろうとする親日派と、清との関係を維持しようとする親中派とが、激しく対立していた。当時、ロシアが南下政策をとりつつあり、朝鮮がロシアの手に落ちれば、やがて、日本そのものが危うくなるという危機感があった。朝鮮における清との対立が深まる中、日本は軍備<sup>ぐんび</sup>の増強<sup>ぞうきょう</sup>をはかった。図は日清戦争<sup>にっしん ふうしが</sup>の風刺画である。aが日本、cが清で、水の中の魚は朝鮮である。日清戦争が朝鮮をめぐる日本と清の争いであったことを表している。橋の上から漁夫の利を得ようと機会をうかがっているbはロシアである。


【問題】(2 学期期末)

右の資料は、日清戦争前の国際情勢を風刺した絵である。

この当時のアジアの状況を「日本」「朝鮮」

「中国」「ロシア」の

語句をすべて使って説明しなさい。



【解答】日本と中国が朝鮮をめぐる対立し、それをロシアが横取りしようとしていた。

【問題】(2 学期期末)

次の( )に当てはまる語句を答えよ。

朝鮮では日本と( ① )が勢力争いをしていて、1894年に朝鮮国内で( ② )戦争という農民の反乱が起きると、両国が朝鮮に出兵し、( ③ )戦争が始まった。戦いは日本が勝利し、翌年( ④ )条約が結ばれ、清が( ⑤ )半島や台湾を日本に譲り、多額の賠償金を日本に支払うことになった。しかし、ロシア、( ⑥ )、フランスの3国は(⑤)半島を返還するように勧告した。これを( ⑦ )という。

[解答]① 清 ② 甲午農民 ③ 日清 ④ 下関  
⑤ 遼東 ⑥ ドイツ ⑦ 三国干涉

[解説]

1894年 **甲午農民戦争**(**東学**を信仰する  
農民の反乱)

1894年 **日清戦争**

1895年 **下関条約** 日本の全権は 伊藤博文

- 1) 清は朝鮮の独立を認める
- 2) 遼東半島, 台湾などを日本に譲る
- 3) 賠償金3億円を日本に支払う

1895年 **三国干涉** **ロシア, ドイツ, フランス**

**遼東半島**を返還

<sup>ちょうせん</sup>朝鮮では政治・経済が混乱するなかで、<sup>とうがく</sup>東学という民間宗教を信仰する農民などが、1894年、外国人排斥や政治改革をめざして兵をあげた。これを<sup>こうご</sup>甲午農民戦争という。これを機に、清と日本は出兵し、<sup>にっしん</sup>日清戦争が始まった。(一発 <sup>きゅうしゅう</sup>急襲 (1894)日清戦争)

日清戦争は日本の勝利に終わり、翌 1895年、<sup>しものせき</sup>下関条約が結ばれた。この条約で清は、1)朝鮮の独立を認め、2)<sup>りあおとん</sup>遼東半島, <sup>たいわん</sup>台湾などを日本に譲る、3)<sup>ばいしょうきん</sup>賠償金3億円を日本に支払うこと、な

どを認めた。

一方、満州への進出をねらっていたロシアは、ドイツとフランスをさそって、日本に対して遼東半島を清に返すように要求してきた。これを三国干渉という。当時、日本はロシアなどと戦う力はなかったため、この圧力に屈して賠償金と引きかえに遼東半島を清に返還した。その後、ロシアはこの遼東半島を清から租借した。

### [問題](2 学期中間)

甲午農民戦争の中心となった宗教団体の宗教の名前を書きなさい。

### [解答]東学

### [問題](2 学期中間)

次の文の①、②に適語を入れよ。

1895年、日清戦争の講和条約である( ① )条約が締結された。(①)は( ② )県にある都市である。

### [解答]① 下関 ② 山口

[問題](2 学期期末)

日清戦争の講和会議における、日本側の代表の名前を一人書きなさい。

[解答]伊藤博文(陸奥宗光)

[問題](2 学期中間)

次の文の①, ②に適語を入れよ。

日清戦争後の講和会議で、清は( ① )の独立を認めるとともに、( ② )半島, 台湾, ポンフー諸島を日本に譲り, 巨額の賠償金を支払うことになった。

[解答]① 朝鮮 ② 遼東

[問題](2 学期中間)

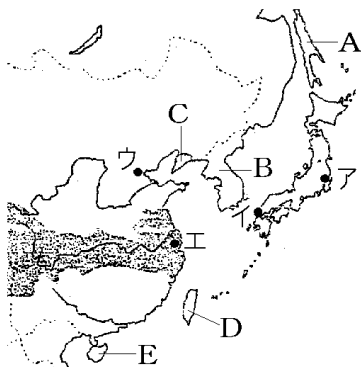
下関条約の内容としてあてはまらないものを次のア～エから1つ選べ。

- ア 遼東半島・台湾・ポンフー諸島の譲渡   イ  
朝鮮に対する支配権  
ウ 朝鮮の独立   エ 賠償金約3億円の支払い

[解答]イ

【問題】(2学期中間)

日清戦争について、次の各問いに答えなさい。



( )でおこった農民の反乱(甲午農民戦争)をきっかけとしてこの戦争が始まった。戦いは日本の勝利に終わり、a 講和条約が結ばれ、日本は b 領土を獲得し、賠償金を獲得した。戦後、列強は競って中国内に勢力を広げ様々な利権を獲得した。

- (1) 文中の( )に適する場所を入れなさい。
- (2) ①下線部 a の条約の名前と、②結ばれた場所を地図のア～エの中から1つ選びなさい。
- (3) 下線部 b にあてはまる地域を、地図中の A～E から2つ選びなさい。
- (4) (3)の日本が獲得した地域のうち、ロシアなどから、清へ返還するように要求された半島の名前を答えなさい。

(5) 次の風刺画に示される、(4)の返還の要求を何  
というのか答えなさい。



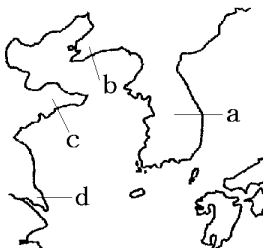
[解答](1) 朝鮮 (2)① 下関条約 ② イ  
(3) C, D (4) 遼東半島 (5) 三国干涉



【問題】(3 学期)

次の各問いに答えなさい。

- (1) 日清戦争は、朝鮮半島内で起こった民衆の蜂起を鎮圧するため清と日本が朝鮮半島に出兵して始まった。この民衆の蜂起を何といいますか。



- (2) ①日清戦争の講和会議で結ばれた条約の名前を答えなさい。②また、この講和会議により、日本が得た遼東半島はどこか、図の a～d から記号で選びなさい。

- (3) ①(2)の内容に対して、日本が得た遼東半島を清に返還するように勧告してきた 3 つの国の組み合わせとして正しいものをア～エから選び記号で答えなさい。②また、この要求を何とつか答えなさい。

ア ロシア・ドイツ・イギリス

イ ロシア・ドイツ・アメリカ

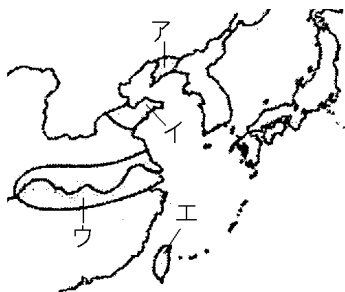
ウ ロシア・ドイツ・フランス

エ ドイツ・フランス・イギリス

[解答](1) 甲午農民戦争 (2)① 下関条約 ② b  
(3)① ウ ② 三国干渉

[問題](2 学期期末)

次の各問いに答えよ。



- (1) 下関条約の後、ロシアなどが遼東半島の清への返還を要求してきた。このできごとを何と  
いうか。
- (2) (1)によって日本が返還した地域を地図のア  
～エから記号で選べ。

[解答](1) 三国干渉 (2) ア

### [問題](前期期末)

次の各問いに答えなさい。

- (1) 日清戦争のきっかけとなった朝鮮国内で起きた暴動を何といいますか。
- (2) 下関条約のあと日本は三国干渉を受け、やむなく獲得した領地を返還したが、その三国の名を答えなさい。

[解答](1) 甲午農民戦争 (2) ロシア, フランス, ドイツ

### [問題](2 学期中間)

下関条約で日本が中国からゆずりうけた台湾を支配するために置いた役所の名前を書きなさい。

[解答]台湾総督府

### [問題](2 学期中間)

日清戦争の後、朝鮮は中国からの独立を宣言し、国名を変えました。その国名を漢字4字で書きなさい。

[解答]大韓帝国

◆社会歴史の各ファイルへのリンク

<http://www.fdtype.com/dp/sr4/index.html>

◆FdData 中間期末の特徴(QandA 方式)

[http://www.fdtype.com/dp/qanda\\_k.html](http://www.fdtype.com/dp/qanda_k.html)

◆製品版(パソコン Word 文書：印刷・編集用)  
の価格・購入方法

<http://www.fdtype.com/dp/seihin.html>

※ iPhone でリンク先が開かない場合は、  
「iBooks」を開いてリンクをタップください。

【Fd 教材開発】 Mail : [info2@fdtype.com](mailto:info2@fdtype.com)