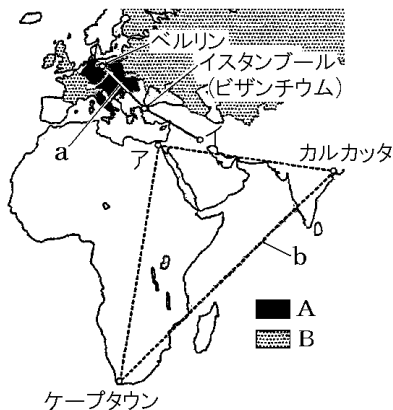


【FdData 中間期末：中学歴史：大正】

【列強の対立と第一次世界大戦の勃発】

【問題】(1 学期中間)

第一次世界大戦について，次の地図を見て各問いに答えよ。



- (1) 地図中 A, B で示した国の間にはどのような軍事的な取り決めがあったか。それぞれ答えよ。
- (2) 地図中の a はドイツの，b はイギリスの政策を示している。それぞれ何というか。
- (3) 地図中ア，イの都市名を書け。

- (4) 地図中 A の加盟国であったが、領土問題から
連合側についていた国はどこか。その国名を書
け。
- (5) この戦争がおこった場所は「ヨーロッパの火
薬庫」とよばれた半島である。この半島名を
書け。
- (6) この戦争のきっかけとなった事件は何か。
- (7) (6)の事件の内容を説明せよ。

[解答](1)A 三国同盟 B 三国協商 (2)a 3B 政策
b 3C 政策 (3)ア カイロ イ バクダッド
(4) イタリア (5) バルカン半島 (6) サラエボ
事件 (7) オーストリア皇太子夫妻が、セルビア
の青年にサラエボで暗殺された事件。

[解説]

三国同盟：ドイツ(3B政策)・オーストリア・イタリア

三国協商：イギリス(3C政策)・フランス・ロシア

バルカン半島：ヨーロッパの火薬庫



1914年 サラエボ事件

(オーストリアの皇太子夫妻が
セルビアの青年に暗殺される)



第一次世界大戦が始まる



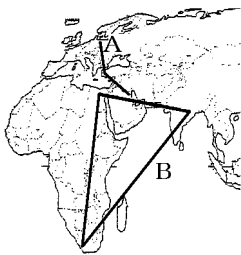
ドイツは、オーストリア、イタリアと^{さんごくどうめい}三国同盟を結び、ベルリンービザンチウムーバクダッドへ積極的に勢力をのぼそうとする3B政策をとった。これはイギリスの3C政策(カイローカルカッターケープタウン)と対立するものであり、イギリスは、フランス、ロシアと^{さんごくきょうしょう}三国 協商を結んで対抗した。これらの列強は世界中で対立していたが、しだいにバルカン半島が対立の中心になり、民族・宗教の対立もからんで、バルカン半島は「ヨーロッパの^{かやくこ}火薬庫」とよばれるようになった。1914年、バルカン半島のサラエボという都市で、オーストリアの^{こうたいしふさい}皇太子夫妻がセルビアの^{あんさつ}青年に暗殺されるというサラエボ事件がおこり、オーストリ

アとセルビアが開戦し、ドイツ、トルコなどの同盟国がオーストリアにつき、イギリス、フランス、ロシアなどの連合国がセルビアについて、戦争は世界中に広がって、第一次世界大戦が始まった。(第一次大戦行く銃士(1914)) なお、イタリアは戦争が始まると同盟国側についた。

[問題](1 学期中間)

地図中の A, B の記号について、次の各問いに答えよ。

- (1) A のベルリン・ビザンチウム・バグダッドを結ぶ政策を何というか。
- (2) (1)の政策をとった国名を答えよ。
- (3) B のカイロ・ケープタウン・カルカッタを結ぶ地域の支配を目的とする政策を何というか。
- (4) (3)の政策をとった国名を答えよ。



[解答](1) 3B 政策 (2) ドイツ (3) 3C 政策
(4) イギリス

[問題](1 学期中間)

第一次世界大戦直前のヨーロッパのようすについて書かれた次の文の()にあてはまる語句を書きなさい。

帝国主義諸国のうち、新興のドイツは 19 世紀末に(①)・イタリアと三国同盟を結びました。いっぽう、イギリスはフランス・(②)と(③)を成立させドイツと対抗しました。このころ、トルコの支配がおとろえた(④)半島は諸民族が対立し、「ヨーロッパの火薬庫」とよばれていました。1914 年、セルビア人青年による、(①)皇太子夫妻暗殺事件がきっかけとなって、同盟国と連合国とのあいだで第一次世界大戦が始まりました。

[解答]① オーストリア ② ロシア
③ 三国協商 ④ バルカン

【問題】(2 学期中間)

次の文の()に適語を入れよ。

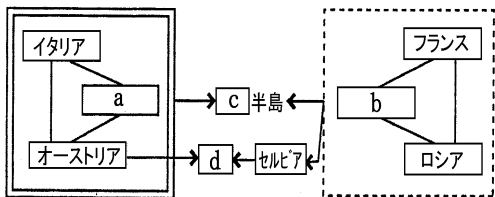
(①)主義の政策をとるヨーロッパ諸国は、植民地や勢力範囲をめぐって対立し、特に 3C 政策をとる(②)と遅れて進出した 3B 政策の(③)は激しく対立した。このころ、(④)半島で民族の独立をめざす運動が高まると、(①)主義諸国はたがいここの動きを利用して勢力をのばそうとし、この地域は「ヨーロッパの火薬庫」とよばれた。

1914 年、(④)半島の(⑤)でオーストリアの皇太子夫妻が(⑥)の青年に暗殺された。これをきっかけとして、第一次世界大戦が始まった。

【解答】① 帝国 ② イギリス ③ ドイツ
④ バルカン ⑤ サラエボ ⑥ セルビア

[問題](2学期中間)

図を見て、次の各問いに答えよ。



- (1) 図中の a, b にあてはまる国名を答えよ。
- (2) 対立の中心となった c 半島は当時「ヨーロッパの火薬庫」とよばれた。半島名を答えよ。
- (3) c の半島を地図中の あ～え から選び、記号で答えよ。



- (4) 図中の d は、第一次世界大戦のきっかけとなった事件を表している。この事件を次の語句を使って簡単に説明せよ。
[オーストリア セルビア サラエボ]

(5) (4)の事件の背景としてあてはまるものを 1 つ選べ。

ア 条約の調印をめぐるの対立

イ 国際連盟への加盟をめぐるの対立

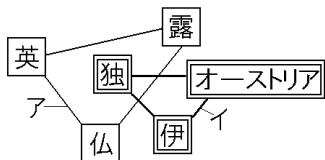
ウ 民族をめぐるの対立

エ アジアの植民地化をめぐるの対立

[解答](1)a ドイツ b イギリス (2) バルカン半島 (3) え (4) オーストリアの皇太子夫妻がサラエボでセルビア人青年に暗殺された。 (5) ウ

[問題](3 学期)

図を見て、次の各問いに答えなさい。



- (1) 第一次世界大戦前の図中アの 3 か国の軍事的な結びつきを何とといいますか。
- (2) 第一次世界大戦前の図中イの 3 か国の軍事的な結びつきを何とといいますか。
- (3) ヨーロッパのある半島は紛争が絶えず、「ヨーロッパの火薬庫」とよばれていた。何という半島ですか、答えなさい。
- (4) 第一次世界大戦のきっかけとなった事件は何ですか。

[解答](1) 三国協商 (2) 三国同盟 (3) バルカン半島 (4) サラエボ事件

【問題】(後期期末)

第一次世界大戦について、次の各問いに答えなさい。



- (1) 「ヨーロッパの火薬庫」とよばれていた半島を、地図のア～エから1つ選び記号で書きなさい。
- (2) 第一次世界大戦のきっかけとなったできごとを、次のア～ウから1つ選び、記号を書きなさい。

ア ドイツがオーストリアを攻撃した。

イ オーストリアの皇太子夫妻がセルビア人に暗殺された。

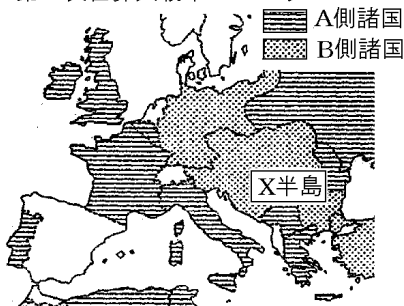
ウ イタリアがドイツとの同盟から脱退した。

【解答】(1) エ (2) イ

[問題](2 学期期末)

第一次世界大戦について、次の各問いに答えよ。

第一次世界大戦中のヨーロッパ



- (1) どこの国の皇太子夫妻が暗殺されたことがきっかけでおこったか。
- (2) 地図中の A, B にあてはまる語句を、それぞれ漢字 3 字で書け。
- (3) 地図中の X 半島は民族紛争が絶えなかった。何という半島か。

[解答](1) オーストリア (2) A 連合国 B 同盟国

(3) バルカン半島

【解説】

第一次世界大戦が始まる前は、^{さんごくどうめい}三国同盟(ドイツ・オーストリア・イタリア)と^{きょうしょう}三国協商(イギリス・フランス・ロシア)が対立していた。第一次世界大戦が始まると、イタリアは三国同盟を^{はき}破棄して中立を宣言し、1915年になってイギリス側にたって参戦した。そこで、第一次世界大戦のときの両陣営を、同盟国側(ドイツ・オーストリア・トルコ)と連合国側(イギリス・フランス・ロシア・イタリア、後にアメリカ)の2つに分けている。

【問題】(1 学期中間)

文中の()に適語を入れよ。

20 世紀の初めごろ，ヨーロッパ列強は，ドイツ・オーストリア・イタリアの三国(①)とイギリス・ロシア・フランスの三国(②)に分かれて対立していた。(③)半島はこのような列強の対立と民族・宗教の対立がからまって紛争が絶えず，(④)とよばれていた。(⑤)年の夏，(⑥)の皇太子夫妻が(⑦)の青年に(⑧)で暗殺される(⑧)事件が起こった。オーストリアとセルビアが開戦し，ドイツ，トルコなどの(⑨)国がオーストリアにつき，イギリス，フランス，ロシアなどの(⑩)国がセルビアについて，戦争は世界中に広がって(⑪)が始まった。

【解答】① 同盟 ② 協商 ③ バルカン

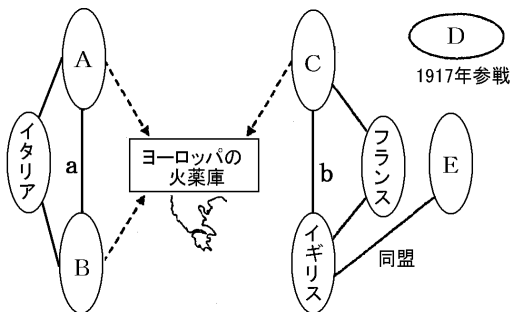
④ ヨーロッパの火薬庫 ⑤ 1914

⑥ オーストリア ⑦ セルビア ⑧ サラエボ

⑨ 同盟 ⑩ 連合 ⑪ 第一次世界大戦

[問題](3学期)

次の図を見て以下の各問いに答えなさい。

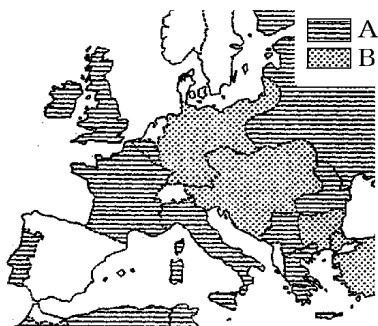


- (1) ヨーロッパの火薬庫といわれたのは何半島ですか。
- (2) A の国の皇太子が暗殺されたことによって第一次世界大戦が起こったが、その事件を何といいますか。
- (3) A の国名を書きなさい。
- (4) イギリスと E の国の間で 1902 年に結ばれた同盟を何というか、答えなさい。
- (5) 1904 年に E と C の間に起こった戦争を何というか、答えなさい。
- (6) B と D の国名を答えなさい。
- (7) a・b の結びつきをそれぞれ何というか、答えなさい。

- [解答](1) バルカン半島 (2) サラエボ事件
(3) オーストリア (4) 日英同盟 (5) 日露戦争
(6) B ドイツ D アメリカ (7)a 三国同盟
b 三国協商

[問題](3 学期)

T 君は、第一次世界大戦について、地図と資料を使って調べました。次の各問いに答えなさい。



- (1) 地図の A, B は、第一次世界大戦中の同盟国と連合国を示しています。日本はどちら側に立って参戦したか。記号で書きなさい。
- (2) この戦争のきっかけとなった「ヨーロッパの火薬庫」とよばれた半島名を書きなさい。
- (3) 大戦に途中から参加し、戦後の世界に発言力を強めたこの地図にのっていない国はどこですか。国名を書きなさい。

[解答](1) A (2) バルカン半島 (3) アメリカ

[問題](2 学期期末)

文中の①～⑤にあてはまる国名や地名を書け。

植民地の拡大をめざす(①)は(②)やイタリヤとむすびついた。一方、(①)と対立した(③)は(④)とフランスと互いの勢力圏を保障しあつてむすびついた。「ヨーロッパの火薬庫」といわれた(⑤)半島でセルビアの青年が、(②)の皇太子夫妻を暗殺する事件が起こると、これをきっかけとして第一次世界大戦が始まった。日本も参戦し、1917年にはアメリカも連合国側に加わった。戦争中に(④)では革命が起こり、世界初の社会主義国が生まれた。その後、(①)でも国内に革命が起こり降伏した。大戦後、(①)では、多額の賠償金の支払いに苦しんだが、一方では労働者の団結権を認めた新しい憲法が作られた。

[解答]① ドイツ ② オーストリア

③ イギリス ④ ロシア ⑤ バルカン

[問題](1 学期期末)

以下の各問いに答えよ。

- (1) 次の[]のうち、第一次世界大戦の時に連合側にとって戦った国はどれか、すべて選べ。
- [イギリス ドイツ アルゼンチン ロシア 日本 フランス アメリカ]
- (2) 上の[]の国のうち、いくつかは第一次世界大戦の直前に2つのグループに分かれて、対立していた。その2つのグループ名を書け。
- (3) 第一次世界大戦直前、ヨーロッパのバルカン半島はいつ戦争がおきてもおかしくない状態であった。そのため、この危険な半島は何とよばれていたか。

[解答](1) イギリス, ロシア, 日本, フランス, アメリカ (2) 三国同盟, 三国協商 (3) ヨーロッパの火薬庫

[問題](後期中間)

次の文の下線部が正しければ○, 間違っていれば正しく書き直しなさい。

バルカン半島は、帝国主義の政策をとる列強の利害と民族の独立をめざす動きがからまって紛争が絶えず、「ヨーロッパの食料庫」とよばれた。

[解答]火薬庫

[問題](3 学期)

世界中を巻きこんだ第一次世界大戦で使われた新兵器にあてはまらないものを、次から1つ選びなさい。

[毒ガス 飛行機 原子爆弾 戦車]

[解答]原子爆弾

[解説]

第一次世界大戦では、飛行機・戦車・毒ガスなどの新兵器が使われた。戦いは各国の総力を挙げた消耗戦となり、戦死者数も1500万人とそれまでに例を見ない悲惨なものになった。

原子爆弾は第二次世界大戦中にアメリカが初めて開発に成功し、広島と長崎に投下した。

[問題](1 学期中間)

第一次世界大戦で新たに使用された兵器を2つ答えなさい。

[解答]毒ガス、飛行機(戦車、潜水艦、飛行船)

◆社会歴史の各ファイルへのリンク

<http://www.fdtype.com/dp/sr5/index.html>

◆FdData 中間期末の特徴(QandA 方式)

http://www.fdtype.com/dp/qanda_k.html

◆製品版(パソコン Word 文書：印刷・編集用)
の価格・購入方法

<http://www.fdtype.com/dp/seihin.html>

※ iPhone でリンク先が開かない場合は、
「iBooks」を開いてリンクをタップください。

【Fd 教材開発】 Mail : info2@fdtype.com