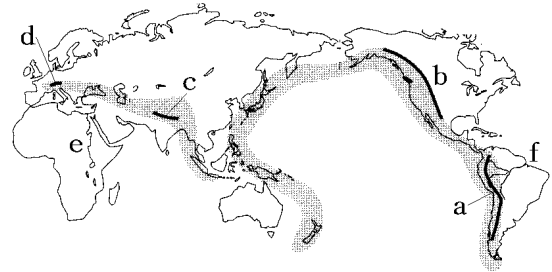


【】自然環境の特色

【】地形の特色

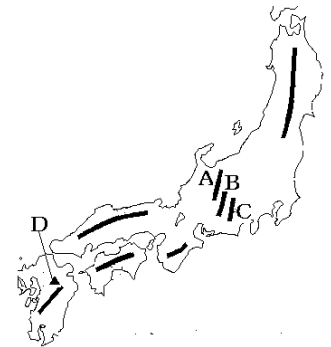
[要点]

- ・環太平洋造山帯：アンデス山脈(a)，ロッキー山脈(b)，日本列島，フィリピン。
- ・アルプス・ヒマラヤ造山帯：ヒマラヤ山脈(c)，アルプス山脈(d)をふくむ。
- *2つの造山帯付近：火山や地震が多い。
- ・ナイル川(e)(世界最長)
- アマゾン川(f)(流域面積が最大)



- ・日本は環太平洋造山帯の中にあり，国土の4分の3は山地。
糸魚川(新潟県)と静岡を結ぶフォッサマグナを境に，
山脈は東側では南北，西側では東西に走っている。

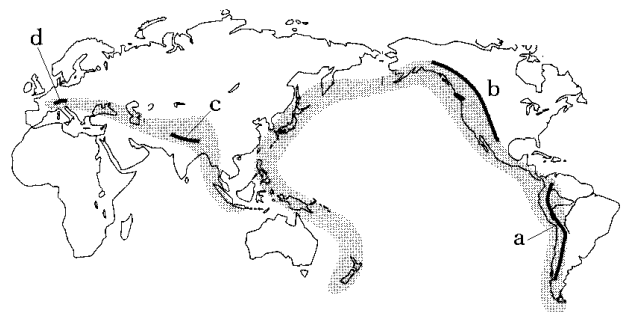
日本アルプス：飛騨山脈(A)，木曾山脈(B)，赤石山脈(C)
阿蘇山(D)は世界一のカルデラで有名。



- ・日本の河川は短く流域面積が狭いため流れが急。
信濃川(日本最長)，利根川(流域面積が日本最大)。
- ・扇状地：山間部から平地にでるところに土砂が堆積してできた地形(例：甲府盆地)。
- ・三角州：河口付近に土砂が堆積してできた地形。
- ・リアス式海岸：山間部が沈降してできた複雑な海岸線(例 三陸海岸，若狭湾沿岸)。

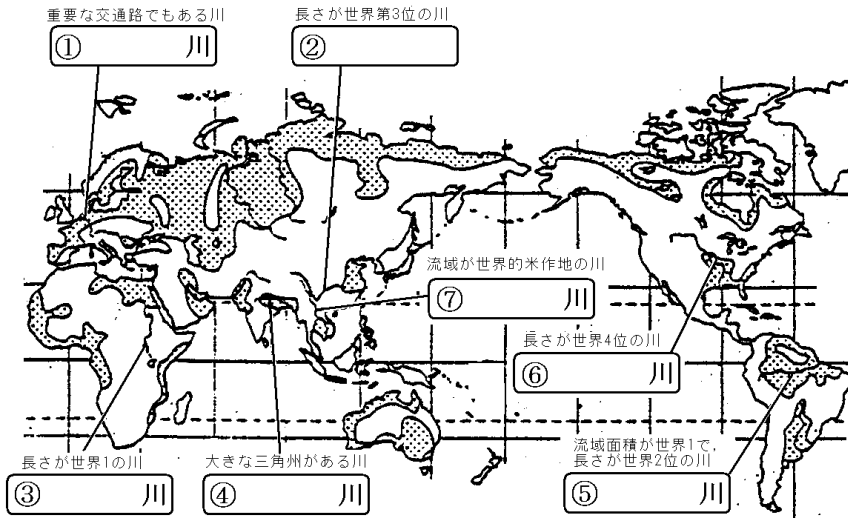
[B問題1]

- (1) a, bはそれぞれ何という山脈か。
- (2) a, b, 日本列島，フィリピンとつらなる造山帯を何というか。
- (3) c, dはそれぞれ何という山脈か。
- (4) c, dをふくむ造山帯を何というか。
- (5) (2), (4)の造山帯はともに，地盤が不安定で，
()や()の多い地帯になっている。



[C 問題 2]

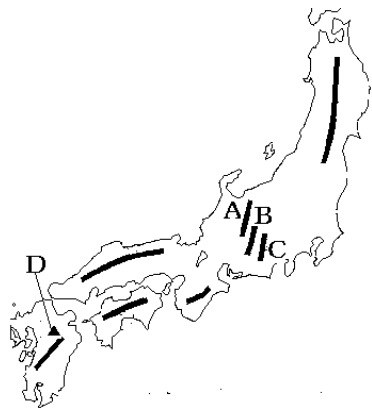
(1) 下の世界地図の ~ に適語を入れよ。



- (2) 世界一の長さをほこる川は何か。
- (3) 流域面積が世界で最も広い川は何か。
- (4) 中国の華北地帯を流れ、長江につぐ中国第2の川は何か。

[B 問題 3]

- (1) 日本は何という造山帯の中にあるか。
- (2) 日本の中央部には、A, B, C の山脈を中心に 3000m 級の山々があるが、何と呼ばれているか。
- (3) A, B, C の山脈の名を答えよ。
- (4) 新潟県と静岡県を結ぶ、日本の山脈が大きく向きを変えている境目を何というか。
- (5) 日本の山脈は(4)を境に、東は(東西, 南北)に、西は(東西, 南北)に走っている。
- (6) D は火山の噴火によってできた巨大なくぼ地(世界最大)をもつ火山である。何という山か。また、このくぼ地を何というか。



[C 問題 4]

- (1) 日本の国土のうち，山地はどれくらいの割合をしめるか。
- (2) 青森県と秋田県の境にある(1)山地の(2)の原生林は(3)遺産に登録されている。
- (3) フォッサマグナより西の西日本の森林は(針葉樹，落葉広葉樹，常緑広葉樹)が多く分布している。
- (4) 鹿児島県の()には，樹齢 1000 年以上のすぎもあり，垂直分布では亜熱帯植物から冷帯植物まで見られる。
- (5) 琉球諸島りゅうきゅうや小笠原諸島おがさわらには多くの生物が生息している()の海岸がみられる。

[B 問題 5]

- (1) 日本の河川は，世界の河川にくらべて，どのような特徴があるか。3つあげよ。
- (2) 日本でもっとも長い川は何か。
- (3) 日本でもっとも流域面積が大きい川は何か。
- (4) 河川の海への出口付近に土砂が堆積してできる地形を何というか。
- (5) 河川が平地にでるところに土砂を堆積させてできた，ゆるやかな傾斜地を何というか。

[C 問題 6]

- (1) 三陸海岸や若狭湾沿岸わかさわんにみられる複雑な海岸線を何というか。また，どのような地形の変動が原因になってできたものか。
- (2) 鳥取平野や九十九里浜にみられる海岸を何というか。
- (3) 利根川が土砂を運び，日本最大の平野となったのはどこか。
- (4) 山梨県にある盆地で典型的な扇状地の地形が見られるのは何という盆地か。

【】世界の気候と人々の生活

[要点]

世界の気候

熱帯(A)：赤道直下は年中高温多雨。

その周辺部のサバナは雨季と乾季。

乾燥帯(C)：降水量がきわめて少ない砂漠，

ステップという草原。

温帯(B)：偏西風の影響を受ける西岸海洋性気候，

夏に乾燥する地中海性気候，温暖湿潤気候。

亜寒帯(D)：冬の寒さは厳しいが，夏は高温

になる。タイガという針葉樹林帯が広がっている。

寒帯(E)：1年じゅう雪や氷でおおわれており，夏の間だけコケ類が生える。

* 南半球の雨温図：6，7月に気温が低い。


(住居)

ジャワ(熱帯，竹とやしの葉でできた家，^{たかゆかしき}高床式)

イラン(乾燥帯，土や干しれんが) モンゴル(乾燥帯，移動するので組み立て式)

アラスカ(寒帯・亜寒帯，^{しんようじゅ}針葉樹の丸太で作った住居，ガラスは二重)

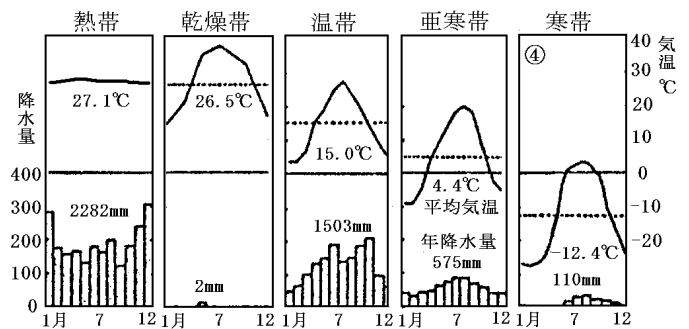
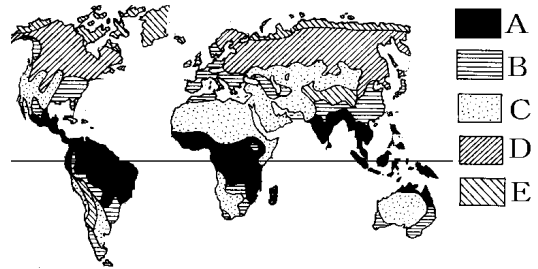
(衣服)



- a インド，サリー
- b 朝鮮，チマ・チョゴリ
- c 中国
- d イラン，チャドル
- e アラスカ，動物の毛皮で作った防寒具
- f オランダ，木靴 g ペルー，ポンチョ

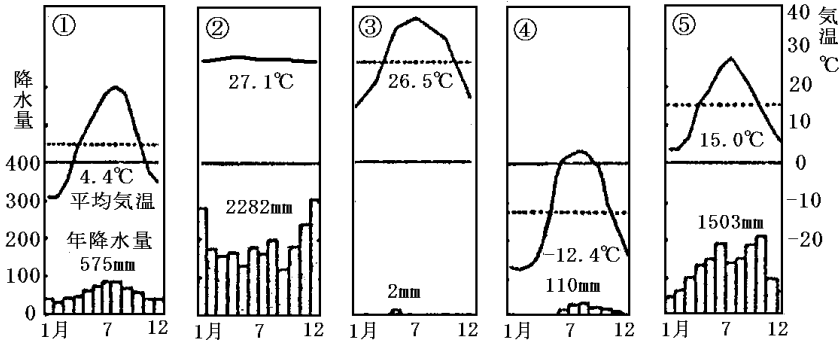
(食事)

- ・主食の穀物 ヨーロッパ・アメリカ等では小麦，アジアでは米，熱帯ではいも
- ・インド 米の他にチャパティ(小麦でつくる)，カレー，牛肉は食べない
- ・イラン ナンというパン，豚肉は食べない。
- ・日本人の食生活の変化 カロリー摂取量増大。植物性→動物性食品。米→小麦(パン，めん類)
和食→洋食。自給率低下。



[B 問題 7]

次の(1)～(5)はそれぞれ何という気候の特色を説明したものか。気候名を答え、雨温図を選び、その気候帯が広がっている地域を地図中の A～Eの中から選べ。



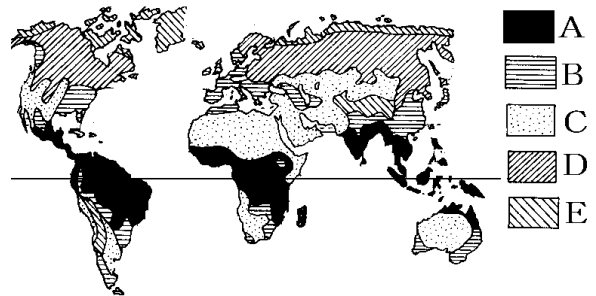
(1) 一年中、高温で、四季の変化がほとんどみられない。赤道直下の南米アマゾン川流域・アフリカのギニア湾沿岸・東南アジア島々などでは年中雨がが多くジャングルが広がっている。

(2) 一年中、ほとんど雨が降らず、たけの短い草のはえる草原か、かわききった荒地になっている。サハラ砂漠、西アジア、中央アジア、オーストラリア、北米のロッキー山脈周辺など世界の陸地の4分の1をしめる。

(3) 季節ごとの気温や降水量は、ところによって異なるが、一般に雨が多めで、暖かい。四季の変化が明らかで、多くの人々が生活している。日本はこの気候帯に属する。

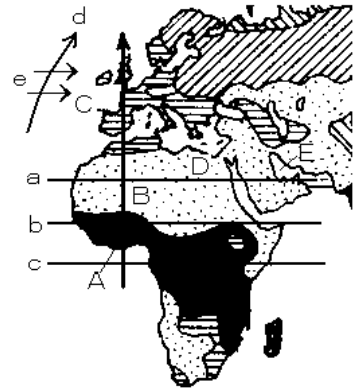
(4) 寒さのきびしい冬が長く続き、地面は凍り、雪におおわれる。しかし、短期間ではあるが、夏には気温がかなり高くなる。また、昼と夜の気温の差が大きい。タイガなどの針葉樹林帯が広がっている。

(5) 一年中、ほとんど氷や雪が消えず、夏でも寒いため、森林はみられない。しかし、夏には地表の氷がとけて、コケ類などがはえるところもある。



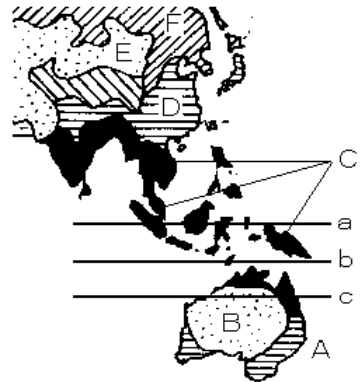
[C 問題 8]

- (1) 図の a, b, c のうち赤道はどれか。
- (2) A→B→C と飛行機で移動すると、気候は()帯→()帯→()帯とかわる。
- (3) B に広がる砂漠は何か。
- (4) B, D, E 一帯で信仰されている宗教は何か。
- (5) E の()湾沿岸で採掘される地下資源は()である。
- (6) ヨーロッパは緯度が高い割には温暖であるが、これは暖流である北大西洋海流 d の上を 1 年中西から()風(e)が吹いているためである。
- (7) 地中海沿岸は温帯の地中海性気候で平均気温は 15 , イギリスなどは温帯の西岸海洋性気候で平均気温は 10 , 降水量はともに(700, 1000, 1400)ミリ台と少ない。とくに(地中海性気候, 西岸海洋性気候)は夏に雨がほとんど降らない。(日本の太平洋岸では 2000 ミリ以上のところが多い)



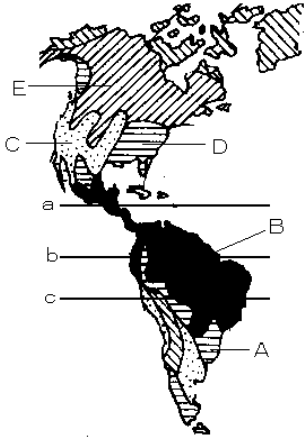
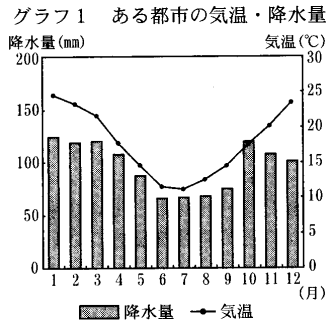
[C 問題 9]

- (1) 図の a, b, c のうち赤道はどれか。
- (2) オーストラリアの東海岸 A は何という気候帯にあるか。
- (3) オーストラリアの B 一帯は何という気候帯にあるか。
- (4) C の一帯(オーストラリア北部～東南アジア～インド)は何という気候帯にあるか。
- (5) 中国の D 一帯は何という気候帯にあるか。
- (6) モンゴル付近 E は何という気候帯にあるか。
- (7) ロシア連邦の F 付近は何という気候帯にあるか。
- (8) シベリアの亜寒帯地域に広がる針葉樹林帯を何というか。



[C 問題 10]

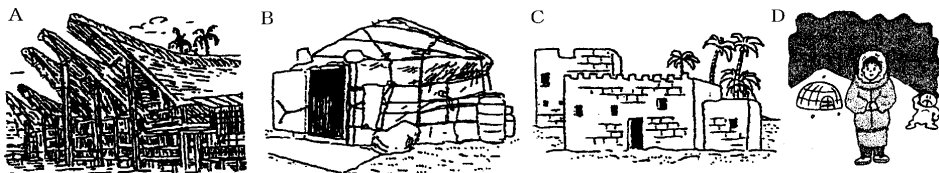
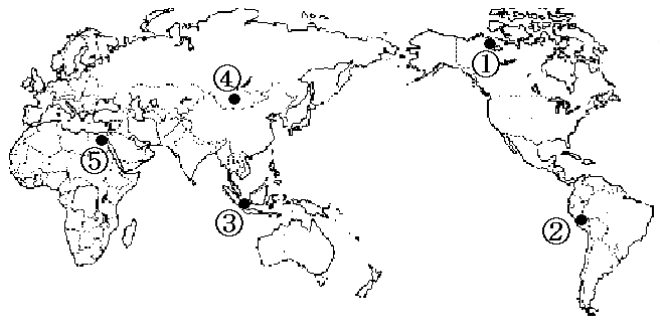
- (1) a, b, c のうち赤道はどれか。
- (2) B のブラジル一帯は何という気候帯にあるか。
- (3) B 付近を流れる大河は何か。
- (4) A のアルゼンチンの一帯は何という気候帯にあるか。
- (5) C のアメリカ・ロッキー山脈周辺は何という気候帯にあるか。
- (6) D の一帯は何という気候帯にあるか。
- (7) カナダの E の一帯は何という気候帯にあるか。
- (8) 上の雨温図は A～E のどの地域のものか。




[C 問題 11]

次の各説明にあてはまる地域を地図の ~ から、図の A～D からそれぞれ1つずつ選べ。またそれぞれの気候帯を答えよ。

- (1) 乾燥して森林が少ないため、土や干しれんがで家を作る。外の暑い空気を防ぐために窓を小さくしている。
- (2) 一年中暑くて雨が多いので、床を高くし、風通しをよくしている。
- (3) 丸太づくりの家が多い。狩りのときには厚手の氷のブロックを積み上げて作り、外のきびしい寒さを防いでいる。
- (4) 家畜のえさとなる草を求めて移動するので、組み立て式になっている。



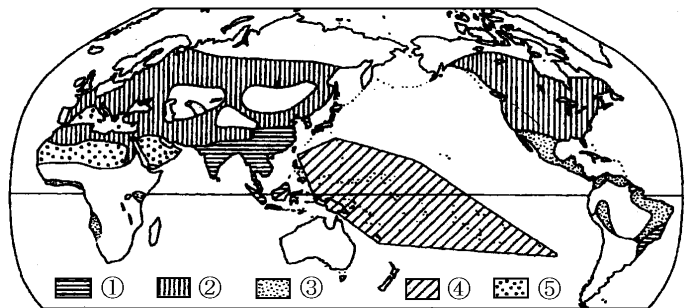
[B問題12]



- (1) イランの女性が身につけている，全身をおおう布を何というか。また，それは図のどれか。
- (2) インドの女性が着ている1枚布の服を何というか。また，それは図のどれか。
- (3) 朝鮮の民族衣装は何というか。また，それは図のどれか。
- (4) 中国の伝統的な衣装は図のどれか。
- (5) ジャワでは，人々は()というゆったりとした服を腰からまいている。
- (6) ペルーの人が着ている図gのような服を何というか。
- (7) アラスカの人々は，寒さを防ぐためどのような防寒具を着ているか。また，それは図のどれか。
- (8) 湿地が多かったオランダでは，かつてどのような靴が使われていたか。

[B問題13]

- (1) 地図中の ~ の地域では，おもにどんな食べ物を主食としているか。次から1つずつ選んで書け。
[いも 米 乳となつめやしの実 とうもろこし 小麦]
- (2) インドでは宗教上の理由からある家畜の肉は食べない。この家畜は何か。
- (3) イランでは宗教上の理由からある家畜の肉は食べない。この家畜は何か。



[C 問題 14]

(1) 世界の多くで主食用に用いられている穀物こくもつは(A)である。アジアでは(B)が主食になっており、熱帯地方では(C)が主食になっている。

(2) 次の ~ の文は、どこの国について説明したものか。下から選んで書け。

スパゲティは、ふつう昼食の一部で、比較的長い昼休みをとる。

チゲとよばれる鍋料理があり、金属製の箸やスプーンで食べる。

カレーや米も素手で上手に食べる。必ず右手で食べるきまりになっている。

パンの木の実を葉で包んで、むして食べる。

[インド イタリア 大韓民国 ペルー ミクロネシア連邦]

[C 問題 15]

(1) 日本人の1人あたりのカロリー摂取量せつしゅりょうは、他の国々と比べて多いか、少ないか。

(2) 近年、日本人の食生活で、植物性の食品と動物性の食品のどちらの割合が高くなってきているか。

(3) みそ、しょう油など、微生物の分解作用によってつくる食品を何というか。

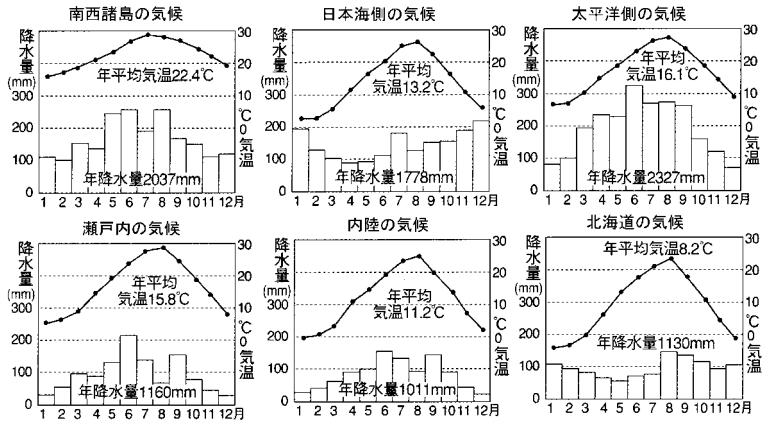
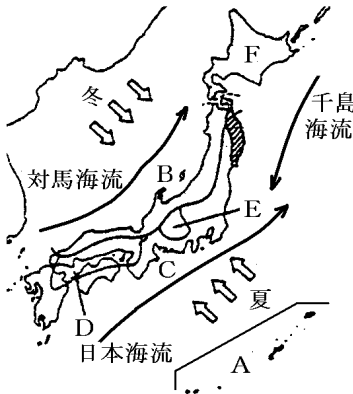
(4) 戦後、食事の洋風化が進み、主食である(1)の消費量が減少した。これにかわってパンやめん類の形で(2)を多くとるようになってきた。

(5) 食事の洋風化で、どのような食べ物を多く食べたり飲んだりするようになったか。次の中から3つ選べ。(パン 焼のり つけ物 焼き肉 みそ汁 牛乳)

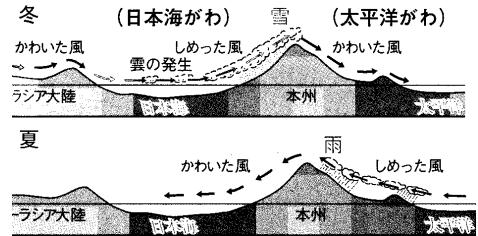
(6) 日本の食料自給率は、(増えている 減っている)。とくに穀物の自給率は低い。

【】日本の気候

[要点]



- ・季節風 冬：北西の風→日本海側に大雪。
- 夏：南東の風→太平洋側に雨が多い。



- A 南西諸島の気候：雨が多く冬も温暖(平均気温が 20 をこえる)。
- B 日本海側の気候：冬に降水量(雪)が多い(降水量のグラフが凹型になる)。
- C 太平洋側の気候：夏に雨が多い(降水量が多い 1500～2000mm台)。
- D 瀬戸内の気候：雨が少なく、冬も比較的温暖(降水量が1000mm程度→干ばつ)。
- E 内陸の候区：雨が少なく、夏と冬の気温差大(降水量が1000mm程度)。
- F 北海道の気候：雨が少なく、冬の寒さが厳しい(平均気温が1ケタ台)。
- ・日本の大部分(B～E)は温帯に属しており、四季の変化がはっきりしている、F(北海道)は亜寒帯、A(沖縄)は亜熱帯。
- ・冬より夏に雨が多いのは、6月頃の梅雨と8～9月の台風が多量の雨をもたらすため。

(自然災害)

火山噴火：桜島(鹿児島県)、火山灰、雲仙岳(長崎県)、三宅島、浅間山、有珠山

地震：兵庫県南部地震(1995年)、新潟県中越地震(2004年)

津波：地震とともに発生する高波、三陸海岸(リアス式海岸)地方。

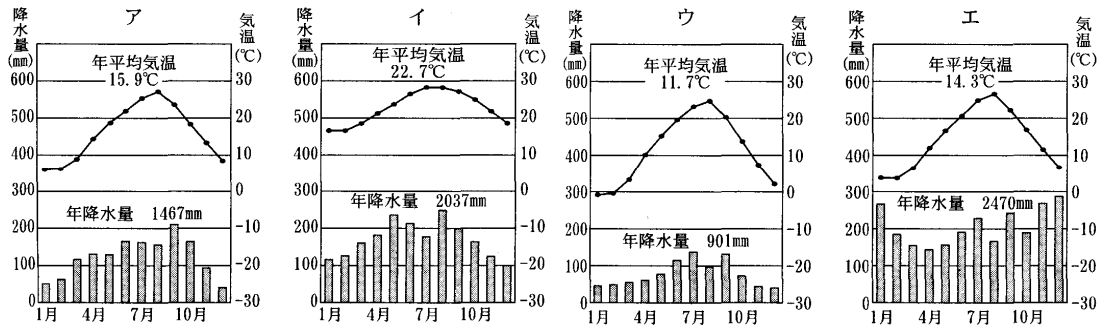
冷害：東北日本で夏に北東から吹く寒冷な「やませ」が原因で農作物が育ちにくくなる被害。

干ばつ：西南日本で空梅雨などが原因で農作物にもたらす被害(瀬戸内など)。

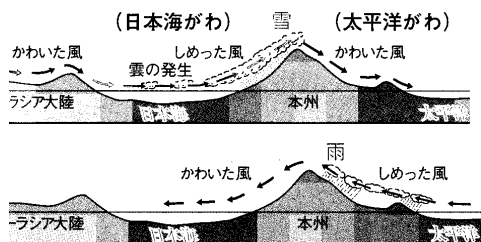
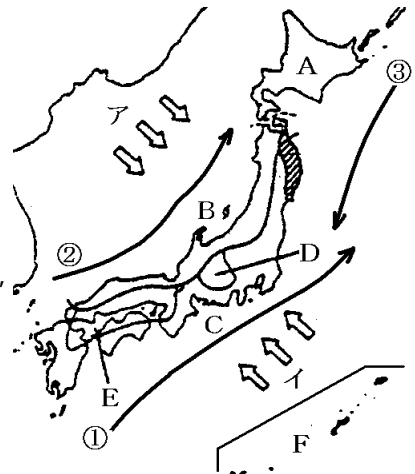
地球温暖化：大気中の炭酸ガスの増加により、世界の平均気温が上昇。

*自然災害のほかに、手抜き工事や乱開発などで引き起こされる災害を「人災」という。

[B 問題 16]

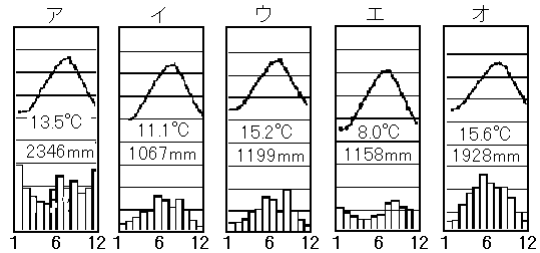
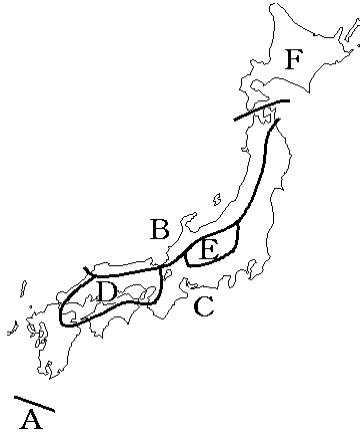


- (1) 日本の大部分(BCDE)は()という気候帯に属しており,()の変化がはっきりしている。年間の平均気温は 10 台である。
- (2) しかし,F の沖縄は()気候という亜熱帯の気候で,年間平均気温が 20 を越え,雨温図は()のようになる。
- (3) 逆に A の()気候は年間の平均気温が 10 未満で,亜寒帯の気候である。
- (4) 日本の気候に大きな影響を及ぼしているのは夏と冬でふく向きが変わる()である。
- (5) 冬には(ア,イ)の(北西,南東)の方から風が吹き,暖流の()海流の上を通過するとき多量の水蒸気を含んで,日本海側 B に大雪を降らせ,冬の降水量が多くなる。したがって B の雨温図は()のような凹型になる。
- (6) 夏には(ア,イ)の(北西,南東)の方から風が吹き,暖流の()海流の上を通過するとき多量の水蒸気を含んで,太平洋側 C に雨を降らせ,夏の降水量が多くなる。C の雨温図は()のようになり,年間降水量は 1500 ~ 2000mm 前後になる。
- (7) 日本海側を除けば,冬より夏に雨が多いが,これは 6 月頃の()と 8~9 月の()が多量の雨をもたらすためである。
- (8) E の()気候と D の()気候では雨が少なく,年間降水量は 1000mm 前後である。D の雨温図は()である。



[C 問題 17]

次の文は日本の気候を区分したときの、それぞれの気候の特色を述べたものである。 それぞれ何という気候か。 地図 A～F のうちのどの区域か。 雨温図ア～オのどれか。



- (1) 夏は高温多雨で、冬は晴れの日が多い。
- (2) 年間を通して雨が少なく、冬も溫和。
- (3) 冬に雪やくもりの日が多い。
- (4) 少雨で夏は暑く、冬は寒さがきびしい。
- (5) 亜寒帯に属する。

[B 問題 18]

- (1) 次の ~ の災害を何というか。

地面が大きくゆれて、家を破壊し、津波や山くずれ、地割れなどを起こす。

東北日本で夏の低温が原因で農作物が育ちにくくなる被害。

西南日本で空梅雨などが原因で農作物にもたらす被害。

梅雨や台風にとまなう集中豪雨により、川沿いにあたえる大きな被害。

- (2) 地震にとまなう発生する高波を何というか。
- (3) 自然災害のほかに、手抜き工事や乱開発などで引き起こされる災害を何というか。
- (4) 大気中の炭酸ガスの増加により、世界の平均気温が上昇していることを何というか。

[C 問題 19]

- (1) 次の各文は各地域の自然災害について説明したものである。説明文と関係の深い場所を地図中から選べ。

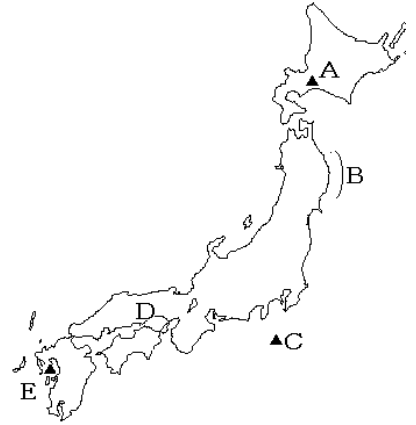
1995年に兵庫県南部地震がおこり、多くの犠牲者を出した。

1990年に雲仙・普賢岳が噴火し、火砕流も発生した。

2000年に伊豆諸島の三宅島が噴火し全島民が島外に避難した。

2000年に有珠山の噴火が起こった。

- (2) 地図の B の地域は、北東から吹く寒冷な()という季節風の影響で、稲の生育期である夏に気温が低くなり、稲の成長が悪くなる()害に見舞われてきた。



【】人口の特色

[要点]

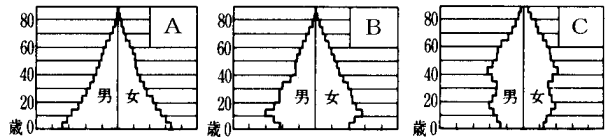
- ・世界の人口：約 66.7 億人(2007 年)。6 割がアジア州に集中。日本は約 1 億 2769 万人(2008 年)
1 位中国(13 億人，一人っ子政策を実施)，2 位インド(11 億人)
人口 3 億人台(アメリカ) 人口 2 億人台(インドネシア)
人口 1 億人台(ブラジル，ロシア連邦，パキスタン，バングラデシュ，日本，ナイジェリア，メキシコ)
- ・人口爆発：発展途上国でおこっている。原因は医療の発達による死亡率の低下(とくに乳幼児)。

・人口ピラミッド

A 富士山型：発展途上国(エチオピアなど)

B つりがね型：アメリカ合衆国

C つば型：日本，スウェーデン



日本は，A→B→C と推移。

- ・高齢化：日本は世界一の長寿国。高齢化が進み 65 歳以上の老年人口は 22%(2008 年)→高齢社会。
- ・少子化：出生率は年々低下し，年少人口が減少。今後さらに少子高齢化が進み高齢者福祉を支える。生産年齢人口(15 歳～64 歳)が減っていくため，一人あたりの負担が増えていくと予測される。

・(人口密度)=(人口)÷(面積 km²)

・人口の大半は太平洋ベルトに集中。とくに，東京，大阪，名古屋の三大都市圏に 40%が集中。

・^{かみつ}過密：都市部への人口集中→交通渋滞，騒音，住宅不足，ゴミ処理問題を引き起こしている。

^{かそ}過疎：農村部などで人口が減少し→社会生活が困難になる。

[B 問題 20]

- (1) 世界の人口は約(47 億，57 億，67 億)人である。
- (2) 近年，世界の人口が急激に増加しているが，
この現象を何というか。
世界のどのようなところでおこっているか。
その最大の原因は何か。

[C 問題 21]

- (1) 人口が 10 億人をこえる国が 2 つある。多い順にあげよ。
- (2) 人口が 2 億～3 億人の国が 2 つある。多い順にあげよ。
- (3) 人口が 1 億人台の国をあげよ。(中南米 2, アジア 3, アフリカ 1, その他 1)

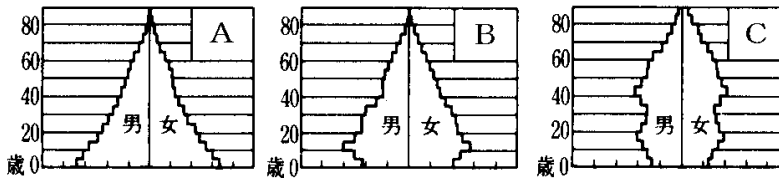
[C 問題 22]

- (1) 世界の人口が集中しているのは, どのような地域か。
- (2) 資料中の a, b の地域(州)名を答えよ。
- (3) 国や地域の人口の出生率と死亡率の差を何というか。
- (4) 中国で実施されている人口抑制のための政策は何か。

面積	人口
a 23.5%	a 60.4%
b 22.3%	
北アメリカ 17.9%	
c 16.9%	b 14.5%
南アメリカ	c 11.0%
オセアニア	北アメリカ
	南アメリカ

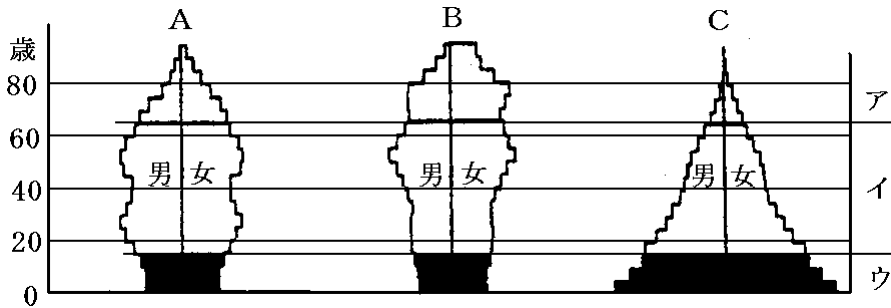
(2007年)

[B 問題 23]



- (1) 資料のようなグラフのことを何というか。
- (2) 戦前の日本や, 現在の発展途上国のように出生率・死亡率が高い場合, 年少人口が多く, 老年人口が少なくなる。この場合のグラフは A～C のどれになるか。
- (3) 日本の人口構成はどのように変化してきたか。A～C を古い順に並べよ。
- (4) 図の A, B, C はそれぞれ何型というか。
- (5) 老年人口の比率が 7% を越えると, 普通, 人口の()化が進むと言われるが, 現在はすでに 22% を突破している。今後はもっと()化が進むと予想されている。また出生率は年々低下し, いわゆる()化も進んでいる。その結果, 高齢者福祉を支える (産業別, 生産年齢, 年少)人口が減っていくため, 1 人あたりの負担が (減って, 増えて)いく。

[C 問題 24]



- (1) 図のアイウを何というか。
- (2) イは何歳から何歳までか。
- (3) 世界一の長寿国はどこか。
- (4) 総人口に占めるアの人口の割合が高い社会を何というか。
- (5) 少子化をまねく原因はどのようなことか。簡潔に書け。

[B 問題 25]

- (1) 現在の日本の人口は何人か。(1億770万人, 1億1770万人, 1億2770万人)
- (2) 人口の集中のぐあいを見るために, 面積1平方キロメートルあたりに平均した人数を何というか。
- (3) 日本の面積38万km², 人口1億3000万人として(2)を計算せよ。(小数点以下を四捨五入して整数で答えよ。)
- (4) 人口が都市圏に集中しすぎる現象を何というか。
- (5) 関東 - 東海 - 近畿 - 瀬戸内 - 北九州とつながる人口が集中している帯状の地域は()とよばれている。その中でも三大都市圏に人口が集中しているが, 三大都市とはどこどこか。
- (6) 過密はどういう都市問題を引き起こしているか。
- (7) 農村部などで人口が減少し, 社会生活が困難になる現象を何というか。
- (8) (7)の地域で生じてくる問題はどんなことか。

[C 問題 26]

- (1) 次の式にあてはまる語句を書け。人口密度 = 国の() ÷ 国土()
- (2) 日本の人口密度で正しいものを 1 つ記号で選べ。
あ 126 人 い 308 人 う 342 人 え 1000 人
- (3) 人口密度が 1 万人をこえるような地域を何というか。
- (4) 東京都において昼の人口が夜の人口を大きく上回っているのはなぜか。「居住、通勤や通学」の語を使って説明せよ。
- (5) 都心部の人口が減少し、周辺部で人口が増加することを何というか。
- (6) 人口が過密な地域の郊外につくられた、大規模な住宅地を何というか。
- (7) 人口密度が一番小さい都道府県を次から選べ。
東京都 京都府 広島県 福岡県 三重県 北海道
- (8) 次の ・ の文で、過疎地域の特徴にあてはまれば○そうでなければ×を書け。
農業や林業の後継者が不足している。
若い人が減り、高齢者が増えている。
- (9) 村おこしにはどのようなものがあるか。例をあげよ。

【】資源・産業の特色

【】農林水産業

[要点]

- ・世界の三大穀物：小麦(ヨーロッパや北アメリカ)、米(アジア)、とうもろこし
米の生産が世界一である国は中国、輸出が世界一の国はタイ。
- ・食糧自給率：先進諸国では食糧自給率が上昇。日本は非常に低い(穀物自給率は28%：2008年)
- ・貿易自由化→穀物や肉に加えて果実、野菜魚介類の輸入も増加。

(日本の農業)

- ・日本の稲作：東北(約4分の1を生産)や北陸は穀倉地帯。
政府は1969年から稲の作付けを制限する減反政策を実施し、米の生産調整を行っている。
銘柄米：コシヒカリ(新潟県)、あきたこまち(秋田県)、ひとめぼれ(宮城県)。
- ・専業農家は減少し、兼業農家が増加。零細経営。
- ・施設園芸農業：ビニールハウスや温室などを使って野菜や果実の栽培を行う。
温暖な宮崎平野や高知平野では野菜の促成栽培が行われ大都市に出荷。
- ・高原野菜：長野県の八ヶ岳山麓では夏でも冷涼な気候を利用してキャベツ・レタス・白菜を栽培。
- ・近郊農業：大都市周辺で、大都市の消費者向けに野菜・花などを作る。
- ・りんご：青森県、長野県、岩手県(2007年)
みかん：和歌山県、愛媛県、静岡県、熊本県、長崎県、佐賀県(2007年)
お茶：静岡県、鹿児島県、三重県(2008年)
- ・豚やブロイラーの頭数が日本1・2位なのは鹿児島県と宮崎県。乳牛と肉牛が日本一は北海道。

(日本の漁業)

- ・各国の200海里経済水域の設定→漁獲量は最盛期の半分。
- ・輸入が増加：中国、アメリカ、タイ、ロシア、韓国などから輸入。
- ・とる漁業から育てる漁業への転換
養殖漁業：人工の生けすなどで稚魚や稚貝を育て、成長させてからとる。
栽培漁業：稚魚を放流して沿岸の漁業資源を増やす。

(日本の林業)

- ・私有林が60%。
- ・三大美林：青森ひば、津軽ひば、秋田すぎ。
- ・木材の輸入が増加(輸入木材のほうがあいたため)：カナダ(27%)、アメリカ(16%)、ロシア(14%)、マレーシア(7%)から輸入(2008年)。

[B 問題 27]

- (1) 世界の三大穀物^{こくもつ}をあげよ。
- (2) 世界三大穀物で、日本やアジアの人々が主食としている農作物は何か。
- (3) 世界の三大穀物のうち、ヨーロッパや北アメリカなどで主食となっているものは何か。

[C 問題 28]

- (1) 次の は米・小麦のどちらか。
比較的冷涼で乾燥した地域で主に栽培されている。
比較的気温が高く降水量の多い地域で栽培されている。
- (2) 米の生産が世界一の国はどこか。
- (3) チャオプラヤ川流域で稲の栽培を行い、米の輸出が世界一の国はどこか。
- (4) アジアの米作りに大きな影響を与えている風の名前を答えよ。
- (5) ヨーロッパの中で穀物自給率が 174%で、小麦の輸出国になっている国はどこか。
- (6) 夏に乾燥する地中海沿岸で栽培されている作物で、食用油や化粧品の原料となるものは何か。

[B 問題 29]

- (1) 米作りは、日本の農業の中心である。特に()地方は、米の生産量・作付面積とも全国の約 4 分の 1 を占める穀倉地帯となっている。
- (2) 食生活の多様化により、米の消費量が減少し、生産過剰になった。そこで、政府は 1969 年から稲の作付けを制限する()政策を実施し、米の()調整を行っている。
- (3) ササニシキ、ひとめぼれ、あきたこまちなどを総称して何というか。

[C 問題 30]

- (1) かつて米は政府がいったん買い上げていたが、1995年に(1)法が施行^{しこう}され、米の自由な流通が認められるようになった。このような米を(2)という。
- (2) 新潟のブランド米は何か。
- (3) 日本の農産物の価格が高い理由を簡単に書け。
- (4) 日本の農業は、規模が(1 大きい, 小さい)ため、農業収入だけで生計を立てる(2)農家より、農業収入以外にも収入を得る(3)農家の比率が高い。
- (5) 現在の、わが国の農業の課題について、「後継者^{こうけいしや}」「高齢化^{こうれいか}」の二つの語句を使って書け。
- (6) 東北地方で夏の気温が低くて、米作りなどで受けることがある自然災害を何と言うか。
- (7) 農業生産額に占める米の割合が 1 番高い地域は次のうちのどこか。また 2 番目に高い地域はどこか。[北海道, 東北, 関東, 北陸, 東海, 近畿, 中国, 四国, 九州]

[B 問題 31]

- (1) 大都市周辺で、大都市の消費者向けに野菜・花などを作る農業を何というか。
- (2) 野菜の成長を早めて時期をずらして栽培する方法を何と言うか。
- (3) ビニールハウスや温室などを使って野菜や果実の栽培を行う農業を何というか。

[B 問題 32]

次は各農産物(米, りんご, 茶, 乳牛, 肉牛, 豚, プロイラー)の県順位である。それぞれ何か。

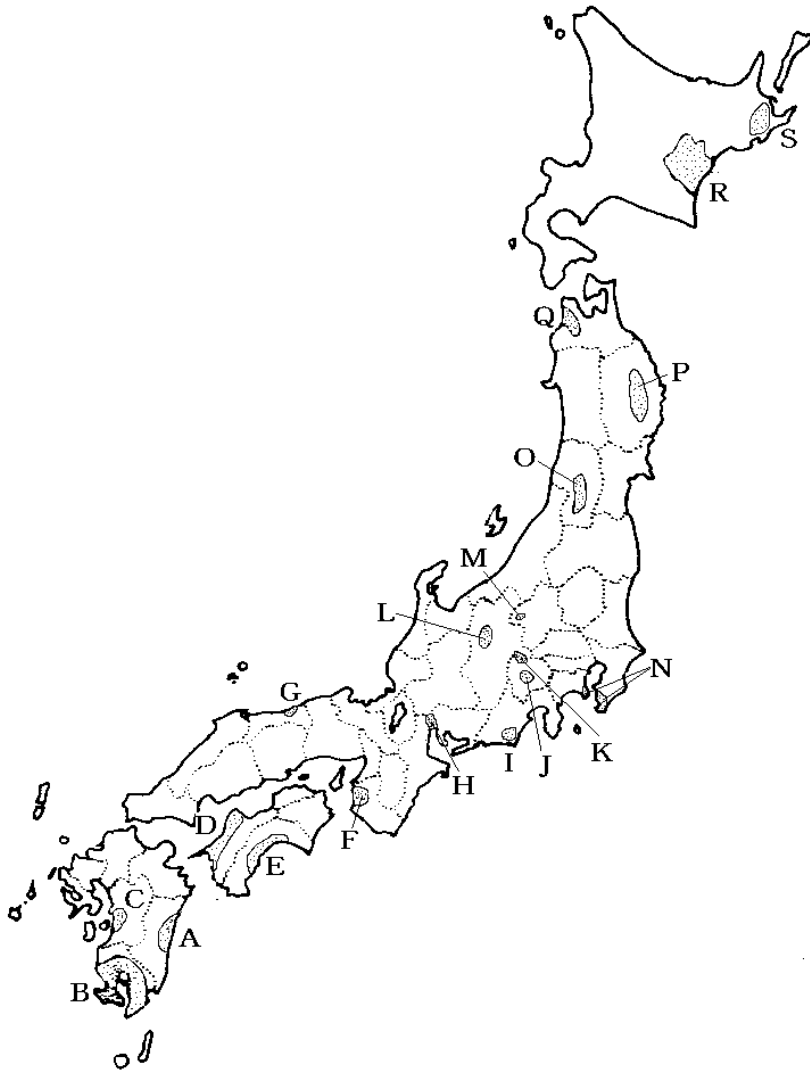
- (1) 北海道, 新潟県, 秋田県, 福島県 (2008 年)
- (2) 静岡県, 鹿児島県, 三重県 (2008 年)
- (3) 青森県, 長野県, 岩手県 (2007 年)
- (4) 鹿児島県, 宮崎県, 茨城県, 群馬県, 千葉県 (2008 年)
- (5) 宮崎県, 鹿児島県, 岩手県 (2008 年)
- (6) 北海道, 鹿児島県, 宮崎県 (2008 年)
- (7) 北海道, 栃木県, 岩手県 (2008 年)

[C 問題 33]

次は各農産物(みかん, ぶどう, もも, さくらんぼ, なし)の県順位である。それぞれ何か。

- (1) 山形(67%) (2007 年)
- (2) 山梨県, 長野県, 山形県 (2007 年)
- (3) 山梨県, 福島県, 長野県 (2007 年)
- (4) 和歌山県, 愛媛県, 静岡県, 熊本県, 長崎県, 佐賀県 (2007 年)
- (5) 千葉県, 茨城県, 鳥取県 (2007 年)

[C 問題 34]



- (1) ハケ岳山麓の野辺山原などで高地の冷涼な気候を利用して、夏にキャベツ、レタス(出荷額は全国1位)、はくさいなどの野菜(高冷地野菜)を栽培している。(県名、記号)
- (2) 四国沖を流れる日本海流(黒潮)等の影響で冬でも暖かい気候を利用して、ビニールハウスでピーマンやなすの促成栽培を行い、他の地域が出荷していない時期に保冷車を使って東京などに出荷している。(県名、平野名、記号)
- (3) 野菜の促成栽培がさかんな九州の県。(県名、平野の名前、記号)
- (4) 温暖な気候を利用して花、野菜を栽培し、東京などに出荷している。(記号)
- (5) 段々畑などでみかんの栽培している。(県名、記号)
- (6) 紀ノ川、有田川流域でみかんを栽培している。(県名、記号)

- (7) なしの生産が日本有数。日本最大の砂丘がある。(県名, 記号)
- (8) 扇状地^{せんじょうち}などでぶどうやももを栽培している。(県名, 盆地名, 記号)
- (9) おうとう(日本一), ぶどうを栽培している。(県名, 記号)
- (10) りんごの生産日本第一位。(県名, 平野名, 記号)
- (11) りんごの生産日本第二位。(県名, 盆地名, 記号)
- (12) シラス台地でさつまいも・茶・タバコなどを栽培している。畜産業(豚, 鶏, 肉牛)は日本一, 二位。
(県名, 記号)
- (13) 日当たりのよい台地で茶の栽培を行っている。茶の生産は日本一位。(県名, 台地名, 記号)
- (14) 二毛作でいくさの栽培を行っている。(県名, 平野名, 記号)
- (15) 輪中^{わじゅう}という堤防で囲まれた低湿地で稲作を行っている。(記号)
- (16) 北海道の農業の中心, あずき, てんさい, ジャガイモなどを栽培している。(平野名, 記号)
- (17) 酪農^{らくのう}のさかんな地域。(2カ所)(都道府県名, 地域名, 記号)

[B 問題 35]

- (1) ある国の人々が消費する食料の量のうち, 自国で生産している割合を何というか。
- (2) 日本の(1)は(約 20%, 約 30%, 約 40%)である。
- (3) 先進諸国では(1)は (上昇, 下降)の傾向にあるが。日本では()により穀物や肉に加えて果実, 野菜, 魚介類^{ぎょかいりい}の輸入も増加したため, (1)は非常に低い。
- (4) ()などの食料大国は, 日本に農産物をもっと買うように()化をせまっている。

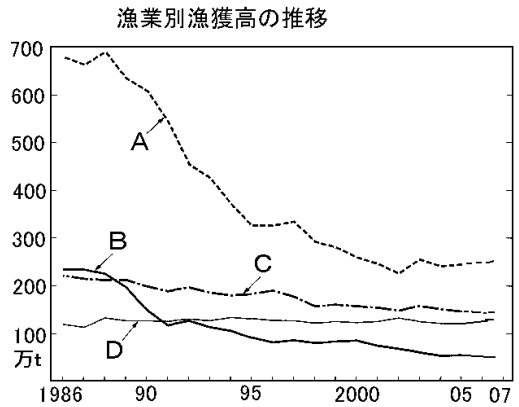
[C 問題 36]

- (1) 1995年から一部の輸入が認められたが, 基本的に日本は輸入しない穀物は何か。
- (2) 小麦・オレンジ・牛肉を日本が最も多く輸入している国はどこか。
- (3) 現在日本は, 世界一の食料輸入国であるが, 輸入食品について問題になっていることは何か。
- (4) 日本がほぼ 100 パーセントを輸入に頼っている農産物を[]内から 1 つ選べ。

[大豆 米 牛肉]

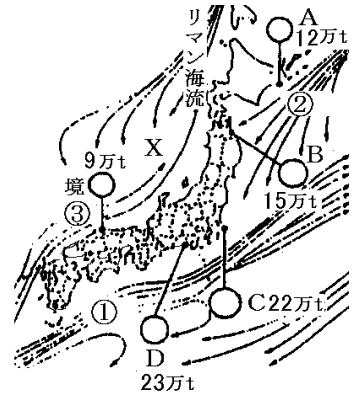
[B 問題 37]

- (1) 日本の水産業は、近年の魚のとりすぎや各国の()海里()水域の設定により、漁獲量は減少している。
- (2) 右図は、えんよう遠洋漁業、おきあい沖合漁業、えんがん沿岸漁業の漁獲高の推移を示している。A, B, C はそのいずれか。
- (3) (1)によって漁獲高は最盛期の半分に減少して、中国・アメリカ・タイなどからの()が増加している。そのため、()漁業から()漁業への転換が重要になっている。
- (4) (3) の標語のもとに、1960年代から全国で進められてきた次の漁業は何か。
- 1) 人工の生けすなどで稚魚や稚貝を育て、成長させてからとる漁業。
 - 2) 稚魚を放流して沿岸の漁業資源を増やす漁業。



[C 問題 38]

- (1) 日本の太平洋側を通る暖流 と寒流 の名前を答えよ。
- (2) 良い漁場とは、大陸棚が広がっていること、暖流と寒流が出会う()があることである。
- (3) A~Dの漁港名を、次から選び答えよ。
くしろ釧路・はちのへ八戸・いしのまき石巻・けせんぬま気仙沼・ちようし銚子・やいづ焼津



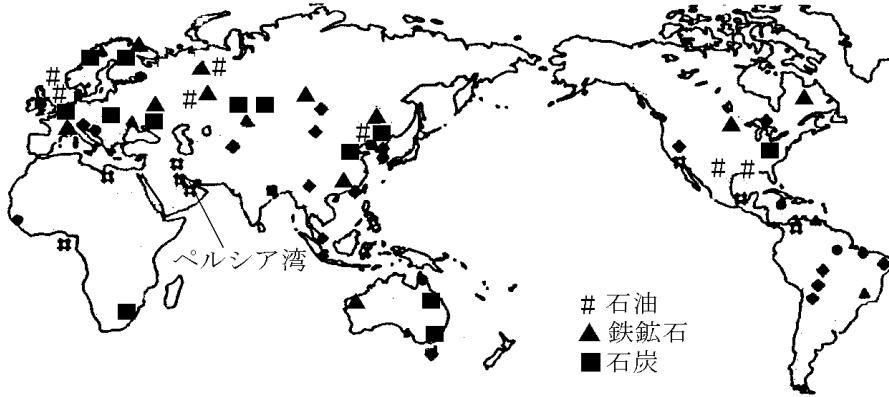
[C 問題 39]

- (1) 日本の林業で、古くから三大美林とされてきたのは、青森ひばとあとふたつは何か。
- (2) 日本の森林面積のうち、60%をしめるのは国有林・私有林のどちらか。
- (3) 木材には不自由していないはずの日本が、世界一の輸入国となっている理由は何か。簡潔に書け。
- (4) 三陸海岸など全国各地で「漁民の森づくり活動」が行われているが、山に植林している理由を、「漁場、土砂の流出、栄養分」の3語を用いて説明せよ。

【】 鉱工業

[要点]

(世界の鉱業)



石油：ペルシア湾沿岸に3分の2が埋蔵まいぞうされている。

日本はペルシア湾沿岸のアラブ首長国連邦，サウジアラビア，イランなどから輸入。

鉄鉱石，石炭：最大の産出国は中国，日本はおもにオーストラリアから輸入。

オーストラリアの西部で鉄鉱石が，東部で石炭が産出される。

天然ガス：日本はインドネシア，マレーシアなどから輸入。

ウラン(原子力発電の燃料)，ボーキサイト(アルミニウムの原料，日本は100%輸入)

(日本の工業)

太平洋ベルト(X)：工業地帯・地域が集中，人口も集中。

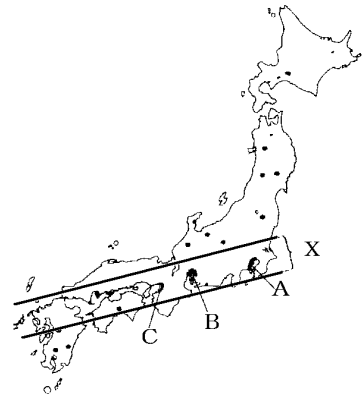
京浜工業地帯(A)：出荷額2位，印刷・出版業に特徴。

中京工業地帯(B)：出荷額1位，機械(特に自動車)。

阪神工業地帯(C)：第3位，金属工業の比率が高い。

近年，高速道路や空港沿いにICの工場が作られている。

九州：シリコンアイランド，東北：シリコンロード。



火力発電(70%)：石油の輸入に都合がよく消費地に近い太平洋ベルトの臨海部に多く立地。

二酸化炭素の排出→地球温暖化の問題。

原子力発電(22%)：冷却水の海水が得やすい海岸部に立地(若狭湾わかさわんなど)，放射能漏れの事故の心配。

水力発電(7%)。

クリーンエネルギー：地球環境への悪影響が少ない水力，風力，太陽光などのエネルギー。

[B 問題 40]



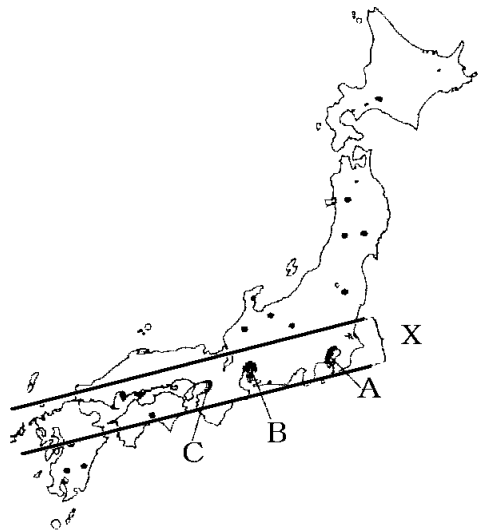
- (1) 地図中の A の湾名を答えよ。
- (2) A の湾岸一帯にはある地下資源の世界の 3 分の 2 が埋蔵されている。何という地下資源か。
- (3) 上の地図の # , ▲ , ◆ は、それぞれ石油、鉄鉱石、石炭のうちのどれか。
- (4) 次の a ~ c は石油、鉄鉱石、石炭についての日本の輸入相手国を示している。a ~ c はそれぞれ何か。
 - a サウジアラビア、アラブ首長国連邦、イラン (2008年)
 - b オーストラリア(63%)、インドネシア、カナダ、中国 (2008年)
 - c オーストラリア(53%)、ブラジル、南アフリカ、インド (2008年)

[C 問題 41]

- (1) かつて日本国内でも採掘されていたが、エネルギー革命によって消費量が急減した鉱産資源は何か。
- (2) 日本がインドネシア、マレーシアなどから輸入しているエネルギー資源は何か。
- (3) 日本が 100% 輸入に依存している鉱産資源を 1 つ選べ。
(ボーキサイト 石油 金)
- (4) 原子力発電の燃料となる鉱産資源は何か。
- (5) 日本が自給できる鉱産資源は何か。

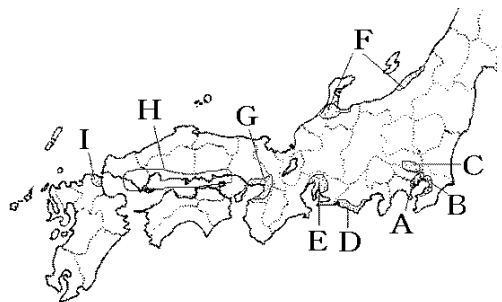
[B 問題 42]

- (1) 地図中の X の工業地帯・地域がつながっている地域を何と言うか。
- (2) 「日本 2 位の有数の工業地帯。印刷・出版業に特徴がある。」は何という工業地帯のことか。工業地帯名と地図の記号を答えよ。
- (3) 「日本 1 位の工業地帯。機械工業，特に()工業の比率が高い。」この工業地帯名と地図記号を答えよ。また()に適語を入れよ。
- (4) 「戦前は日本一の工業地帯であったが，現在は出荷額で第 3 位。金属工業の比率が高い。繊維工業も特徴的。」は何という工業地帯のことか。工業地帯名と地図の記号を答えよ。
- (5) 資料中の[・]は空港を示すが，その付近に多く立地する工場の製品は何か。
- (6) (5)の工場は，東京周辺ばかりでなく，九州や東北地方にも進出している。その理由を書け。
- (7) (5)の工場が多く作られている九州のことを()，東北地方のことを()という。



[C 問題 43]

- (1) 「日露戦争の賠償金はいしょうきんを使って八幡製鉄所やはたを作ったのがこの工業地帯の始まり。しかし，立地条件の優位性が失われ地位は低下。」は何という工業地帯のことか。工業地帯名と地図の記号を答えよ。
- (2) E の中京工業地帯の中心をなす愛知県の出荷額の 4 割を占め，名古屋港からアメリカ等に専用船で輸出されている工業製品は何か。
- (3) B，C，D，F，H はそれぞれ何という工業地域か。
- (4) 北海道の出荷額で一番多いのは次のどれか。
[電気機器，輸送用機器，一般機器，化学工業，食料品]
- (5) 生産能力を高めるため，計画的につくられた工場群を何というか。倉敷市の水島などが有名。
- (6) 内陸部に工場が進出している IC(集積回路)などの産業を何というか。
- (7) 工場が海外に移転し，日本国内の産業がおとろえることを何というか。



[B 問題 44]

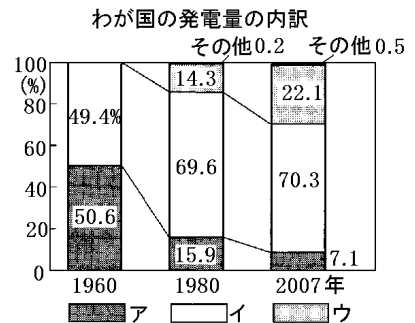
()発電は自然条件を利用した発電方法で、1960 年ころまで、発電の中心であったが、現在では総発電量の 1 割未満になっている。

現在の発電の中心は()発電で総発電量の約 7 割を占めている。日本の 発電所はおもに()ベルトの臨海部にあるが、これは石油等の輸入がしやすく、電力需要の多い工業地域や大都市に近接しているためである。化石燃料を使用するので、()を排出し地球温暖化をもたらすという問題がある。

近年発電量が伸びてきているのがウランを燃料とする()発電で、全発電量の 2 割以上を占めるに至っている。福井県の()湾沿岸など冷却水を得やすい海岸沿いに立地している。ただ、チェルノブイリや東海村で事故がおこり、安全性に問題が残っている。

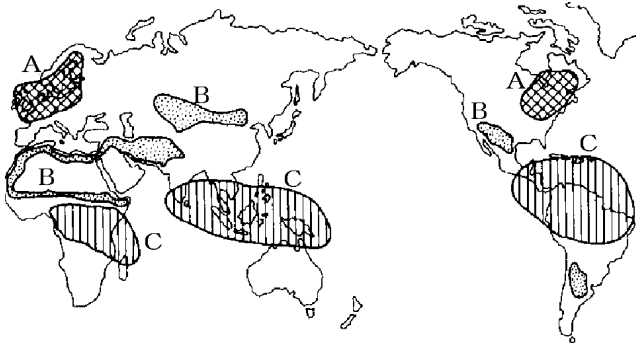
[C 問題 45]

- (1) 資料中のア～ウが示す発電の原動力は、それぞれ、火力発電・水力発電・原子力発電のうちのどれか。
- (2) 1950～60 年代、日本のエネルギー資源の主力が石炭から石油にかわった。このことを何というか。
- (3) 石炭や石油などの消費量の増大によって二酸化炭素が増大し、それによって生じた環境問題は何か。
- (4) 地球環境への悪影響が少ない水力、風力、太陽光などのエネルギーを総称して何というか。
- (5) ソーラーパネルを用いて発電するクリーンなエネルギーとして期待されている発電方法は何か。



[C問題46]

次の図は地球規模の環境破壊の被害(酸性雨, 熱帯雨林の破壊, 砂漠化)がそれぞれとくに大きい地域を示している。



- (1) Aは何という被害か。
- (2) Aの地域ではその対策としてヘリコプターなどによって森に石灰を散布しているがこれはどのような目的で行っているか。
- (3) Bの地域ではどのような被害が出ているか。
- (4) Cの地域ではどのような被害が出ているか。
- (5) Cの地域は, 地球の大気にとって重要な役割をはたしているといわれているが, それはどのようなことか。
- (6) オゾン層の破壊をもたらすものとして排出が規制されている物質は何か。

【】地域間の結びつき

【】貿易

[要点]

- ・加工貿易：工業原料を輸入して製品を輸出。日本の貿易は典型的な加工貿易だったが、近年、工業製品の輸入も増加。
- ・日本の輸出相手国は1位アメリカ，2位中国。輸入相手国は1位中国，2位アメリカ(2008年)
地域別ではアジア州(特に中国)，北アメリカ州，ヨーロッパ州の順番。
- ・1980年代，日本の輸出が急増したためにアメリカやEUとの間に貿易摩擦^{まさつ}が生じた。
- ・主要資源の輸入先
石油：サウジアラビア，アラブ首長国連邦，イラン(ペルシア湾沿岸諸国) (2008年)
鉄鉱石：オーストラリア，ブラジル，南アフリカ共和国，インド (2008年)
石炭：オーストラリア，インドネシア，カナダ，中国 (2008年)
木材：カナダ，アメリカ，ロシア，マレーシア (2008年)
- ・穀物の輸入：主としてアメリカ(小麦，トウモロコシ，大豆，綿花はアメリカが最大)。

[B問題 47]

- (1) 日本の貿易は，工業原料を輸入して製品を輸出する()であったが，近年，工業製品の輸入も増えてきている。
- (2) 右のグラフは日本の貿易相手地域だが a～c にあたる地域を選べ。(アジア・北アメリカ・オセアニア・ヨーロッパ・アフリカ)
- (3) 日本にとって最大の輸出相手国はどこか。
- (4) 日本にとって最大の輸入相手国はどこか。

a	b	c	その他
58.3%	15.4	14.9	

(2008年)

[C問題 48]

- (1) 近年，世界の貿易は，各国が得意なものを中心に生産する国際的な()が進んでいる。
- (2) 1980年代に日本の輸出が急増し，アメリカやEU諸国との間で経済的な対立が生じた。これを何というか。
- (3) 日本の自動車産業は，アメリカとの間の(1)をさけるため，アメリカ国内での(2)生産を増やしてきた。
- (4) アメリカにとって，最大の貿易相手国はどこか。
- (5) オーストラリアの主要な貿易相手国はアメリカと中国と()である。
- (6) 世界の貿易や交流で最も使用されている言語は何語か。

[B問題 49]

次は日本のある輸入品(石油,石炭,鉄鉱石,木材)の輸入相手国である。この輸入品は何か。

- (1) オーストラリア, インドネシア, カナダ, 中国
- (2) オーストラリア, ブラジル, 南アフリカ共和国, インド
- (3) サウジアラビア, アラブ首長国連邦, イラン
- (4) カナダ, アメリカ, ロシア, マレーシア

[B問題 50]

次は,日本の各原材料の輸入相手国である。()内に適切な国名をいれよ。

- (1) 石油: (), アラブ首長国連邦, イラン
- (2) 鉄鉱石: (), ブラジル, 南アフリカ共和国, インド
- (3) 石炭: (), インドネシア, カナダ, 中国
- (4) 木材: カナダ, アメリカ, ロシア, ()
- (5) 銅鉱: (), インドネシア, ペルー, オーストラリア
- (6) 小麦: (), カナダ, オーストラリア
- (7) 綿花: (), ブラジル, オーストラリア
- (8) 羊毛: (), 台湾, マレーシア, 中国
- (9) 魚介類: (), アメリカ, ロシア, タイ
- (10) 肉類: アメリカ, (), ブラジル, カナダ

[C問題51]

次はある国からの輸入品と輸入額である。何という国か。次から選べ。

(中国, 韓国, インドネシア, マレーシア, タイ)

- (1) 液化天然ガス, 機械類, 石油製品, 合板, パーム油 (2.4兆円)
- (2) 機械類, ^{ぎょかいりい}魚介類, 天然ゴム (2.2兆円)
- (3) 液化天然ガス, 原油, 石炭, 石油製品, 機械類 (3.4兆円)
- (4) 機械類, 衣類, 金属製品, がん具 (14.8兆円)
- (5) 機械類, 石油製品, 鉄鋼, プラスチック (3.1兆円)

[C問題52]

次はある国からの輸入品と輸入額である。何という国か。次から選べ。

(アメリカ, カナダ, ブラジル, オーストラリア, サウジアラビア)

- (1) 原油, 液化石油ガス, 石油製品 (5.3兆円)
- (2) 石炭, なたね, 木材, 肉類, 銅鉱, 小麦 (1.3兆円)
- (3) 機械類, とうもろこし, 航空機^{こうくうき}, 科学光学器械, 肉類, 小麦 (8.0兆円)
- (4) 石炭, 液化天然ガス, 鉄鉱石^{てつこうせき}, 肉類, アルミニウム (4.9兆円)
- (5) 鉄鉱石^{てつこうせき}, 肉類, アルミニウム, 鉄鋼, 大豆, コーヒー (0.9兆円)

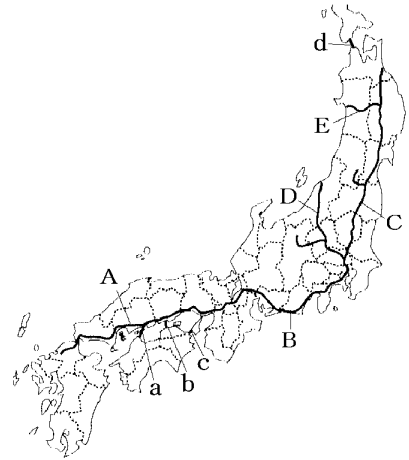
【】交通

[要点]

- ・航空交通 速い，大量輸送ができない。IC，生鮮食料品，花など軽い荷物。
新東京国際空港(成田空港，千葉県，わが国最大の貿易港)，
東京国際空港(羽田空港，国内便)，関西国際空港(24時間離着陸)，新千歳空港。
海上交通 遅い，大量輸送ができる，石油(タンカー)，鉄鉱石，自動車(専用船)など重い荷物。
- ・日本人の海外旅行先のベスト3：中国，アメリカ合衆国，韓国の順(2007年)。

- ・国内貨物輸送：鉄道→トラック(9割以上)
- ・青函トンネル(d)
- ・東京湾アクアライン(神奈川県と千葉県を結ぶ)
- ・本州四国連絡橋

- a 尾道(広島県) - 今治(愛媛県) しまなみ海道
- b 児島(岡山県) - 坂出(香川県) 瀬戸大橋，最初に開通
- c 明石(兵庫県) - 鳴門(徳島県) 明石海峡大橋
大鳴門橋



- A 山陽新幹線 B 東海道新幹線
- C 東北新幹線 D 上越新幹線 E 秋田新幹線

- ・新潟県：上越新幹線と関越自動車道の開通→湯沢町へのスキー客が増加，農産物や水産物の東京への出荷。
- ・情報化：国民の約88%が携帯電話を保有し，インターネットという世界的規模の通信網が普及。

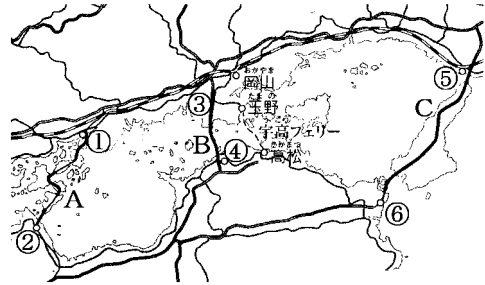
[B問題 53]

量的にみて，ものの国際間移動の中心となっている輸送手段は海上輸送である。ペルシア湾沿岸の中東諸国から専用の（ ）船で輸入されている（ ），主としてオーストラリアから輸入している鉄鉱石や（ ）などの原燃料，名古屋港などからアメリカなどにむけて輸出されている（ ）など，値段の割に重いものの輸送に海上輸送が使われている。

これとともに近年は航空輸送が伸びてきている。航空機で輸送されるものは宅配便のほかに（ ）(集積回路)などの軽い電気機器やすばやく輸送する必要のある（ ）や生花などがある。

[C 問題 56]

- (1) A, B, C のうち最も早く開通したのはどれか。
- (2) B のルートは本州側, 四国側, それぞれの何県の何という都市どうしを結んでいるか。
- (3) B ルートの完成で, 香川県と岡山県間の通勤・通学者や買い物客はどう変化したか。
- (4) B ルートの完成で, 四国側では地元の買い物客数はどのように変化したか。
- (5) C のルートの のところにかかっている橋は何か。
- (6) C のルートの は何県の何という都市か。
- (7) C のルートの のところにかかっている橋は何か。
- (8) C のルートの は何県の何という都市か。
- (9) A ルートを瀬戸内()という。
- (10) A ルートの , は何県の何という都市か。



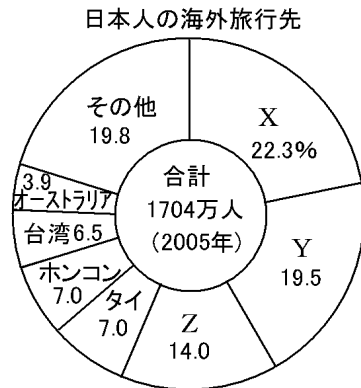
[C 問題 57]

1960 年頃は, 国内貨物の中心は (鉄道, 自動車)であったが, 現在では (鉄道, 自動車)が 9 割以上を占めるに至っている。これは, ()道路網の整備と, 積み替えなしに生産地と消費地を直結できるという 輸送の特性によっている。たとえば, 高知平野において, 促成栽培で作られた野菜は, トラックに積み込まれ, 高速道路, ()(または本州四国連絡橋)をつかって関西や関東へ比較的短時間で輸送されている。

新潟県では ()新幹線と ()道が開通したことで, 湯沢町^{ゆざわまち}への東京からの観光客(スキーなど)が増加し, また県内の農産物や水産物の東京への出荷額が増加し, さらには 道ぞいに電気機械工場が進出し雇用の増大をもたらしている。

[B 問題 58]

- (1) 日本人の海外旅行先の 1～3 位の国名を答えよ。
- (2) コンピューターの利用で、国際間の情報交換ができるようになった世界的規模の通信網を何というか。
- (3) 国内情報通信で近年国民の 8 割以上が所持しているものは何か。
- (4) 現在、大陸をこえた通信は()や()によって支えられている。
- (5) 現在、日本に住んでいる外国人の国籍でもっとも多い国を、次のア～エから 1 つ選び、記号で答えよ。



ア アメリカ イ フィリピン ウ ブラジル エ 韓国・朝鮮

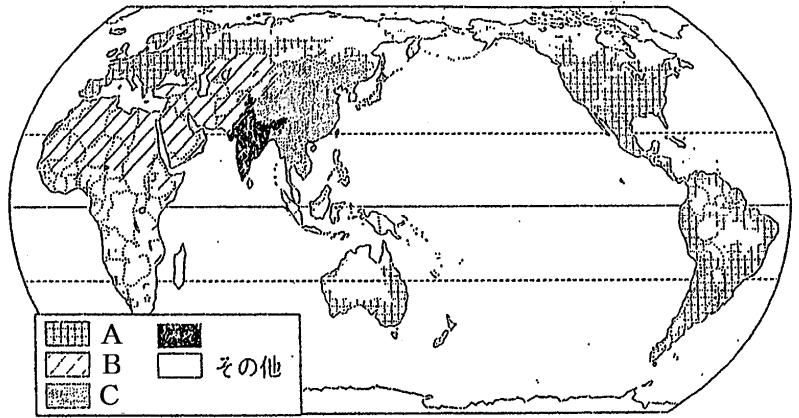
【】文化の特色

[要点]

- ・三大宗教：キリスト教(欧米)、イスラム教(アフリカ北部、西アジア、中央アジア)、仏教ヒンズー教(インド)。
- ・英語(国際的共通語)、中国語(使用人口が最も多い)
- ・日本は漢字文化圏、中国の影響を受けてきた。
- ・京都：794年平安京^{へいあんきやう}、京都と周辺の文化財→世界文化遺産に指定、古都保存法^{ここと}、文化財保護法。
京都の伝統産業：西陣織^{にしじんおり}、友禅染^{ゆうぜんぞめ}。
京都の伝統的な夏の祭り：祇園祭。
- ・沖縄：15世紀に琉球王国^{りゅうきゅう}が成立し独自の文化、さとうきびやパイナップルの栽培、サンゴ礁^{しょう}。
戦後アメリカ合衆国の占領下に置かれ、現在でもその軍事基地がある。

[B問題 59]

- (1) 世界の三大宗教は何々か。
- (2) 世界の三大宗教の中でヨーロッパ、アメリカなどで信仰されている宗教は何か。また、その分布はA、B、Cのどれか。
- (3) 世界の三大宗教の中でアフリカ北部、西アジア、中央アジア、東南アジアの一部で信仰され、毎日決まった時間に祈りをささげ、ラマダンという断食月^{だんじき}があるのは何か。また、その分布はA、B、Cのどれか。
- (4) 世界の三大宗教の中で東アジア、東南アジアのタイやミャンマーなどで信仰されている宗教は何か。また、その分布はA、B、Cのどれか。
- (5) インドで広く信仰されている宗教は何か。



[C 問題 60]

- (1) 言語別の使用人口がもっとも多いのは何語か。
- (2) 国際的な共通語として、もっとも広く使われている言語は何か。
- (3) 日本の文化は、宗教・文字・行事などの面で古くからある国の影響を受けている。何という国の影響か。

[B 問題 61]

- (1) 京都は 794 年に造営された都から発展した。この都を何というか。
- (2) 京都市とその周辺の文化財は、1994 年に()に登録された。
- (3) 京都などの古い都や各地に残る歴史的な景観・文化財を守るために定められた法律は何か。2 つ答えよ。
- (4) 長い間にわたって技術が伝えられ、さらに改良が重ねられたものを何工業というか。
- (5) 京都の(4)工業について、高級織物、染め物、陶磁器を 1 つずつあげよ。
- (6) 京都の伝統的な祭りでないものを、次から 1 つ選べ。
祇園祭 雪祭り 時代祭 葵祭

[C 問題 62]

- (1) 京都の街にのこる 間口がせまく奥ゆきの長い造りの家を何というか。
- (2) 京都や奈良などの都市で遺跡や古い建物を大切に保存するために、建築などが規制されている地区を何というか。
- (3) 現代を生きる世界のすべての人々が共有し、未来の世代に引き継いでいくべき人類共通の宝物として、条約によって保護されているところを総称して何というか。
- (4) 日本各地には、京都をまねた都市がいくつもある。このような都市を何というか。
- (5) 京都の工芸品にあてはまらないものを次から 1 つ選べ。
(西陣織 南部鉄器 清水焼 友禅染)
- (6) 京都の伝統的な夏祭りは何か。

[B 問題 63]

- (1) 沖縄は、15 世紀に()が成立し、周辺の国々との交流のなかから、独自の文化をはぐくんできた。
- (2) 沖縄は戦後の 27 年間、ある国の軍の支配下に置かれ、現在もこの国は沖縄県に広い軍事基地をもっている。この国の名を答えよ。
- (3) 沖縄には現在でも日本人が自由に立ち入れない地域が約 20%残っているが、これは何か。
- (4) 沖縄の産業は、かつての基地中心の経済から、美しい自然や文化をいかした()業中心の経済へと変化している。

[C 問題 64]

- (1) 沖縄では、()帯の気候をいかした、()やパイナップルの栽培がさかんである。
- (2) 沖縄は 15 世紀頃から、()や日本の影響を受けながら、独自の文化をはぐくんできた。
- (3) 沖縄の島のまわりには、石灰質のかたまりでできた海底地形が広がっている。何か。

[C 問題 65]

- (1) 日本の伝統的な衣服は何か。
- (2) 春と秋に夏服と冬服を入れ替える習慣を何というか。
- (3) 日本人の食生活の中で主食は(a)であるが、その消費量は(b : 増加, 減少)の傾向にある。副食としては、まわりを海に囲まれていることもあって(c)の消費量が多い。
- (4) 日本の伝統的な住居はその材料として(a)を使ってきた。窓は湿気をさけるため(b : 大きく, 小さく)とってある。

[印刷 / 他の PDF ファイルについて]

このファイルは、FdText 社会(6,200 円)の一部を PDF 形式に変換したサンプルで、印刷はできないようになっています。製品版の FdText 社会は Word(または一太郎)の文書ファイルで、印刷・編集を自由に行うことができます。

FdText(英語・数学・社会・理科・国語)全分野の PDF ファイル、および製品版の購入方法は <http://www.fdtype.com/txt/> に掲載しております。

弊社は、FdText のほかに FdData 中間期末過去問(数学・理科・社会)(各 18,000 円)を販売しております。PDF 形式のサンプル(全内容)は、

<http://www.fdtype.com/dat/> に掲載しております。

[FdData 無料閲覧ソフト(RunFdData)]を、Windows のデスクトップ上にインストールすれば、FdData 中間期末の全 PDF ファイル(各教科約 1500 ページ)を自由に閲覧できます。次のリンクを左クリックするとインストールが開始されます。

RunFdData(Word 版) 【 <http://www.fdtype.com/lnk/instRunFdDataWds.exe> 】

RunFdData(一太郎版) 【 <http://www.fdtype.com/lnk/instRunFdDataTAs.exe> 】

ダイアログが表示されたら、【実行】ボタンを左クリックしてください。インストール中、いくつかの警告が出ますが、[実行][許可する][次へ]等を選択します。

【Fd 教材開発：URL <http://www.fdtype.com/dat/> Tel (092) 404-2266】