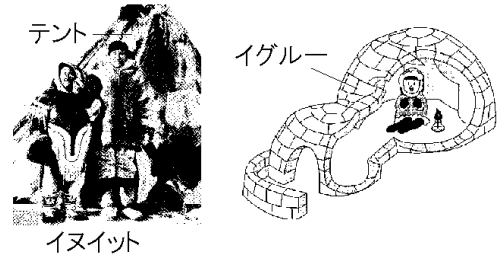


[[世界各地の暮らしと気候](#) / [世界の気候](#) / [世界の宗教](#) / [FdText 製品版のご案内](#) / <http://www.fdtype.com/txt/>]

【】世界各地の暮らしと気候

[要点：寒帯の暮らし]

^{ほっきょくかい}北極海に面した^{カナダ}北部には、イヌイットと呼ばれる人々が生活している。ここは、一年中雪と氷におおわれた^{かんたい}寒帯なので農業はできず、生活の中心は^か狩りであった。夏はあざらしの皮でつくったテントを建てて^{カリブー}カリブー(野生のトナカイ)の狩りをおこない、冬は雪を固めて積み上げたドーム型の^{イグルー}イグルーに住み、あざらしの狩りをおこなっていた。



カナダ政府は1950年代からイヌイットの^{ていじゅうか}定住化を進め、イヌイットが居住する町を造った。それらの町には学校やスーパーマーケット、小型飛行機用の空港などが造られた。また、発電も行われるようになり、冷蔵庫、電子レンジも使われている。近年では、資源の開発や商業、観光業の仕事をするイヌイットが多くなった。移動用には従来^{いぬぞり}犬ぞりを使ってきたが、現在では^{スノーモービル}スノーモービルを使う人も増えている。北極に近いこの地域では、夏には、日が沈まない^{びやくや}白夜が見られる。

※出題頻度「寒帯○」「カナダ北部△」「イヌイット◎」「イグルー○」「生活の変化○」「白夜△」

【問題】

次の文章中の①～⑥に適語を入れよ。

北極海に面したカナダ北部には、(①)と呼ばれる人々が生活している。ここは、一年中雪と氷におおわれた(②)帯なので農業はできず、生活の中心は狩りであった。夏はあざらしの皮でつくったテントを建てて(③)(野生のトナカイ)の狩りをおこない、冬は雪を固めて積み上げたドーム型の(④)に住み、あざらしの狩りをおこなっていた。

カナダ政府は1950年代から①の定住化を進め、①が居住する町を造った。それらの町には学校やスーパーマーケット、小型飛行機用の空港などが造られた。また、発電も行われるようになり、冷蔵庫、電子レンジも使われている。近年では、資源の開発や商業、観光業の仕事をする①が多くなった。移動用には従来(⑤)を使ってきたが、現在ではスノーモービルを使う人も増えている。北極に近いこの地域では、夏には、日が沈まない(⑥)夜が見られる。

[解答欄]


①	②	③	④
⑤	⑥		

[解答]① イヌイット ② 寒 ③ カリブー ④ イグルー ⑤ 犬ぞり ⑥ 白

[問題]

次の各問いに答えよ。

- (1) 北極海に面したカナダ北部の気候帯は何か。
- (2) 北極に近いカナダ北部では、夏には日が沈まない現象が見られるが、これを何というか。
- (3) カナダ北部に住み、狩猟や漁業で生活してきた北アメリカの先住民を何というか。
- (4) (3)の人々は、冬になると氷の上に雪を固めて積み上げた右図のような住居を作って住む。これを何というか。
- (5) (3)の人々が狩る野生のトナカイを何というか。
- (6) カナダ政府は1950年代以降、(3)の定住化をすすめている。



移動の手段も、かつては犬ぞりを使っていたが、現在では何が使われるようになったか。

[解答欄]

(1)	(2)	(3)	(4)
(5)	(6)		

[解答](1) 寒帯 (2) 白夜 (3) イヌイット (4) イグルー (5) カリブー
(6) スノーモービル

[要点：冷帯の暮らし]

冷帯(亜寒帯)は冬の寒さが厳しいが、短い夏には気温が上がる。一年の気温差が大きいのが冷帯の特徴である。夏が暑いので、寒帯と違って樹木や作物が育つ。シベリア、カナダ、アラスカなどではタイガとよばれる



る針葉樹林帯が広がっている。森林の下には、一年中凍ったままの永久凍土がある。

シベリアの都市部にある中層アパートには高床になっているものがある。高床の建物にして熱を地面に伝わりにくくして、永久凍土がとけて建物が傾くことがないようにしている。



木材資源にめぐまれているため、住居は、丸太を組み合わせたログハウスが多い。非常に寒い冬に備えるため、窓は二重窓で、玄関のとびらは厚い木のとびらになっている。

短い夏には、都市部のアパートに住む人々は、郊外にある家庭菜園付きのダーチャという小屋へ出かける。ここで、日光浴を楽しんだり、夏にだけ味わえる新鮮な野菜やじゃがいもをつくったりする。夏に収穫した野菜はつけ物にして冬に備える。衣服の面では、寒い冬には保温性の高いトナカイなどの毛皮でできたコートなどを着用する。

※出題頻度「冷帯○」「一年の気温差が大きい○」「タイガ◎」「針葉樹○」「永久凍土○」

「アパートが高床になっている理由◎」「ログハウス△」「窓が二重△」「ダーチャ△」

[問題]

次の文章中の①～⑪に適語を入れよ(または、適語を選べ)。

(①)帯は冬の寒さが厳しいが、短い夏には気温が上がる。一年の気温差が②(大きい／小さい)のが①帯の特徴である。夏が暑いので、寒帯と違って樹木や作物が育つ。シベリア、カナダ、アラスカなどでは(③)とよばれる④(広葉樹／針葉樹)林帯が広がっている。森林の下には、一年中凍ったままの(⑤)凍土がある。

シベリアの都市部にある中層アパートには(⑥)床になっているものがある。(⑥)床の建物にして(⑦)を地面に伝わりにくくして、(⑤)凍土がとけて建物が傾くことがないようにしている。木材資源にめぐまれているため、住居は、丸太を組み合わせた(⑧)ハウスが多い。非常に寒い冬に備えるため、窓は(⑨)窓で、玄関のとびらは厚い木のとびらになっている。

短い夏には、都市部のアパートに住む人々は、郊外にある家庭菜園付きの(⑩)という小屋へ出かける。ここで、日光浴を楽しんだり、夏にだけ味わえる新鮮な野菜やじゃがいもをつくったりする。夏に収穫した野菜はつけ物にして冬に備える。衣服の面では、寒い冬には保温性の高いトナカイなどの(⑪)でできたコートなどを着用する。

【解答欄】


①	②	③	④
⑤	⑥	⑦	⑧
⑨	⑩	⑪	

【解答】① 冷(亜寒) ② 大きい ③ タイガ ④ 針葉樹 ⑤ 永久 ⑥ 高 ⑦ 熱 ⑧ ログ
⑨ 二重 ⑩ ダーチャ ⑪ 毛皮

【問題】

次の各問いに答えよ。

- (1) ロシアの中央部から東部に広がる地域を何というか。
- (2) (1)の気候帯は何か。
- (3) (1)に広がる針葉樹の森林をカタカナで何というか。
- (4) (3)の下には1年じゅう凍ったままの土がある。このような土を何というか。
- (5) (1)の地域では、右の写真のような建物が多く見られる。建物が高床になっている理由を「暖房」「傾く」という語句を使って簡潔に答えよ。
- (6) (1)の人たちが夏に野菜を作ったり、日光浴を楽しんだりするために使用する小屋を何というか。



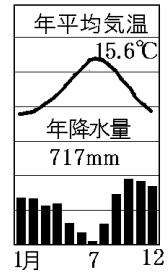
【解答欄】

(1)	(2)	(3)	(4)
(5)			
(6)			

【解答】(1) シベリア (2) 冷帯(亜寒帯) (3) タイガ (4) 永久凍土
(5) 暖房などの熱で永久凍土がとけて建物が傾くのを防ぐため。 (6) ダーチャ

[要点：温帯のくらし(イタリア)]

地中海に面したイタリアは^{おんたい}温帯の中の^{ちちゅうかいせいきこう}地中海性気候で、夏の降水量が非常に少ない。夏に暑くて乾燥する気候は、オリーブ(オリーブオイルの原料)、ぶどう(ワインの原料)、^{かじゅ}トマトなどの果樹の栽培に適する。比較的降水量が多い冬に小麦を栽培する。



かたい石が手に入りやすいイタリアでは、多くの住居のかべが石で造られている。石のできた住居の窓は小さい。また、窓の外側には、木で造られたブラインドが付けられている。これらは、夏の強い日差しを家の中に入れないようにするための工夫である。石のかべは熱を通しにくいので、ブラインドを閉じたままにしておくとなの中はずずしい。
 ※出題頻度「地中海性気候○」「夏の降水量が少ない○」「オリーブ○」「ぶどう○」「窓は小さい○」「石で造られている○」

[問題]

次の文章中の①～⑧に適語を入れよ(または、適語を選べ)。

地中海に面したイタリアは(①)帯の中の(②)気候で、③(夏/冬)の降水量が非常に少ない。(③)に暑くて乾燥する気候は、(④)((④)オイルの原料)、(⑤)(ワインの原料)、トマトなどの果樹の栽培に適する。比較的降水量が多い⑥(夏/冬)に(⑦)を栽培する。

かたい(⑧)が手に入りやすいイタリアでは、多くの住居のかべが(⑧)で造られている。(⑧)のできた住居の窓は小さい。また、窓の外側には、木で造られたブラインドが付けられている。これらは、夏の強い日差しを家の中に入れないようにするための工夫である。(⑧)のかべは熱を通しにくいので、ブラインドを閉じたままにしておくとなの中はずずしい。

[解答欄]

①	②	③	④
⑤	⑥	⑦	⑧

[解答]① 温 ② 地中海性 ③ 夏 ④ オリーブ ⑤ ぶどう ⑥ 冬 ⑦ 小麦 ⑧ 石

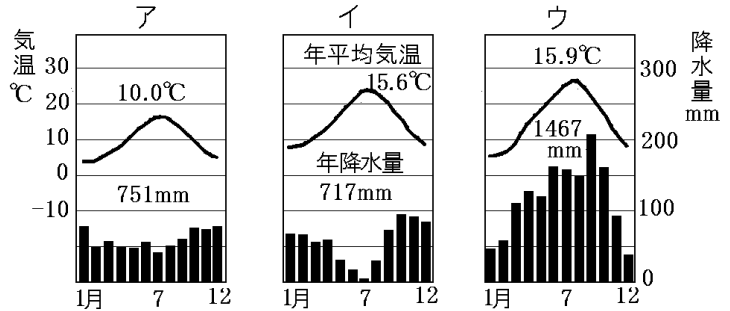
[問題]

次の各問いに答えよ。

(1) ローマは温帯の中の何という気候か。

(2) (1)の気候の特徴を、「冬」「夏」「乾燥」の語句を使って説明せよ。

(3) 右の雨温図ア～ウは、東京、ロンドン、ローマのいずれかのものである。ローマの雨温図を選べ。



(4) イタリアで夏に栽培される①ワインの原料となる作物、②料理用のオイルの原料となる作物は何か。

(5) イタリアで、比較的降水量が多い冬に作られる農作物は何か。

(6) イタリアでは、住居のかべは何で作られていることが多いか。

[解答欄]

(1)	(2)		
(3)	(4)①	②	(5)
(6)			

[解答](1) 地中海性気候 (2) 冬に降水量が多く、夏は乾燥する。 (3) イ (4)① ぶどう
② オリーブ (5) 小麦 (6) 石

[要点：温帯のくらし(スペイン)]

地中海沿岸のスペインは温帯に属する。温帯の中でも、夏に乾燥し、冬に雨が多く降る地中海性気候となっている。農業では、乾燥に強いオリーブ、オレンジ、ぶどうなどが広く栽培されている。なかでもオリーブは、酢づけにして食べたり、オイルにして料理に使ったりなど、スペインの食卓に欠かせないものとなっている。

スペインの多くの家は、夏の強い日差しをさえぎるために窓が小さく、壁も厚くつくられている。強い日差しをはねかえして家の中をすずしく保つために、壁を石灰で白くぬった家もある。雨が少なく日差しが強いスペインでは、太陽光発電がさかんである。

スペインでは、暑い夏の昼間は、なるべく活動を避けるために、シエスタとよばれる休憩を2時間ほどとる習慣があったが、公務員のシエスタが廃止され、民間の企業でも、シエスタを廃止する動きがある。

※出題頻度「地中海性気候○」「夏の降水量が少ない○」「オリーブ○」「ぶどう○」

「窓は小さく、壁は厚く白い△」「シエスタ△」「太陽光発電△」

[問題]

次の文章中の①～⑦に適語を入れよ(または、適語を選べ)。

地中海沿岸のスペインは温帯に属する。温帯の中でも、①(夏／冬)に乾燥し、②(夏／冬)に雨が多く降る(③)気候となっている。農業では、乾燥に強い(④), オレンジ, ぶどうなどが広く栽培されている。なかでも(④)は、酢づけにして食べたり, オイルにして料理に使ったりなど, スペインの食卓に欠かせないものとなっている。

スペインの多くの家は、夏の強い日ざしをさえぎるために窓が⑤(大きく／小さく), 壁も厚くつくられている。強い日ざしをはねかえして家の中をすずしく保つために, 壁を石灰で白くぬった家もある。雨が少なく日ざしが強いスペインでは, (⑥)発電がさかんである。スペインでは, 暑い夏の昼間は, なるべく活動を避けるために, (⑦)とよばれる休憩を2時間ほどとする習慣があったが, 公務員の(⑦)が廃止され, 民間の企業でも, (⑦)を廃止する動きがある。

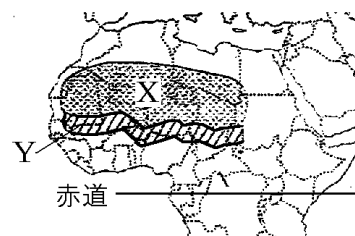
[解答欄]

①	②	③	④
⑤	⑥	⑦	

[解答]① 夏 ② 冬 ③ 地中海性 ④ オリーブ ⑤ 小さく ⑥ 太陽光 ⑦ シェスタ

[要点：乾燥帯の暮らし(サヘル)]

サハラ砂漠(右図のX)の南に接して, わずかに木や草が生えている地域はサヘル(Y)と呼ばれている。サヘルは, サハラ砂漠と同様に乾燥帯に属するが, 少量の降水量がある。サハラ砂漠やサヘルで地下水がわき出て樹木が育つ場所をオアシスという。サヘルに住む人々は, 乾燥に強い羊ややぎとともに



水や草を求めて移動して生活する遊牧をおこなってきた。また, 少ない雨を利用し, 草原を焼きその灰を肥料とする焼畑農業で, ひえ, きび, もろこしなどの穀物を作ってきた。ブルキナファソの主食は, ひえやもろこし, とうもろこしなどの穀物であるが, かんがい施設の整備などにより, 米も普及してきた。代表的な料理は, 粉状にした穀物から作るトーヤ, 野菜の煮こみ, 羊や鳥のくし焼きである。

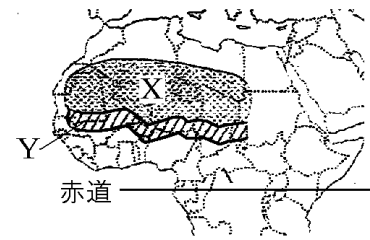
人口が増えて大量の作物や家畜, 燃料が必要になると, 土地を休ませずに耕作や放牧を続けることがある。このようなことが続くと, 草も育たないやせた土地になってしう。これを砂漠化という。乾燥帯では樹木が育たないため, 住居の材料として木材を使うことはできない。泥をかためて乾燥させて作った日干しれんが使われる。

※出題頻度「サハラ砂漠○」「サヘル○」「乾燥帯○」「オアシス○」「遊牧○」「焼畑農業○」「かんがい施設○」「米△」「砂漠化○」

[問題]

次の文章中の①～⑨に適語を入れよ。

(①)砂漠(右図の X)の南に接して、わずかに木や草が生えている地域は(②)(Y)と呼ばれている。(②)は、(①)砂漠と同様に(③)帯に属するが、少量の降水量がある。(①)砂漠や(②)で地下水がわき出て樹木が育つ場所を(④)という。(②)に住む人々は、乾燥に強い羊ややぎとともに水や草を求めて移動して生活する(⑤)をおこなってきた。また、少ない雨を利用し、草原を焼きその灰を肥料とする(⑥)農業で、ひえ、きび、もろこしなどの穀物を作ってきた。ブルキナファソの主食は、ひえやもろこし、とうもろこしなどの穀物であるが、(⑦)施設の整備などにより、米も普及してきた。代表的な料理は、粉状にした穀物から作るトーヤ、野菜の煮こみ、羊や鳥のくし焼きである。



人口が増えて大量の作物や家畜、燃料が必要になると、土地を休ませずに耕作や放牧を続けることがある。このようなことが続くと、草も育たないやせた土地になってしう。これを(⑧)化という。乾燥帯では樹木が育たないため、住居の材料として木材を使うことはできない。泥をかためて乾燥させて作った(⑨)れんが使われる。

[解答欄]

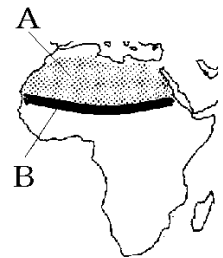
①	②	③	④
⑤	⑥	⑦	⑧
⑨			

[解答]① サハラ ② サヘル ③ 乾燥 ④ オアシス ⑤ 遊牧 ⑥ 焼畑 ⑦ かんがい
⑧ 砂漠 ⑨ 日干し

[問題]

次の各問いに答えよ。

- 右図 A に広がる世界最大の砂漠は何か。
- A の南に広がる B は何と呼ばれるか。
- A や B の一帯は何という気候帯に属するか。
- A の砂漠でも地下水がわき出てなつめやしや小麦などが栽培できる場所がある。このような場所を何というか。
- B のステップ気候の草原では羊ややぎなどの乾燥に強い家畜を移動しながら飼う農業も行われている。これを何というか。
- B では、少ない雨を利用し、草原を焼きその灰を肥料とする農業も行われている。このような農業を何というか。



- (7) ブルキナファソでは、(①)設備の整備によって、とうもろこしや(②)が主食になった。①, ②に適語を入れよ。
- (8) B では、地球規模での気候変動に加え、人口増加にともなう家畜の過剰放牧、過剰耕作などにより、大地が不毛の土地になる現象が起こっている。これを何というか。
- (9) B などの乾燥帯では樹木が育たないため、住居の材料として木材を使うことはできない。泥をかためて乾燥させて作った何が使われているか。

【解答欄】

(1)	(2)	(3)	(4)
(5)	(6)	(7)①	②
(8)	(9)		

【解答】(1) サハラ砂漠 (2) サヘル (3) 乾燥帯 (4) オアシス (5) 遊牧 (6) 焼畑農業
(7)① かんがい ② 米 (8) 砂漠化 (9) 日干しれんが

【要点：乾燥帯の暮らし(アラビア半島)】

アラビア半島は乾燥帯の砂漠気候で、水が得られる場所が限られている。自然に水がわき出てくるところや、地下水路や井戸を掘ることによって水が得られるところなど、水を得やすい場所はオアシスとよばれ、その周辺には人々が暮らしている。オアシスの周辺では、水が少なくても育つ小麦、なつめやしのような作物を、かんがいなどにより栽培してきた。また、乾燥に強いらくだや羊を飼う遊牧も行われてきた。

サウジアラビアなどの国々では、深い井戸を掘って電動モーターで地下水を大量にくみ上げ給水プールにためて、各家庭にパイプを使って送る施設の整備が進んでいる。また、スプリンクラーを使って地下水を農地にまくことによって、乾燥した地域でも野菜などの栽培が大規模に行われるようになった。

アラビア半島は乾燥帯なので、森林が少なく木材を得にくいいため、伝統的な家には、土をこねてつくった日干しれんがを利用している。食事は、らくだや羊の肉を焼いた料理や、小麦を使ったうす焼きのパンのような料理がみられる。衣服は日中の強い日ざしや砂ぼりから身を守るために、長そでで、たけの長いものを着ている。

※出題頻度「乾燥帯○」「オアシス◎」「かんがい○」「遊牧○」「地下水△」「スプリンクラー△」「日干しれんが○」

[問題]

次の文章中の①～⑧に適語を入れよ。

アラビア半島は(①)帯の(②)気候で、水が得られる場所が限られている。自然に水がわき出てくるところや、地下水路や井戸を掘ることによって水が得られるところなど、水を得やすい場所は(③)とよばれ、その周辺には人々が暮らしている。(③)の周辺では、水が少なくても育つ小麦、なつめやしのような作物を、がんがいなどにより栽培してきた。また、乾燥に強いらくだや羊を飼う(④)も行われてきた。

サウジアラビアなどの国々では、深い井戸を掘って電動モーターで(⑤)水を大量にくみ上げ給水プールにためて、各家庭にパイプを使って送る施設の整備が進んでいる。また、(⑥)を使って(⑤)水を農地にまくことによって、乾燥した地域でも野菜などの栽培が大規模に行われるようになった。

アラビア半島は(①)帯なので、森林が少なく木材を得にくいため、伝統的な家には、土をこねてつくった(⑦)れんがを利用している。食事は、らくだや(⑧)の肉を焼いた料理や、小麦を使っとうす焼きのパンのような料理がみられる。衣服は日中の強い日ざしや砂ぼこりから身を守るために、長そでで、たけの長いものを着ている。

[解答欄]

①	②	③	④
⑤	⑥	⑦	⑧

[解答]① 乾燥 ② 砂漠 ③ オアシス ④ 遊牧 ⑤ 地下 ⑥ スプリンクラー
⑦ 日干し ⑧ 羊

[要点：熱帯の暮らし]

フィジーは南太平洋にある島国で、気温は一年中およそ 25℃で、熱帯という気候帯にある。熱帯にあるうっそうとした森林を熱帯雨林という。島の周辺には美しいさんご礁が発達しており、豊かな自然を生かした観光業がさかんである。しかし、観光開発によってさんご礁やマングローブ(海岸近くに生えている樹林)が破壊されるといった問題がおこっている。大規模な畑で、さとうきび(砂糖の原料)やココやしなどがつくられている。ココやしの実からつくるコプラ(食料油や石けんの原料)は重要な輸出品である。漁業も重要な産業で、日本へもまぐろを輸出している。フィジーの住居は木や竹などでつくられ、屋根はやしの葉でおおわれている。畑では主食になるキャッサバ、タロイモ、ヤムイモが栽培されている。地面に穴をほって焼けた石を置いたかまどを作り、いろいろな食材を入れて蒸すロボ料理が特徴的である。

また、かつてのイギリス植民地時代の影響から、フィジーではインド系の住民が多い。

※出題頻度「熱帯雨林○」「さんご礁○」「マングローブ○」「ココやし△」「コプラ△」

[問題]

次の文章中の①～⑪に適語を入れよ。

フィジーは南太平洋にある島国で、気温は一年中およそ 25℃で、(①)帯という気候帯にある。(①)帯にあるうっそうとした森林を(②)林という。島の周辺には美しい(③)礁が発達しており、豊かな自然を生かした観光業がさかんである。しかし、観光開発によって(③)礁や(④)(海岸近くに生えている樹林)が破壊されるといった問題がおこっている。

大規模な畑で、(⑤)(砂糖の原料)や(⑥)やしなどがつくられている。(⑥)やしの実からつくる(⑦)(食料油や石けんの原料)は重要な輸出品である。漁業も重要な産業で、日本へも(⑧)を輸出している。

フィジーの住居は木や竹などでつくられ、屋根は(⑨)の葉でおおわれている。畑では主食になるキャッサバ、タロイモ、ヤムイモが栽培されている。地面に穴をほって焼けた石を置いたかまどを作り、いろいろな食材を入れて蒸す(⑩)料理が特徴的である。

また、かつてのイギリス植民地時代の影響から、フィジーでは(⑪)系の住民が多い。

[解答欄]

①	②	③	④
⑤	⑥	⑦	⑧
⑨	⑩	⑪	

[解答]① 熱 ② 熱帯雨 ③ さんご ④ マングローブ ⑤ さとうきび ⑥ ココ
⑦ コブラ ⑧ まぐろ ⑨ やし ⑩ ロボ ⑪ インド

[問題]

次の各問いに答えよ。

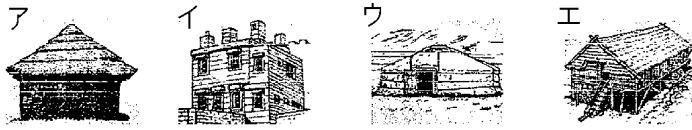
- フィジーでは 1 年を通して気温が高く季節の変化がほとんどない。このような気候帯を何というか。
- (1)にあるうっそうとした森林を何というか。
- フィジーには、美しく豊かな自然を求めて、たくさんの観光客がやってくる。このように観光産業が成長したのは、島の周辺の海に何があるからか。
- 右の写真の作物は、食料や燃料などフィジーの人々にとってとても大切なものである。この作物の名称を答えよ。
- フィジーの重要な輸出品である、(4)の実からできる脂肪分に富んだもので、マーガリンやせっけんの原料になるものは何か。
- フィジーでは砂糖の原料である何という作物が作られているか。
- フィジーが日本へ輸出している魚介類を 1 つあげよ。
- 地面に穴をほって焼けた石を置いたかまどを作り、いろいろな食材を入れて蒸す料理を何というか。



(9) 畑で栽培され人々の主食になっているものを、次の[]から3つ選べ。

[米 キャッサバ タロイも もろこし 大麦 ヤムいも]

(10) フィジーの人々の住居を次のア～エから選び、記号で答えよ。



(11) かつてのイギリス植民地時代の影響から、フィジーでは何系の住民が多いか。

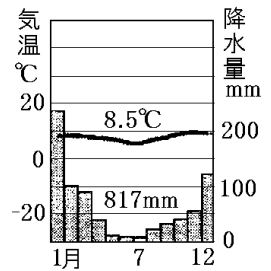
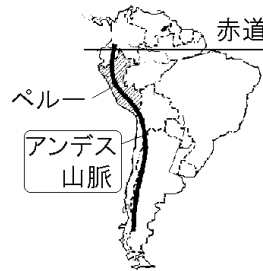
[解答欄]

(1)	(2)	(3)	(4)
(5)	(6)	(7)	(8)
(9)	(10)	(11)	

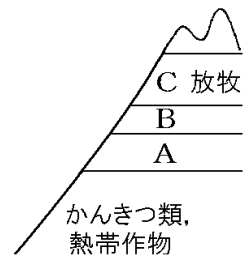
[解答](1) 熱帯 (2) 熱帯雨林 (3) さんご礁 (4) ココやし (5) コブラ (6) さとうきび (7) まぐろ (8) ロボ料理 (9) キャッサバ, タロイも, ヤムいも (10) ア (11) インド系

[要点：高地の暮らし]

標高が上がるにしたがって気温が下がるため、高山地域では、同じ緯度の標高が低い地域よりも気温が低くなる。このような地域に見られる特有の気候を高山気候という。赤道に近いアンデス山脈中央部にあるペルーは、赤道に近いにもかかわらず標高が高いため、年間の平均気温が低く、年間の気温の変化は小さい。しかし、昼と夜の気温差は大きい。



アンデス山脈に住む人々は、山の急斜面を高いところまで畑にしている。高度が高くなるにつれて気温が下がるために、作る作物を変えている。右図のAではとうもろこし、Bではじゃがいもを作っている。Cでは寒くて作物が育たないので、リヤマ(荷物の運搬)やアルパカ(毛をポンチョなどの材料として使う)を飼っている。



アンデスの高地では木が少ないため、住宅は主に石や日干しれんがで作られている。高地の寒さや風を防ぐためにポンチョやつばのついた帽子が使われる。



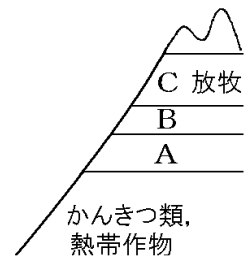
※出題頻度 「高山気候△」「標高が上がるにしたがって気温が下がる○」「アンデス山脈○」「昼と夜の気温差は大きい○」「じゃがいも○」「とうもろこし○」「リヤマ○」「アルパカ○」「日干しれんが○」「ポンチョ△」

[問題]

次の文章中の①～⑫に適語を入れよ(または、適語を選べ)。

標高が上がるにしたがって気温が①(上がる／下がる)ため、高山地域では、同じ緯度の標高が低い地域よりも気温が②(高く／低く)なる。このような地域に見られる特有の気候を(③)気候という。赤道に近い(④)山脈中央部にあるペルーは、赤道に近いにもかかわらず標高が高いため、年間の平均気温が②, 年間の気温の変化は⑤(大きい／小さい)。しかし、昼と夜の気温差は⑥(大きい／小さい)。

アンデス山脈に住む人々は、山の急斜面を高いところまで畑にしている。高度が高くなるにつれて気温が①のために、作る作物を変えている。右図のAでは⑦(じゃがいも／とうもろこし), Bでは⑧(じゃがいも／とうもろこし)を作っている。Cでは寒くて作物が育たないので、(⑨)(荷物の運搬)や(⑩)(毛をポンチョなどの材料として使う)を飼っている。



アンデスの高地では木が少ないため、住宅は主に石や(⑪)れんがで作られている。高地の寒さや風を防ぐために(⑫)やつばのついた帽子が使われる。

[解答欄]

①	②	③	④
⑤	⑥	⑦	⑧
⑨	⑩	⑪	⑫

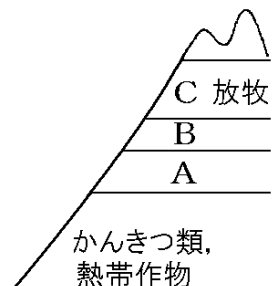
[解答]① 下がる ② 低く ③ 高山 ④ アンデス ⑤ 小さい ⑥ 大きい

⑦ とうもろこし ⑧ じゃがいも ⑨ リャマ ⑩ アルパカ ⑪ 日干し ⑫ ポンチョ

[問題]

次の各問いに答えよ。

- 南アメリカにあるペルーは何という山脈の中央部に位置しているか。
- 標高の高いペルー中部の気候は、①何という気候か。②年間の気温の変化は大きいか、小さいか。③昼夜の気温の変化は大きいか、小さいか。
- 右図はペルー中部の(1)の山脈の土地利用を示したものである。A, Bで栽培されている作物を次の[]からそれぞれ選べ。
[バナナ じゃがいも 米 とうもろこし]
- Cでは寒くて作物が育たないので家畜を飼っている。①荷物の運搬用に使われる家畜は何か。②毛をポンチョなどの材料として使う家畜は何か。
- 住宅は主に石や何で作られているか。



[解答欄]

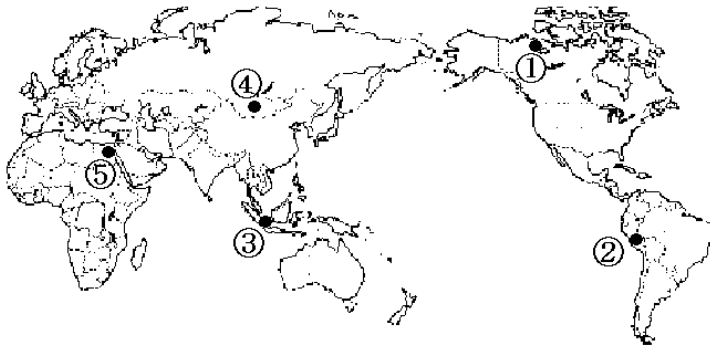
(1)	(2)①	②	③
(3)A	B	(4)①	②
(5)			

[解答](1) アンデス山脈 (2)① 高山気候 ② 小さい ③ 大きい (3)A とうもろこし
B ジャガイモ (4)① リヤマ ② アルパカ (5) 日干しれんが

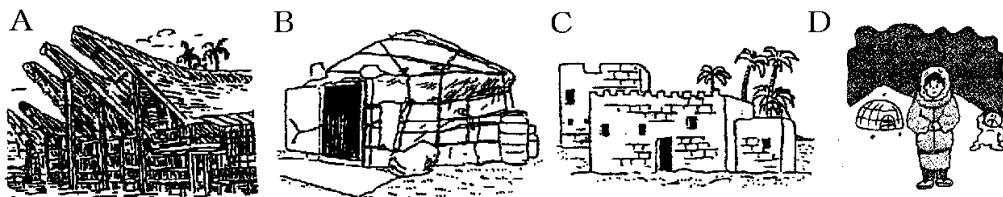
[世界の住居など]

[問題]

次の各説明にあてはまる地域を地図の①～⑤から、住居を下図のA～Dからそれぞれ1つずつ選べ。また、それぞれの気候帯を答えよ。



- (1) 乾燥して森林が少ないため、土や干しれんがで家を作る。外の暑い空気を防ぐために窓を小さくしている。
- (2) 一年中暑くて雨が多いので、床を高くし、風通しをよくしている。
- (3) 狩りのときには厚手の氷のブロックを積み上げて作り、外のきびしい寒さを防いでいる。
- (4) 家畜のえさとなる草を求めて移動するので、組み立て式になっている。




[解答欄]

(1)	(2)	(3)
(4)		

[解答](1) ⑤, C, 乾燥帯 (2) ③, A, 熱帯 (3) ①, D, 寒帯 (4) ④, B, 乾燥帯

[問題]

次のア～オの服は地図中の a～d のどの地域で見られるか。それぞれ 1 つずつ選び、記号で答えよ。



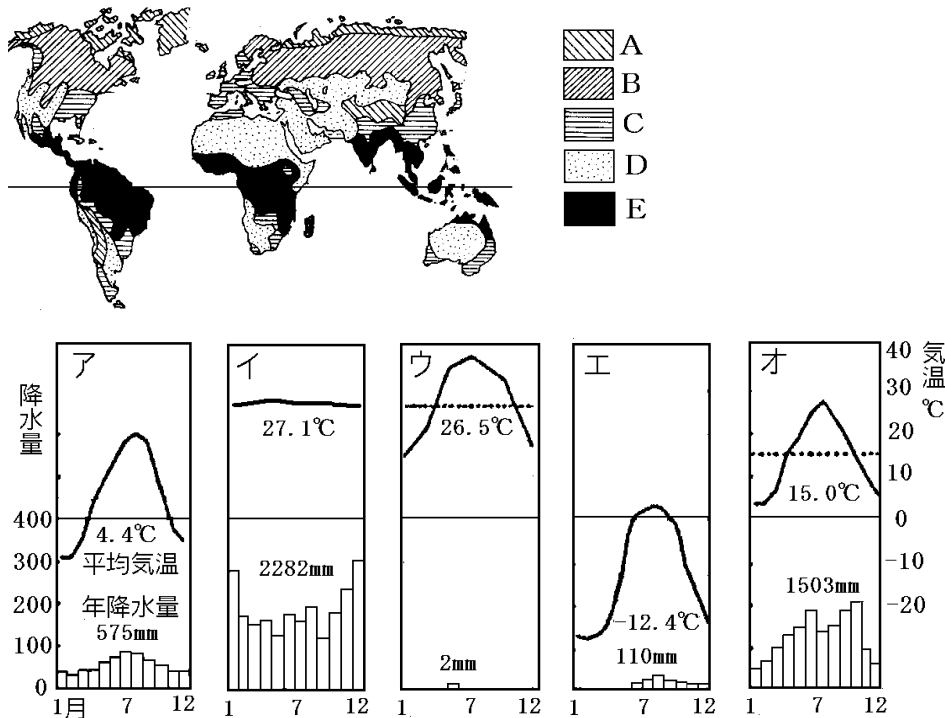
[解答欄]

ア	イ	ウ	エ
オ			

[解答]ア b イ d ウ a エ e オ f

【】世界の気候

[要点：世界の気候]



- (1) Aは寒帯である。1年中寒く、地下は凍っていることが多いので樹木はほとんど育たない。北極海沿岸や南極のように1年中雪と氷におおわれた氷雪気候と、短い夏に雪や氷がとけてこけ類などがはえるツンドラ気候がある。雨温図はエのようになる。
- (2) Bは冷帯(亜寒帯)である。冬は寒いが、夏には気温が上昇する。タイガという針葉樹林帯が広がる。雨温図はアのようになる。
- (3) Cは温帯である。温帯をさらに区分すると、日本など東アジアに見られる四季の変化がとくにはっきりしている温帯湿潤(温暖湿潤)気候、夏に乾燥し冬に雨が降る地中海性気候、フランス北部やイギリスに見られる西岸海洋性気候がある。ヨーロッパは、暖流の北大西洋海流と偏西風の影響で緯度が高い割に温暖である。温帯の雨温図はオのようになる。
- (4) Dは乾燥帯である。1年中、ほとんど雨が降らない砂漠気候と、わずかに雨が降り、草原が広がるステップ気候に分けられる。雨温図はウのようになる。
- (5) Eは熱帯である。熱帯をさらに区分すると、赤道直下の1年中高温多雨で密林が広がる熱帯雨林気候と、雨季と乾季があつてまばらな樹木と草原が広がるサバナ気候がある。雨温図はイのようになる。

※出題頻度「寒帯・雨温図○」「氷雪気候△」「ツンドラ気候△」「冷帯・雨温図○」

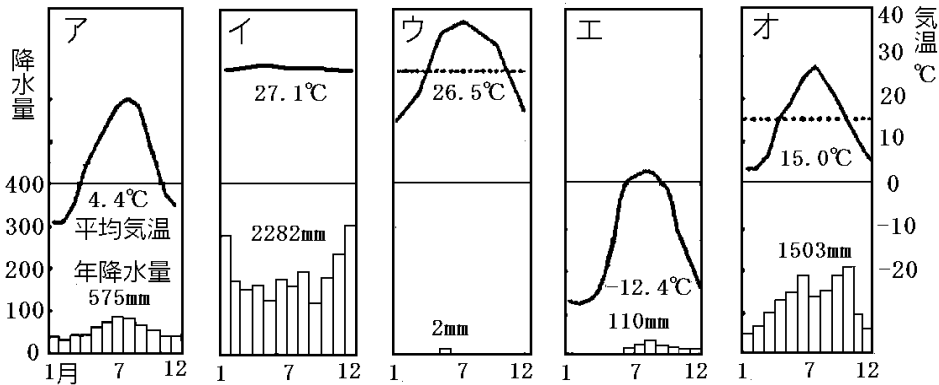
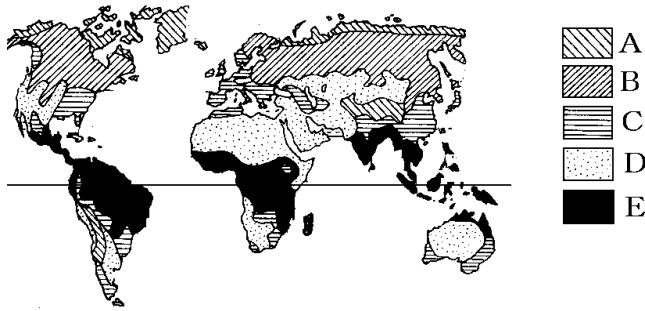
「温帯・雨温図○」「温帯湿潤気候△」「地中海性気候△」「西岸海洋性気候△」

「乾燥帯・雨温図○」「砂漠気候△」「ステップ気候△」

「熱帯・雨温図○」「熱帯雨林気候△」「サバナ気候△」

[問題]

次の各問いの()に適語をいれよ。(または()内より適語を選べ。)



- (1) Aは①(熱帯/乾燥帯/温帯/冷帯/寒帯)である。1年中寒く、地下は凍っていることが多いので樹木はほとんど育たない。北極海沿岸や南極のように1年中雪と氷におおわれた(②)気候と、短い夏に雪や氷がとけてこけ類などがはえる(③)気候がある。雨温図は(④)のようになる。
- (2) Bは①(熱帯/乾燥帯/温帯/冷帯/寒帯)である。冬は寒いが、夏には気温が上昇する。(②)という針葉樹林帯が広がる。雨温図は(③)のようになる。
- (3) Cは①(熱帯/乾燥帯/温帯/冷帯/寒帯)である。(①)をさらに区分すると、日本など東アジアに見られる四季の変化がとくにはっきりしている(②)気候、夏に乾燥し冬に雨が降る(③)気候、フランス北部やイギリスに見られる(④)気候がある。ヨーロッパは、暖流の(⑤)海流と(⑥)風の影響で緯度が高い割に温暖である。(①)の雨温図は(⑦)のようになる。
- (4) Dは①(熱帯/乾燥帯/温帯/冷帯/寒帯)である。1年中、ほとんど雨が降らない(②)気候と、わずかに雨が降り、草原が広がる(③)気候に分けられる。雨温図は(④)のようになる。
- (5) Eは①(熱帯/乾燥帯/温帯/冷帯/寒帯)である。(①)をさらに区分すると、赤道直下の1年中高温多雨で密林が広がる(②)気候と、雨季と乾季があってまばらな樹木と草原が広がる(③)気候がある。雨温図は(④)のようになる。

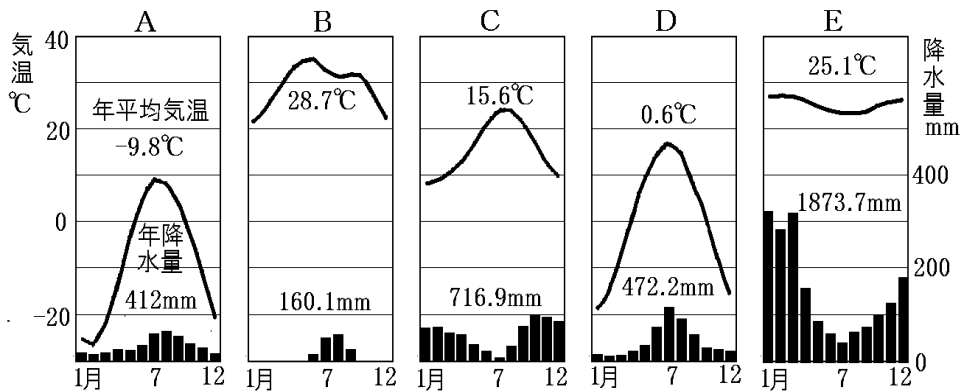
[解答欄]

(1)①	②	③	④
(2)①	②	③	(3)①
②	③	④	⑤
⑥	⑦	(4)①	②
③	④	(5)①	②
③	④		

[解答](1)① 寒帯 ② 氷雪 ③ ツンドラ ④ エ (2)① 冷帯 ② タイガ ③ ア
 (3)① 温帯 ② 温帯湿潤(温暖湿潤) ③ 地中海性 ④ 西岸海洋性 ⑤ 北大西洋 ⑥ 偏西
 ⑦ オ (4)① 乾燥帯 ② 砂漠 ③ ステップ ④ ウ (5)① 熱帯 ② 熱帯雨林
 ③ サバナ ④ イ

[問題]

次の地図と雨温図を見て、各問いに答えよ。



- (1) 地図のア～オの都市にあてはまる気候帯名を書け。
- (2) 地図のア～オの都市にあてはまる雨温図を上の方の A～E から選べ。

[解答欄]

(1)ア	イ	ウ	エ
オ	(2)ア	イ	ウ
エ	オ		

[解答](1)ア 温帯 イ 冷帯(亜寒帯) ウ 乾燥帯 エ 寒帯 オ 熱帯 (2)ア C イ D ウ B
エ A オ E

【】世界の宗教

[要点：世界の宗教]

右図のAで信仰されているのは仏教である。仏教はインドでシャカが紀元前 6 世紀ごろに始めた。

教典は経である。

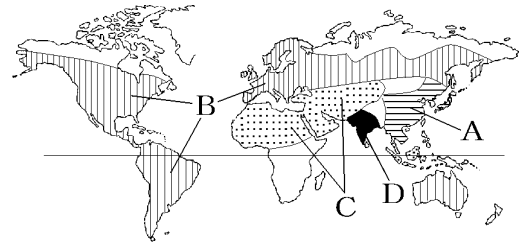
Bで信仰されているのはキリスト教である。キリスト教はイエスがはじめた宗教で、教典は聖書である。信者は日曜日に教会に礼拝に行く。

Cで信仰されているのはイスラム教である。イスラム教は 610 年にアラビア半島の商人ムハンマドが始めた宗教で、その教典はコーランである。イスラム教では、豚肉を食べたり、酒を飲んだりすることは禁じられている。信者は、モスクという寺院に礼拝に行く。また、1 日 5 回メッカのカーバー神殿に向かって礼拝をする。さらに、イスラム暦の 9 月(ラマダン)になると約 1 か月の間、日の出から日没までまったく飲食をしない断食を行う。

仏教、キリスト教、イスラム教を世界の三大宗教という。そのほかに、Dのインドで信仰されているヒンドゥー教などがある。ヒンドゥー教徒は、牛を神の使いと考え牛肉を食べない。

また、ガンジス川は聖なる川とされ、人々が水に身をひたして沐浴を行う。

※出題頻度「各宗教の分布◎」「仏教○」「シャカ○」「キリスト教○」「イエス△」「聖書△」「イスラム教○」「コーラン○」「断食○」「ヒンドゥー教○」「牛を食べない○」



[問題]

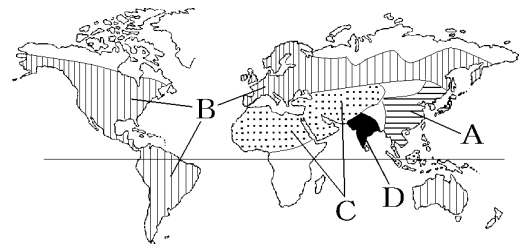
次の文章中の①～⑫に適語を入れよ。

右図の A で信仰されているのは(①)である。
(①)はインドで(②)が紀元前 6 世紀ごろに始めた。教典は(③)である。

B で信仰されているのは(④)教である。(④)教は(⑤)がはじめた宗教で、教典は(⑥)である。信者は日曜日に教会に礼拝に行く。

C で信仰されているのは(⑦)教である。(⑦)教は 610 年にアラビア半島の商人ムハンマドが始めた宗教で、その教典は(⑧)である。(⑦)教では、(⑨)肉を食べたり、酒を飲んだりすることは禁じられている。信者は、モスクという寺院に礼拝に行く。また、1 日 5 回メッカのカーバー神殿に向かって礼拝をする。さらに、イスラム暦の 9 月(ラマダン)になると約 1 か月の間、日の出から日没までまったく飲食をしない(⑩)を行う。

仏教、キリスト教、イスラム教を世界の三大宗教という。そのほかに、D のインドで信仰されている(⑪)教などがある。(⑪)教徒は、(⑫)を神の使いと考え(⑫)肉を食べない。また、ガンジス川は聖なる川とされ、人々が水に身をひたして沐浴を行う。




[解答欄]

①	②	③	④
⑤	⑥	⑦	⑧
⑨	⑩	⑪	⑫

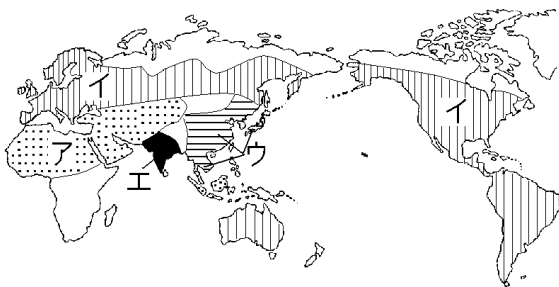
[解答]① 仏教 ② シャカ ③ 経 ④ キリスト ⑤ イエス ⑥ 聖書 ⑦ イスラム
⑧ コーラン ⑨ 豚 ⑩ 断食 ⑪ ヒンドゥー ⑫ 牛

[問題]

次の資料を見て，各問いに答えよ。



- (1) A～Dにもっとも関係の深い宗教名をそれぞれ答えよ。
 (2) 次の①～④は，A～Dのどの宗教と関係が深いか。
 ① 牛を神の使いと考え，牛肉を食べない。
 ② 豚肉を食べたり，酒を飲んだりしてはいけない。
 ③ 日曜日には教会に行く。
 ④ 食べ物などを受け取る托鉢が，修行として行われる。
 (3) A～Dの宗教が分布している地域を，次の地図のア～エからそれぞれ1つずつ選べ。



- (4) A～Dのうち，世界三大宗教でないものを選べ。

[解答欄]

(1)A	B	C	D
(2)①	②	③	④
(3)A	B	C	D
(4)			

[解答](1)A イスラム教 B 仏教 C キリスト教 D ヒンドゥー教 (2)① D ② A ③ C
④ B (3)A ア B ウ C イ D エ (4) D

【FdText 製品版のご案内】

※ このファイルは、FdText 社会(9,600 円)の一部を PDF 形式に変換したサンプルで、印刷はできないようになっています。製品版の FdText 理科は Word の文書ファイルで、印刷・編集を自由に行うことができます。

※ FdText(理科・社会・数学)全分野の PDF ファイル、および製品版の購入方法は <http://www.fdtype.com/txt/> に掲載しております。

弊社は、FdText のほかに、

FdData 中間期末過去問(数学・理科・社会)(各 18,900 円) <http://www.fdtype.com/dat/>

FdData 入試過去問(数学・理科・社会)(各 16,200 円) <http://www.fdtype.com/dan/>

を販売しております。

【Fd 教材開発】 (092) 811-0960