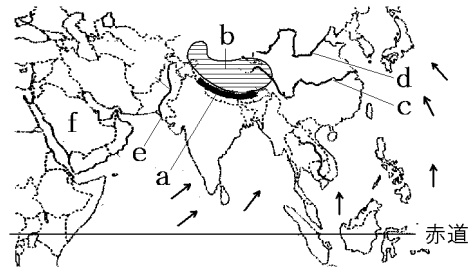


【】 アジア州

[要点]

aはヒマラヤ山脈, bはチベット高原
cは長江, dは黄河, eはインダス川,
fはアラビア半島



季節風(モンスーン)：夏と冬で風向が逆になる。
図のように海方向から吹く季節は夏で、東南アジアなどでは雨季になる。

台湾や韓国：コンピューターや半導体などのハイテク産業が盛ん、アジアNIESの一員
アジアは世界人口約6割をしめる。中国は最近まで一人っ子政策→人口の増加率が減少
→2020年代にはインドの人口が中国の人口を上回ると予想されている。

中国の農業：長江流域以南で稲作, 黄河流域などでは小麦や大豆などの畑作
中国人の9割が漢族(漢民族)で、それ以外の少数民族は西部で生活(農業は牧畜が中心)
中国は1980年代に経済特区を設けた→安くて豊富な労働力にひかれて外国資本が流入
→沿岸部を中心に発展, 沿岸部と内陸部の経済格差が拡大→「西部大開発」

東南アジアの文化：中国やインドの影響を受けている。華人という中国系も多い。
宗教も、仏教(タイなど)、イスラム教(インドネシアやマレーシア)、ヒンドゥー教、キリスト教(フィリピン)と入り交じっている

米の輸出が世界一のタイなどでは、年に2回米を作る二期作が行われている

プランテーション(大規模な農園)：パーム油の原料となるアブラやし

日本に輸出するためのえびの養殖場の開発→熱帯雨林の減少

ASEAN(東南アジア諸国連合)の国々：工業団地を整備。安い労働力にひかれて多くの日本企業が進出。急激な都市化→スラムと呼ばれる劣悪な住環境などの都市問題

インド：英語, 数学の教育水準の高さ→情報技術産業(IT産業)(中心都市はバンガロール)
農業の中心はガンジス川流域のヒンドスタン平野(下流域では米, 上流域では小麦)

西アジア：アラビア語を使うアラブ系, 人口のほとんどはイスラム教徒
ペルシャ湾沿岸で石油を産出。産油国は、OPEC(石油輸出国機構)を結成

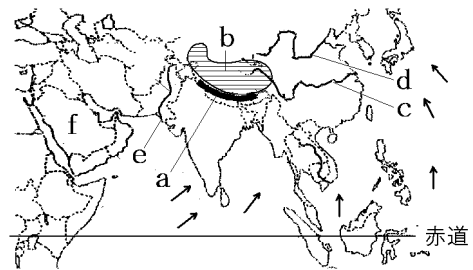
中央アジア：シルクロードの歴史遺産, レアメタル(希少金属)を産出

[要点確認]

aは()山脈, bは()^{こうげん}高原
cは(), dは(), eは()川,
fは()半島

()風: 夏と冬で風向が逆になる。

図のように海方向から吹く季節は(夏/冬)で,
東南アジアなどでは(雨季/乾季)になる。



^{たいわん}台湾や^{かんこく}韓国: コンピューターや半導体などの()産業がさかん, アジア()の一員
アジアは世界人口約()割をしめる。中国は最近まで()政策→人口の増加率が減少
→2020年代には()の人口が中国の人口を上回ると予想されている。

中国の農業: 長江流域以南で()作, 黄河流域などでは小麦や大豆などの()作
中国人の9割が()族で, それ以外の()民族は西部で生活(農業は()が中心)
中国は1980年代に()特区を設けた→安くて豊富な()力にひかれて外国資本が流入
→沿岸部を中心に発展, 沿岸部と内陸部の経済()が拡大→「()大開発」

東南アジアの文化: 中国や()の影響を受けている。()という中国系も多い。
宗教も, ()教(タイなど), ()教(インドネシアやマレーシア), ヒンドゥー教,
()教(フィリピン)と入り交じっている

米の輸出が世界一の()などでは, 年に2回米を作る()作が行われている

() (大規模な農園): パーム油の原料となる()やし

日本に輸出するための()の養殖場の開発→()林の減少

() (東南アジア諸国連合^{しよこくれんごう})の国々: ()団地を整備。安い()力にひかれて多くの
日本企業が進出。急激な都市化→()と呼ばれる劣悪な住環境などの都市問題

インド: (), 数学の教育水準の高さ→()産業(中心都市は())

農業の中心はガンジス川流域の()平野(下流域では(), 上流域では())

西アジア: ()語を使うアラブ系, 人口のほとんどは()教徒

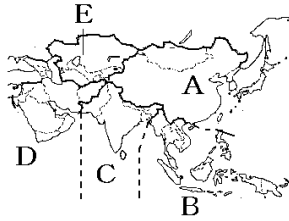
()湾沿岸で()を産出。産油国は, () (石油輸出国機構)を結成

中央アジア: ()の歴史遺産, () (希少金属)を産出

[州名・国名]

[問題]

アジア州は、次の図のA～E、およびシベリアに区分できる。A～Eの名称を書け。



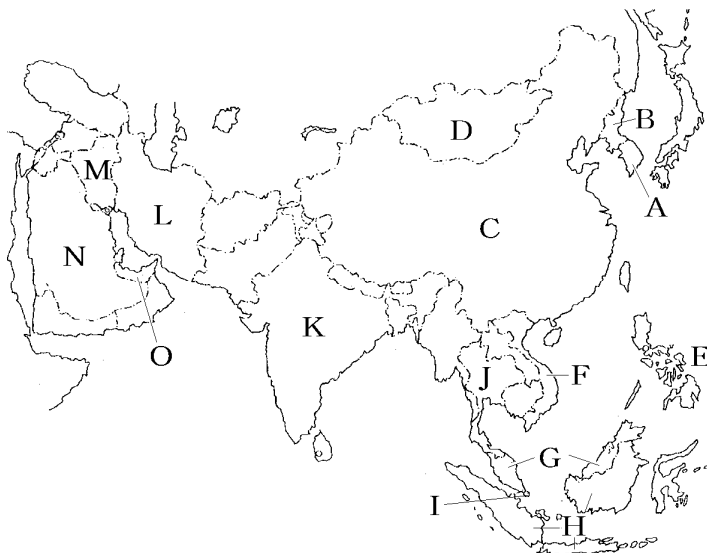
[解答欄]

A	B	C
D	E	

[解答]A 東アジア B 東南アジア C 南アジア D 西アジア E 中央アジア

[問題]

次の地図中のA～Oの国名を答えよ。



【解答欄】

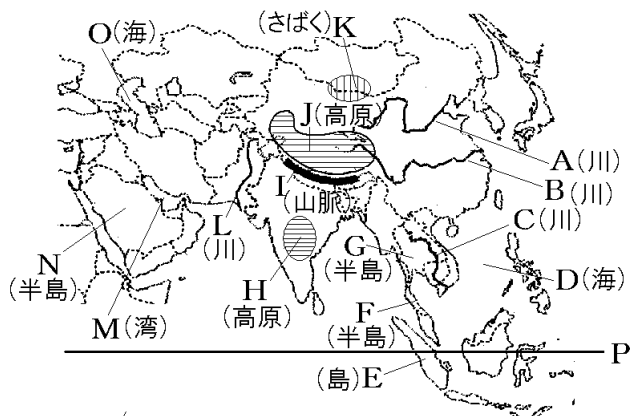
A	B	C
D	E	F
G	H	I
J	K	L
M	N	O

【解答】A 韓国(大韓民国) B 北朝鮮(朝鮮民主主義人民共和国) C 中国(中華人民共和国) D モンゴル E フィリピン F ベトナム G マレーシア H インドネシア I シンガポール J タイ K インド L イラン M イラク N サウジアラビア O アラブ首長国連邦

【地形】

【問題】

次の地図中の A～P の地形名を答えよ。



【解答欄】

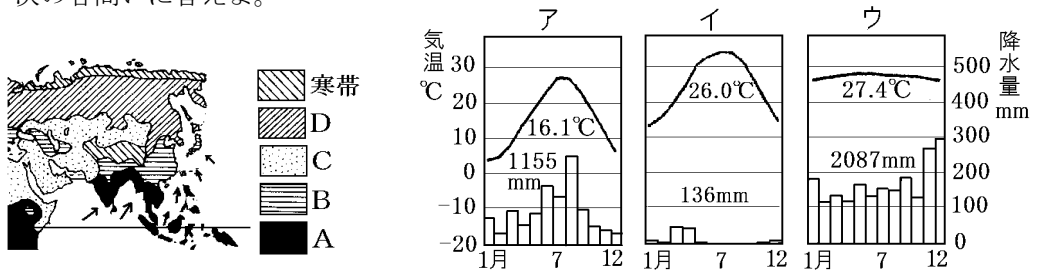
A	B	C
D	E	F
G	H	I
J	K	L
M	N	O
P		

[解答]A 黄河 B 長江 C メコン川 D 南シナ海 E スマトラ島 F マレー半島 G
 インドシナ半島 H デカン高原 I ヒマラヤ山脈 J チベット高原 K ゴビ砂漠 L
 インダス川 M ペルシャ湾 N アラビア半島 O カスピ海 P 赤道

[気候]

[問題]

次の各問いに答えよ。



- (1) 図で示したA～Dの気候帯を答えよ。
- (2) A～Cの気候帯の雨温図を上のア～ウからそれぞれ選べ。
- (3) アジアの東部と南部では、夏と冬で風向が逆になる(①)が吹く。図の矢印方向の(①)が吹く季節は②(夏/冬)で、東南アジアなどでは海からの湿った風によって雨が多く降る(③)季になる。図とは反対に内陸から風が吹くのは④(夏/冬)で、(⑤)季になる。

[解答欄]

(1)A	B	C	D
(2)A	B	C	(3)①
②	③	④	⑤

[解答](1)A 熱帯 B 温帯 C 乾燥帯 D 冷帯(亜寒帯) (2)A ウ B ア C イ (3)①
 季節風(モンスーン) ② 夏 ③ 雨 ④ 冬 ⑤ 乾

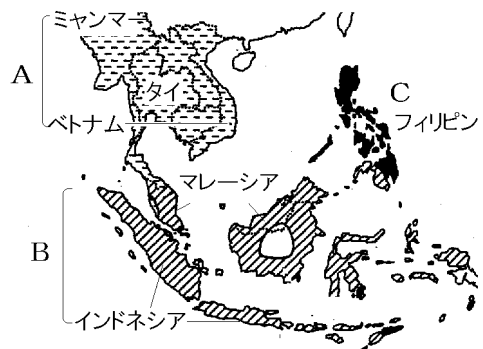
[入り交じる文化]

[問題]

次の各問いに答えよ。

- (1) 日本や朝鮮半島など、東アジアの文化は、古くからどこの国の影響を受けてきたか。1つ答えよ。
- (2) 東南アジアの文化は、古くからどこの国の影響を受けてきたか。2つ答えよ。
- (3) 東南アジアの各地に移り住み、商業や金融業を営み、現地の国籍をとって定着した中国系の人々を何というか。
- (4) 東南アジアはさまざまな宗教が入り交じっている。右図のタイ、ベトナムなどではAの(①)教が信仰されている。インドネシアやマレーシアでは、こうしんりょう香辛料をあつかう西アジアの商人によってBの(②)教がもたらされた。また、ゴム園などで働くインド人が(③)教をもたらした。フィリピンでは、スペインやアメリカの植民地であった関係からCの(④)教が広まった。

[東南アジアの宗教の分布]



[解答欄]

(1)	(2)	(3)	(4)①
②	③	④	

[解答](1) 中国 (2) 中国、インド (3) かじん華人 (4)① 仏 ② イスラム ③ ヒンドゥー ④ キリスト

[アジア NIES の国々]

[問題]

次の各問いに答えよ。

- (1) アジアの中で、かんこく韓国、ホンコン、シンガポール、たいわん台湾の4つの国・地域は急速に成長をとげたことから何と呼ばれたか。
- (2) 台湾や韓国でさかんな、コンピューターや半導体などを生産する産業を何というか。
- (3) 台湾では、アメリカの()バレーで活躍した人々によって(2)の産業がさかんになった。
- (4) 企業の本社が集中している韓国の首都はどこか。

【解答欄】

(1)	(2)	(3)
(4)		

【解答】(1) アジア NIES (2) ハイテク産業 (3) シリコン (4) ソウル

【中国】

【問題】

次の各問いに答えよ。

(1) アジアの人口は、世界人口の約何割か。整数で答えよ。

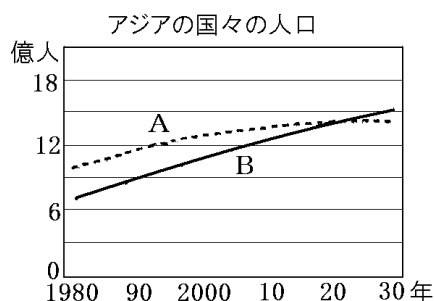
(2) 中国の人口数を次の[]から選べ。

[6.8 億人 10.8 億人 13.8 億人 26.8 億人]

(3) 右のグラフ中の A, B に適する国名を答えよ。

(4) 次の文章中の①, ②にあてはまる語句を答えよ。

A の国では、夫婦一組あたりの子どもの数を制限する(①)政策を実施してきたため、人口の増加率が(②)しつつある。これに対し、B の国は出生率が高く人口増加率も高いため、2020 年代には B の人口が A の人口を上回るようになると予想されている。



(5) 中国では人口の 9 割以上をしめる(①)族のほかに、55 の(②)民族がくらしている。

【解答欄】

(1)	(2)	(3)A	B
(4)①	②	(5)①	②

【解答】(1) 約 6 割 (2) 13.8 億人 (3)A 中国 B インド (4)① 一人っ子 ② 低下 (5) ① 漢(漢民) ② 少数民族

[問題]

次の各問いに答えよ。

- (1) 中国の沿岸部の都市には、外国の企業を誘致し経済発展を目指して 1979 年以降に設定された地域がある。これらの地域を特に何と呼ぶか。
- (2) (1)の地域に外国資本が流入してきた理由を「労働力」という語句を使って簡単に説明せよ。
- (3) 中国は、1990 年代から、①(沿岸部／内陸部)を中心に高い経済成長を続け、「世界の(②)」とまで呼ばれるようになった。その反面、③(沿岸部／内陸部)は貧しいまま取り残され、(①)と(③)の経済格差が大きくなった。中国政府は、この地域格差をなくすため、「(④)大開発」をかかげて 2000 年から開発を始めている。
- (4) 中国では、急速な工業化と都市化によって、()汚染、水質汚染、土壌汚染などの深刻な環境問題を引き起こした。

[解答欄]

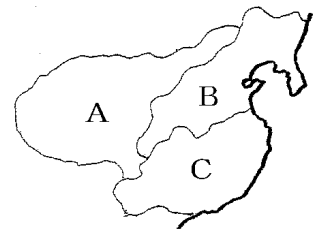
(1)	(2)		
(3)①	②	③	④
(4)			

[解答](1) 経済特区 (2) 安くて豊富な労働力が手にはいるから。 (3)① 沿岸部 ② 工場 ③ 内陸部 ④ 西部 (4) 大気

[問題]

右図の中国の農業分布図を見て、A～Cの各地域にあてはまる文を次のア～ウからそれぞれ選び、記号で答えよ。

- ア 降水量の少ないこの地域では、小麦やとうもろこしなどを作る畑作が中心である。
- イ 乾燥したこの地域では、遊牧などの牧畜がさかんである。
- ウ 降水量が多く温暖なこの地域では稲作を中心とした農業が行われている。



[解答欄]

A	B	C
---	---	---

[解答]A イ B ア C ウ

[東南アジア]

[問題]

インドネシアを中心に、1967年に発足した地域経済協力機構を何というか。

[解答欄]

--

[解答]ASEAN(東南アジア諸国連合)

[問題]

次の各問いに答えよ。

- (1) 日本企業がタイに多く進出しているのはなぜか。右の資料をみて、「賃金」の語句を用い、「日本と比べて」に続けて書け。

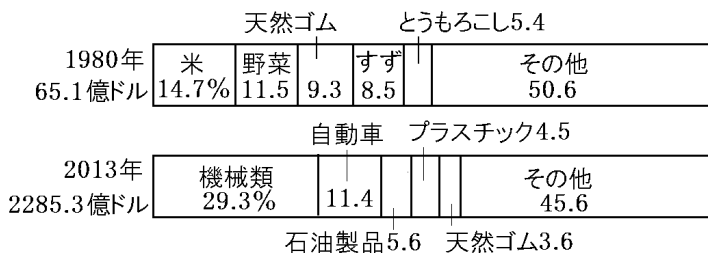
	賃金(月)
日本	29万400円
タイ	3万871円

- (2) タイやベトナムなどで、外国企業を受け入れて工業化を図るために作られた団地を何というか。

- (3) 下の資料はタイの輸出品のグラフである。タイの輸出品はどのように変化したか。次の文の①、②にあてはまる語句を下の[]からそれぞれ選べ。

タイの輸出品は、かつては(①)が中心だったが、現在では(②)が多くなった。

[工業製品 鉱産資源 農産物]



[解答欄]

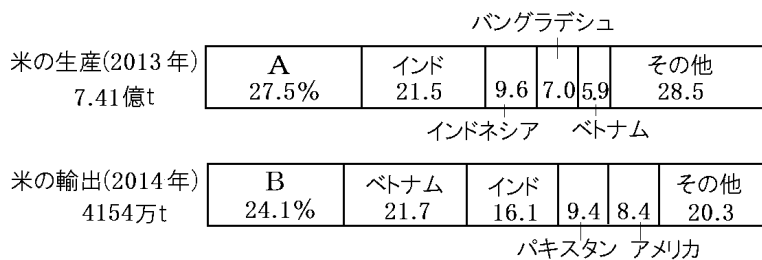
(1)		
(2)	(3)①	②

[解答](1) 日本と比べて労働者の賃金が安い。 (2) 工業団地 (3)① 農産物 ② 工業製品

[問題]

次の各問いに答えよ。

- (1) タイや中国南部などの年中温暖で降水量に恵まれている場所では1年に2回稲作をすることができる。そのことを何とというか。漢字3文字で答えよ。
- (2) 次のグラフは米の国別生産量と輸出量を示している。A, Bの国名を書け。



- (3) タイやインドネシアには、植民地時代からゴムやコーヒー豆などを栽培するためにつくられた大規模な農園があった。この農園を何と呼ぶか。
- (4) 近年マーガリン等を作るためにパーム油が利用されているが、このパーム油の原料となる植物の名前を答えよ。
- (5) タイやインドネシアなどのマングローブが広がる海岸では、日本に輸出するために(①)の養殖場がつくられ、フィリピンでは(②)農園が開かれてきた。
- (6) 農園の大規模開発を行うことによってどのような環境問題がおこっているか、説明せよ。

[解答欄]

(1)	(2)A	B	(3)
(4)	(5)①	②	(6)

[解答](1) 二期作 (2)A 中国 B タイ (3) プランテーション (4) アブラやし (5)① えび ② バナナ (6) 熱帯雨林の減少

[問題]

次の各問いに答えよ。

- (1) タイ、インドネシア、マレーシアでは農村の人々が都市に出て働くようになったが、その理由を、「農業の機械化」「人手」の語句を使って答えよ。
- (2) (1)の結果、都市の人口が増え、激しい交通渋滞や(①)と呼ばれる劣悪な住環境などの(②)問題が起きている。

【解答欄】

(1)	
(2)①	②

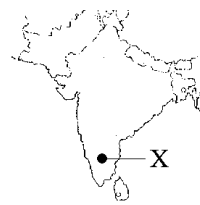
【解答】(1) 農業の機械化が進み、農村で人手が余るようになったから。(2)① スラム ② 都市

【インド】

【問題】

次の各問いに答えよ。

- (1) インドの急速な成長を支えているのは教育水準の高さであるが、特にどのような科目の水準が高いか。2つあげよ。
- (2) インドではコンピューターのソフトウェア開発などの産業がさかんである。このような産業を何というか。
- (3) (2)の中心都市は右図の X である。X の都市名を答えよ。
- (4) インドの(2)産業の成長で重要な役割を果たした人々の多くは、アメリカの(2)産業のさかんな地域で働いていた。そのアメリカの地域名を答えよ。



【解答欄】

(1)	(2)	(3)
(4)		

【解答】(1) 英語, 数学 (2) 情報技術産業(IT産業) (3) バンガロール (4) シリコンバレー

【問題】

次の各問いに答えよ。

- (1) インドの農業の中心はガンジス川流域に広がる平野である。何という平野か。
- (2) 降水量の多いインダス川下流域ではどのような作物が栽培されているか。
- (3) 降水量の少ないインダス川上流域ではどのような作物が栽培されているか。
- (4) インドでは、1960年代から農業の近代化が進められ、農村から都市へと人々が移り住んだ。急激に人口が増えた大都市では、(①)という劣悪な住環境、交通渋滞など深刻な(②)問題が起きている。

【解答欄】

(1)	(2)	(3)	(4)①
②			

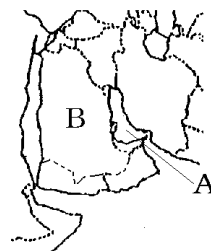
【解答】(1) ヒンドスタン平野 (2) 米 (3) 小麦 (4)① スラム ② 都市

【西アジア】

【問題】

次の各問いに答えよ。

- (1) A の湾の名前を答えよ。
- (2) A の湾の周辺で採掘される地下資源は何か。
- (3) B は、日本が最も多くの(2)を輸入している国である。この国の名前を答えよ。
- (4) (3)の国が位置している半島の名前を答えよ。
- (5) B などの(2)を産出する国々が 1960 年に設立した組織は何か。



【解答欄】

(1)	(2)	(3)
(4)	(5)	

【解答】(1) ペルシャ湾 (2) 石油 (3) サウジアラビア (4) アラビア半島 (5) OPEC(石油輸出国機構)

【問題】

次の各問いに答えよ。

- (1) 西アジアで主に信仰されている宗教は何か。
- (2) (1)の教典は何か。
- (3) 西アジアで主に使われている言語は何か。

【解答欄】

(1)	(2)	(3)
-----	-----	-----

【解答】(1) イスラム教 (2) コーラン (3) アラビア語

[中央アジア]

[問題]

次の各問いに答えよ。

- (1) 中央アジアでは、世界的に埋蔵量が少なく貴重な希少金属が産出される。この希少金属をカタカナで何というか。
- (2) 中央アジアには、中国とヨーロッパを結んだ古代の交易路の歴史遺産が多く、観光客が増えている。この交易路を何というか。
- (3) 中央アジアで主に信仰されている宗教は何か。

[解答欄]

(1)	(2)	(3)
-----	-----	-----

[解答](1) レアメタル (2) シルクロード (3) イスラム教

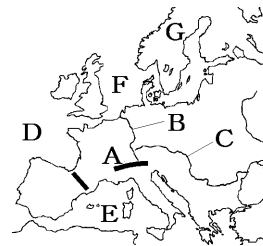
【】 ヨーロッパ州

[要点]

Aのアルプス山脈から流れ出るBはライン川で、Cのドナウ川とともに複数の国をまたがって流れる国際河川である

Dは大西洋、Eは地中海、Fは北海

Gのスカンディナヴィア半島西部の海岸は、氷河によって作られたフィヨルドという地形

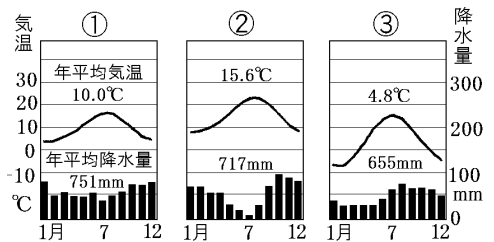
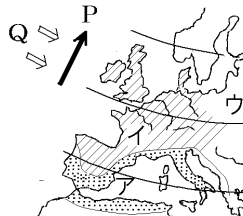


暖流の北大西洋海流(図P)

と偏西風(図Q)が寒さをやわらげている→高緯度の

わりには温暖

アの地中海性気候



(雨温図は②)、イは西岸海洋性気候(雨温図は①)、ウは冷帯(雨温図は③)

フランスやイタリアなど：ラテン系言語，キリスト教の信者はカトリックが多い。

ドイツやイギリスなど：ゲルマン系言語，キリスト教の信者はプロテスタントが多い。

東ヨーロッパやロシア：スラブ系言語，キリスト教の信者は正教会が多い。

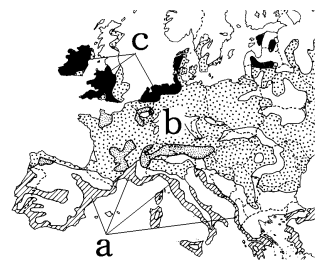
農業：地中海式農業(a)，混合農業(b)，酪農(c)

1993年にヨーロッパ連合(EU)が発足し、2002年には共通通貨のユーロが導入された。現在の加盟国数は28か国

EU内では、パスポートなしで自由に国境をこえて移動することが可能で、域内では輸入品に関税がかからない

交通網：ユーロスター(ロンドンとパリを結ぶ。ユーロトンネル)，ドイツのICE

EUの課題：西ヨーロッパに比べ、後からEUに加盟した東ヨーロッパの一人あたり国民総所得(GND)が少ないという経済格差の問題



ロシア連邦：ウラル山脈をはさんでヨーロッパとアジアに広がる国で、面積は日本の約45倍で、人口は約1.4億人である。

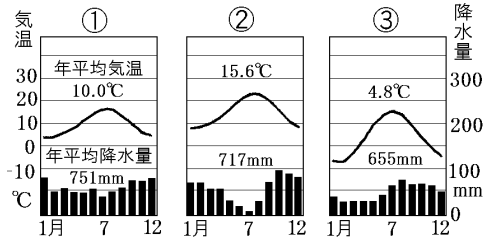
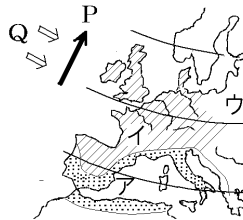
大量の石油・天然ガスをパイプラインという輸送管でヨーロッパ諸国に輸出

[要点確認]

Aの()山脈から流れ出るBは()川で、Cのドナウ川とともに複数の国をまたがって流れる()^{かせん}河川である
 Dは(), Eは()海, Fは()海
 Gの()半島西部の海岸は、()によって作られた()
 という地形



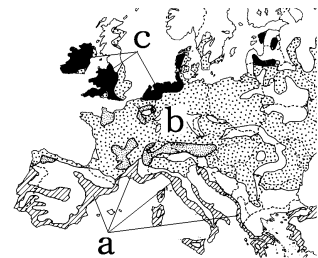
暖流の()海流(図 P)と()風(図 Q)が寒さをやわらげている→高緯度のわりには温暖
 アの一带は()気候(雨温図は()), イは()気候(雨温図は()), ウは()帯(雨温図は())



フランスやイタリアなど:()系言語, キリスト教の信者は()が多い。
 ドイツやイギリスなど:()系言語, キリスト教の信者は()が多い。
 東ヨーロッパやロシア:()系言語, キリスト教の信者は()が多い。

農業:()農業(a), ()農業(b), ()農(c)

1993年に()が発足し、2002年には共通通貨の()が導入された。現在の加盟国数は()か国
 EU内では、()なしで自由に^{こっきょう}国境をこえて移動することが可能で、域内では輸入品に()がかからない



交通網:()(ロンドンとパリを結ぶ。()トンネル), ドイツのICE

EUの課題:西ヨーロッパに比べ、後からEUに加盟した東ヨーロッパの一人あたり国民総所得(GNI)が少ないという()の問題

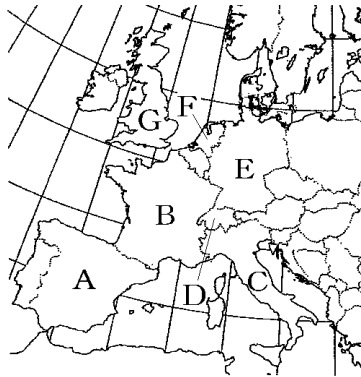
ロシア連邦:()^{れんぽう}山脈をはさんでヨーロッパとアジアに広がる国で、面積は日本の約()倍で、人口は約1.4億人である。

大量の()・天然ガスを()という輸送管でヨーロッパ諸国に輸出

[国名]

[問題]

次の地図のA～Gの国名を書け。



[解答欄]

A	B	C	D
E	F	G	

[解答]A スペイン B フランス C イタリア D スイス E ドイツ F オランダ G イギリス

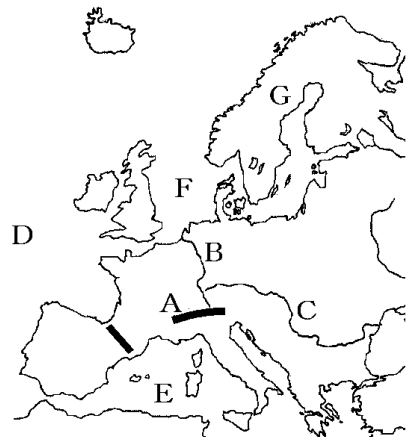
[地形]

[問題]

次の各問いに答えよ。

- (1) Aはスイスとイタリアの国境に位置する山脈である。何というか。
- (2) Aから流れ出るBの川を何というか。
- (3) Bの川は複数の国をまたがって流れている。このような川を何というか。
- (4) Cも(3)である。Cの川を何というか。
- (5) D, E, Fの海洋名を答えよ。
- (6) Gの半島の名前を答えよ。
- (7) G半島西部のノルウェーの海岸部は入りくんだ

地形になっている。これは(①)によって削られた谷の奥深くまで海水が入りこんでできた海岸線である。このような地形を(②)という。



[解答欄]

(1)	(2)	(3)	(4)
(5)D	E	F	
(6)		(7)①	②

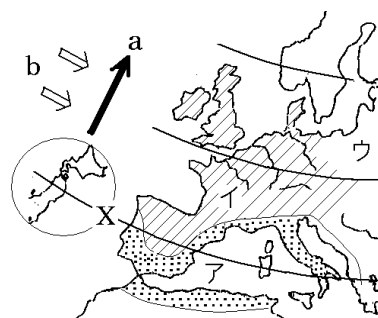
[解答](1) アルプス山脈 (2) ライン川 (3) 国際河川 (4) ドナウ川 (5)D 大西洋 E 地中海 F 北海 (6) スカンディナビア半島 (7)① 氷河 ② フィヨルド

[気候]

[問題]

次の各問いに答えよ。

- (1) 秋田県の八郎潟の上を通るXの北緯(①)度の緯線は、ヨーロッパではイベリア半島や地中海を通っている。また、ロンドンは北海道の最北端より ②(南/北)に位置する。

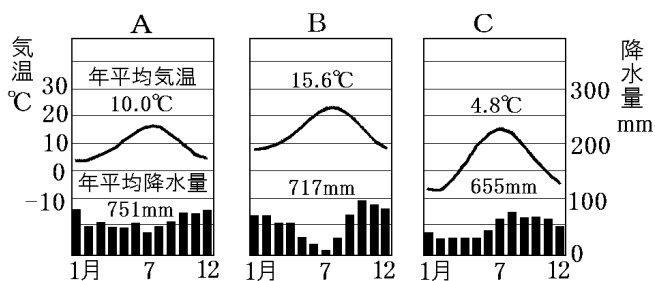


- (2) (1)のように、ヨーロッパは高緯度に位置するが、全体として気候は温暖である。それは、暖流の a の海流と b の風が寒さをやわらげているからである。a の海流と b の風の名前を答えよ。

- (3) 地図のア、イ、ウは何という気候帯(気候区)に属するか。[]からそれぞれ選べ。

[温帯(温帯湿潤気候) 温帯(地中海性気候) 温帯(西岸海洋性気候) 冷帯 寒帯]

- (4) 地図のア、イ、ウの気候の雨温図を次のA～Cからそれぞれ選べ。



[解答欄]

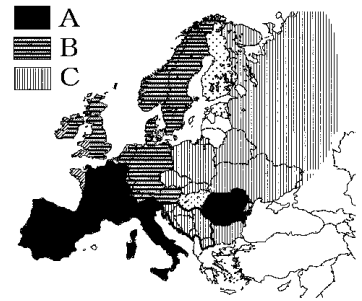
(1)①	②	(2)a	b
(3)ア	イ	ウ	
(4)ア	イ	ウ	

[解答](1)① 40 ② 北 (2)a 北大西洋海流^{きたたいせいようかいりゅう} b 偏西風^{へんせいふう} (3)ア 温帯(地中海性気候) イ 温帯(西岸海洋性気候) ウ 冷帯 (4)ア B イ A ウ C

[民族・宗教]

[問題]

ヨーロッパの言語は大きく3つに分けられる。
右の図のA, B, Cではそれぞれ主として何系言語が使われているか。



[解答欄]

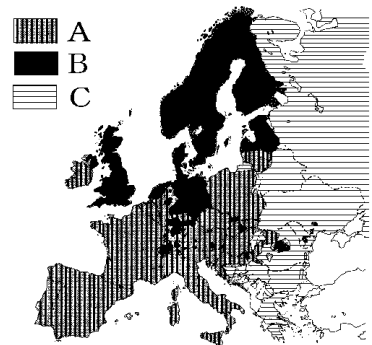
A	B	C
---	---	---

[解答]A ラテン系言語 B ゲルマン系言語 C スラブ系言語

[問題]

次の各問いに答えよ。

- ヨーロッパ州の多くの地域で信仰されている宗教は何か。
- 右の地図は(1)の分布図である。A, B, Cの(1)の宗派名を次の[]からそれぞれ選べ。
[プロテスタント 正教会 カトリック]
- 1960年代以降、アフリカやトルコなどからヨーロッパに移住する人が増えているが、これらの人々の多くが信仰する宗教は何か。



[解答欄]

(1)	(2)A	B
C	(3)	

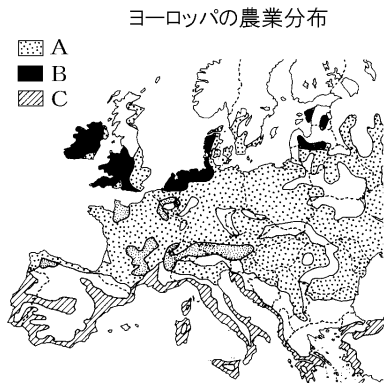
[解答](1) キリスト教 (2)A カトリック B プロテスタント C 正教会 (3) イスラム教

[農業]

[問題]

次の①～③の地域を地図中のA～Cから選んで記号を書き、それぞれの農業名を答えよ。

- ① 乳牛を飼いバターやチーズを生産している。
- ② オリーブ、オレンジ、小麦などを栽培している。
- ③ 小麦などの作物栽培と家畜の飼育を組み合わせている。



[解答欄]

①	②	③
---	---	---

[解答]① B, 酪農 ② C, 地中海式農業 ③ A, 混合農業

[工業]

[問題]

次の各問いに答えよ。

- (1) ヨーロッパ最大の工業地域を何というか。
- (2) 近年、ヨーロッパでは、医薬品や情報通信機器などの生産を行う産業が成長している。このような産業を何というか。
- (3) アメリカ合衆国などの工業製品に対抗するため、EU の加盟国が技術協力し、共同生産している輸送機器名を答えよ。

[解答欄]

(1)	(2)	(3)
-----	-----	-----

[解答](1) ルール工業地域 (2) ハイテク産業(先端技術産業) (3) 航空機

[進むヨーロッパ統合]

[問題]

次の各問いに答えよ。

- (1) フランスやドイツなどが 1967 年に結成し、その後、イギリスなどが加盟した組織の名前を書け。
- (2) (1)の結合をさらに進めるために 1993 年に発足した組織の名前を書け。
- (3) (2)の加盟国数は何か国か。

(4) (1)や(2)が結成された理由を、以下の語句を使って答えよ。

[アメリカ合衆国 政治 経済 戦争]

【解答欄】

(1)	(2)	(3)
(4)		

【解答】(1) ユーロッパ共同体(EC) (2) ユーロッパ連合(EU) (3) 28 各国 (4) 政治・経済の面でアメリカ合衆国などの大国に対抗するため。二度とヨーロッパで戦争を起こさないようにするため。

【問題】


次の各問いに答えよ。

(1) EU内では、(①)なしで自由に国境をこえて移動することが可能で、域内では輸入品に(②)がかからない。また、他国の大学で授業を受けても卒業資格を取得でき、仕事の(③)が共通なので他国で働くこともできる。



(2) 右の資料は、EU 加盟国の多くの国で使用されている共通通貨である。この通貨の名称を答えよ。

(3) ユーロッパ各国では、高速鉄道網が発達している。右の写真は、ロンドンとパリを結ぶ高速鉄道である。①この鉄道を何というか。②この鉄道が通っている、ドーバー海峡に掘られたトンネルを何というか。



(4) フランクフルトからパリまでのびたドイツの特急を何というか。

【解答欄】

(1)①	②	③	(2)
(3)①	②	(4)	

【解答】(1)① パスポート ② 関税 ③ 資格 (2) ユーロ (3)① ユーロスター ② ユーロトンネル (4) ICE

[問題]

次の各問いに答えよ。

- (1) 一人あたり国民総所得(GNI)が大きいのは、ヨーロッパの東側か、西側か。
- (2) EUのかかえる経済的な課題となっているのは、加盟国間の何が大きいことか。漢字4字で答えよ。
- (3) 最近、EU内の()という国の財政問題で、(2)の問題がさらに拡大すると考えられている。
- (4) (1), (2)に関し、西ヨーロッパの国の企業にはどのような動きがあるか。「工場」という語を使って書け。

[解答欄]

(1)	(2)	(3)
(4)		

[解答](1) 西側 (2) 経済格差 (3) ギリシャ (4) 賃金が安い東ヨーロッパに工場を建設する動きがある。

[ロシア連邦]

[問題]

次の文の①～⑥に適語を入れよ。(または、()内より適語を選べ。)

ロシア連邦は、(①)山脈をはさんでヨーロッパとアジアに広がる国で、その面積は日本の約②(15/25/45)倍で、人口は約③(1.4億人/2.4億人/3.4億人)である。ロシアは多くの民族からなる多民族国家であるが、その約8割を占めているのは④(ゲルマン系/ラテン系/スラブ系)である。現在、ロシア連邦は世界一の産油国で、天然ガスの生産高も世界一である。ロシア連邦は大量の石油・天然ガスを(⑤)という輸送管でヨーロッパ諸国に輸出している。また、シベリアには、(⑥)という針葉樹の森林があり、木材をヨーロッパ諸国に輸出している。

[解答欄]

①	②	③	④
⑤	⑥		

[解答]① ウラル ② 45 ③ 1.4億人 ④ スラブ系 ⑤ パイプライン ⑥ タイガ

【】 アフリカ州

[要点]

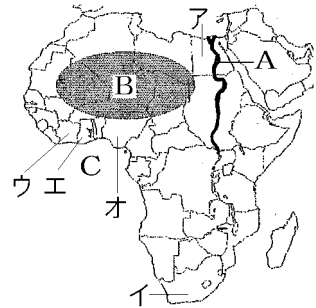
図のアの国はエジプト

イの国は南アフリカ共和国：かつてアパルトヘイトという

人種隔離政策、1994年にマンデラという黒人大統領が誕生

図のAはナイル川、Bはサハラ砂漠、Cはギニア湾

気候帯は、熱帯(C沿岸)→乾燥帯(B)→温帯(地中海)と変化



16世紀以後、多くの黒人が奴隷として連れ出された

19世紀、アフリカはイギリス(アやイの国を支配)やフラン

ス(地中海沿岸-B-C沿岸)などの植民地となった→植民地時代の言葉を公用語として
いる国が多い、植民地時代に引かれた国境線をめぐる民族間の対立、キリスト教も信仰
されている(北アフリカではおもにイスラム教が信仰されている)

植民地時代、プランテーションという大農園

ギニア湾岸(C)の国では、チョコレートの原料になるカカオの生産がさかんで、コートジ
ボワール(ウ)は世界一の生産国で、ガーナ(エ)は日本へ多く輸出。ナイジェリア(オ)では
カカオの生産もさかんであるが、輸出の7割を石油がしめている。

アフリカは銅、金やダイヤモンド(南アフリカ)などの鉱産資源が豊富

近年は、コバルトなどの希少金属(レアメタル)が産出されている。

モノカルチャー経済：特定の商品作物や鉱産資源の生産や輸出にたよっている経済

アフリカ最大の工業国は南アフリカ共和国

アフリカでも都市化が進行→スラムという劣悪な住環境などの都市問題

栄養状態が悪いため、乳児死亡率が高い。エイズ感染者も多い。

アフリカの課題を共有し、お互いに解決の方法を考えるためにアフリカ連合(AU)を結成
日本などの民間団体である非政府組織(NGO)；環境保護や飢餓救済などの活動

アフリカ中部のステップと呼ばれる草原地帯では、野生動物を観察するサファリ観光が
行われるようになった→観光資源である野生動物の保全にもつながる。このような観光
のあり方をエコツーリズムという。

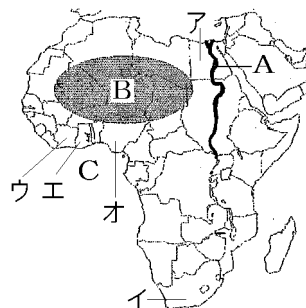
[要点確認]

図のアの国は()

イの国は(): かつて()という人種隔離政策, 1994年に()という黒人大統領が誕生

図のAは()川, Bは()砂漠, Cは()湾

気候帯は, ()帯(C沿岸)→()帯(B)→()帯(地中海)と変化



16世紀以後, 多くの黒人が()として連れ出された

19世紀, アフリカは()(アやイの国を支配)や()(地中海沿岸-B-C沿岸)などの()地となった→()地時代の言葉を()語としている国が多い, 植民地時代に引かれた()線をめぐる民族間の対立, ()教も信仰されている(北アフリカではおもに()教が信仰されている)

植民地時代, ()という大農園

ギニア湾岸(C)の国では, チョコレートの原料になる()の生産がさかんで, ()(ウ)は世界一の生産国で, ()(エ)は日本へ多く輸出。()(オ)ではカカオの生産もさかんであるが, 輸出の7割を()がしめている。

アフリカは銅, 金やダイヤモンド(南アフリカ)などの鉱産資源が豊富

近年は, コバルトなどの()が産出されている。

()経済: 特定の()作物や鉱産資源の生産や輸出にたよっている経済

アフリカ最大の工業国は()

アフリカでも都市化が進行→()という劣悪な住環境などの都市問題

栄養状態が悪いため, ()死亡率が高い。()感染者も多い。

アフリカの課題を共有し, お互いに解決の方法を考えるために()を結成

日本などの民間団体である(); 環境保護や飢餓救済などの活動

アフリカ中部のステップと呼ばれる草原地帯では, 野生動物を観察する()観光が行われるようになった。→観光資源である野生動物の保全にもつながる。このような観光のあり方を()ツーリズムという。

【国名】

【問題】

次の各問いに答えよ。

- (1) 地図中の A～F にあてはまる国名を次の[]の中からそれぞれ選べ。

[南アフリカ共和国 エジプト ナイジェリア
ガーナ コートジボワール エチオピア
ケニア]



- (2) D の国で、長い間とられてきた人種隔離政策を何と
いうか。カタカナで答えよ。

- (3) (2)の体制がくずされ、1994 年に大統領となったのは誰か。

【解答欄】

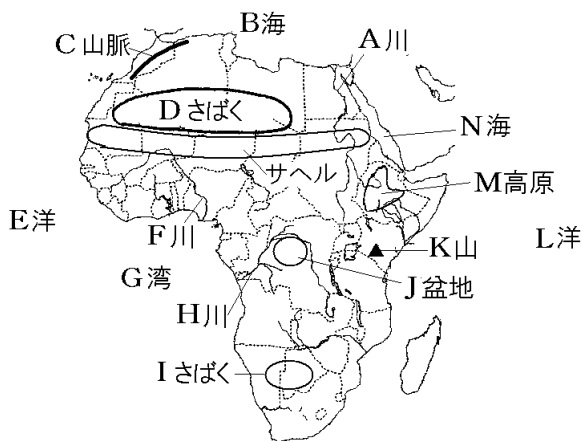
(1)A	B	C
D	E	F
(2)	(3)	

【解答】(1)A コートジボワール B ガーナ C ナイジェリア D 南アフリカ共和国 E
エチオピア F エジプト (2) アパルトヘイト (3) マンデラ

【地形】

【問題】

次の地図中の A～N の地形名を答えよ。



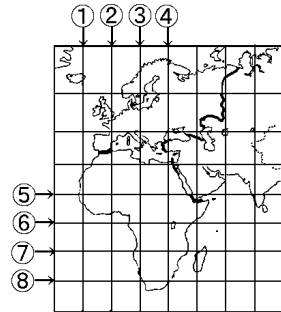
【解答欄】

A	川	B	海	C	山脈
D	砂漠	E	洋	F	川
G	湾	H	川	I	砂漠
J	盆地	K	山	L	洋
M	高原	N	海		

【解答】A ナイル B 地中 C アトラス D サハラ E 大西 F ニジェール G ギニア
H コンゴ I カラハリ J コンゴ K キリマンジャロ L インド M エチオピア N 紅

【問題】

右図で赤道と本初子午線を示している線はどれか。
図中の①～⑧のうちから、最も適当なものをそれぞれ
1つずつ選び、その番号を書け。



【解答欄】

赤道：	本初子午線：
-----	--------

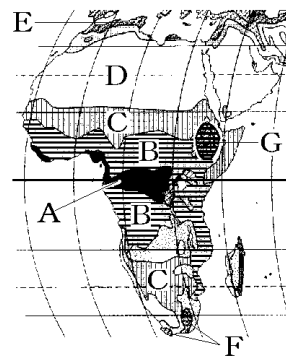
【解答】赤道：⑥ 本初子午線：②

【気候】

【問題】

次の各問いに答えよ。

- (1) A と B は同じ気候帯に属する。何という気候帯か。
- (2) 赤道直下の A に広がる森林を何というか。
- (3) B には、まばらな森林と草原が広がっているが、これを何というか。カタカナで答えよ。
- (4) C と D は同じ気候帯に属する。何という気候帯か。
- (5) C にはたけの短い草原が広がっている。これを何というか。カタカナで答えよ。
- (6) D に広がる世界最大の砂漠さばくの名前を答えよ。
- (7) E と F は同じ気候帯に属する。何という気候帯か。
- (8) G にはエチオピア高原があり、標高の高い地域になっている。この地域の気候何か。



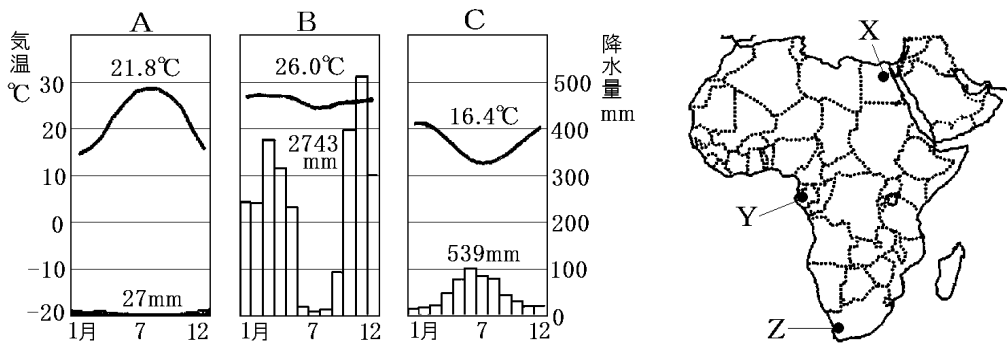
【解答欄】

(1)	(2)	(3)	(4)
(5)	(6)	(7)	(8)

【解答】(1) 熱帯 (2) 熱帯雨林 (3) サバナ (4) 乾燥帯 (5) ステップ (6) サハラ砂漠 (7) 温帯 (8) 高山気候

【問題】

次のA～Cのグラフは、略地図中のX、Y、Zの都市のものである。A～Cのグラフは、それぞれどの都市にあてはまるか。都市の記号を答え、あわせて、気候帯名を書け。



【解答欄】

A :	B :	C :
-----	-----	-----

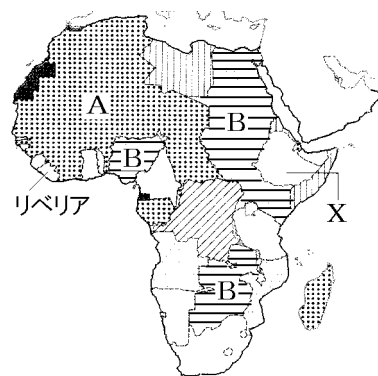
【解答】A : X, 乾燥帯 B : Y, 熱帯 C : Z, 温帯

【アフリカのあゆみ】

【問題】

次の各問いに答えよ。

- 16世紀以後、多くのアフリカ人が()として南北アメリカへ連れ出された。
- ヨーロッパ諸国はアフリカへ進出し、やがてこの地域を自国の支配下におさめていった。このような支配された地域や国々を何と呼ぶか。
- 地図中のA、Bの地域を(2)として支配下に置いたヨーロッパの国名をそれぞれ書け。



- (4) 地図中のリベリアと X は(2)にならなかった。X の国名を書け。
- (5) 現在でも(2)時代の言葉を(①)語としている国が多い。また、(2)時代に引かれた(②)線をめぐる民族間の対立も起きている。北アフリカではおもに(③)教が信仰しんこうされているが、それ以外の地域では伝統的な宗教のほか、(2)時代の影響で(④)教も広がっている。

【解答欄】

(1)	(2)	(3)A	B
(4)	(5)①	②	③
④			

【解答】(1) 奴隷どれい (2) 植民地しょくみんち (3)A フランス B イギリス (4) エチオピア (5)① 公用こうよう
② 国境 ③ イスラム ④ キリスト

【産業】

【問題】

次の各問いに答えよ。

- (1) 植民地時代のアフリカでは、ヨーロッパ人が現地の安い労働力を利用して大農園で特定の商品しょうひん作物さくもつを栽培してヨーロッパに輸出した。この大農園を何というか。
- (2) ギニア湾沿岸のA, B, Cの国では、チョコレートの原料になる農作物の(1)の農業が行われている。何という作物か。
- (3) (2)の生産量が世界1位の国はA, B, Cのどこか。記号と国名を書け。
- (4) 日本が(2)の大半を輸入している国はA, B, Cのどこか。記号と国名を書け。
- (5) アフリカの乾燥帯では移動しながら牛やラクダを飼育している。これを何というか。



【解答欄】

(1)	(2)	(3)
(4)	(5)	

【解答】(1) プランテーション (2) カカオ (3) A, コートジボワール (4) B, ガーナ (5) 遊牧ゆうぼく

[問題]

次の各問いに答えよ。

- (1) アフリカでは、携帯電話などに欠かせないコバルトなどの希少金属が産出されている。このような希少金属をカタカナで何というか。
- (2) A のナイジェリアの輸出の大半を占め、北アフリカでも多く産出されている鉱産資源は何か。
- (3) 図中の C, D の両国では、(①)という鉱産資源が、B の国では(②)やダイヤモンドが産出されている。
- (4) アフリカ最大の工業国はどこか。A～E から選び、記号と国名を書け。



[解答欄]

(1)	(2)	(3)①	②
(4)			

[解答](1) レアメタル (2) 石油 (3)① 銅 ② 金 (4) B, 南アフリカ共和国

[問題]

次の各問いに答えよ。

- (1) 次のグラフは、[]内の国のそれぞれの輸出品の割合を示したグラフである。X～Z 国の名前をそれぞれ答えよ。

[ナイジェリア コートジボワール 南アフリカ共和国]

X	カカオ	石油製品	石油	その他	(2013年)
	21.4%	17.5	11.6	49.5	

Y	石油	その他	(2012年)
	69.2%	30.8	

Z	機械類	鉄鉱石	白金族	自動車	金	鉄鋼	石炭	その他	(2013年)
	9.5%	8.9	8.8	8.6	7.2	6.5	6.2	44.3	

- (2) アフリカでは限られた特定の(①)作物や鉱産資源の生産や輸出にたよっている国が多い。このような経済を(②)経済という。

[解答欄]

(1)X	Y	Z
(2)①	②	

[解答](1)X コートジボワール Y ナイジェリア Z 南アフリカ共和国 (2)① 商品 ②
モノカルチャー

[アフリカの課題と展望]

[問題]

次の各問いに答えよ。

- (1) アフリカ諸国は現在も大きな困難をかかえている。次の[]内の言葉を使って、アフリカ諸国の困難な状況を説明せよ。
[食料 乳児死亡率 エイズ]
- (2) 大都市での問題の1つである、賃金の安い単純労働の仕事をしている人々が簡単なつくりの家に住んでいる居住地区を何というか。
- (3) アフリカの課題を共有し、お互いに解決の方法を考えるために結成された組織の名前を答えよ。
- (4) アフリカでは、民間団体である非政府組織が環境保護や飢餓救済き が きゅうさいなどの活動をしている。この組織の略称をアルファベットで何というか。
- (5) アフリカ中部のステップと呼ばれる草原地帯では、野生動物を観察する(①)観光が行われるようになった。(①)観光が発展することによって、観光資源である野生動物の保全にもつながる。このような観光のあり方を(②)ツーリズムという。

[解答欄]

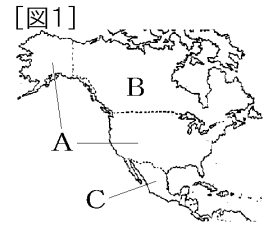
(1)			
(2)	(3)	(4)	(5)①
②			

[解答](1) 食料不足によって栄養状態が悪いため乳児死亡率が高い。また、エイズ感染者も多い。(2) スラム (3) AU(アフリカ連合) (4) NGO (5)① サファリ ② エコ

【】 北アメリカ州

[要点]

図1のA国はアメリカ合衆国で首都はワシントン
 B国はカナダで首都はオタワ，英語の他にフランス語も公用語
 Cはメキシコで，スペイン語が使われている。

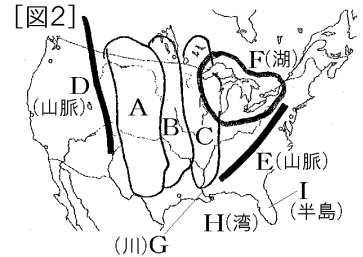


A, B, Cの3国で結ばれた自由貿易協定は NAFTA

ヨーロッパからの移民：先住民の土地をうばいながら開拓
 アフリカ大陸から黒人が奴隷として連れて来られた

近年，メキシコや西インド諸島などスペイン語を話すヒスパニックという移民が増加

図2のDはロッキー山脈で，その東には，グレートプレーンズ(A)，プレーリー(B)が広がっている。中央平原(C)を流れるGはミシシッピ川で，五大湖(F)とともに重要な内陸水路
 Eはアパラチア山脈。Hのメキシコ湾岸から，Iのフロリダ半島などをおそう熱帯低気圧をハリケーンという



アメリカの農業：企業的な農業(広い農地，大型の農業機械)
遺伝子レベルで品種を改良するバイオテクノロジーもさかん
適地適作：各地域の自然環境に適した農業

図3のAは小麦，Bでは綿花，Cではとうもろこしと大豆
 Cでは，フィードロットという飼育方法，Dは酪農地帯
 XYは西経100度の線で年間降水量500mmの線と重なる
 右図のように散水するセンターピボット方式のかんがい
 XYより西の乾燥した地域では牛の放牧が行われている。

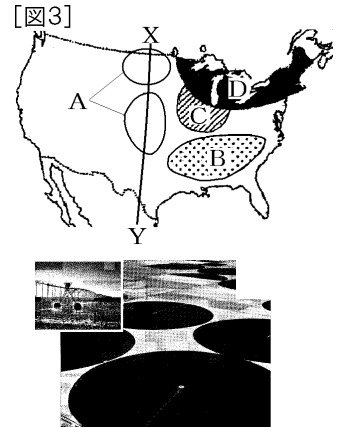
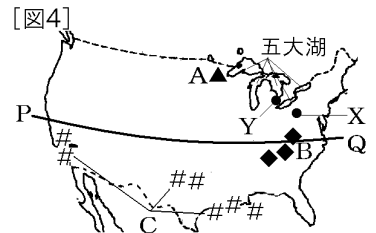


図4のAは鉄鉱石，Bは石炭，Cは石油の分布

Xのピッツバーグでは鉄鋼業，Yのデトロイトでは自動車工業が発展。

PQの北緯37度より南のサンベルトでは，情報技術(IT)産業などが発達。とくに，サンフランシスコの南にあるシリコンバレーでは多くの会社が集まっている。



アメリカには世界に事務所や工場をもつ多国籍企業がある

アメリカから世界に広がった文化：マクドナルドのようなファストフード，ジャズ

[要点確認]

図1のA国は()で首都は()

B国は()で首都は(), 英語の他に()語も公用語

Cは()で, ()語が使われている。

A, B, Cの3国で結ばれた自由貿易協定は()

ヨーロッパからの()民:()民の土地をうばいながら開拓

アフリカ大陸から黒人が()として連れて来られた

近年, メキシコや西インド諸島など()語を話す()という移民が増加

[図1]

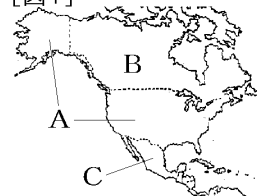


図2のDは()山脈で, その東には, ()A, ()B

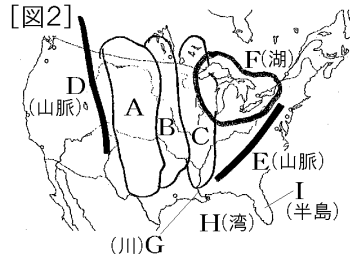
が広がっている。()平原(C)を流れるGは()川で,

()湖(F)とともに重要な内陸水路

Eは()山脈。Hの()湾岸から, Iの()半島などをお

そう熱帯低気圧を()という。

[図2]



アメリカの農業:()的な農業(広い農地, 大型の農業機械)

遺伝子レベルで品種を改良する()もさかん

()適作: 各地域の自然環境に適した農業

図3のAは(), Bでは(), Cでは()と大豆

Cでは, ()という飼育方法, Dは()地帯

XYは西経()度の線で年間降水量500mmの線と重なる

右図のように散水する()方式のかんがい

XYより西の乾燥した地域では牛の()が行われている。

[図3]

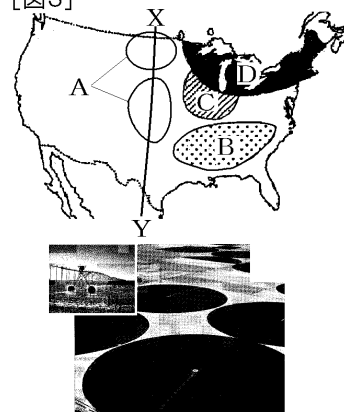


図4のAは(), Bは(), Cは()の分布

Xの()では鉄鋼業, Yの()では自動車工業が発展。

PQの北緯()度より南の()では, 情報技術(IT)産業

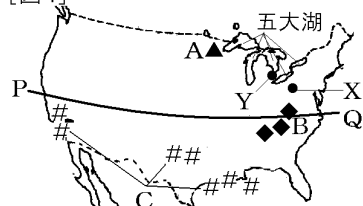
などが発達。とくに, サンフランシスコの南にある()

では多くの会社が集まっている。

アメリカには世界に事務所や工場をもつ()企業がある

アメリカから世界に広がった文化: マグドナルドのような(), ジャズ

[図4]

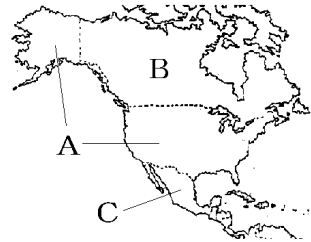


[国名など]

[問題]

次の各問いに答えよ。

- (1) A国の①国名と②首都名を答えよ。
- (2) A国で最も人口が多く自由の女神像がある都市はどこか。
- (3) (2)からボストンにかけては、巨大都市がつらなっている。この地域のことをカタカナで何というか。
- (4) B国の①国名と②首都名を答えよ。
- (5) B国の公用語は2つあるが、何語と何語か。
- (6) C国の国名を答えよ。
- (7) C国では何語が使われているか。1つ答えよ。
- (8) A, B, Cの3国で結ばれた自由貿易協定を、アルファベットの略称で答えよ。
- (9) A国とB国の国土面積はほぼ同じである。日本の国土面積の約何倍か。整数で答えよ。



[解答欄]

(1)①	②	(2)
(3)	(4)①	②
(5)	(6)	(7)
(8)	(9)	

[解答](1)① アメリカ合衆国 ② ワシントン (2) ニューヨーク (3) メガロポリス
(4)① カナダ ② オタワ (5) 英語とフランス語 (6) メキシコ (7) スペイン語 (8)
NAFTA (9) 約26倍

[問題]

次の文章中の①～④に適語を入れよ。

北アメリカにはネイティブアメリカンと呼ばれる(①)民が住んでいたが、ヨーロッパからの(②)民が、(①)民の土地をうばいながら開拓を進めた。また、アフリカ大陸からは、黒人が(③)として連れて来られた。北アメリカでは、多くの人々が(④)教を信仰している。

[解答欄]

①	②	③	④
---	---	---	---

【解答】① 先住 ② 移 ③ 奴隷^{どれい} ④ キリスト

【問題】

次の各問いに答えよ。

- (1) 働く場所と高い賃金を求めてメキシコや西インド諸島などの国々からアメリカに移住してきた移民を何というか。
(2) (1)の人々が主に使用している言語は何か。

【解答欄】

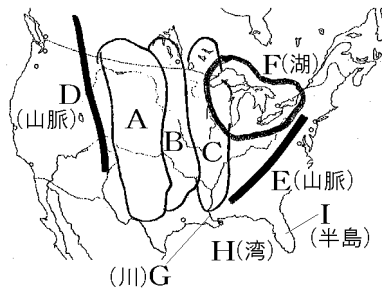
(1)	(2)
-----	-----

【解答】(1) ヒスパニック (2) スペイン語

【地形・気候】

【問題】

次の地図中のA～Iの地形名を答えよ。ただし、A～Cはそれぞれ大平原を示している。



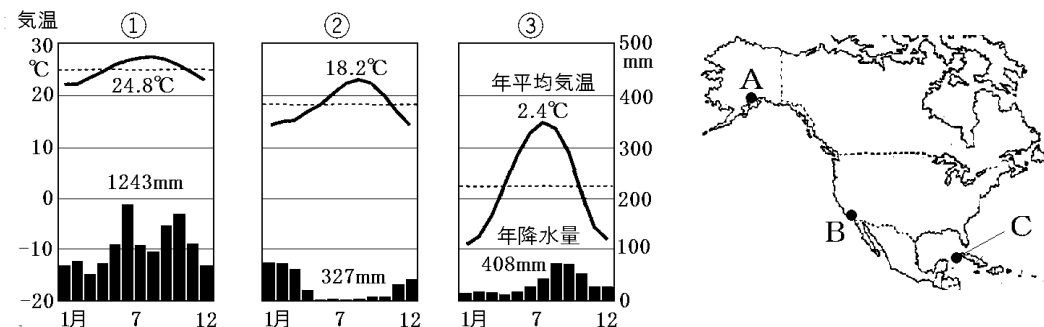
【解答欄】

A	B	C
D	E	F
G	H	I

【解答】A グレートプレーンズ B プレーリー C 中央平原 D ロッキー山脈 E アパラチア山脈 F 五大湖 G ミシシッピ川 H メキシコ湾 I フロリダ半島

[問題]

次の各問いに答えよ。



- (1) 上の①～③の雨温図は地図中のA～Cのどの地域のものか。それぞれ1つずつ選べ。
 (2) おもにカリブ海で発生し、メキシコ湾岸から大西洋沿岸をおそう熱帯低気圧を何と
 いうか。

[解答欄]

(1)①	②	③	(2)
------	---	---	-----

[解答](1)① C ② B ③ A (2) ハリケーン

[農業]

[問題]

次の各問いに答えよ。

- (1) アメリカでは、少ない労働力で、広い農地を大型の農業機械を使って、市場に出荷
 するために行う大規模な農業が行われている。このような農業を何と
 いうか。
 (2) 遺伝子レベルで品種を改良する科学技術のことを何と
 いうか。カタカナで書け。
 (3) アメリカでは、気温、降水量、土地などの各地域の自然環境に適した農作物が生
 産されている。このことを何と
 いうか。漢字4文字で答えよ。
 (4) アメリカは世界有数の農産物の生産国で、生産された作物は多くの国々へ輸出され
 ている。そのため、世界の何と呼ばれているか。

[解答欄]

(1)	(2)	(3)
(4)		

[解答](1) 企業きぎょう的な農業 (2) バイオテクノロジー (3) 適地てきちてきさく適作 (4) 世界の食料庫しょくりょうこ

[問題]

次の各問いに答えよ。

(1) 右図Aはある農産物の世界的な産地になっている。何という農産物か。

(2) 右図Bではどのような農産物が生産されているか。1つ答えよ。

(3) 右図Cではどのような農産物が生産されているか。2つ答えよ。

(4) 右の資料のように、牛などを狭い土地に囲い込み、高カロリーのエサや水を与えて飼育する方法(農業)を何と呼んでいるか。カタカナで答えよ。


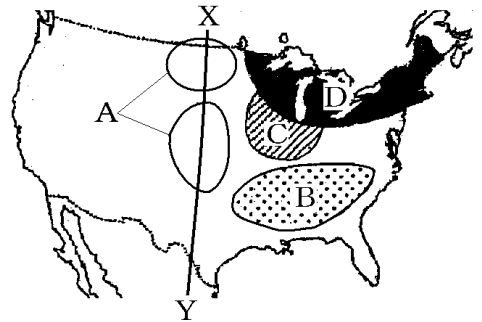
(5) Dではどのような農業が行われているか。漢字2字で答えよ。

(6) アメリカ合衆国では西へ行くほど降水量が少なくなる。図のXYの西経(①)度の経線は年間降水量②(500mm/1000mm/1500mm)の線とほぼ重なる。

(7) 乾燥した地帯では、くみ上げた地下水を右図のような方式で散水する()方式の大規模なかんがい農業が行われている。

(8) XYより西の乾燥した地域ではどのような農業が行われているか。漢字2字で書け。

(9) アメリカ西海岸のカリフォルニア州などで行われている農業を何式農業というか。



[解答欄]

(1)	(2)	(3)	
(4)	(5)	(6)①	②
(7)	(8)	(9)	

[解答](1) 小麦 (2) 綿花 (3) とうもろこし, 大豆 (4) フィードロット (5) 酪農 (6) ① 100 ② 500 (7) センターピボット (8) 放牧 (9) 地中海式農業

[鉱工業]

[問題]

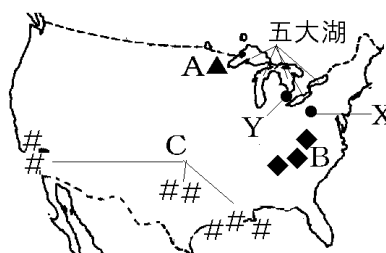
次の各問いに答えよ。

(1) 右図のA, B, Cは何という地下資源の産地を表しているか。

(2) A, Bの地下資源と五大湖の水運を利用して、図のXの都市では鉄鋼業が発達した。Xの都市名を答えよ。

(3) YではXで生産された鉄などを使った工業が発達した。①何という工業か。②また、Yの都市名を答えよ。

(4) アメリカでは、けつ岩層から石油を取り出す技術が実用化され、石油産出量が増加している。このような石油を何オイルというか。



[解答欄]

(1)A	B	C	(2)
(3)①	②	(4)	

[解答](1)A 鉄鉱石 B 石炭 C 石油 (2) ピッツバーグ (3)① 自動車工業 ② デトロイト (4) シェールオイル

[問題]

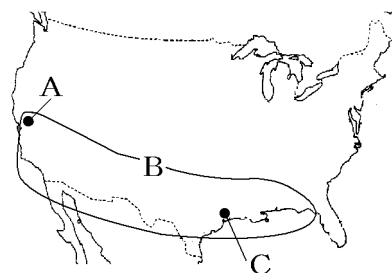
右の略地図を見て、次の各問いに答えよ。

(1) A 付近(サンフランシスコ郊外)にある情報技術産業の会社が多く集まっている地域を何というか。

(2) B は北緯 37 度以南にある新しく工業が発達した地域である。何というか。

(3) C はスペースシャトルに代表される産業をふくめた新しい工業分野がさかんな地域である。この産業を何というか。

(4) アメリカには世界に事務所や工場をもつ、さまざまな分野の大企業が集まっている。このような企業を何というか。



[解答欄]

(1)	(2)	(3)
(4)		

【解答】(1) シリコンバレー (2) サンベルト (3) 航空宇宙産業 (4) 多国籍企業^{たこくせき}

【文化】

【問題】

次の文章中の①～④に適語を入れよ。

アメリカで大量生産が始まった(①)は、アメリカでの生活の足として欠かせない。都市の郊外には、広い駐車場をもつ(②)センターがある。週末になると、高速道路を利用しておおぜいの買い物客が(①)でやってきて、食料品や日用品を大量にまとめ買いをする。そのほかにも、アメリカで生まれて世界中に広がり、人々に親しまれている文化がある。ハンバーガーなどの(③)フードや、コーラなどの清涼飲料水もその一つである。音楽の分野では、さまざまなジャンルで一流のミュージシャンを輩出している。(④)はアメリカの南部で発祥した音楽である。

【解答欄】

①	②	③	④
---	---	---	---

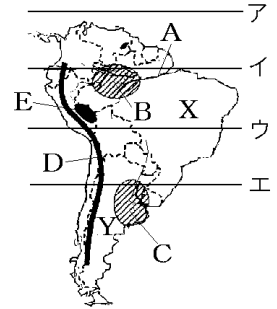
【解答】① 自動車 ② ショッピング ③ ファスト ④ ジャズ

【】 南アメリカ州

[要点]

赤道の位置：図のイ

ブラジル(X国)：流域面積が世界一のアマゾン川(図のA)が流れ、その流域にはセルバ(図のB)という熱帯雨林が広がる
アルゼンチン(Y国)：ラプラタ川流域のCにはパンパという温帯草原が広がっており、小麦の栽培や、牛などの牧畜がさかん
図のDはアンデス山脈



南アメリカの先住民はインディオ、

図のE一帯には、かつて、インカ帝国(マチュピチュという「空中都市」の遺跡で有名である)が栄えていたが、16世紀にスペイン人によって滅ぼされた

南アメリカで、スペイン語とポルトガル語(ブラジル)が公用語として使われ、キリスト教が信仰されているのは、植民地時代のなごり


アフリカ大陸から黒人が奴隷として連れてこられた

南アメリカでは、先住民と白人の間で混血が進んが、この混血者をメスチゾという

かつて、ブラジルの最大の輸出品はコーヒー→現在では大豆の輸出が多くなっている
さとうきびから輸出品である砂糖の他にバイオエタノールという燃料も作っている
南アメリカは鉄鉱石、銅、石油のほか希少金属(レアメタル)などの鉱産資源も豊か

アマゾン川流域：移動には船が使われる。漁業は重要な産業で魚は貴重なタンパク源
アマゾン川流域の伝統的な農業は、森林を焼き払ってその灰を肥料とする焼畑農業で、
いも、とうもろこし、バナナなどを栽培している。

アマゾン川の流域には、世界のおよそ3分の1におよぶ熱帯雨林が広がっているが、流域の開発によりこの熱帯雨林が減少している。右の航空写真で白くなっている部分は、森林を切り開いてつくられた道路や農地である。これによって地球温暖化が進むのではないかと心配されている。



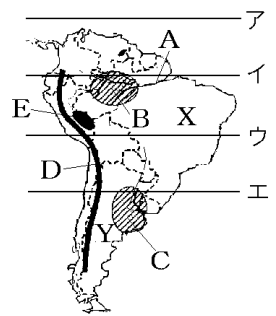
[要点確認]

赤道の位置：図のイ

() (X国)：流域面積が世界一の()川(図のA)が流れ、その流域には() (図のB)という熱帯雨林が広がる

() (Y国)：()川流域のCには()という温帯草原が広がっており、()の栽培や、牛などの()がさかん

図のDは()山脈



南アメリカの先住民は()

図のE一帯には、かつて、()帝国(()という「空中都市」の遺跡で有名である)が栄えていたが、16世紀に()人によって滅ぼされた

南アメリカで、()語と()語(ブラジル)が公用語として使われ、()教が信仰されているのは、植民地時代のなごり

アフリカ大陸から黒人が()として連れてこられた

南アメリカでは、先住民と白人の間で混血が進んが、この混血者を()という

かつて、ブラジルの最大の輸出品は()→現在では大豆の輸出が多くなっている

さとうきびから輸出品である砂糖の他に()という燃料も作っている

南アメリカは鉄鉱石、銅、石油のほか()などの鉱産資源も豊か

アマゾン川流域：移動には()が使われる。()業は重要な産業で魚は貴重なタンパク源


アマゾン川流域の伝統的な農業は、森林を焼き払ってその灰を肥料とする()農業で、()、とうもろこし、バナナなどを栽培している。

アマゾン川の流域には、世界のおよそ3分の1におよぶ()

林が広がっているが、流域の開発によりこの()林が減少し

ている。右の航空写真で白くなっている部分は、森林を切り開いてつくられた道路や()である。これによって地球()

化が進むのではないかと心配されている。



[国名]

[問題]

次の略地図の A～D の国名を答えよ。



[解答欄]

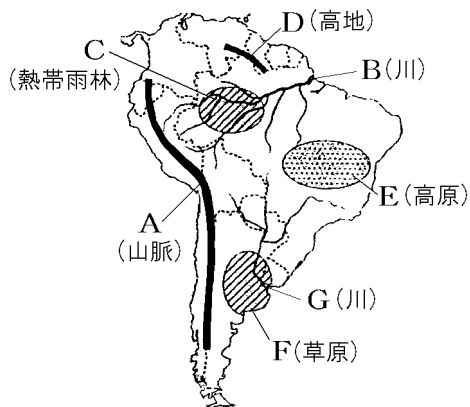
A	B	C	D
---	---	---	---

[解答]A ブラジル B アルゼンチン C チリ D ペルー

[地形・気候]

[問題]

次の略地図中の A～G の地形名を答えよ。



[解答欄]

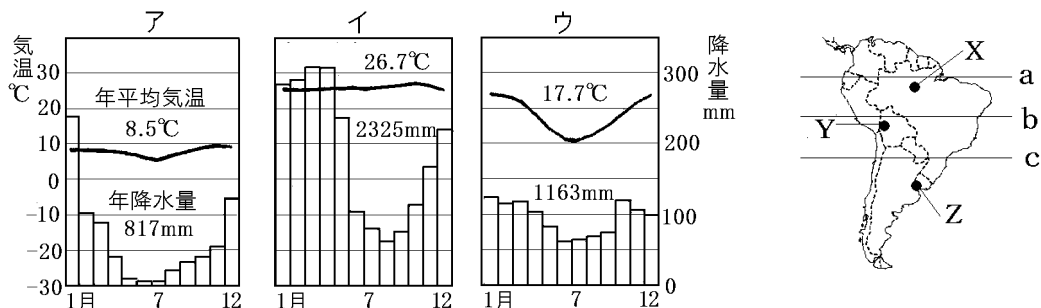
A	B	C
D	E	F
G		

[解答]A アンデス山脈 B アマゾン川 C セルバ D ギアナ高地 E ブラジル高原
F パンパ G ラプラタ川

[問題]

次の各問いに答えよ。

- (1) 略地図の a～c のうち、赤道を表しているのはどれか。
- (2) 略地図 X の都市について、①雨温図はア～ウのどれか。②何という気候帯か。
- (3) 略地図 Y の都市の雨温図はア～ウのどれか。
- (4) 略地図 Z の都市について、①雨温図はア～ウのどれか。②何という気候帯か。



[解答欄]

(1)	(2)①	②	(3)
(4)①	②		

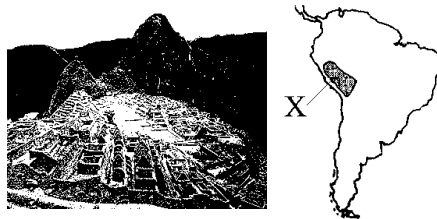
[解答](1) a (2)① イ ② 熱帯 (3) ア (4)① ウ ② 温帯

[歴史・文化]

[問題]

次の各問いに答えよ。

- (1) 南アメリカの先住民は何と呼ばれるか。
- (2) 右の地図中の X では、(1)の先住民が作った帝国が栄えていた。
 - ① この帝国の名前を答えよ。
 - ② この帝国が残した「空中都市」と呼ばれる右の写真の世界遺産を何というか。
- (3) 16世紀に南アメリカにやってきて、先住民を支配したヨーロッパの国はポルトガルともう1つはどこか。
- (4) 南アメリカ州で唯一ポルトガル語が使われている国はどこか。国名を答えよ。
- (5) (4)の国を除く南アメリカの多くの国々において公用語となっている言語は何語か。



- (6) 南アメリカで信仰する人が多い宗教名を答えよ。
- (7) アフリカ大陸からは大農園の労働者として、黒人が()として連れてこられた。
- (8) 南アメリカでは、先住民と白人の間で混血が進んだ。この混血者を何というか。
- (9) 20世紀はじめからブラジルなどに移住した日本人の子孫を何というか。

【解答欄】

(1)	(2)①	②	(3)
(4)	(5)	(6)	(7)
(8)	(9)		

【解答】(1) インディオ (2)① インカ帝国 ② マチュピチュ (3) スペイン (4) ブラジル (5) スペイン語 (6) キリスト教 (7) 奴隷 (8) メスチソ (9) 日系人

【産業の発達】

【問題】

次の各問いに答えよ。

- (1) 次の帯グラフは、何という農産物の国別生産割合を示しているか。

2013年 892万t	ブラジル 33.2%	ベトナム 16.4	7.8	7.3	その他 35.3
		インドネシア	コロンビア		

- (2) ブラジルでは、さとうきびから輸出品である砂糖の他に燃料も作っている。この燃料を何というか。
- (3) ブラジルでは、日本の技術協力で国内でとれる鉱産資源を原料とする(①)業が発達し、自動車や(②)(世界第4位)などの工業製品の生産ものびている。
[綿織物 船舶 航空機 鉄鋼]
- (4) 南アメリカでは、マンガンやアンチモンなど電子機器に使われる金属が豊富である。これらをカタカナで何というか。

【解答欄】

(1)	(2)	(3)①
②	(4)	

【解答】(1) コーヒー (2) バイオエタノール(バイオ燃料) (3)① 鉄鋼 ② 航空機 (4) レアメタル

[自然環境と共生する人々]

[問題]

次の各問いに答えよ。

- (1) アマゾン川は川幅も広く水量が豊富なので、大きな汽船が河口から 1600km もさかのぼることができる。そこに発達した流域開発の中心になっている都市名を答えよ。
- (2) アマゾン川の流域に住む人々が移動のときに使う主な交通手段は何か。
- (3) アマゾン川の流域で、重要な産業となっているものは何か(重要なたんぱく源になっている)。
- (4) 熱帯の森林を焼いて、その灰を肥料にして行う農業を何というか。
- (5) アマゾン川の流域の(4)の農業で栽培がさかんなものを、次の[]から 1 組選べ。
[米・小麦 いも・とうもろこし りんご・あずき]
- (6) アルゼンチンのラプラタ川下流域に広がっている草原地帯を何というか。
- (7) (6)では、牛などの家畜を飼育する(①)がさかんで、牧場の所有者は経済的に豊かな人々で、大都市に住み、労働者が家族で牧場に住み込み家畜の世話をする。また、(②)の栽培もさかんである。

[解答欄]

(1)	(2)	(3)	(4)
(5)	(6)	(7)①	②

[解答](1) マナオス (2) 船 (3) 漁業 (4) 焼畑農業 (5) いも・とうもろこし (6) パンパ (7)① 牧畜 ② 小麦


[開発の進行とその影響]

[問題]

次の各問いに答えよ。

- (1) 次の文章中の①～④にあてはまる語句をそれぞれ答えよ。

右の地図中 X の(①)川の流域には、世界のおよそ 3 分の 1 におよぶ(②)林が広がっている。近年、流域の開発によりこの(②)林が減少している。右は、(①)川流域の航空写真であるが、白くなっている部分は、森林を切り開いてつくられた(③)や農地である。(②)林の減少によって地球(④)が進むのではないかと心配されている。



(2) 南アメリカ州やアフリカ州などの大都市で貧しい人々がくらしている，生活環境が悪い地域を何というか，カタカナ 3 文字で答えよ。

【解答欄】

(1)①	②	③	④
(2)			

【解答】(1)① アマゾン ② 熱帯雨(熱帯) ③ 道路 ④ 温暖 (2) スラム

【】 オセアニア州

[要点]

図1のAの国はオーストラリア、イはニュージーランド

オセアニアの島々：Xのミクロネシア、Yのポリネシア、Zのメラネシアに区分される

図1のAはであるグレートバリアリーフ(世界最大のさんご礁)、Bはグレートディバイディング山脈大陸の中央にある世界最大の一枚岩はウルル(エアーズロック)

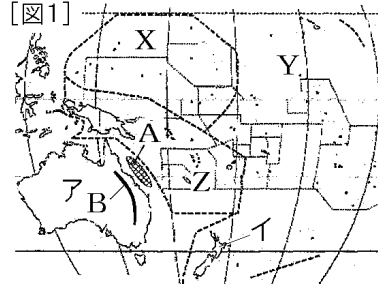
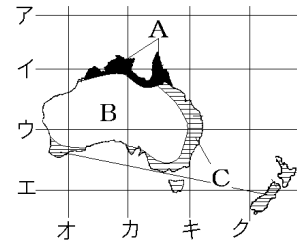


図2で赤道はア、Aの気候は熱帯で、Bは乾燥帯、Cは温帯国土の大半が砂漠などの乾燥帯→乾燥大陸と呼ばれる東経135度の経線はカである。

[図2]

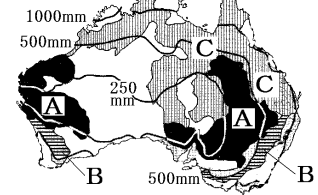


オーストラリアの先住民はアボリジニ、ニュージーランドの先住民はマオリ→イギリスの植民地になる

オーストラリアでは、ヨーロッパ系以外の移民を制限する白豪主義という政策がとられたが、アジアとの結びつきが強まった1970年代以降、非ヨーロッパ系の移民も積極的に受け入れるようになり、現在は多様な民族が共存する多文化社会になっている

図3のAの地域では羊が飼育され、Bでは羊の飼育と小麦などの栽培が行われている。Cの地域では牛の放牧が行われている。

[図3]



オーストラリアの鉱山では、表土を取り除き、地上で掘り取る露天掘りという採掘方法がとられている

図4のAでは鉄鉱石、Bでは石炭、Cではボーキサイトが採掘されている

[図4]



オーストラリアの輸出品は、1960年ごろは羊毛が約4割をしめていたが、現在では、鉄鉱石や石炭などの鉱産資源が中心

1960年代の中ごろまで、オーストラリアの最大の輸出相手国は、かつてこの国を植民地としていたイギリスであった。近年は日本が最大の輸出相手国であったが、現在では、中国が最大の輸出相手国となっている。

[要点確認]

図1のAの国は(), イは()
 オセアニアの島々：Xの(), Yの(), Zの()
 に区分される

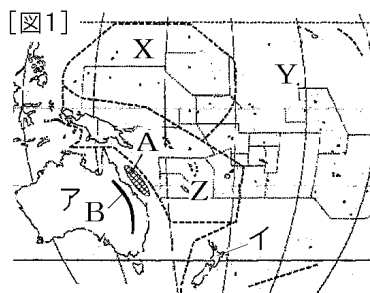
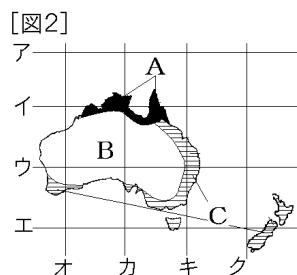


図1のAはである() (世界最大のさんご礁^{しょうご}),
 Bは()山脈
 大陸の中央にある世界最大の一枚岩は()

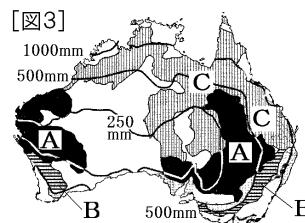
図2で赤道は(), Aの気候は()帯で, Bは()帯,
 Cは()帯
 国土の大半が砂漠などの乾燥帯→()大陸と呼ばれる
 東経135度の経線は()である。



オーストラリアの先住民は(), ニュージーランドの先住民は()→()の植民地になる

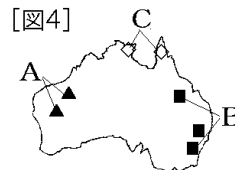
オーストラリアでは, ヨーロッパ系以外の移民を制限する()主義という政策がとられたが, ()との結びつきが強まった1970年代以降, 非ヨーロッパ系の移民も積極的に受け入れるようになり, 現在は多様な民族が共存する()社会になっている

図3のAの地域では()が飼育され, Bでは()の飼育と()などの栽培が行われている。Cの地域では()の放牧が行われている。



オーストラリアの鉱山では, 表土を取り除き, 地上で掘り取る()という採掘^{さいくつ}方法がとられている

図4のAでは(), Bでは(), Cでは()が採掘されている



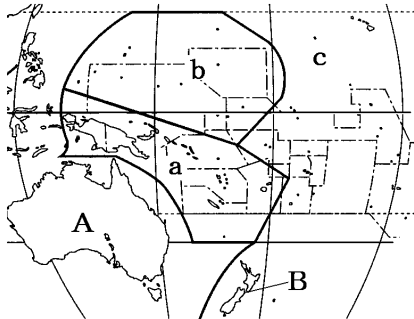
オーストラリアの輸出品は, 1960年ごろは()が約4割をしめていたが, 現在では, ()や()などの鉱産資源が中心

1960年代の中ごろまで, オーストラリアの最大の輸出相手国は, かつてこの国を植民地としていた()であった。近年は日本が最大の輸出相手国であったが, 現在では, ()が最大の輸出相手国となっている

[地域名・国名]

[問題]

次の各問いに答えよ。



- (1) 地図中のA, Bの国名を答えよ。
- (2) オセアニアの島々は地図中のa, b, cに区分される。それぞれの地域名を答えよ。
- (3) オセアニアの島々は、火山の噴火でできた火山島と、何で造られた島からなっているか。

[解答欄]

(1)A	B	(2)a
b	c	(3)

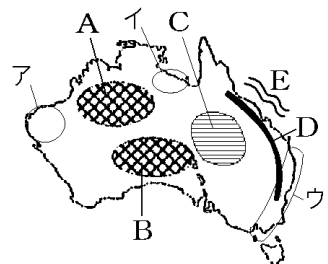
[解答](1)A オーストラリア B ニュージーランド (2) a メラネシア b ミクロネシア
c ポリネシア (3) さんご礁しょう

[地形・気候]

[問題]

次の各問いに答えよ。

- (1) A～Dの地形名を答えよ。
- (2) Eは世界最大のさんご礁しょうである。何と呼ばれるか。
- (3) オーストラリアのほぼ中央にある世界最大の一枚岩を何と呼ぶか。
- (4) オーストラリア大陸は、年降水量500mm以下の草原や砂漠さばくが国土の約3分の2をしめていることから、何大陸と呼ばれるか。
- (5) 人口が集中しているのは、ア～ウのうちどこか。



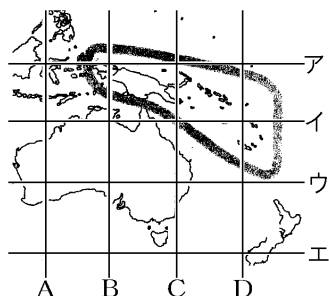
[解答欄]

(1)A	B	
C	D	
(2)	(3)	(4)
(5)		

[解答](1)A グレートサンディー^{さばく}砂漠 B グレートビクトリア^{だいきんせい}砂漠 C 大鑛井盆地 D
グレートディバイディング山脈 (2) グレートバリアリーフ (3) ウルル(エアーズロック) (4) 乾燥大陸 (5) ウ

[問題]

次の各問いに答えよ。



- (1) 日本の標準時子午線の東経 135 度の経線を地図中の A~D から選べ。
- (2) 赤道を示している緯線を地図中のア~エから選べ。

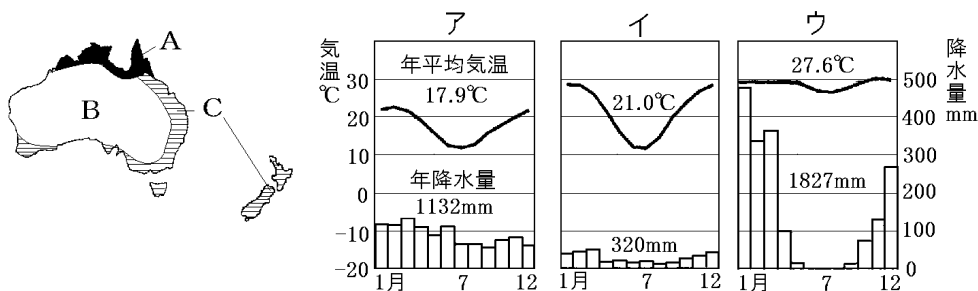
[解答欄]

(1)	(2)
-----	-----

[解答](1) B (2) ア

[問題]

次の文の①~⑦の()内より適語を選べ。



オーストラリアは①(南半球／北半球)にあるので、北に行くほど赤道に近づくことになり、気温が高くなる。したがって、赤道に近い上の図のAの気候は②(熱帯／乾燥帯／^{おんたい}温帯)で、雨温図は③(ア／イ／ウ)のようになる。国土の大部分をしめるBは④(熱帯／乾燥帯／温帯)で、雨温図は⑤(ア／イ／ウ)のようになる。東部と南西部のCは⑥(熱帯／乾燥帯／温帯)で、雨温図は⑦(ア／イ／ウ)のようになる。

【解答欄】

①	②	③	④
⑤	⑥	⑦	

【解答】① 南半球 ② 熱帯 ③ ウ ④ 乾燥帯 ⑤ イ ⑥ 温帯 ⑦ ア

【歴史など】

【問題】

次の各問いに答えよ。

- (1) オーストラリアの先住民を何というか。
- (2) ニュージーランドの先住民を何というか。
- (3) オーストラリアやニュージーランドは、かつてどこの国の植民地だったか。
- (4) オーストラリアで 1970 年代までとられていた、ヨーロッパ系以外の移民を制限する政策を何主義というか。
- (5) 1970 年代以降、オーストラリアではある地域との結びつきが強まり、ヨーロッパ系以外の移民を積極的に受け入れるようになった。その地域とはどこか。
- (6) 現在のオーストラリアがめざしている、多くの民族が共存し、互いの文化を尊重しあう社会を何というか。漢字 5 字で書け。
- (7) かつては海辺の町にすぎなかったが、日本企業などの開発により世界的なリゾート地となったオーストラリア東部の都市はどこか。

【解答欄】

(1)	(2)	(3)	(4)
(5)	(6)	(7)	

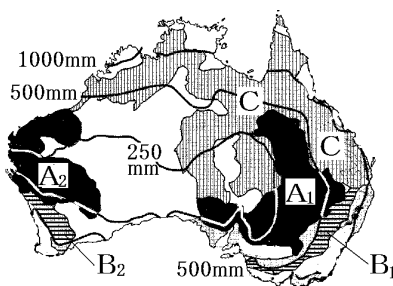
【解答】(1) アボリジニ (2) マオリ (3) イギリス (4) 白豪主義^{はくごう} (5) アジア (6) 多文化社会 (7) ゴールドコースト

[農牧業]

[問題]

右図を見て、次の各問いに答えよ。

- (1) 大鑽井盆地(A₁)やA₂の地域などで多く飼育しいくされている家畜かちくは何か。
- (2) 降水量がやや多い北東部から北部にかけての地域(C)で多く飼育されている家畜は何か。
- (3) 南東部(B₁)や南西部(B₂)では、(①)などの作物栽培と(②)の飼育を組み合わせた農業が行われている。
- (4) オーストラリアで農業に適していない地域はどのような地形の地域か。



[解答欄]

(1)	(2)	(3)①	②
(4)			

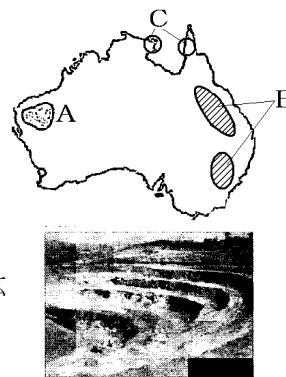
[解答](1) 羊 (2) 牛 (3)① 小麦 ② 羊 (4) 砂漠などの乾燥地帯

[鉱業]

[問題]

次の各問いに答えよ。

- (1) Aの地域で産出される鉱産資源は何か。
- (2) グレートディバイディング山脈の東側(地図のB)で多く産出される鉱産資源は何か。
- (3) Cの地域で産出されるアルミニウムの原料となる鉱産資源は何か。
- (4) 鉱産資源の豊かなオーストラリアでみられる、右のような鉱山の掘り方を何というか



[解答欄]

(1)	(2)	(3)	(4)
-----	-----	-----	-----

[解答](1) 鉄鉱石 (2) 石炭 (3) ボーキサイト (4) 露天掘りろてんぼ

[貿易の変化]

[問題]

次の各問いに答えよ。

- (1) 1960年ごろのオーストラリアの輸出品の約4割をしめていた貿易品は何か。
- (2) 次のグラフは、オーストラリアの輸出品目を示している。X、Yにあてはまる鉱産資源名を答えよ。ただし、Xは主としてオーストラリアの西部、Yは東部で産出される。

オーストラリアの輸出品目(2013年) 2522億ドル

X 26.7%	Y 15.3	金 5.6	5.3	その他 47.1
------------	-----------	----------	-----	----------

液化天然ガス

- (3) 1960年代の中ごろまで、オーストラリアの最大の輸出相手国は、かつてこの国を植民地としていた(①)であった。近年は日本が最大の輸出相手国であったが、現在では、(②)が最大の輸出相手国となっている。

[解答欄]

(1)	(2)X	Y	(3)①
②			

[解答](1) 羊毛 (2)X 鉄鉱石 Y 石炭 (3)① イギリス ② 中国

[印刷／他のPDFファイルについて]

※ このファイルは、FdText 社会(9,600 円)の一部を PDF 形式に変換したサンプルで、印刷はできないようになっています。製品版の FdText 社会は Word の文書ファイルで、印刷・編集を自由に行うことができます。

※ FdText(英語・数学・社会・理科・国語)全分野のPDFファイル，および製品版の購入方法は<http://www.fdtype.com/txt/> に掲載しております。

※ 弊社は、FdText のほかに FdData 中間期末過去問(数学・理科・社会)(各 18,900 円)を販売しております。PDF 形式のサンプル(全内容)は、

<http://www.fdtype.com/dat/> に掲載しております。

※ [FdData 無料閲覧ソフト(RunFdData)]を、Windows のデスクトップ上にインストールすれば、FdData 中間期末の全 PDF ファイルを自由に閲覧できます。次のリンクを左クリックするとインストールが開始されます。

【 <http://fddata.deci.jp/lnk/instRunFdDataWDs.exe> 】

※ダイアログが表示されたら、【実行】ボタンを左クリックしてください。インストール中、いくつかの警告が出ますが、[実行][許可する][次へ]等を選択します。

【Fd教材開発】 (092) 404-2266

<http://www.fdtype.com/dat/>