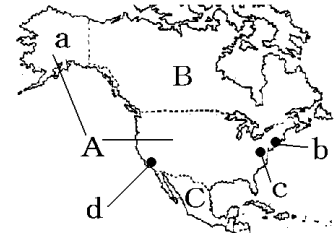


[[北アメリカ州](#) / [南アメリカ州](#) / [オセアニア州](#) / [FdText 製品版のご案内](#) / <http://www.fdtype.com/txt/>]

【】北アメリカ州

[要点：国名・都市名など]

右図のA国はアメリカ合衆国^{がしゅうこく}である。A国のaはアラスカ州である。A国の首都はワシントンD.C.(図のc)である。A国で最も人口が多く自由の女神像がある都市はニューヨーク(図のb)である。ニューヨークからボストンにかけては、巨大都市がつらなっているが、この地域をメガロポリスという。



A国で2番目に人口が多く、航空機産業や映画産業がさかんな都市はロサンゼルス(図のd)である。B国は世界で2番目に国土面積が広いカナダ^{こくどめんせき}で、首都はオタワである。カナダの公用語は英語とフランス語である。A国とB国の地域をアングロアメリカという。

Cのメキシコ^{しよこ}や、キューバなどの西インド諸島^{しよとう}(カリブ海)の国々は、かつてスペインの植民地^{しよくみんち}であったため、現在でもスペイン語が主要な言語になっている。南米とともにラテンアメリカの一部である。A, B, Cの3国で結ばれた貿易協定はNAFTA^{ほくべいじゆうほうえききょうてい}(北米自由貿易協定)である。

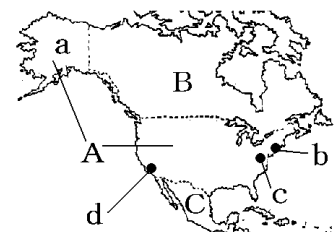
※出題頻度「アメリカ合衆国○」「ワシントンD.C.○」「ニューヨーク○」「カナダ◎」

「カナダの公用語は英語とフランス語」「メキシコ◎」「スペイン語○」「NAFTA○」

[問題]

次の文章中の①～⑭に適語を入れよ。

右図のA国は(①)である。A国のaは(②)州である。A国の首都は(③)(図のc)である。A国で最も人口が多く自由の女神像がある都市は(④)(図のb)である。(④)からボストンにかけては、巨大都市がつらなっているが、この地域を(⑤)という。A国で2番目に人口が多く、航空機産業や映画産業がさかんな都市は(⑥)(図のd)である。



B国は世界で2番目に国土面積が広い(⑦)で、首都は(⑧)である。(⑦)の公用語は英語と(⑨)語である。A国とB国の地域を(⑩)アメリカという。

Cの(⑪)や、キューバなどの西インド諸島(カリブ海)の国々は、かつて(⑫)の植民地であったため、現在でも(⑫)語が主要な言語になっている。南米とともに(⑬)アメリカの一部である。A, B, Cの3国で結ばれた貿易協定は(⑭)(北米自由貿易協定)である。

[解答欄]

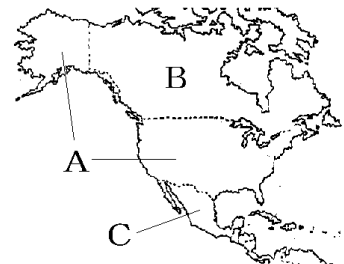
①	②	③	
④	⑤	⑥	⑦
⑧	⑨	⑩	⑪
⑫	⑬	⑭	

[解答]① アメリカ合衆国 ② アラスカ ③ ワシントンD.C. ④ ニューヨーク
 ⑤ メガロポリス ⑥ ロサンゼルス ⑦ カナダ ⑧ オタワ ⑨ フランス ⑩ アングロ
 ⑪ メキシコ ⑫ スペイン ⑬ ラテン ⑭ NAFTA

[問題]

次の各問いに答えよ。

- (1) A国の①国名と②首都名を答えよ。
- (2) A国で最も人口が多く自由の女神像がある都市はどこか。
- (3) (2)からボストンにかけては、巨大都市がっらなっている。この地域のことをカタカナで何というか。
- (4) B国の①国名と②首都名を答えよ。
- (5) B国の公用語は2つあるが、何語と何語か。
- (6) C国の国名を答えよ。
- (7) C国では何語が使われているか。1つ答えよ。
- (8) A, B, Cの3国で結ばれた自由貿易協定を、アルファベットの略称で答えよ。



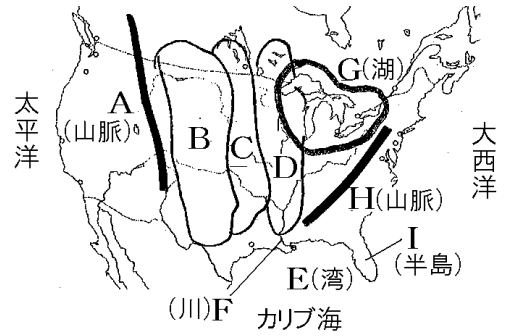
[解答欄]

(1)①	②	(2)
(3)	(4)①	②
(5)	(6)	(7)
(8)		

[解答](1)① アメリカ合衆国 ② ワシントンD.C. (2) ニューヨーク (3) メガロポリス
 (4)① カナダ ② オタワ (5) 英語とフランス語 (6) メキシコ (7) スペイン語
 (8) NAFTA

[要点：地形]

ロッキー山脈(地図のA)は、環太平洋造山帯に属し、4000メートル級の山が連なるけわしい山脈である。ロッキー山脈の東にはグレートプレーンズ(B)という乾燥した大平原が広がり、その東にはやや雨の多いプレーリー(C)という大草原が、さらに東には中央平原(D)が広がっている。中央平原を流れメキシコ湾(E)に注いでいるミシシッピ川(F)と五大湖(G)は重要な内陸水路になっている。アパラチア山脈(H)は低くならかな山脈である。



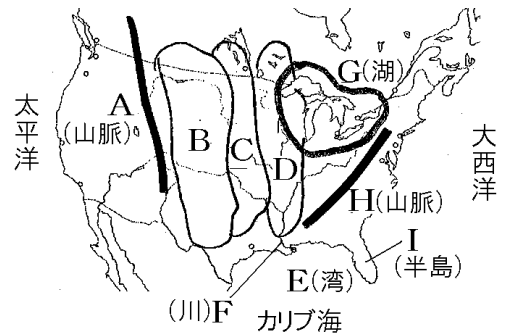
フロリダ半島(I)は、亜熱帯や熱帯の気候である。

※出題頻度「ロッキー山脈◎」「グレートプレーンズ◎」「プレーリー○」「中央平原○」「五大湖◎」「ミシシッピ川◎」「メキシコ湾○」「アパラチア山脈◎」「フロリダ半島○」

[問題]

次の文章中の①～⑨に適語を入れよ。

(①)山脈(地図の A)は、環太平洋造山帯に属し、4000メートル級の山が連なるけわしい山脈である。(①)山脈の東には(②)(B)という乾燥した大平原が広がり、その東にはやや雨の多い(③)(C)という大草原が、さらに東には(④)(D)が広がっている。(④)を流れ(⑤)湾(E)に注いでいる(⑥)川(F)と(⑦)湖(G)は重要な内陸水路になっている。(⑧)山脈(H)は低くならかな山脈である。(⑨)半島(I)は、亜熱帯や熱帯の気候である。



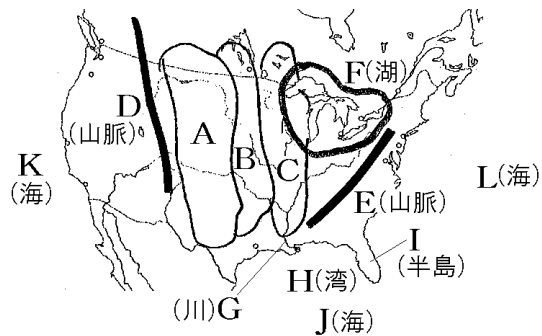
[解答欄]

①	②	③	
④	⑤	⑥	⑦
⑧	⑨		

[解答]① ロッキー ② グレートプレーンズ ③ プレーリー ④ 中央平原 ⑤ メキシコ ⑥ ミシシッピ ⑦ 五大 ⑧ アパラチア ⑨ フロリダ

[問題](3 学期)

次の地図中の A~I の地形名を答えよ。



[解答欄]

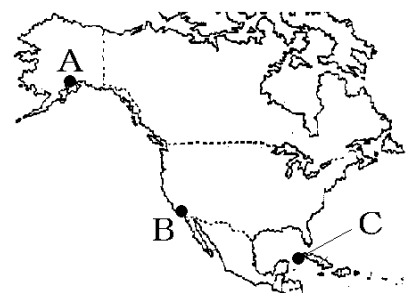
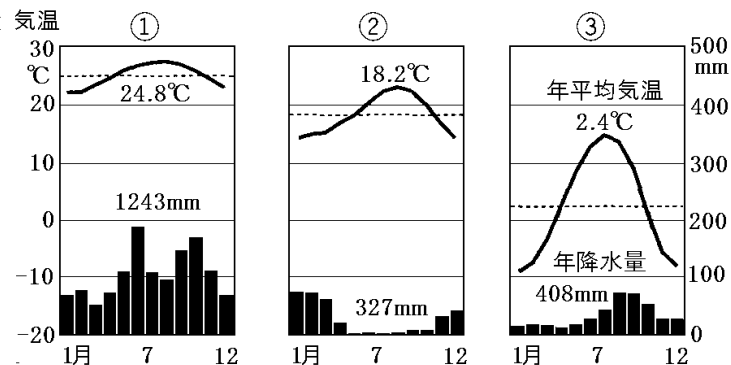
A	B	C
D	E	F
G	H	I
J	K	L

[解答]A グレートプレーンズ B プレーリー C 中央平原 D ロッキー山脈
 E アパラチア山脈 F 五大湖 G ミシシッピ川 H メキシコ湾 I フロリダ半島
 J カリブ海 K 太平洋 L 大西洋

[気候]

[問題]

次の各問いに答えよ。



- 上の①~③の雨温図は地図中の A~C のどの地域のものか。それぞれ 1 つずつ選べ。
- おもにカリブ海で発生しメキシコ湾岸から大西洋沿岸をおそう熱帯低気圧を何というか。

[解答欄]

(1)①	②	③	(2)
------	---	---	-----

[解答](1)① C ② B ③ A (2) ハリケーン

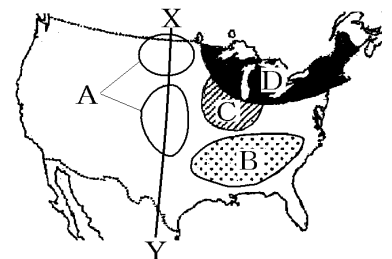
※出題頻度 「～の雨温図は地図中のどの地域のものか○」「ハリケーン○」

[要点：農業]

アメリカでは、市場への出荷を目的として、広大な農地を少ない労働力で大型機械を使って行う企業的な農業が主流である。また、遺伝子レベルで品種を改良するバイオテクノロジーの技術も導入されている。アメリカ合衆国は世界有数の農産物の生産国で生産された作物は多くの国々へ輸出されている。そのため、「世界の食料庫」と呼ばれている。

アメリカの農業では、気温、降水量、土地などの各地域の自然環境に適した農作物を生産する適地適作が行われている。

右図のAでは小麦、Bでは綿花、Cではとうもろこしと大豆が栽培されている。Dは酪農地帯である。Cでは出荷前の牛にとうもろこしを中心とした飼料をあたえて効率よく太らせるためのフィードロットという牧場がある。



XYは西経 100 度の線で年間降水量 500mm の線と重なる。右図のように散水するセンターピボット方式のかんがいが行われている。



XYより西の乾燥した地域では牛の放牧が行われている。アメリカ西海岸のカリフォルニア州などでは地中海式農業が行われている。

※出題頻度 「適地適作◎」「広大な農地を少ない労働力で大型機械を使って行う農業◎」

「企業的な農業◎」「バイオテクノロジー○」「小麦地帯◎」「とうもろこし・大豆地帯◎」

「フィードロット○」「綿花地帯◎」「放牧地帯○」「酪農地帯○」「センターピボット○」

「西経 100 度○」「地中海式農業△」

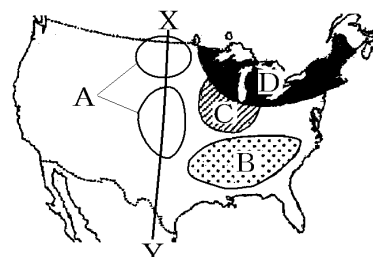
[問題]

次の文章中の①～⑭に適語を入れよ。

アメリカでは、市場への出荷を目的として、広大な農地を少ない労働力で大型機械を使って行う(①)な農業が主流である。また、遺伝子レベルで品種を改良する(②)テクノロジーの技術も導入されている。アメリカ合衆国は世界有数の農産物の生産国で生産された作物は多くの国々へ輸出されている。そのため、「世界の(③)」と呼ばれている。

アメリカの農業では、気温、降水量、土地などの各地域の自然環境に適した農作物を生産する(④)が行われている。

右図のAでは(⑤), Bでは(⑥), Cでは(⑦)と大豆が栽培されている。Dは(⑧)地帯である。Cでは出荷前の牛に(⑦)を中心とした飼料をあたえて効率よく太らせるための(⑨)ロットという牧場がある。



XYは西経(⑩)度の線で年間降水量(⑪) mm の線と重なる。右図のように散水する(⑫)ピボット方式のかんがいが行われている。XYより西の乾燥した地域では牛の(⑬)が行われている。アメリカ西海岸のカリフォルニア州などでは(⑭)農業が行われている。



[解答欄]

①	②	③	④
⑤	⑥	⑦	⑧
⑨	⑩	⑪	⑫
⑬	⑭		

[解答]① 企業的 ② バイオ ③ 食料庫 ④ 適地適作 ⑤ 小麦 ⑥ 綿花
 ⑦ とうもろこし ⑧ 酪農 ⑨ フィード ⑩ 100 ⑪ 500 ⑫ センター ⑬ 放牧
 ⑭ 地中海式

[問題]

次の各問いに答えよ。

- アメリカでは、少ない労働力で、広い農地を大型の農業機械を使って、市場に出荷するために行う大規模な農業が行われている。このような農業を何というか。
- 遺伝子レベルで品種を改良する科学技術のことを何というか。カタカナで書け。
- アメリカでは、気温、降水量、土地などの各地域の自然環境に適した農作物が生産されている。このことを何というか。漢字4文字で答えよ。
- アメリカは世界有数の農産物の生産国で、生産された作物は多くの国々へ輸出されている。そのため、世界の何と呼ばれているか。

[解答欄]

(1)	(2)	(3)
(4)		

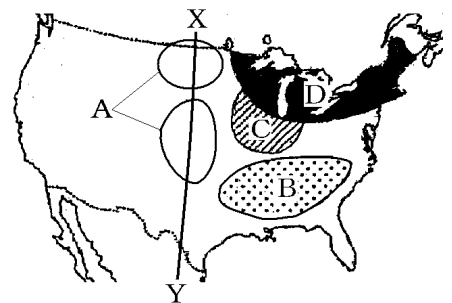

[解答](1) 企業的な農業 (2) バイオテクノロジー (3) 適地適作 (4) 世界の食料庫

[問題]

次の各問いに答えよ。

- (1) 右図Aはある農産物の世界的な産地になっている。何という農産物か。
 (2) 右図Bではどのような農産物が生産されているか。
 (3) 右図Cではどのような農産物が生産されているか。2つ答えよ。

- (4) 右の資料のように、牛などを狭い土地に囲い込み、高カロリーのエサや水を与えて飼育する方法(農業)を何と呼んでいるか。カタカナで答えよ。



- (5) Dではどのような農業が行われているか。漢字2字で答えよ。
 (6) アメリカ合衆国では西へ行くほど降水量が少なくなる。図のXYの西経(①)度の経線は年間降水量②(500mm/1000mm/1500mm)の線とほぼ重なる。
 (7) 乾燥した地帯では、くみ上げた地下水を右図のような方式で散水する()方式の大規模なかんがい農業が行われている。
 (8) XYより西の乾燥した地域ではどのような農業が行われているか。漢字2字で書け。
 (9) アメリカ西海岸のカリフォルニア州などで行われている農業を何式農業というか。



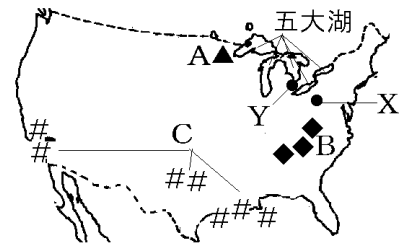
[解答欄]

(1)	(2)	(3)
(4)	(5)	(6)① ②
(7)	(8)	(9)

[解答](1) 小麦 (2) 綿花 (3) とうもろこし, 大豆 (4) フィードロット (5) 酪農
 (6)① 100 ② 500 (7) センターピボット (8) 放牧 (9) 地中海式農業

[要点：鉄鋼・五大湖周辺で発達した工業]

19世紀後半から20世紀にかけて、五大湖を利用して鉄鉱石(Aの資源)を船で運び、アパラチア山脈周辺でとれる石炭(Bの資源)を使って、ピッツバーグ(Xの都市)で鉄鋼の生産が始まった。さらに、デトロイト(Yの都市)で、この鉄鋼を材料とする自動車工業が発達した。



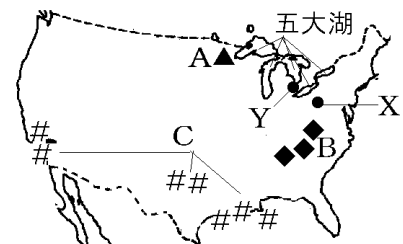
メキシコ湾岸などで産出されるCは石油である。近年、アメリカでは、けつ岩層から石油などを取り出す技術が実用化されて、シェールオイルやシェールガスの産出が増加している。

※出題頻度「鉄鉱石・石炭・石油の分布○」「鉄鉱石や石炭などの資源が豊富で、五大湖などの水運も利用できたから○」「デトロイトで自動車○」「ピッツバーグで鉄鋼業○」

[問題]

次の文章中の①～⑨に適語を入れよ。

19世紀後半から20世紀にかけて、五大湖を利用して(①)(Aの資源)を船で運び、(②)山脈周辺でとれる(③)(Bの資源)を使って、(④)(Xの都市)で(⑤)の生産が始まった。さらに、(⑥)(Yの都市)で、この(⑤)を材料とする(⑦)工業が発達した。



メキシコ湾岸などで産出されるCは(⑧)である。近年、アメリカでは、けつ岩層から(⑧)などを取り出す技術が実用化されて、(⑨)オイルや(⑨)ガスの産出が増加している。

[解答欄]

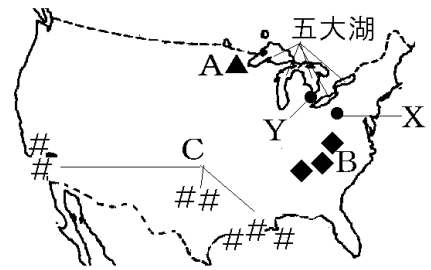
①	②	③	④
⑤	⑥	⑦	⑧
⑨			

[解答]① 鉄鉱石 ② アパラチア ③ 石炭 ④ ピッツバーグ ⑤ 鉄鋼 ⑥ デトロイト
⑦ 自動車 ⑧ 石油 ⑨ シェール

[問題]

次の各問いに答えよ。

- (1) 右図のA, B, Cは何という地下資源の産地を表しているか。
- (2) A, Bの地下資源と五大湖の水運を利用して、図のXの都市では鉄鋼業が発達した。Xの都市名を答えよ。
- (3) YではXで生産された鉄などを使った工業が発達した。
①何という工業か。②また、Yの都市名を答えよ。
- (4) アメリカでは、けつ岩層から石油を取り出す技術が実用化され、石油産出量が増加している。このような石油を何オイルというか。



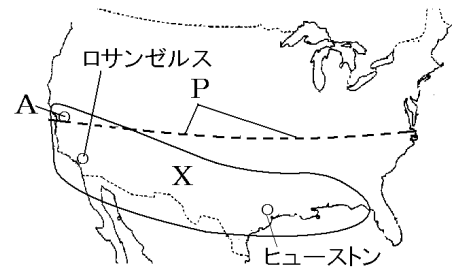
[解答欄]

(1)A	B	C	(2)
(3)①	②	(4)	

[解答](1)A 鉄鉱石 B 石炭 C 石油 (2) ピッツバーグ (3)① 自動車工業
② デトロイト (4) シェールオイル

[要点：サンベルト・シリコンバレー・その他]

20世紀後半、鉄鋼や自動車産業は日本やドイツなどとの競争で不利になり、五大湖周辺の工業は停滞した。そこで、アメリカは、コンピュータ関連産業、バイオテクノロジーなどの先端技術産業に力をそそいだ。先端技術産業は、おもに北緯37度(右図のP)以南のサンベルト(X)と呼ばれる地域で発達した。土地が安く手に入り、労働



力が豊富なことがその理由である。サンフランシスコ(A)近郊のシリコンバレーでは、コンピューターやインターネットなどに関連した情報技術産業(IT産業)(情報通信技術関連産業(ICT関連産業))がさかんである。また、ロサンゼルスでは石油化学と航空機産業が、ヒューストンでは石油化学と航空宇宙産業がさかんである。アメリカの企業は、世界各地に支社や子会社、現地工場、販売店などをつくり、国境をこえて活動している多国籍企業が多い。

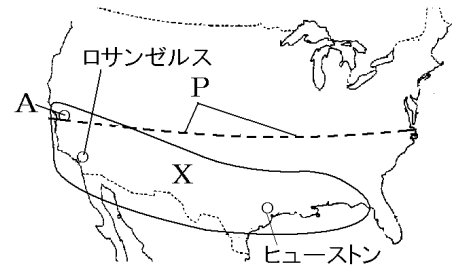
※出題頻度「サンベルト◎」「サンフランシスコ○」「シリコンバレー◎」

「情報技術産業(IT産業)○」「多国籍企業○」

[問題]

次の文章中の①～⑪に適語を入れよ。

20世紀後半、鉄鋼や自動車産業は日本やドイツなどとの競争で不利になり、五大湖周辺の工業は停滞した。そこで、アメリカは、コンピューター関連産業、バイオテクノロジーなどの(①)産業に力をそそいだ。(①)産業は、おもに北緯(②)度(右図の P)以南の(③)(X)と呼ばれる地域で発達した。(④)が安く手に入り、(⑤)力が豊富なことがその理由である。(⑥)(A)近郊の(⑦)では、コンピューターやインターネットなどに関連した(⑧)産業がさかんである。また、ロサンゼルスでは石油化学と(⑨)産業が、ヒューストンでは石油化学と(⑩)産業がさかんである。アメリカの企業は、世界各地に支社や子会社、現地工場、販売店などをつくり、国境をこえて活動している(⑪)企業が多い。



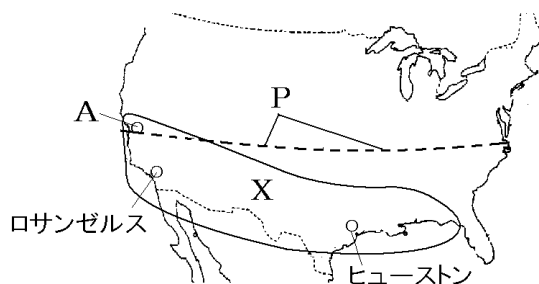
[解答欄]

①	②	③	④
⑤	⑥	⑦	
⑧		⑨	⑩
⑪			

[解答]① 先端技術 ② 37 ③ サンベルト ④ 土地 ⑤ 労働 ⑥ サンフランシスコ
 ⑦ シリコンバレー ⑧ 情報技術(IT)(情報通信技術関連(ICT 関連)) ⑨ 航空機
 ⑩ 航空宇宙 ⑪ 多国籍

[問題]

右図のPの緯線より南のXの地域ではコンピューターやインターネットに関連した産業などがさかんになっている。次の各問いに答えよ。



- (1) Pの経線は北緯何度の緯線か。
- (2) Xの地域を何というか。
- (3) Xの地域で工業がさかんになった理由を「土地」「労働力」という語句を用いて説明せよ。
- (4) コンピューターやインターネットに関連した産業を何というか。アルファベットを使って答えよ。
- (5) 図のAの都市名を次の[]から1つ選べ。
[シアトル シカゴ サンフランシスコ デトロイト ピッツバーグ]
- (6) Aの近郊にある地域では(4)に関連した企業が多く集まっている。この地域を何というか。
- (7) 図の①ロサンゼルス、②ヒューストンではどのような産業がさかんか。次の[]から2つずつ選べ。
[鉄鋼業 航空機 自動車 宇宙産業 石油化学]
- (8) アメリカには世界に事務所や工場をもつ、さまざまな分野の大企業が集まっている。このような企業を何というか。

[解答欄]

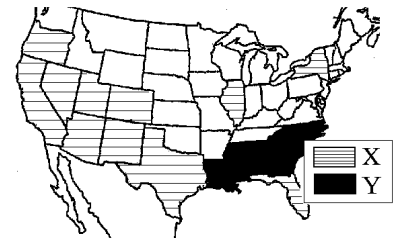
(1)	(2)	
(3)		
(4)	(5)	(6)
(7)①	②	(8)

[解答](1) 北緯 37 度 (2) サンベルト (3) 広い土地が安く手に入り,労働力が豊富であったから。 (4) IT 産業(ICT 関連産業) (5) サンフランシスコ (6) シリコンバレー (7)① 航空機, 石油化学 ② 宇宙産業, 石油化学 (8) 多国籍企業

[要点：先住民と移民]

北アメリカにはもともとネイティブアメリカンと呼ばれる先住民^{せんじゅうみん}が住んでいた。ヨーロッパからの移民^{いみん}は先住民の土地をうばいながら開拓^{かいたく}を進めていった。また、アフリカ大陸からは、南部^{めんか}の綿花農場で働かせるための奴隷^{どれい}として黒人が連れてこられた。アフリカ系の人々は右図のYの地域に多い。

アメリカで近年増加しているのは、スペイン語を話す、メキシコや西インド諸島からやってきたヒスパニックと呼ばれる移民である。彼らは働く機会と高い賃金を求めてアメリカに移住してきた人々である。ヒスパニックは右図のXの地域に多い。



※出題頻度「先住民のネイティブアメリカン○」「ヨーロッパからの移民○」

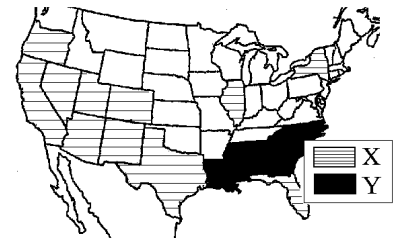
「アフリカ大陸から奴隷として黒人○」「ヒスパニック◎」「働く機会と高い賃金を求めて○」
「スペイン語○」

[問題]

次の文章中の①～⑨に適語を入れよ(または、適語を選べ)。

北アメリカにはもともと(①)アメリカンと呼ばれる先住民が住んでいた。(②)からの移民は先住民の土地をうばいながら開拓を進めていった。また、(③)大陸からは、南部の綿花農場で働かせるための(④)として黒人が連れてこられた。(③)系の人々は右図の⑤(X/Y)の地域に多い。

アメリカで近年増加しているのは、(⑥)語を話す、メキシコや西インド諸島からやってきた(⑦)と呼ばれる移民である。彼らは働く機会と高い(⑧)を求めてアメリカに移住してきた人々である。(⑦)は右図の⑨(X/Y)の地域に多い。



[解答欄]

①	②	③	④
⑤	⑥	⑦	⑧
⑨			

[解答]① ネイティブ ② ヨーロッパ ③ アフリカ ④ 奴隷 ⑤ Y ⑥ スペイン
⑦ ヒスパニック ⑧ 賃金 ⑨ X

[問題]

次の各問いに答えよ。

- (1) 北アメリカ州の先住民族は、イヌイトとあと1つは何と呼ばれる人々か。
- (2) アメリカに住む黒人の多くは、かつての奴隷の子孫である。黒人奴隷は、どこから連れてこられたのか。簡潔に答えよ。
- (3) 現在も黒人が多い地域はどこか。次の[]から正しいものを1つ選べ。
[北部 東部 西部 南部]
- (4) メキシコや中央アメリカや西インド諸島などの国々からアメリカに移住してきた移民を何というか。
- (5) 近年、(4)の移民が増加しているが、その理由を「働く機会」「賃金」という語句を使って簡単に説明せよ。
- (6) (4)の人々が主に使用している言語は何か。スペイン語

[解答欄]

(1)	(2)	(3)
(4)	(5)	
(6)		

[解答](1) ネイティブアメリカン (2) アフリカ大陸 (3) 南部 (4) ヒスパニック
(5) 働く機会と高い賃金を求めてやってくるから。 (6) スペイン語

[要点：アメリカの文化]

アメリカで大量生産が始まった自動車は、アメリカでの生活の足として欠かせない。都市の郊外には、広い駐車場をもつショッピングセンターがある。週末になると、おおぜいの買い物客が自動車でやってきて、食料品や日用品を大量にまとめ買いをする。そのほかにも、アメリカで生まれて世界中に広がり、人々に親しまれている文化がある。ジーンズやTシャツといった衣類などのほか、ハンバーガーなどのファストフードや、コーラなどの清涼飲料水もその一つである。音楽の分野では、さまざまなジャンルで一流のミュージシャンを輩出している。ジャズはアメリカの南部で始まった。また、映画産業もさかんであり、その中心地はハリウッドである。

※この単元はときどき出題される。

[問題]

次の文章中の①～⑥に適語を入れよ。

アメリカで大量生産が始まった(①)は、アメリカでの生活の足として欠かせない。都市の郊外には、広い駐車場をもつ(②)センターがある。週末になると、おおぜいの買い物客が(①)でやってきて、食料品や日用品を大量にまとめ買いをする。そのほかにも、アメリカで生まれて世界中に広がり、人々に親しまれている文化がある。(③)やTシャツといった衣類などのほか、ハンバーガーなどの(④)フードや、コーラなどの清涼飲料水もその一つである。音楽の分野では、さまざまなジャンルで一流のミュージシャンを輩出している。(⑤)はアメリカの南部で始まった。また、映画産業もさかんであり、その中心地は(⑥)である。

[解答欄]

①	②	③	④
⑤	⑥		

[解答]① 自動車 ② ショッピング ③ ジーンズ ④ ファスト ⑤ ジャズ

⑥ ハリウッド

【】南アメリカ州

[要点：国名]

Aはブラジルで、南アメリカで最も人口が多く、最も工業化が進んでいる国である。首都のブラジリア、南米最大の都市サンパウロ、2016年にオリンピックが開催されたリオジャネイロなどがある。

Bはアルゼンチンで、パンパと呼ばれる広い草原で牧畜がさかんな国である。Cはチリで銅の産出が多く、南北に細長くつらなる国である。

Dはペルーで、インカ帝国のマチュピチュ遺跡がある国である。

Eはエクアドルで、国の名前がスペイン語の「赤道」を意味する国である。Fはベネズエラで石油の産出が多い国である。

※出題頻度「ブラジル◎」「アルゼンチン◎」「ペルー○」「チリ○」



[問題]

次の文章中の①～⑧に適語を入れよ。

Aは(①)で、南アメリカで最も人口が多く、最も工業化が進んでいる国である。首都の(②)、南米最大の都市(③)、2016年にオリンピックが開催されたリオジャネイロなどがある。

Bは(④)で、パンパと呼ばれる広い草原で牧畜がさかんな国である。Cは(⑤)で銅の産出が多く、南北に細長くつらなる国である。

Dは(⑥)で、インカ帝国のマチュピチュ遺跡がある国である。

Eは(⑦)で、国の名前がスペイン語の「赤道」を意味する国である。Fは(⑧)で石油の産出が多い国である。



[解答欄]

①	②	③	④
⑤	⑥	⑦	⑧

[解答]① ブラジル ② ブラジリア ③ サンパウロ ④ アルゼンチン ⑤ チリ
⑥ ペルー ⑦ エクアドル ⑧ ベネズエラ

[問題]

次の各問いに答えよ。

- (1) 略地図の A～F の国名を答えよ。
- (2) A の国の首都名を答えよ。
- (3) A の国にある南米最大の人口をもつ都市の名前を答えよ。
- (4) A の国にある 2016 年にオリンピックが開催された都市の名前を答えよ。
- (5) B の国の首都の名前を答えよ。



[解答欄]

(1)A	B	C	D
E	F	(2)	(3)
(4)	(5)		

[解答](1)A ブラジル B アルゼンチン C チリ D ペルー E エクアドル
 F ベネズエラ (2) ブラジリア (3) サンパウロ (4) リオジャネイロ
 (5) ブエノスアイレス

[要点：歴史・文化]

南アメリカの先住民はインディオで、かつて、右の略地図のイの位置でインカ帝国という高度な文明を築いていた。「空中都市」と呼ばれるマチュピチュは世界遺産に登録されている。インカ帝国は 16 世紀前半にスペインに滅ぼされた。やがて、南アメリカはスペインとポルトガルの植民地になった。ブラジルはポルトガルが支配したので、ポルトガル語が使われている。それ以外の地域はスペインが支配したので、スペイン



語が使われている。また、植民地時代に広められたキリスト教が広く信仰されている。ブラジルはリオデジャネイロのカーニバルで有名であるが、この行事はキリスト教の謝肉祭に由来している。アフリカ大陸からは大農園の労働者として、黒人が奴隷として連れてこられた。先住民と白人との間で混血が進み、メスチソと呼ばれる混血者が多くなっている。20 世紀に入ると、日本人も数多く移住したが、その子孫を日系人という。

※出題頻度「インディオ○」「インカ帝国○」「マチュピチュ△」

「ブラジルはポルトガル語◎」「それ以外はスペイン語◎」「キリスト教○」
 「メスチソ◎」「日系人△」

[問題]

次の文章中の①～⑪に適語を入れよ。

南アメリカの先住民は(①)で、かつて、右の略地図の(②)の位置で(③)帝国という高度な文明を築いていた。「空中都市」と呼ばれる(④)は世界遺産に登録されている。(③)帝国は 16 世紀前半にスペインに滅ぼされた。やがて、南アメリカはスペインとポルトガルの植民地になった。ブラジルは(⑤)が支配したので、(⑤)語が使われている。それ以外の地域は(⑥)が支配したので、(⑥)語が使われている。また、植民地時代に広められた(⑦)教が広く信仰されている。ブラジルはリオデジャネイロの(⑧)で有名であるが、この行事は(⑦)教の謝肉祭に由来している。アフリカ大陸からは大農園の労働者として、黒人が(⑨)として連れてこられた。先住民と白人との間で混血が進み、(⑩)と呼ばれる混血者が多くなっている。20 世紀に入ると、日本人も数多く移住したが、その子孫を(⑪)という。



[解答欄]


①	②	③	④
⑤	⑥	⑦	⑧
⑨	⑩	⑪	

[解答]① インディオ ② イ ③ インカ ④ マチュピチュ ⑤ ポルトガル ⑥ スペイン
⑦ キリスト ⑧ カーニバル ⑨ 奴隷 ⑩ メスチソ ⑪ 日系人

[問題]

次の各問いに答えよ。

- (1) 南アメリカの先住民は何と呼ばれるか。
- (2) 右の地図中の X では、(1)の先住民が作った帝国が栄えていた。①この帝国の名前を答えよ。
②この帝国が残した「空中都市」と呼ばれる右の写真の世界遺産を何というか。



- (3) 16 世紀に南アメリカにやってきて、先住民を支配したヨーロッパの国はポルトガルともう 1 つはどこか。
- (4) 南アメリカ州で唯一ポルトガル語が使われている国はどこか。国名を答えよ。
- (5) (4)の国を除く南アメリカの多くの国々において公用語となっている言語は何語か。
- (6) 南アメリカで信仰する人が多い宗教名を答えよ。
- (7) アフリカ大陸からは大農園の労働者として、黒人が()として連れてこられた。
- (8) 南アメリカでは、先住民と白人の間で混血が進んだ。この混血者を何というか。
- (9) 20 世紀はじめからブラジルなどに移住した日本人の子孫を何というか。

[解答欄]

(1)	(2)①	②	(3)
(4)	(5)	(6)	(7)
(8)	(9)		

[解答](1) インディオ (2)① インカ帝国 ② マチュピチュ (3) スペイン (4) ブラジル
 (5) スペイン語 (6) キリスト教 (7) 奴隷 (8) メスチソ (9) 日系人

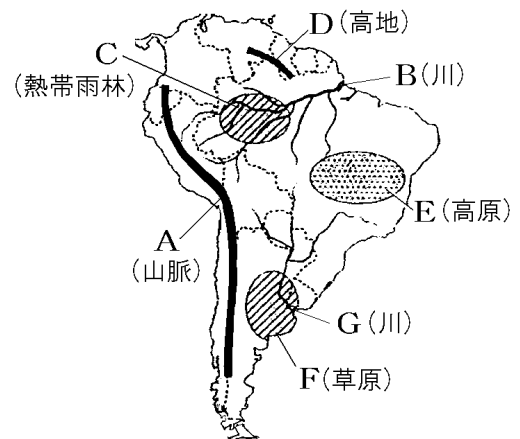
[要点：地形]

Aは環太平洋造山帯かんたいへいようぞうざんたいに属する高くてけわしいアンデス山脈さんみやくである。Bは流域面積りゅういきが世界最大のアマゾン川である。その流域りゅういきは、赤道直下にあるため年中高温多雨でセルバねったいりん(図のC)という熱帯林ねったいりん(熱帯雨林)が広がっている(熱帯雨林気候)。

北部にはなだらかなギアナ高地こうち(D)がある。

Eはブラジル高原こらげんで、その中にはカンポという熱帯の草原が広がっており、ユーヒーやカカオさいばいの栽培がおこなわれている。Gのラプラタ川流域にはパンパぱんぱ(F)という温帯の草原が広がっており、小麦の栽培しゅうくや肉牛の飼育がおこなわれている。

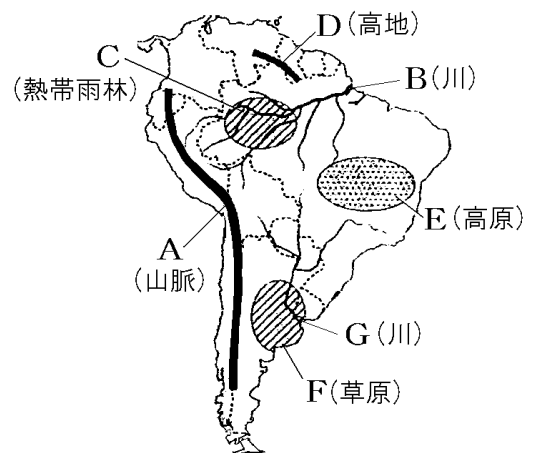
※出題頻度「アンデス山脈◎」「アマゾン川◎」「セルバ○」「赤道の位置○」「ギアナ高地○」「ブラジル高原○」「カンポ○」「パンパ◎」「ラプラタ川◎」



[問題]

次の文章中の①～⑨に適語を入れよ。

Aは(①)造山帯に属する高くてけわしい(②)山脈である。Bは流域面積が世界最大の(③)川である。その流域は、赤道直下にあるため年中高温多雨で(④)(図のC)という熱帯林(熱帯雨林)が広がっている(熱帯雨林気候)。北部にはなだらかな(⑤)高地(D)がある。Eは(⑥)高原で、その中には(⑦)という熱帯の草原が広がっており、ユーヒーやカカオの栽培がおこなわれている。Gの(⑧)川流域には(⑨)(F)という温帯の草原が広がっており、小麦の栽培や肉牛の飼育がおこなわれている。



【解答欄】

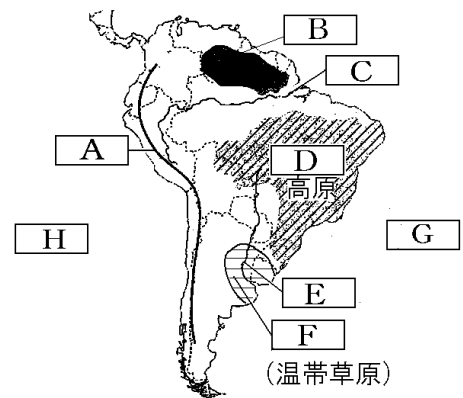
①	②	③	④
⑤	⑥	⑦	⑧
⑨			

【解答】① 環太平洋 ② アンデス ③ アマゾン ④ セルバ ⑤ ギアナ ⑥ ブラジル
⑦ カンポ ⑧ ラプラタ ⑨ パンパ

【問題】

次の各問いに答えよ。

- (1) Aの山脈の名前を書け。
- (2) Aの山脈は何という造山帯に含まれるか。
- (3) Bの高地の名前を答えよ。
- (4) Cの川の名前を書け。
- (5) Cの川の流域に広がる熱帯林を何というか。
- (6) Dの高原の名前を答えよ。
- (7) Dに広がる熱帯の草原を何というか。
- (8) Eの川の名前を答えよ。
- (9) Eの川の下流域に広がる温帯の草原Fを何というか。
- (10) GとHの海洋名を答えよ。



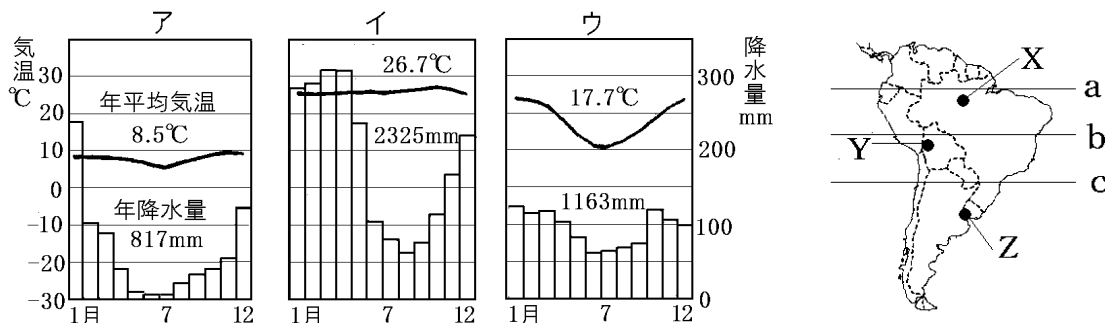
【解答欄】

(1)	(2)	(3)
(4)	(5)	(6)
(7)	(8)	(9)
(10)G	H	

【解答】(1) アンデス山脈 (2) 環太平洋造山帯 (3) ギアナ高地 (4) アマゾン川
(5) セルバ (6) ブラジル高原 (7) カンポ (8) ラプラタ川 (9) パンパ (10)G 大西洋
H 太平洋

[要点：気候]

赤道の位置は **a** であるので、**X** の気候は熱帯で、雨温図はイのようになる。アンデス山脈にある **Y** の気候は高山気候で標高が高いため気温が低いので、雨温図はアのようになる。**Z** は温帯で、雨温図はウのようになる。**Z** は南半球にあるため、7、8月が冬で気温が低い。

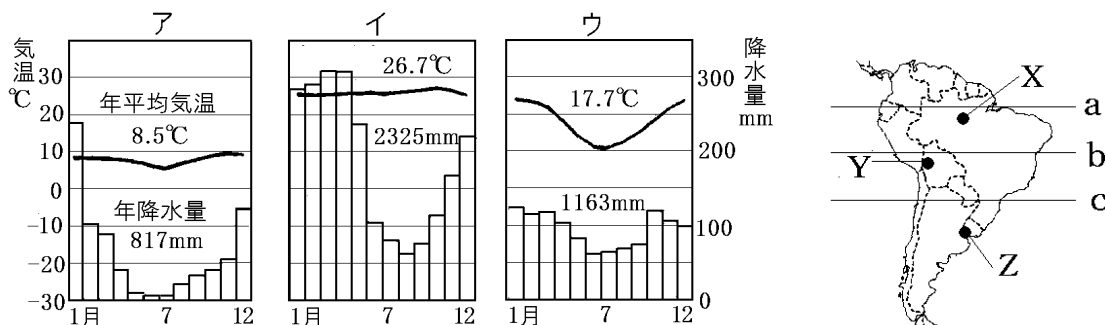


出題頻度「赤道の位置○」「雨温図(熱帯・温帯・高山気候)○」

[問題]

次の文章中の①～⑧に適語を入れよ(または適語を選べ)。

赤道の位置は①(a/b/c)であるので、**X** の気候は(②)帯で、雨温図は③(ア/イ/ウ)のようになる。アンデス山脈にある **Y** の気候は(④)気候で標高が高いため気温が低いので、雨温図は⑤(ア/イ/ウ)のようになる。**Z** は(⑥)帯で、雨温図は⑦(ア/イ/ウ)のようになる。**Z** は南半球にあるため、7、8月が⑧(夏/冬)で気温が低い。



[解答欄]

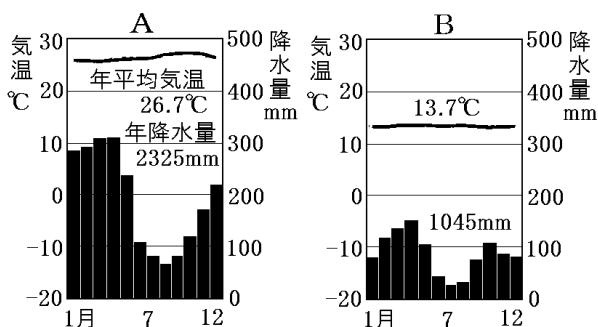
①	②	③	④
⑤	⑥	⑦	⑧

[解答]① a ② 熱 ③ イ ④ 高山 ⑤ ア ⑥ 温 ⑦ ウ ⑧ 冬

[問題]

次の各問いに答えよ。

- (1) 雨温図 A は地図中のマナオスとキトのどちらのものか。
- (2) 雨温図 A が示している気候帯名を答えよ。



- (3) 雨温図 B が示している気候区名を答えよ。
- (4) 雨温図 A と B の平均気温の差は、何のちがいでよって生じているか。


[解答欄]

(1)	(2)	(3)	(4)
-----	-----	-----	-----

[解答](1) マナオス (2) 熱帯 (3) 高山気候 (4) 標高のちがい

[要点：熱帯林の減少と地球温暖化]

右の地図中Xのアマゾン川の流域には、世界のおよそ3分の1におよぶ熱帯林(熱帯雨林)が広がっている。近年、流域の開発によりこの熱帯林が減少している。右は、アマゾン川流域の航空写真であるが、白くなっている部分は、森林を切り開いて




てつくられた道路や農地である。熱帯林の減少によって地球温暖化が進むことが心配されている。経済の発展と環境保護の両立を目指す「持続可能な開発」を進める必要がある。
 ※出題頻度「道路や農地○」「熱帯林の減少○」「地球温暖化○」「持続可能な開発△」

[問題]

次の文章中の①～⑤に適語を入れよ。

右の地図中 X の(①)川の流域には、世界のおよそ3分の1におよぶ(②)林が広がっている。近年、流域の開発によりこの(②)林が減少している。右は、(①)川流域の航空写真であるが、白くなっている部分は、森林を切り開いてつくられた(③)や農地である。熱帯林の減少によって(④)化が進むことが心配されている。経済の発展と環境保護の両立を目指す「(⑤)可能な開発」を進める必要がある。



※出題頻度「道路や農地○」「熱帯林の減少○」「地球温暖化○」「持続可能な開発△」

[解答欄]

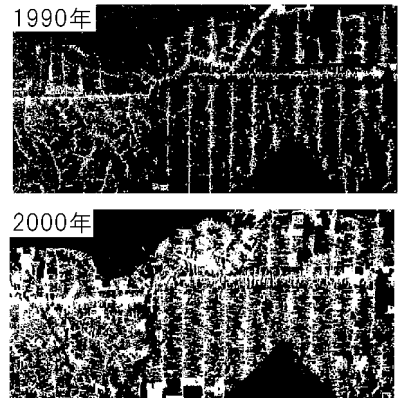
①	②	③	④
⑤			

[解答]① アマゾン ② 熱帯(熱帯雨) ③ 道路 ④ 地球温暖 ⑤ 持続

[問題]

右は、1990年と2000年のアマゾン川流域の衛星写真である。これについて、次の各問いに答えよ。

- (1) この衛星写真に見られる白い部分は何か。2つあげよ。
- (2) 資料の2枚の衛星写真を比較するとどのようなことがわかるか。「森林の面積」の語句を用いて簡潔に説明せよ。
- (3) (2)によって二酸化炭素の吸収量が減少することで起こることが心配されている地球環境問題は何か。
- (4) 経済発展と環境保護を両立させて開発を進めることを何というか。



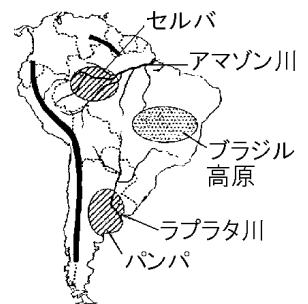
[解答欄]

(1)	(2)
(3)	(4)

[解答](1) 道路, 開発された農地 (2) 森林の面積が減少したこと。 (3) 地球温暖化 (4) 持続可能な開発

[要点：焼畑農業・コーヒー・パンパ]

アマゾン川流域の伝統的な農業は、森林を焼き払ってその灰を肥料とする焼畑農業で、いも、とうもろこし、バナナなどを栽培している。何年かたつと、土中の肥料分が少なくなるので、別の場所に移動し新しく耕作を始める。アマゾン川流域では道路は発達しておらず、移動には船が使われる。漁業は重要な産業で魚は貴重なタンパク源になっている。ブラジル高原南部ではコーヒー(コーヒー豆)がプランテーションという大農園で栽培されている。ブラジルは世界一のコーヒーの生産国で、かつては、コーヒーの輸出にたよるモノカルチャー経済であった。



アルゼンチンを流れるラプラタ川周辺はパンパという温帯草原が広がり、小麦の栽培や牧畜(肉牛の飼育)がさかんである。牧場の所有者は都市に住み、労働者が家族で牧場に住み込み家畜の世話をする。アルゼンチンは小麦や肉類を輸出している。

※出題頻度「焼畑農業◎」「いも，とうもろこし，バナナ△」「漁業△」「道路は発達しておらず船が使われる△」「コーヒー○」「プランテーション○」「モノカルチャー経済○」「パンパ◎」「ラプラタ川○」「小麦や牧畜○」

【問題】

次の文章中の①～⑩に適語を入れよ。

アマゾン川流域の伝統的な農業は，森林を焼き払ってその灰を肥料とする(①)農業で，(②)，とうもろこし，バナナなどを栽培している。何年かたつと，土中の肥料分が少なくなるので，別の場所に移動し新しく耕作を始める。アマゾン川流域では道路は発達しておらず，移動には(③)が使われる。(④)業は重要な産業で魚は貴重なタンパク源になっている。ブラジル高原南部では(⑤)が(⑥)という大農園で栽培されている。ブラジルは世界一の(⑤)の生産国で，かつては，(⑤)の輸出にたよる(⑦)カルチャー経済であった。

アルゼンチンを流れる(⑧)川周辺は(⑨)という温帯草原が広がり，(⑩)の栽培や牧畜(肉牛の飼育)がさかんである。牧場の所有者は都市に住み，労働者が家族で牧場に住み込み家畜の世話をする。アルゼンチンは(⑩)や肉類を輸出している。

【解答欄】

①	②	③	④
⑤	⑥	⑦	⑧
⑨	⑩		

【解答】① 焼畑 ② いも ③ 船 ④ 漁 ⑤ コーヒー(豆) ⑥ プランテーション
⑦ モノ ⑧ ラプラタ ⑨ パンパ ⑩ 小麦

【問題】

次の各問いに答えよ。

- (1) 熱帯の森林を焼いて，その灰を肥料にして行う農業を何というか。
- (2) ブラジル高原南部で栽培されている農作物でブラジルが世界一の生産をほこっているものは何か。
- (3) アフリカや南アメリカで見られる，ヨーロッパ人が現地の人々を使って運営した大規模な農園のことを何というか。
- (4) ブラジルでは，(2)の作物だけにたよらず複数の作物を生産することに力を入れるようになったが，その理由として()経済にならないためということがある。()にあてはまる語句を答えよ。
- (5) アルゼンチンに広がる広大な草原で，小麦栽培や牧畜がさかんな草原を何というか。
- (6) (5)は何という川の周辺に広がっているか。

【解答欄】

(1)	(2)	(3)
(4)	(5)	(6)

【解答】(1) 焼畑農業 (2) コーヒー(豆) (3) プランテーション (4) モノカルチャー
(5) パンパ (6) ラプラタ川

【要点：鉱業・バイオエタノール・ブラジルの発展】

南アメリカは鉱産資源にめぐまれている。鉄鉱石はブラジル(世界第2位)で、銅はチリ(世界第1位)で採掘されている。石油は、ベネズエラ、ブラジルなどで採掘されている。また、南アメリカは、マンガンやアンチモンなどの希少金属(レアメタル)も豊富である。



ブラジルでは近年、自動車の燃料にさとうきびからつくったバイオエタノール(バイオ燃料)が利用されている。ガソリンを使うと地球温暖化に

影響を与える二酸化炭素を発生させるが、バイオエタノールの場合には先に原料の植物が二酸化炭素を吸収しているため、燃やしても全体としては大気中の二酸化炭素は増加しない。

南アメリカで、もっとも工業化が進んでいる国はブラジルである。国内でとれる鉄鉱石を原料とする鉄鋼業が発達し、航空機(世界第4位)や自動車などの工業もさかんになっている。

最近、南アメリカでは、農村部から都市部への移住者が急増している。これによって都市部では、生活環境の悪化がすすみ、スラムに住む人が増えるという問題が起こっている。

※出題頻度「ブラジルの鉄鉱石△」「チリの銅△」「ベネズエラの石油△」「レアメタル○」「バイオエタノール◎」「さとうきび○」「地球温暖化○」「スラム△」

【問題】

次の文章中の①～⑨に適語を入れよ。

南アメリカは鉱産資源にめぐまれている。鉄鉱石は(①)(世界第2位)で、銅は(②)(世界第1位)で採掘されている。(③)は、ベネズエラ、ブラジルなどで採掘されている。また、南アメリカは、マンガンやアンチモンなどの希少金属((④)メタル)も豊富である。

ブラジルでは近年、自動車の燃料に(⑤)からつくった(⑥)エタノール((⑥)燃料)が利用されている。ガソリンを使うと(⑦)化に影響を与える二酸化炭素を発生させるが、(⑥)エタノールの場合には先に原料の植物が二酸化炭素を吸収しているため、燃やしても全体としては大気中の二酸化炭素は増加しない。

南アメリカで、もっとも工業化が進んでいる国は(⑧)である。国内でとれる鉄鉱石を原料とする鉄鋼業が発達し、航空機(世界第4位)や自動車などの工業もさかんになっている。最近、南アメリカでは、農村部から都市部への移住者が急増している。これによって都市部では、生活環境の悪化がすすみ、(⑨)に住む人が増えるという問題が起こっている。

[解答欄]

①	②	③	④
⑤	⑥	⑦	⑧
⑨			

[解答]① ブラジル ② チリ ③ 石油 ④ レア ⑤ さとうきび ⑥ バイオ
⑦ 地球温暖 ⑧ ブラジル ⑨ スラム

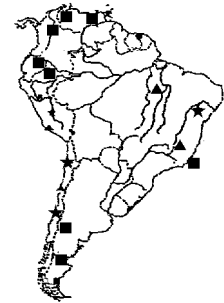
[問題]

次の各問いに答えよ。

- (1) 右の地図中の■, ▲, ★の地下資源名を次の[]から1つずつ選べ。

[金 銅 鉄鉱石 石油]

- (2) 南アメリカでは、マンガンやアンチモンなど電子機器に使われる金属が豊富である。これらをカタカナで何というか。
- (3) 近年、ブラジルでは植物を原料とする燃料で走る自動車が普及している。①この燃料を何というか。②ブラジルで、この燃料の原料として栽培がさかんな農作物は何か。
- (4) ブラジルでは、日本の技術協力で国内でとれる鉱産資源を原料とする(①)業が発達し、自動車や(②)(世界第4位)などの工業製品の生産ものびている。①, ②にあてはまる適語を次の[]からそれぞれ選べ。
- [綿織物 船舶 航空機 鉄鋼]
- (5) 南アメリカ州やアフリカ州などの大都市で貧しい人々がくらしている、生活環境が悪い地域を何というか、カタカナ3文字で答えよ。



[解答欄]

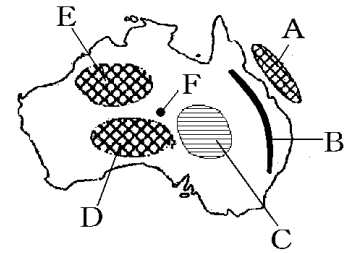
(1)■ :	▲ :	★ :	(2)
(3)①	②	(4)①	
②	(5)		

[解答](1)■ : 石油 ▲ : 鉄鉱石 ★ : 銅 (2) レアメタル (3)① バイオエタノール(バイオ燃料) ② さとうきび (4)① 鉄鋼 ② 航空機 (5) スラム

【】 オセアニア州

[要点：地形]

オーストラリアは国土の大部分が乾燥帯かんそうたいになっているため、乾燥大陸と呼ばれている。Bのグレートディバイディング山脈より西側には、Cの大鑽井盆地だいさんせい(グレートアーテジアン盆地)、Dのグレートビクトリア砂漠、Eのグレートサンディー砂漠さぼくなど、乾燥地帯が広がっており、人口密度は非常に低い。オーストラリアのほぼ中央には右図のような世界で2番目に大きい一枚岩であるウルル(エアーズロック)がある。ここは、先住民のアボリジニの聖地せいちになっている。



北部とグレートディバイディング山脈より東側は比較的に降水量

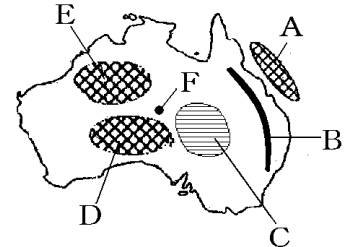
が多く、人口は山脈の南東部に集中している。Aのグレートバリアリーフは2000km以上も続く世界最大のさんご礁しょうである。

※出題頻度「グレートディバイディング山脈◎」「グレートバリアリーフ◎」「大鑽井盆地◎」「グレートビクトリア砂漠○」「グレートサンディー砂漠○」「ウルル(エアーズロック)○」「南東部に人口が集中○」

[問題]

次の文章中の①～⑦に適語を入れよ。

オーストラリアは国土の大部分が(①)帯になっているため、(①)大陸と呼ばれている。Bの(②)山脈より西側には、Cの(③)盆地(グレートアーテジアン盆地)、Dの(④)砂漠、Eの(⑤)砂漠など、(①)地帯が広がっており、人口密度は非常に低い。オーストラリアのほぼ中央には右図のような世界で2番目に大きい一枚岩である(⑥)がある。ここは、先住民のアボリジニの聖地になっている。



北部とグレートディバイディング山脈より東側は比較的に降水量

が多く、人口は山脈の南東部に集中している。Aの(⑦)は2000km以上も続く世界最大のさんご礁である。

[解答欄]

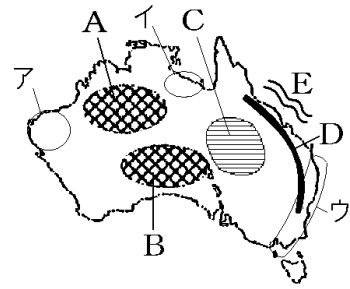
①	②	③
④	⑤	
⑥	⑦	

[解答]① 乾燥 ② グレートディバイディング ③ 大鑽井 ④ グレートビクトリア
⑤ グレートサンディー ⑥ ウルル(エアーズロック) ⑦ グレートバリアリーフ

[問題]

次の各問いに答えよ。

- (1) A～Dの地形名を答えよ。
- (2) Eは世界最大のさんご礁である。何と呼ばれるか。
- (3) オーストラリアのほぼ中央にある世界最大の一枚岩を何と呼ぶか。
- (4) オーストラリア大陸は、年降水量500mm以下の草原や砂漠が国土の約3分の2をしめていることから、何大陸と呼ばれるか。
- (5) 人口が集中しているのは、ア～ウのうちのどこか。

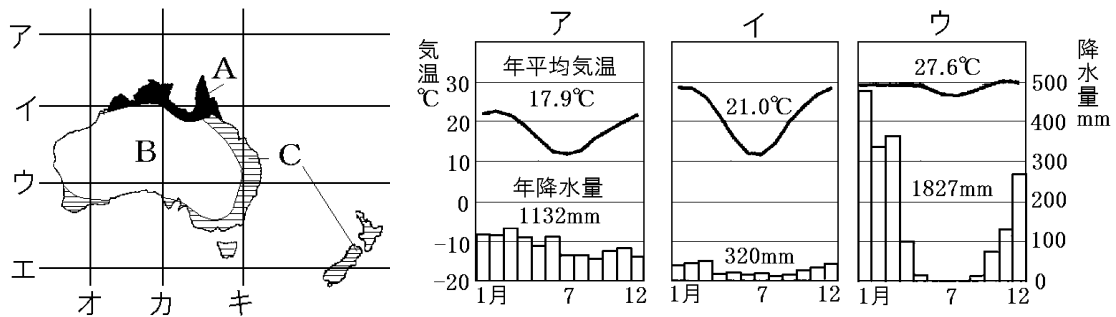


[解答欄]

(1)A	B	
C	D	
(2)	(3)	(4)
(5)		

[解答](1)A グレートサンディー砂漠 B グレートビクトリア砂漠 C 大鑽井盆地
 D グレートディバイディング山脈 (2) グレートバリアリーフ (3) ウルル(エアーズロック) (4) 乾燥大陸 (5) ウ

[要点：気候]

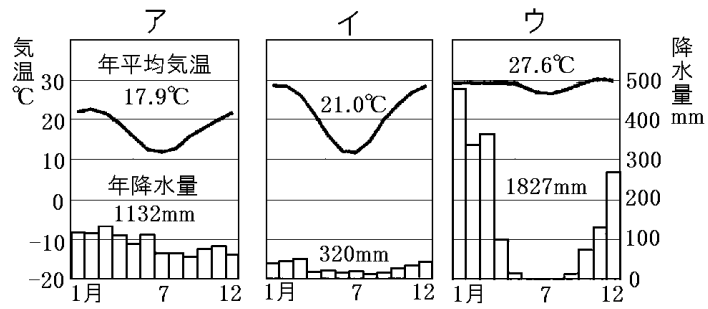
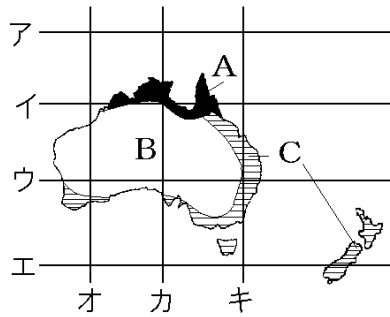


オーストラリアは南半球にあるので、北に行くほど赤道(地図のア)に近づくことになり、気温が高くなる。したがって、赤道に近い上の図のAの気候は熱帯で、雨温図はウのようになる。国土の大部分をしめるBは乾燥帯で、雨温図はイのようになる。東部と南西部のCは温帯で、雨温図はアのようになる。なお、日本の標準時子午線の東経135度の経線は地図の力である。

※出題頻度「赤道の位置○」「東経135度の位置○」「乾燥帯◎」「温帯○」「熱帯○」

[問題]

次の文の①～⑨の()内より適語を選べ。



オーストラリアは①(南半球/北半球)にあるので、北に行くほど赤道②(ア/イ/ウ/エ)に近づくことになり、気温が高くなる。したがって、赤道に近い上の図の A の気候は③(熱帯/乾燥帯/温帯)で、雨温図は④(ア/イ/ウ)のようになる。国土の大部分をしめる B は⑤(熱帯/乾燥帯/温帯)で、雨温図は⑥(ア/イ/ウ)のようになる。東部と南西部の C は⑦(熱帯/乾燥帯/温帯)で、雨温図は⑧(ア/イ/ウ)のようになる。なお、日本の標準時子午線の東経 135 度の経線は地図の⑨(オ/カ/キ)である。

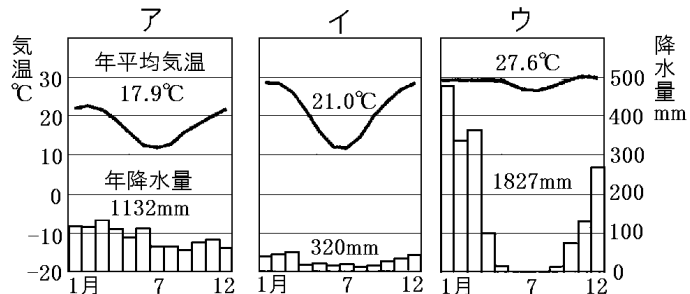
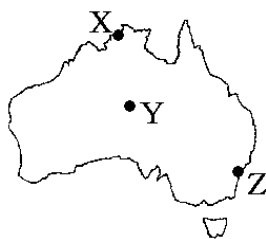
[解答欄]

①	②	③	④
⑤	⑥	⑦	⑧
⑨			

[解答]① 南半球 ② ア ③ 熱帯 ④ ウ ⑤ 乾燥帯 ⑥ イ ⑦ 温帯 ⑧ ア ⑨ カ

[問題]

次の資料中の X, Y, Z の各地点の雨温図を、ア～ウからそれぞれ 1 つずつ選べ。また、X, Y, Z の各地点の説明として適するものを下の a～c からそれぞれ選べ。



- a 雨が多く、熱帯の森林が広がる。
- b 温帯に属している。
- c 雨がほとんど降らず、砂漠や草原地帯が広がっている。

[解答欄]

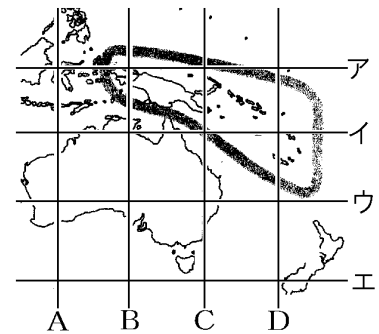
X :	Y :	Z :
-----	-----	-----

[解答]X : ウ, a Y : イ, c Z : ア, b

[問題]

次の各問いに答えよ。

- (1) 日本の標準時子午線の東経 135 度の経線を地図中の A~D から選べ。
- (2) 赤道を示している緯線を地図中のア~エから選べ。



[解答欄]

(1)	(2)
-----	-----

[解答](1) B (2) ア

[要点 : 地域名・国名]

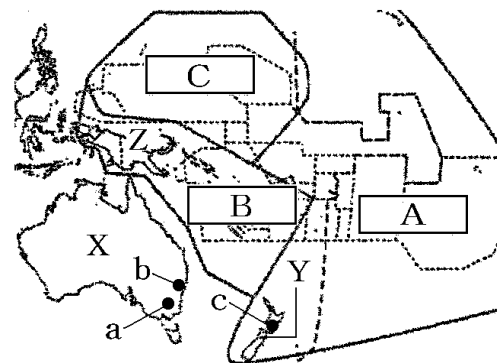
オセアニア州は、オーストラリア(右図 X)と太平洋に広がる島々で構成されている。

オーストラリアの首都はキャンベラ(a)であるが、人口が最も多いのはシドニー(b)である。ニュージーランド(Y)の首都はウェリントン(c)である。そのほか、オセアニア州にある国としては、パプアニューギニア(Z)やツバルなどがある。

オセアニアの島々は、A のポリネシア、B のメラネシア、C のミクロネシアに区分される。

オセアニアの島々には、海底からふき出した火山が海面に山頂部分を出している火山島と、さんご礁が堆積してできた島がある。さんご礁でできた島国であるツバルでは、標高が低いため、地球温暖化の影響で海水面が上昇して、島が水没する危機にある。

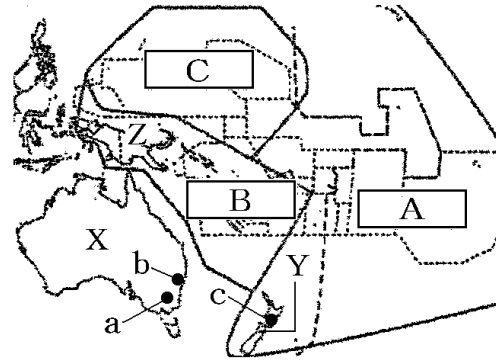
※出題頻度「オーストラリア○」「キャンベラ○」「ニュージーランド○」「パプアニューギニア△」「シドニー△」「ウェリントン△」「メラネシア○」「ミクロネシア○」「ポリネシア○」「火山島△」「さんご礁の島△」「水没する危機△」



[問題]

次の文章中の①～⑫に適語を入れよ。

(①)州は、(②)(右図 X)と太平洋に広がる島々で構成されている。(②)の首都は(③)(a)であるが、人口が最も多いのは(④)(b)である。(⑤)(Y)の首都は(⑥)(c)である。そのほか、(①)州にある国としては、(⑦)(Z)やツバルなどがある。オセアニアの島々は、A の(⑧), B の(⑨), C の(⑩)に区分される。オセアニアの島々には、



海底からふき出した火山が海面に山頂部分を出している火山島と、(⑪)が堆積してできた島がある。(⑪)でできた島国であるツバルでは、標高が低いため、(⑫)化の影響で海面が上昇して、島が水没する危機にある。

[解答欄]

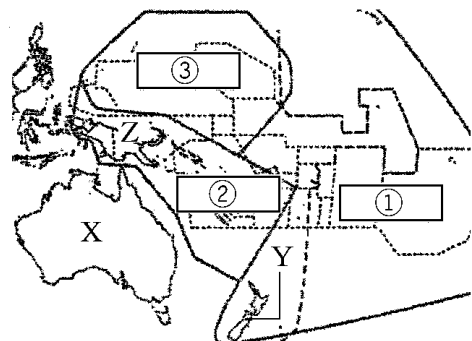
①	②	③
④	⑤	⑥
⑦	⑧	⑨
⑩	⑪	⑫

[解答]① オセアニア ② オーストラリア ③ キャンベラ ④ シドニー
 ⑤ ニュージーランド ⑥ ウェリントン ⑦ パプアニューギニア ⑧ ポリネシア
 ⑨ メラネシア ⑩ ミクロネシア ⑪ さんご礁 ⑫ 地球温暖

[問題]

右の地図について、次の各問いに答えよ。

- (1) ①, ②, ③にあてはまる地域名をそれぞれカタカナで答えよ。
- (2) X, Y, Z の国名を答えよ。
- (3) X 国の首都名を答えよ。
- (4) 地図で表されている州の名称を答えよ。
- (5) (4)の州は島が多い。そのほとんどを形成するのは、火山島ともう1つは何か。



- (6) ツバルなど(5)でできた島々は地球温暖化によってある危機に直面している。それはどのようなことか。簡単に説明せよ。

[解答欄]

(1)①	②	③
(2)X	Y	Z
(3)	(4)	(5)
(6)		

[解答](1)① ポリネシア ② メラネシア ③ ミクロネシア (2)X オーストラリア
Y ニュージーランド Z パプアニューギニア (3) キャンベラ (4) オセアニア州
(5) さんご礁の島 (6) 島が水没する危機にさらされていること。

[要点：先住民・植民地・白豪主義・多文化社会]

オーストラリアの先住民は^{せんじゅうみん}アボリジニで、ニュージーランドの先住民はマオリである。
18世紀にイギリス人が移住してきて、オーストラリアやニュージーランドなどのオセアニアの^{しよくみんち}一部を植民地とした。これらの国の国旗にイギリスの国旗が描かれているのは、それらの国がイギリスの植民地だったなごりである。



オーストラリア

19世紀半ばに金鉱が発見されて、19世紀後半からは中国系の^{いみん}移民も増加し、イギリス系の移民との間で対立が生じた。そのため、20世紀に入ってまもなく移民制限法を制定し、ヨーロッパ系以外の移民を制限する白豪主義という政策をとった。しかし、アジアとの結びつきが強まった 1970年代に^{てつぱい}白豪主義を撤廃してヨーロッパ系以外の移民を受け入れるようになり、その結果、アジア州からの移民が増加している。現在のオーストラリアは様々な民族が共存し、それぞれの文化を尊重する社会を築こうとしている。このような社会を^{たぶんかしゃかい}多文化社会という。

※出題頻度「アボリジニ◎」「マオリ◎」「イギリスの国旗が描かれているのはイギリスの植民地だったから○」「白豪主義◎」「ヨーロッパ系以外の移民を制限○」
「白豪主義の撤廃によってアジア州からの移民が増加○」「多文化社会◎」

[問題]

次の文章中の①～⑦に適語を入れよ。

オーストラリアの先住民は(①)で、ニュージーランドの先住民は(②)である。18 世紀に(③)人が移住してきて、オーストラリアやニュージーランドなどのオセアニアの一角を(④)地とした。これらの国の国旗に(③)の国旗が描かれているのは、それらの国が(③)の(④)地だったなごりである。19 世紀半ばに金鉱が発見されて、19 世紀後半からは中国系の移民も増加し、(③)系の移民との間で対立が生じた。そのため、20 世紀に入ってまもなく移民制限法を制定し、ヨーロッパ系以外の移民を制限する(⑤)主義という政策をとった。しかし、アジアとの結びつきが強まった 1970 年代に(⑤)主義を撤廃してヨーロッパ系以外の移民を受け入れるようになり、その結果、(⑥)州からの移民が増加している。現在のオーストラリアは様々な民族が共存し、それぞれの文化を尊重する社会を築こうとしている。このような社会を(⑦)社会という。

[解答欄]

①	②	③	④
⑤	⑥	⑦	

[解答]① アボリジニ ② マオリ ③ イギリス ④ 植民 ⑤ 白豪 ⑥ アジア ⑦ 多文化

[問題]

次の各問いに答えよ。

- (1) オーストラリアの先住民を何というか。
- (2) ニュージーランドの先住民を何というか。
- (3) オーストラリアやニュージーランドは、かつてどこの国の植民地だったか。
- (4) オーストラリアで 1970 年代までとられていた、ヨーロッパ系以外の移民を制限する政策を何主義というか。
- (5) 1970 年代以降、オーストラリアではある地域との結びつきが強まり、ヨーロッパ系以外の移民を積極的に受け入れるようになった。その地域とは何州か。
- (6) 現在のオーストラリアがめざしている、多くの民族が共存し、互いの文化を尊重しあう社会を何というか。漢字 5 字で書け。

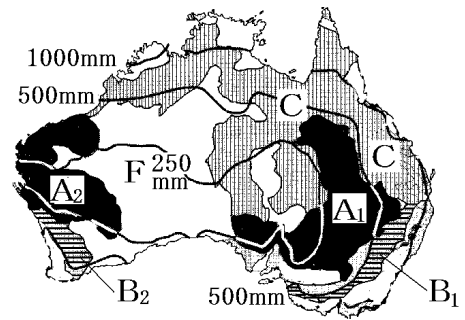
[解答欄]

(1)	(2)	(3)	(4)
(5)	(6)		

[解答](1) アボリジニ (2) マオリ (3) イギリス (4) 白豪主義 (5) アジア州
(6) 多文化社会

[要点：農牧業]

オーストラリアで最も多く飼育されている家畜は羊で、羊毛はオーストラリアが世界有数の生産をあげている農産物である。ニュージーランドでも羊の飼育がさかんである。羊は乾燥に強いので、右図A₁の大鑽井盆地やA₂で飼育されている。やや降水量の多い北東部から北部にかけてのCの地域では牛の放牧が行われている。



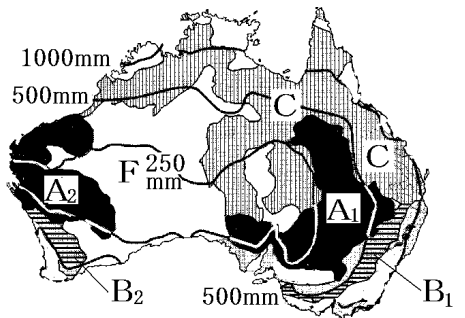
また、B₁とB₂の地域では小麦などの作物栽培と羊の飼育を組み合わせた農業が行われている。Fの地域は降水量が極端に少なく、砂漠などの乾燥地帯が広がっており、農業には適さない。

※出題頻度「羊(分布図)○」「牛(分布図)○」「小麦(分布図)○」

[問題]

次の文章中の①～⑥に適語を入れよ。

オーストラリアで最も多く飼育されている家畜は(①)で、(②)はオーストラリアが世界有数の生産をあげている農産物である。ニュージーランドでも(①)の飼育がさかんである。(①)は乾燥に強いので、右図A₁の(③)盆地やA₂で飼育されている。やや降水量の多い北東部から北部にかけてのCの地域では(④)の放牧が行われている。また、B₁とB₂の地域では(⑤)などの作物栽培と(①)の飼育を組み合わせた農業が行われている。Fの地域は降水量が極端に少なく、(⑥)などの乾燥地帯が広がっており、農業には適さない。



[解答欄]

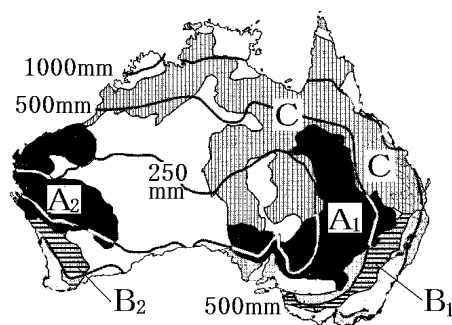
①	②	③	④
⑤	⑥		

[解答]① 羊 ② 羊毛 ③ 大鑽井 ④ 牛 ⑤ 小麦 ⑥ 砂漠

[問題]

右図を見て、次の各問いに答えよ。

- (1) 大鑽井盆地(A₁)や A₂ の地域などで多く飼育されている家畜は何か。
- (2) 降水量がやや多い北東部から北部にかけての地域 (C)で多く飼育されている家畜は何か。
- (3) 南東部(B₁)や南西部(B₂)では、(①)などの作物栽培と(②)の飼育を組み合わせた農業が行われている。
- (4) オーストラリアで農業に適していない地域はどのような地形の地域か。



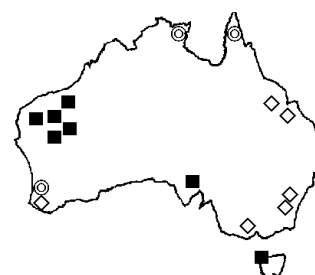
[解答欄]

(1)	(2)	(3)①	②
(4)			

[解答](1) 羊 (2) 牛 (3)① 小麦 ② 羊 (4) 砂漠などの乾燥地帯

[要点：鉱業]

石炭(右図の◇)は東部にあるグレートディバイディング山脈の東側で多く産出する。鉄鉱石(■)は西部で多く産出する。これらの鉱山や炭鉱では、地面を直接けずっていく露天掘り(右図)という方法で、大規模で効率のよい



採掘が行われている。その他に、ボーキサイト(◎、アルミニウムの原料)、金、銅、石油、天然ガスなども産出する。内陸部で採掘された石油や天然ガスはパイプラインで港へ運ばれる。オーストラリアの鉱産資源は、アジア州に多く輸出されている。

※出題頻度「鉄鉱石(分布図)◎」「石炭(分布図)◎」「露天掘り○」

[問題]

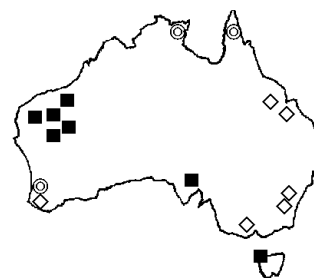
次の文章中の①～④に適語を入れよ。

(①)(右図の◇)は東部にあるグレートディバイディング山脈の東側で多く産出する。

(②)(■)は西部で多く産出する。

これらの鉱山や炭鉱では、地面を直接けずっていく(③)(右図)という方法で、大規模で

効率のよい採掘が行われている。その他に、ボーキサイト(◎, アルミニウムの原料), 金, 銅, 石油, 天然ガスなども産出する。内陸部で採掘された石油や天然ガスは(④)で港へ運ばれる。オーストラリアの鉱産資源は、アジア州に多く輸出されている。



[解答欄]

①	②	③	④
---	---	---	---

[解答]① 石炭 ② 鉄鉱石 ③ 露天掘り ④ パイプライン

[問題]

次の各問いに答えよ。

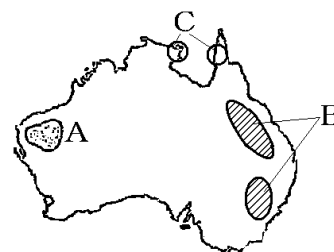
(1) Aの地域で産出される鉱産資源は何か。

(2) グレートディバイディング山脈の東側(地図のB)で多く産出される鉱産資源は何か。

(3) Cの地域で産出されるアルミニウムの原料となる鉱産資源は何か。

(4) 鉱産資源の豊かなオーストラリアでみられる、上図のような鉱山の掘り方を何というか。

(5) オーストラリアの鉱産資源は、世界の6州のうちどの州に多く輸出されているか。



[解答欄]

(1)	(2)	(3)	(4)
-----	-----	-----	-----

[解答](1) 鉄鉱石 (2) 石炭 (3) ボーキサイト (4) 露天掘り (5) アジア州

[要点：貿易の変化]

オーストラリアの輸出品は大きく変わってきた。1960年には輸出品の約4割を羊毛がしめていたが、現在では鉄鉱石、石炭、金、液化天然ガスなどの鉱産資源が中心になっている。輸入品は、1960年当時も現在も機械類がもっとも多い。

オーストラリアの輸出品目

1960年 19.4億ドル	羊毛 40.5%	小麦 7.7	肉類 7.2	
2017年 2302億ドル	鉄鉱石 21.1%	石炭 18.8	液化天然ガス 8.5	金 5.9 その他

オーストラリアはかつてイギリスの植民地であったため、1960年代の中ごろまでは、イギリスが最大の輸出相手国であった。しかし、近年、貿易相手国は、ヨーロッパ州からアジア州の国々へ変化した。1985年ごろは日本が最大の輸出相手国であったが、現在では、中国が最大の輸出相手国となっている。

順位	輸出(1960年)	輸出(2017年)
1位	イギリス(31.0%)	中国(33.4%)
2位	アメリカ(12.1%)	日本(14.6%)
3位	日本(9.5%)	韓国(6.6%)
4位	フランス(4.9%)	インド(5.0%)

※出題頻度「輸出品の変化：羊毛→鉄鉱石や石炭などの鉱産資源○」「輸入品：機械類○」「ヨーロッパ州→アジア州○」、「輸出相手国1位の変化イギリス→中国○」

[問題]

次の文章中の①～⑥に適語を入れよ。

オーストラリアの輸出品は大きく変わってきた。1960年には輸出品の約4割を(①)がしめていたが、現在では鉄鉱石、(②)、金、液化天然ガスなどの鉱産資源が中心になっている。輸入品は、1960年当時も現在も(③)類がもっとも多い。

オーストラリアはかつて(④)の植民地であったため、1960年代の中ごろまでは、(④)が最大の輸出相手国であった。しかし、近年、貿易相手国は、ヨーロッパ州から(⑤)州の国々へ変化した。1985年ごろは日本が最大の輸出相手国であったが、現在では、(⑥)が最大の輸出相手国となっている。

[解答欄]

①	②	③	④
⑤	⑥		

[解答]① 羊毛 ② 石炭 ③ 機械 ④ イギリス ⑤ アジア ⑥ 中国

[問題]

次の各問いに答えよ。

- (1) 1960年ごろのオーストラリアの輸出品の約4割をしめていた貿易品は何か。
 (2) 次のグラフは、オーストラリアの輸出品目を示している。X、Yにあてはまる鉱産資源名を答えよ。ただし、Xは主としてオーストラリアの西部、Yは東部で産出される。

オーストラリアの輸出品目(2017年)

X 21.1%	Y 18.8	8.5	金 5.9	その他
		液化天然ガス		

- (3) 1960年代の中ごろまで、オーストラリアの最大の輸出相手国は、かつてこの国を植民地としていた(①)であった。近年は日本が最大の輸出相手国であったが、現在では、(②)が最大の輸出相手国となっている。

[解答欄]

(1)	(2)X	Y	(3)①
②			

[解答](1) 羊毛 (2)X 鉄鉱石 Y 石炭 (3)① イギリス ② 中国

[その他]

[問題]

次の各問いに答えよ。

- (1) 次の文は、現在オーストラリアから日本に来る観光客や、日本からオーストラリアに行く観光客が多い理由を説明したものである。①、②にあてはまる語句をそれぞれ漢字2字で答えよ。
 ・(①)があまりないから。
 ・(②)が逆だから。
 (2) 近年、アルバイトをしながら長期間滞在できる制度を利用して、日本からオーストラリアへ行く若者が増えている。その制度を何というか。
 (3) 日本やオーストラリアなどの太平洋の国々は、アジア太平洋経済協力会議に参加している。アジア太平洋経済協力会議のアルファベットの略称を答えよ。

[解答欄]

(1)①	②	(2)	(3)
------	---	-----	-----

[解答](1)① 時差 ② 季節 (2) ワーキングホリデー (3) APEC

【FdText 製品版のご案内】

※ このファイルは、FdText 社会(9,600 円)の一部を PDF 形式に変換したサンプルで、印刷はできないようになっています。製品版の FdText 理科は Word の文書ファイルで、印刷・編集を自由に行うことができます。

※ FdText(理科・社会・数学)全分野の PDF ファイル、および製品版の購入方法は <http://www.fdtype.com/txt/> に掲載しております。

弊社は、FdText のほかに、

FdData 中間期末過去問(数学・理科・社会)(各 18,900 円) <http://www.fdtype.com/dat/>

FdData 入試過去問(数学・理科・社会)(各 16,200 円) <http://www.fdtype.com/dan/>
を販売しております。

【Fd 教材開発】 (092) 811-0960