

【FdText：中学社会公民：財政・社会保障・為替相場】

[ [財政／政府の役割・国民経済／景気変動と財政政策・金融政策／社会保障／  
公害の防止と環境保全／為替相場／グローバル化する日本経済／FdText 製品版のご案内／  
<http://www.fdtype.com/txt/> \]](#)

【】 財政・景気・社会保障

【】 財政

[要点：財政の仕組み]

政府のおこなう経済活動を<sup>ざいせい</sup>財政という。国の1年間の収入を<sup>さいにゅう</sup>歳入、支出を<sup>さいしゅつ</sup>歳出という。歳入の中心は税金(租税)<sup>そぜい</sup>であるが、最近では借金である<sup>こくさい</sup>国債の割合が異常に高くなっている。税金等で集めた資金を使って、政府は、<sup>こうきょう</sup>公共サービスを提供したり、<sup>しゃかいしほん</sup>社会資本を充実させたりする。国は毎年12月までに1年間の歳入と歳出の計画を立てて<sup>よきん</sup>予算を作成し、翌年の1月の通常国会に予算案を提出する。<sup>しんぎ</sup>国会で審議されて承認された後、4月からの新年度から予算が実行される。

※出題頻度「財政△」「歳入△」「税金(租税)△」「国債△」「歳出△」「予算△」

[問題]

次の文章中の①～⑤に適語を入れよ。

政府のおこなう経済活動を( ① )という。国の1年間の収入を( ② )、支出を( ③ )という。(②)の中心は税金(租税)であるが、最近では借金である( ④ )の割合が異常に高くなっている。税金等で集めた資金を使って、政府は、公共サービスを提供したり、社会資本を充実させたりする。国は毎年12月までに1年間の(②)と(③)の計画を立てて( ⑤ )を作成し、翌年の1月の通常国会に予算案を提出する。国会で審議されて承認された後、4月からの新年度から(⑤)が実行される。

[解答欄]

①	②	③	④
⑤			

[解答]① 財政 ② 歳入 ③ 歳出 ④ 国債 ⑤ 予算

[問題]

次の各問いに答えよ。

- (1) 国はさまざまな収入を得てさまざまな分野に支出を行うが、この活動を何というか。
- (2) 国の1年間の収入を何というか。
- (3) 国の1年間の支出を何というか。
- (4) 国の1年間の収入と支出に関する計画を何というか。
- (5) (4)を審議・議決する機関は何か。

[解答欄]

(1)	(2)	(3)	(4)
(5)			

[解答](1) 財政 (2) 歳入 (3) 歳出 (4) 予算 (5) 国会

[要点：税金の分類]

税金を納めなければならない人(納税者)と実際に税金を負担する人(担税者)が一致する税を 直接税 といい、納税者と担税者が一致しない税を 間接税 という。所得税や法人税や相続税は 直接税 で、消費税は 間接税 である。また、税金は、国に納める 国税 と地方公共団体に納める 地方税 に分類できる。

税の分類を表にまとめると、次のようになる。

	国税	地方税
直接税	所得税，法人税，相続税など	都道府県民税，市町村民税， 固定資産税，事業税，自動車税など
間接税	消費税，酒税，たばこ税など	地方消費税，ゴルフ場利用税など

※出題頻度「直接税○」「間接税○」「消費税○」「国税○」「地方税○」

[問題]

次の文章中の①～④に適語を入れよ。

税金を納めなければならない人(納税者)と実際に税金を負担する人(担税者)が一致する税を( ① )といい、納税者と担税者が一致しない税を( ② )という。所得税や法人税や相続税は(①)で、消費税は(②)である。また、税金は、国に納める( ③ )と地方公共団体に納める( ④ )に分類できる。

[解答欄]

①	②	③	④
---	---	---	---

[解答]① 直接税 ② 間接税 ③ 国税 ④ 地方税

[問題]

次の表は、日本の税について分類したものである。表中の①～④に適する語句を下の[ ]からそれぞれ選べ。

	( ③ )	( ④ )
( ① )	所得税，法人税 など	市町村民税，固定資 産税など
( ② )	消費税，酒税， 揮発油税など	ゴルフ場利用税 地方消費税

[ 国税 地方税 直接税 間接税 ]

[解答欄]

①	②	③	④
---	---	---	---

[解答]① 直接税 ② 間接税 ③ 国税 ④ 地方税

[問題]

次の各問いに答えよ。

- (1) 1989年から導入された、ほとんどの財やサービスについて、その売上額にかけられる税を何というか。
- (2) (1)は直接税か、間接税か。
- (3) 国税の中で直接税を3つあげよ。

[解答欄]

(1)	(2)	(3)
-----	-----	-----

[解答](1) 消費税 (2) 間接税 (3) 所得税，法人税，相続税

[要点：累進課税]

所得が多くなるにつれてを税率を高くする課税の方法を累進課税といい、所得税と相続税ではこの課税方法がとられている。累進課税は、納税者の負担能力に応じて課税し、負担のつりあいを図ろうとするものである。累進課税制度は、高額所得者からより多くの税を徴収し、社会保障制度などを通じて低額所得者に分配するはたらきをもつ。これを所得の再分配という。これに対し、消費税では、所得にかかわらず税率を一定にしている。税率が一定であるため、所得の少ない人ほど税の負担が重くなる傾向がある。

※出題頻度「累進課税◎」「所得の再分配△」「消費税は税率が一定であるため、所得の少ない人ほど税の負担が重くなる傾向がある○」

[問題]

次の文章中の①～③に適語を入れよ(または、適語を選べ)。

所得が多くなるにつれて税率を高くする課税の方法を( ① )といい、所得税と相続税ではこの課税方法がとられている。(①)は、納税者の負担能力に応じて課税し、負担のつりあいを図ろうとするものである。(①)制度は、高額所得者からより多くの税を徴収し、社会保障制度などを通じて低額所得者に分配するはたらきをもつ。これを所得の( ② )という。これに対し、消費税では、所得にかかわらず税率を一定にしている。税率が一定であるため、所得の少ない人ほど税の負担が③(重く／軽く)なる傾向がある。

[解答欄]

①	②	③
---	---	---

[解答]① 累進課税 ② 再分配 ③ 重く

[問題]

次の各問いに答えよ。

(1) 収入が多くなるにつれて税率を高くする制度を何というか。

(2) 次の[ ]の中で(1)によって税率が決められるものを2つあげよ。

[ 消費税 所得税 法人税 相続税 酒税 ]

(3) 消費税などは、所得額に関係なく一定の割合で課税される。この仕組みの問題点を「所得」「負担」という語句を使って説明せよ。

[解答欄]

(1)	(2)
(3)	

[解答](1) 累進課税 (2) 所得税, 相続税 (3) 税率が一定であるため、所得の少ない人ほど税の負担が重くなること。

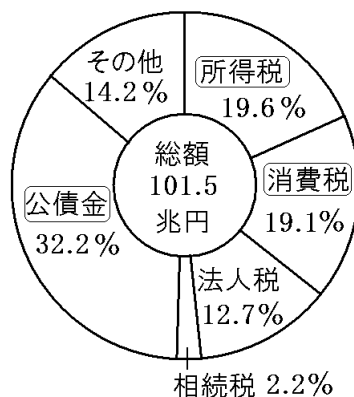
[要点：国の歳入]

国の歳入の中心は租税である。租税の中で一番大きい割合を占めるのは、直接税である所得税である。次いで多いのが、間接税である消費税と直接税である法人税である。所得税は個人の所得に対してかけられる税で、所得が多いほど税率が高くなる累進課税になっている。法人税は企業の利益に対してかけられる税である。

右の歳入のグラフを見て驚くべきことは、公債金が歳入全体の約3分の1をしめていることである。公債金は、国が国債を発行して国民から資金を借りる、いわば国の借金である。国が発行する国債や地方公共団体が発行する地方債を公債という。

※出題頻度「所得税○」「消費税○」「公債金○」「国債○」「地方債△」「公債△」

国の歳入のうちわけ(2019年度)




[問題]

次の文章中の①～⑥に適語を入れよ。

国の歳入の中心は租税である。租税の中で一番大きい割合を占めるのは、直接税である( ① )(右図の A)である。次いで多いのが、間接税である( ② )(B)と直接税である法人税である。(①)は個人の所得に対してかけられる税で、所得が多いほど税率が高くなる( ③ )になっている。法人税は企業の利益に対してかけられる税である。

右の歳入のグラフを見て驚くべきことは、( ④ )(E)が歳入全体の約3分の1をしめていることである。(④)は、国が( ⑤ )を発行して国民から資金を借りる、いわば国の借金である。国が発行する(⑤)や地方公共団体が発行する( ⑥ )を公債という。

国の歳入のうちわけ(2019年度)



[解答欄]

①	②	③	④
⑤	⑥		

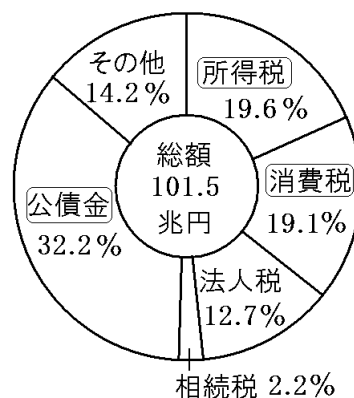
[解答]① 所得税 ② 消費税 ③ 累進課税 ④ 公債金 ⑤ 国債 ⑥ 地方債

[問題]

次の文章を読み、グラフを見て、後の各問いに答えよ。

歳入・歳出の予算で歳入を見てみると、直接税のうち多くの割合を占めるのが①所得税と( b )である。間接税で多いのが( a )である。グラフのように、歳入の約32%は( c )である。②国が多くの借金をかかえていることがわかる。

国の歳入のうちわけ(2019年度)



- (1) a, b, cに適切な語句を入れよ。
- (2) 下線部①の場合、所得が多いほど税率が高くなる。このしくみを何というか。
- (3) 下線部②から、どのようなことが考えられるか。次の文の( )にあてはまる語句を書け。

税収入が( )していることが考えられる。

[解答欄]

(1)a	b	c	(2)
(3)			

[解答](1)a 消費税 b 法人税 c 公債金 (2) 累進課税 (3) 不足

[問題]

次の各問いに答えよ。

- (1) 税収入の不足を補うために、国や地方公共団体が発行する債券を何というか。
- (2) (1)には、国が発行する( ① )と、地方公共団体が発行する( ② )がある。①, ②に適切な語を入れよ。
- (3) (1)の発行は慎重に行う必要がある。その理由を説明せよ。

[解答欄]

(1)	(2)①	②
(3)		

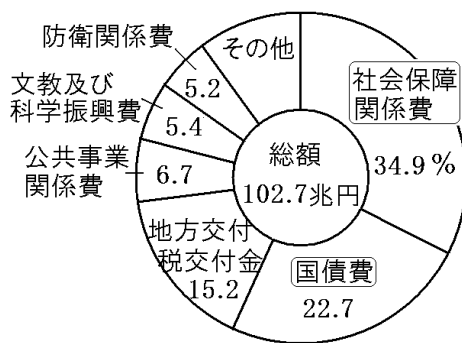
[解答](1) 公債 (2)① 国債 ② 地方債 (3) 公債は、国や地方公共団体の借金であるから。

[要点：国の歳出]

国の歳出の上位3つは<sup>しゃかいほしょうかんけいひ</sup>社会保障関係費、<sup>こくさいひ</sup>国債費、<sup>ちほうこうふせいこうふきん</sup>地方交付税交付金である。社会保障関係費は、医療費、年金、公的扶助などのための費用である。地方交付税交付金は<sup>ちうてきふじよ</sup>税収の少ない地方自治体に対して支出される。国債費は、国の国民に対する借金である国債の返済や利子にあてるための経費で、国の財政支出にしめる割合は約23%と非常に高い水準にある。このほか、公共事業関係費は道路・橋の整備等のための支出で、文教及び科学振興費は義務教育にかかる費用などである。

※出題頻度「社会保障関係費○」「公債費○」

国の歳出の内訳(2020年度)



[問題]

次の文章中の①～③に適語を入れよ。

国の歳出の上位3つは社会保障関係費、国債費、地方交付税交付金である。( ① )は、医療費、年金、公的扶助などのための費用である。( ② )は税収の少ない地方自治体に対して支出される。( ③ )は、国の国民に対する借金である国債の返済や利子にあてるための経費で、国の財政支出にしめる割合は約23%と非常に高い水準にある。このほか、公共事業関係費は道路・橋の整備等のための支出で、文教及び科学振興費は義務教育にかかる費用などである。

[解答欄]

①	②	③
---	---	---

[解答]① 社会保障関係費 ② 地方交付税交付金 ③ 国債費

[問題]

右のグラフは国の歳出を表している。グラフ中のA、Bは何か。次の説明を参考にそれぞれ答えよ。

A：国民の生存権を守るために使われる。

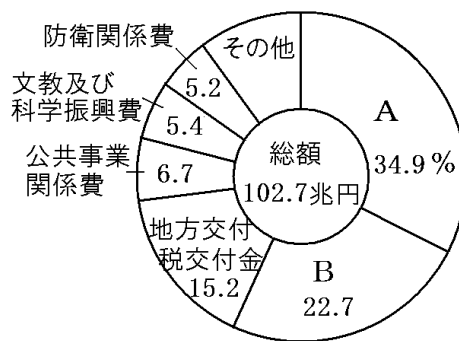
B：国の借金を返すために使われる。

[解答欄]

A	B
---	---

[解答]A 社会保障関係費 B 国債費

国の歳出の内訳(2020年度)



【】政府の役割・国民経済

[要点：市場経済における政府の役割]

市場経済において、政府は次の3つの役割をになっている。

- ・道路、港湾、学校などの社会資本しゃかいしほんを供給し、教育や医療などの公共サービスこうきょうを提供する。
- ・累進課税るいしんかぜいや社会保障、雇用対策を行うことで、経済格差の是正を行う。このはたらきを、所得の再分配しよとくさいぶんぱいという。
- ・増税や減税を行ったり、公共投資を増減させたりする財政政策ざいせいせいさくを行って、景気を安定させる。

※出題頻度「社会資本○」「公共サービス○」「所得の再分配○」「財政政策○」

[問題]

市場経済において、政府は次の3つの役割をになっている。文中の①～④に適語を入れよ。

- ・道路、港湾、学校などの( ① )を供給し、教育や医療などの公共( ② )を提供する。
- ・累進課税や社会保障、雇用対策を行うことで、経済格差の是正を行う。このはたらきを、所得の( ③ )という。
- ・増税や減税を行ったり、公共投資を増減させたりする( ④ )政策を行って、景気を安定させる。

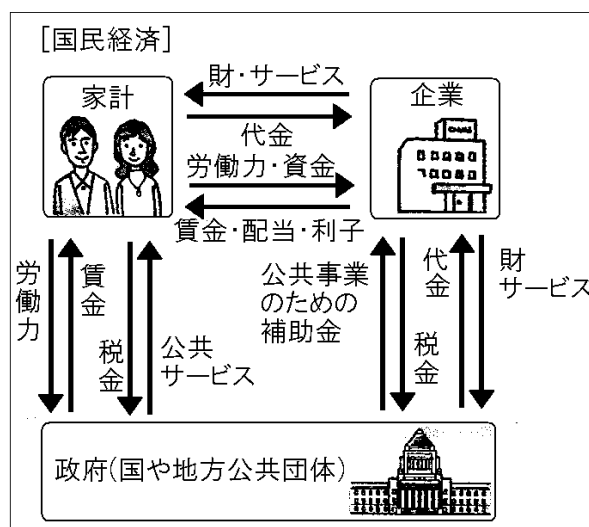
[解答欄]

①	②	③	④
---	---	---	---

[解答]① 社会資本 ② サービス ③ 再分配 ④ 財政

[要点：国民経済と政府]

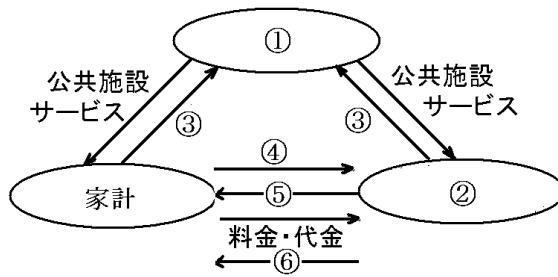
右図のように、家計、企業、政府の三者の間でお金・もの・サービスが交換されていく経済のしくみを国民経済という。家計は、企業から財やサービスを受け取り、かわりに代金を支払っている。また、家計は、企業に労働力を提供するかわりに、賃金を受け取っている。家計は、政府に税金をおさめて、必要な公共サービスを受け、企業も政府に税金をおさめて、産業に必要な公共サービスを受けている。  
 ※この単元はときどき出題される。





[問題]

次の図を見て、各問いに答えよ。



(1) 図中の①～⑥にあてはまる語句を、次の[ ]からそれぞれ選べ。

[もの・サービス 賃金 政府 企業 税金 労働]

(2) 図のように、家計、①、②の三者の間でお金・もの・サービスが交換されていく経済のしくみを何というか。

[解答欄]

(1)①	②	③	④
⑤	⑥	(2)	

[解答](1)① 政府 ② 企業 ③ 税金 ④ 労働 ⑤ 賃金 ⑥ もの・サービス

(2) 国民経済

【】 景気変動と財政政策・金融政策

[要点：景気変動]

好景気(好況)のときは、消費が拡大して商品の売れ行きが良くなるので、企業は生産を拡大する。賃金が高くなって家計の所得が増加する。需要が供給を上回るため物価が上がるインフレーションが起こる。不景気(不況)になると、売れ行きが悪くなるので、企業は生産を縮小する。家計の所得は減少する。物価が下がるデフレーションがおこる。好景気と不景気が交互にくり返されることを景気変動という。

※出題頻度「好景気○」「インフレーション○」「不景気○」「デフレーション○」

「景気変動○」

[問題]

次の文章中の①～⑤に適語を入れよ。

( ① )のときは、消費が拡大して商品の売れ行きが良くなるので、企業は生産を拡大する。賃金が高くなって家計の所得が増加する。需要が供給を上回るため物価が上がる( ② )が起こる。( ③ )になると、売れ行きが悪くなるので、企業は生産を縮小する。家計の所得は減少する。物価が下がる( ④ )がおこる。好景気と不景気が交互にくり返されることを( ⑤ )という。

[解答欄]

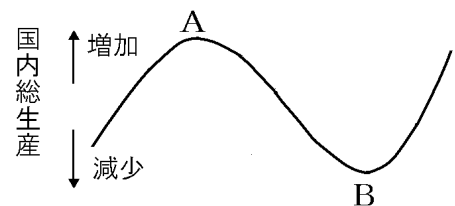
①	②	③	④
⑤			

[解答]① 好景気(好況) ② インフレーション ③ 不景気(不況) ④ デフレーション  
⑤ 景気変動

[問題]

次の各問いに答えよ。

- (1) 右の図中の A, B の状態をそれぞれ何というか。  
(2) 図のように A と B の時期が交互にくり返すことを何というか。



- (3) 次のことがらは A, B のどちらのことか。A, B にあてはまるものを下からそれぞれ選んで記号を書け。

- ア 商品がよく売れる。                      イ 商品が余ってしまう。  
ウ 失業者が増える。                      エ 企業は生産を拡大する。  
オ 企業は生産を縮小する。              カ 賃金が高くなる。              キ 物価が上昇する。

- (4) 物価が上昇する現象を何というか。  
(5) 物価が下落する現象を何というか。

[解答欄]

(1)A	B	(2)
(3)A	B	(4)
(5)		

[解答](1)A 好景気(好況) B 不景気(不況) (2) 景気変動 (3)A ア, エ, カ, キ  
B イ, ウ, オ (4) インフレーション (5) デフレーション

[要点：財政政策]

政府が歳入さいにゅうや歳出さいしゅつを通じて景気けいきを安定させる政策を財政政策ざいせいせいさくという。不景気になると、政府は公共投資こうきょうとうしを増やしたり、減税げんぜいを行ったりして、経済を活性化させようとする。

好景気のときには、景気が過熱かねつして物価が上昇するインフレーションがおきるおそれがある。このときには、政府は、公共投資を減らしたり、増税をして、景気の過熱をおさえようとする。

※出題頻度「財政政策○」「不景気→公共投資を増やす、減税○」「景気過熱→公共投資を減らす、増税○」

[問題]

次の文章中の①～⑤に適語を入れよ(または、適語を選べ)。

政府が歳入や歳出を通じて景気を安定させる政策を( ① )という。不景気になると、政府は公共投資を②(増やし/減らし)たり、③(増税/減税)を行ったりして、経済を活性化させようとする。好景気ときには、景気が過熱して物価が上昇するインフレーションがおきるおそれがある。このときには、政府は、公共投資を④(増やし/減らし)たり、⑤(増税/減税)をして景気の過熱をおさえようとする。

[解答欄]

①	②	③	④
⑤			

[解答]① 財政政策 ② 増やし ③ 減税 ④ 減らし ⑤ 増税

[問題]

次の各問いに答えよ。

- (1) 政府が歳出の増減や減税・増税などを行うことで経済の安定をはかることを何政策というか。
- (2) 不景気るとき、経済活動を活発化させるためには、財政支出を減らしたらよいか、増やしたらよいか。
- (3) 不景気るときは、公共事業を増やすか減らすか。
- (4) 不景気るとき、経済活動を活発化させるためには、減税するか増税するか。

[解答欄]

(1)	(2)	(3)	(4)
-----	-----	-----	-----

[解答](1) 財政政策 (2) 増やす (3) 増やす (4) 減税する

[要点：金融政策]

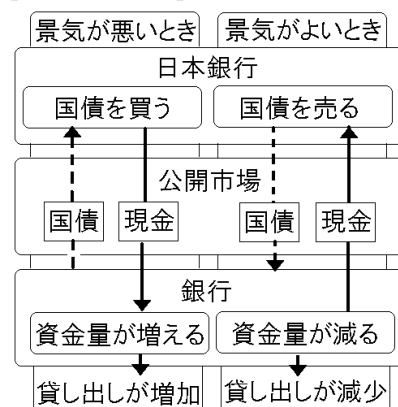
日本銀行の金融政策は、公開市場操作が中心である。

日本銀行は、不景気るときには、銀行が持つ国債などを買い上げ、代金を銀行に支払う。すると、銀行は手もとに貸し出せる資金が増えるため、企業などに積極的に貸し出そうと貸し出し金利を引き下げる。企業の中には安い金利で銀行から資金を借りて設備投資を行うところも出て、生産活動が活発化し、景気は回復へ向かう。

好景気で景気が過熱してインフレーションのおそれが出てきたときは、日本銀行は銀行に国債などを売って、代金を受け取る。銀行は手持ちの資金が減少するため貸し出しに慎重になり、貸し出し金利を引き上げる。

※出題頻度「金融政策○」「公開市場操作○」「不景気→日銀が国債を買う○」

[公開市場操作]



[問題]

次の文章中の①～④に適語を入れよ(または、適語を選べ)。

日本銀行の金融政策は、( ① )操作が中心である。日本銀行は、不景気るときには、国債などを②(買う／売る)。すると、銀行は手もとに貸し出せる資金が増えるため、企業などに積極的に貸し出そうと貸し出し金利を引き③(上げる／下げる)。企業の中には安い金利で銀行から資金を借りて設備投資を行うところも出て、生産活動が活発化し、景気は回復へ向かう。好景気で景気が過熱してインフレーションのおそれが出てきたときは、日本銀行は国債などを④(買う／売る)。

[解答欄]

①	②	③	④
---	---	---	---

[解答]① 公開市場 ② 買う ③ 下げる ④ 売る

[問題]

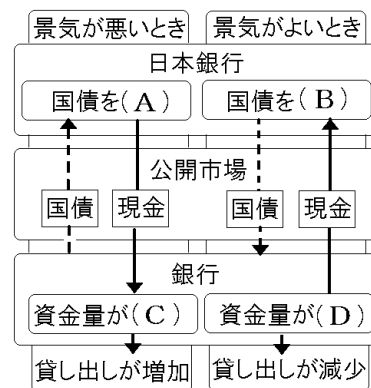
次の各問いに答えよ。

(1) 資料の A～D にあてはまる語句を次の[ ]から 1 つずつ選べ。

[ 売る 買う 増える 減る ]

(2) 銀行の資金量を変化させ、景気や物価に影響を与えようとする、日本銀行の政策を何というか。

(3) (2)の方法として、国債の売買を通して銀行の資金量を変化させる操作を何というか。



[解答欄]

(1)A	B	C	D
(2)	(3)		

[解答](1)A 買う B 売る C 増える D 減る (2) 金融政策 (3) 公開市場操作

## 【】 社会保障

[要点：社会保障の4本柱]

日本の<sup>しゃかいほしょうせいど</sup>社会保障制度は、「すべて国民は、健康で文化的な最低限度の生活を営む権利を有する」という憲法 25 条の<sup>せいぞんけん</sup>生存権の規定にもとづいて整備された。日本の社会保障制度は、社会保険(医療保険，年金，<sup>こよう</sup>雇用保険)，社会福祉(母子家庭，高齢者，障害者の福祉)，公的扶助(<sup>こうてきふじょ</sup>生活保護など)，公衆衛生(<sup>こうしゅうえいせい</sup>伝染病の予防や下水道の整備)の 4 つを基本としている。

※出題頻度「社会保険◎」「社会福祉◎」「公的扶助◎」「公衆衛生◎」

[問題]

次の文章中の①～⑤に適語を入れよ。

日本の社会保障制度は、「すべて国民は、健康で文化的な最低限度の生活を営む権利を有する」という憲法 25 条の( ① )権の規定にもとづいて整備された。日本の社会保障制度は、( ② )(医療保険，年金，雇用保険)，( ③ )(母子家庭，高齢者，障害者の福祉)，( ④ )(生活保護など)，( ⑤ )(伝染病の予防や下水道の整備)の 4 つを基本としている。

[解答欄]

①	②	③	④
⑤			

[解答]① 生存 ② 社会保険 ③ 社会福祉 ④ 公的扶助 ⑤ 公衆衛生

[問題]

次の各問いに答えよ。

- (1) 日本国憲法( ① )条は「すべて国民は、( ② )で文化的な最低限度の生活を営む権利を有する。」と定めている。①，②に適語を入れよ。
- (2) 社会保障制度について、次の①～④は何という制度か。
  - ① ふだん保険料を支払い，病気・高齢・失業などのときに給付を受ける。
  - ② 生活に困っている人に対して，生活保護法に基づいて援助を行う。
  - ③ 児童・母子世帯などの生活を保障し，その福祉をすすめる。
  - ④ 伝染病予防・予防接種などのサービスを提供する。

[解答欄]

(1)①	②	(2)①	②
③	④		

[解答](1)① 25 ② 健康 (2)① 社会保険 ② 公的扶助 ③ 社会福祉 ④ 公衆衛生

[要点：社会保険]

社会保障制度の中心となっているのは社会保険で、病気や事故・失業や老後の生活にそなえて、加入者が日ごろから少しずつ、かけ金を積み立てておき、必要なときに給付を受けるしくみになっている。社会保険には次のようなものがある。

- ・医療保険：病気やけがの際に給付を受ける。
- ・年金保険：一定の年齢に達した後現金給付を受ける。
- ・介護保険：高齢化が進むなか、2000年から導入され、40歳以上の国民が保険料を負担。
- ・雇用保険：失業した人に必要な給付を行う。
- ・労災保険：労働者が、業務上の病気やけがをしたときに給付される。

※出題頻度「医療保険○」「年金保険○」「介護保険◎」「雇用保険△」「労災保険△」

[問題]

次の文章中の①～⑥に適語を入れよ。

社会保障制度の中心となっている( ① )には次のようなものがある。

- ・( ② )保険：病気やけがの際に給付を受ける。
- ・( ③ )保険：一定の年齢に達した後現金給付を受ける。
- ・( ④ )保険：高齢化が進むなか、2000年から導入され、40歳以上の国民が保険料を負担。
- ・( ⑤ )保険：失業した人に必要な給付を行う。
- ・( ⑥ )保険：労働者が、業務上の病気やけがをしたときに給付される。

[解答欄]

①	②	③	④
⑤	⑥		

[解答]① 社会保険 ② 医療 ③ 年金 ④ 介護 ⑤ 雇用 ⑥ 労災

[問題]

次の各問いに答えよ。

- (1) わが国の社会保険制度のうち、一定の年齢に達してから、あるいは障がいを負ったときなどに現金給付を受ける保険を何というか。
- (2) 加入者が一定の掛け金を出し合い、病気やけがの際に給付を受ける保険を何というか。
- (3) 高齢化が進むなか、自宅や施設で保健・医療・福祉サービスが総合的に受けられることを目的とした制度がつけられた。2000年から実施されているこの保険は何か。
- (4) (3)の保険の保険料は何歳から支払い始めるか。
- (5) 失業した人に国が必要な給付を行うなどを目的にした制度は何か。
- (6) 労働者が、業務上の病気やけがをしたときに給付されるのは何という保険か。

[解答欄]

(1)	(2)	(3)	(4)
(5)	(6)		

[解答](1) 年金保険 (2) 医療保険 (3) 介護保険 (4) 40歳 (5) 雇用保険 (6) 労災保険

[要点：少子高齢化と社会保障]

現在の日本は、すでに<sup>しょうしこうれい</sup>少子高齢社会に突入しているが、今後もさらに人口の高齢化が進むと予想されている。高齢者の人口が増えると、<sup>ねんきんほけん</sup>年金保険・<sup>いりょう</sup>医療保険・<sup>かいご</sup>介護保険などの社会保険のための支出、<sup>こうてきふじょ</sup>公的扶助(生活保護)の支出、その他の社会保障の給付費が増加する。その一方で、少子化の影響で現役世代の人口が減少していくため、<sup>しゅうと</sup>税金と保険料収入が減少していく。したがって、財源が不足し、このままでは制度が維持できなくなるおそれがある。

※出題頻度「少子高齢化○」「社会保障の給付が増加、現役世代の人口が減少○」

[問題]

次の文章中の①～⑤に適語を入れよ(または、適語を選べ)。

現在の日本は、すでに( ① )社会に突入しているが、今後もさらに人口の高齢化が進むと予想されている。高齢者の人口が増えると、年金保険・医療保険・介護保険などの社会保険のための支出、公的扶助(生活保護)の支出、その他の社会保障の給付費が②(増加／減少)する。その一方で、( ③ )化の影響で現役世代の人口が④(増加／減少)していくため、税金と保険料収入が⑤(増加／減少)していく。したがって、財源が不足し、このままでは制度が維持できなくなるおそれがある。

[解答欄]

①	②	③	④
⑤			

[解答]① 少子高齢 ② 増加 ③ 少子 ④ 減少 ⑤ 減少

[問題]

次の各問いに答えよ。

- (1) 今の日本は、高齢者の割合が増えて、生まれてくる子どもの数が減っている。このことを何というか。
- (2) (1)が進むと、年金などの社会保障の給付は①(増える／減る)のに、現役世代の人口が②(増え／減り)、税金と保険料収入は③(増加／減少)するという問題が起こる。①～③の( )内から適語を選べ。



[解答欄]

(1)	(2)①	②	③
-----	------	---	---

[解答](1) 少子高齢化 (2)① 増える ② 減り ③ 減少

【】 これからの経済と社会

【】 公害の防止と環境保全

[要点：公害の防止]

四大公害は、熊本県水俣湾の<sup>みなまたわん</sup>水俣病<sup>みなまたびょう</sup>、三重県四日市の<sup>しにち</sup>四日市ぜんそく<sup>そく</sup>、富山県神通川流域の<sup>じんづうがわ</sup>イタイイタイ病<sup>びょう</sup>、新潟県阿賀野川流域の<sup>あがのがわ</sup>新潟水俣病<sup>しんじょうすいびょう</sup>の4つである。公害を防止し、<sup>かんきょうおせん</sup>環境汚染をくいとめるために、1967年に<sup>かんきょうたいさく</sup>公害対策基本法が作られ、1971年には<sup>かんきょう</sup>環境庁(現在は環境省)が新設された。また、1993年、<sup>かんきょう</sup>環境基本法が作られた。

※出題頻度「水俣病○」「四日市ぜんそく○」

「イタイイタイ病○」「新潟水俣病○」

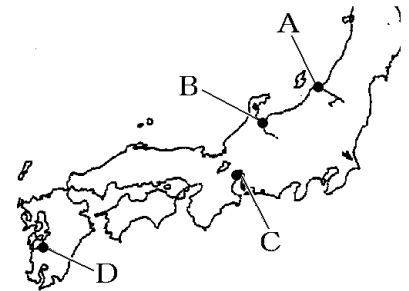
「環境基本法○」



[問題]

次の各問いに答えよ。

- (1) 地図中の A～D は、四大公害とよばれた公害が発生したところである。A～D で発生した公害名をそれぞれ答えよ。
- (2) 公害の被害が広がると、公害追放を訴える何という運動が各地で展開されたか。
- (3) 公害を防止し、環境汚染をくいとめるために、1967年につくられた法律は何か。
- (4) 1971年、環境行政の核となる役所が新設されたが、何という役所か。
- (5) 1993年には、(3)をより発展させた法律が制定されたが、何という法律か。



[解答欄]

(1)A	B	C
D	(2)	(3)
(4)	(5)	

[解答](1)A 新潟水俣病 B イタイイタイ病 C 四日市ぜんそく D 水俣病 (2) 住民運動 (3) 公害対策基本法 (4) 環境庁 (5) 環境基本法

[要点：循環型社会に向けて]

自然から採取する資源を極力少なくするとともに、資源を有効に活用し、廃棄物を最小限におさえる社会を循環<sup>じゅんかん</sup>型社会という。その実現を目指して、循環型社会形成推進基本法が制定された。3Rとは、ゴミを減らすリデュース、まだ使える物を再使用するリユース、再生利用を行うリサイクルである。

※出題頻度「循環型社会○」「リデュース△」「リユース△」「リサイクル△」

[問題]

次の文章中の①～④に適語を入れよ。

自然から採取する資源を極力少なくするとともに、資源を有効に活用し、廃棄物を最小限におさえる社会を( ① )型社会という。その実現を目指して、(①)型社会形成推進基本法が制定された。3Rとは、ゴミを減らす( ② ), まだ使える物を再使用する( ③ ), 再生利用を行う( ④ )である。

[解答欄]

①	②	③	④
---	---	---	---

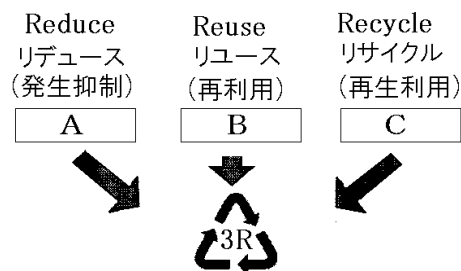
[解答]① 循環 ② リデュース ③ リユース ④ リサイクル

[問題]

次の各問いに答えよ。

- (1) 自然から採取する資源を極力少なくするとともに、資源を有効に活用し、廃棄物を最小限におさえる社会を何というか。
- (2) (1)を目指して、制定された法律は何か。
- (3) 次のア～ウのうち、右の図中のA～Cのそれぞれにあてはまる事例はどれか。1つずつ選び、その記号を書け。

- ア 分別回収に協力する。  
 イ 容器をくり返し使う。  
 ウ 買い物でマイバッグを使う。



[解答欄]

(1)	(2)	(3)A
B	③	

[解答](1) 循環型社会 (2) 循環型社会形成推進基本法 (3) A ウ B イ C ア

## 【】 為替相場

[要点：為替相場]

外国と貿易を行うときなどには、通貨<sup>つうか</sup>どうしを交換<sup>こうかん</sup>することが必要になるが、そのときの通貨間の交換比率を<sup>かわせそうば</sup>為替相場という。為替相場は世界経済の状況を反映して変化する。例えば、1ドル=100円が1ドル=90円になると、それまで100円していたアメリカ製の1ドルの商品が90円で買えることになる。これは円の貨幣<sup>かへい</sup>価値<sup>かち</sup>が上がったことを意味する。1ドル=〇〇円の「〇〇」の数字が小さくなれば、円の価値が上がることになるが、これを円高<sup>えんだか</sup>という。円高になれば、アメリカの商品が割安になるので、アメリカからの輸入が増え、日本からの輸出は減ることになる。逆に、1ドル=〇〇円の「〇〇」の数字が大きくなれば、円の価値が下<sup>えんやす</sup>がる円安になり、アメリカからの輸入が減少し、日本からの輸出は増加することになる。

※出題頻度「為替相場〇」「円高〇」「円安〇」

## 【問題】

次の文章中の①～⑦に適語を入れよ(または、適語を選べ)。

外国と貿易を行うときなどには、通貨どうしを交換することが必要になるが、そのときの通貨間の交換比率を( ① )という。(①)は世界経済の状況を反映して変化する。例えば、1ドル=100円が1ドル=90円になると、それまで100円していたアメリカ製の1ドルの商品が90円で買えることになる。これは円の貨幣価値が②(上/下)がったことを意味する。1ドル=〇〇円の「〇〇」の数字が小さくなれば、円の価値が②(上/下)がることになるが、これを③(円高/円安)という。(③)になれば、アメリカの商品が割安になるので、アメリカからの輸入が④(増え/減り)、日本からの輸出は⑤(増える/減る)ことになる。逆に、1ドル=〇〇円の「〇〇」の数字が大きくなれば、円の価値が⑥(上/下)がる⑦(円高/円安)になる。

## 【解答欄】

①	②	③	④
⑤	⑥	⑦	

【解答】① 為替相場 ② 上 ③ 円高 ④ 増え ⑤ 減る ⑥ 下 ⑦ 円安

## 【問題】

次の各問いに答えよ。

- (1) 通貨間の交換比率を何というか。
- (2) (1)に関する新聞記事で、ある日は「1ドルが110円」であったものが、翌月は「1ドルが108円」となっていた。このような動きは、円高であるのか、円安であるか。
- (3) (2)のとき、①輸出、②輸入はそれぞれ増えるか。減るか。

[解答欄]

(1)	(2)	(3)①	②
-----	-----	------	---

[解答](1) 為替相場 (2) 円高 (3)① 減る ② 増える

[問題]

次の各問いに答えよ。

(1) 円の価値が, ①, ②のように外国通貨に対し上下することをそれぞれ何というか。

① 円の価値が上がること ② 円の価値が下がること

(2) 海外旅行に行くなら, (1)の①と②とどちらが有利か。

[解答欄]

(1)①	②	(2)
------	---	-----

[解答](1)① 円高 ② 円安 (2) ①

## 【】 グローバル化する日本経済

[要点：貿易の役割]

各国が有利な条件で生産できる商品の生産に力を入れ、たがいに得意な商品を輸出し、不得意な商品を輸入することを国際分業<sup>こくさいぶんぎょう</sup>という。他国との間で、関税など自由な輸出入のさまたげとなる仕組みをできるだけ減らし、貿易を活性化しようとすることを貿易の自由化という。

※出題頻度「国際分業△」「貿易の自由化△」

[問題]

次の文章中の①、②に適語を入れよ。

各国が有利な条件で生産できる商品の生産に力を入れ、たがいに得意な商品を輸出し、不得意な商品を輸入することを( ① )分業という。他国との間で、関税など自由な輸出入のさまたげとなる仕組みをできるだけ減らし、貿易を活性化しようとすることを貿易の( ② )という。

[解答欄]

①	②
---	---

[解答]① 国際 ② 自由化

[問題]

次の各問いに答えよ。

- (1) 国と国との間で行われる商品の取り引きを何というか。
- (2) 各国が有利な条件で生産できる商品の生産に力を入れ、たがいに得意な商品を輸出し、不得意な商品を輸入することを何というか。
- (3) 他国との間で、関税など自由な輸出入のさまたげとなる仕組みをできるだけ減らし、(1)を活性化しようとする何を何というか。

[解答欄]

(1)	(2)	(3)
-----	-----	-----

[解答](1) 貿易 (2) 国際分業 (3) 貿易の自由化

[要点：日本の貿易の変化]

日本は戦後、原材料を輸入して工業製品を輸出する加工貿易<sup>かこうぼうえき</sup>で貿易黒字を続けて来た。しかし、2008年に起こった世界金融危機<sup>せかいきんゆう</sup>以降の極端な円高などによって、日本企業は、工場の海外移転を行い、これによって産業の空洞化<sup>くうどうか</sup>が進んだ。この背景には、経済のグローバル化の進展で、多国籍企業<sup>たこくせき</sup>の海外展開が加速していることがあげられる。

※この単元はときどき出題される。

[問題]

次の文章中の①～④に適語を入れよ。

日本は戦後、原材料を輸入して工業製品を輸出する( ① )貿易で貿易黒字を続けて来た。しかし、2008年に起こった世界金融危機以降の極端な( ② )などによって、日本企業は、工場の海外移転を行い、これによって産業の( ③ )化が進んだ。この背景には、経済のグローバル化の進展で、( ④ )企業の海外展開が加速していることがあげられる。

[解答欄]

①	②	③	④
---	---	---	---

[解答]① 加工 ② 円高 ③ 空洞 ④ 多国籍

[問題]

次の各問いに答えよ。

- (1) 日本は戦後、原材料を輸入して工業製品を輸出してきた。このような貿易を何というか。
- (2) 2008年にアメリカの大手投資銀行の破綻をきっかけに金融不安が広がり、世界中の株価が急落したことを何というか。
- (3) 海外に現地籍の会社を持ち、世界的規模で活動する企業を何というか。
- (4) 企業が工場などの生産拠点を国内から国外に移すことにより、国内の産業が衰退することを何というか。

[解答欄]

(1)	(2)	(3)	(4)
-----	-----	-----	-----

[解答](1) 加工貿易 (2) 世界金融危機 (3) 多国籍企業 (4) 産業の空洞化

**【FdText 製品版のご案内】**

※ このファイルは、FdText 社会(9,600 円)の一部を PDF 形式に変換したサンプルで、印刷はできないようになっています。製品版の FdText 理科は Word の文書ファイルで、印刷・編集を自由に行うことができます。

※ FdText(理科・社会・数学)全分野の PDF ファイル、および製品版の購入方法は <http://www.fdtype.com/txt/> に掲載しております。

弊社は、FdText のほかに、

FdData 中間期末過去問(数学・理科・社会)(各 18,900 円) <http://www.fdtype.com/dat/>

FdData 入試過去問(数学・理科・社会)(各 16,200 円) <http://www.fdtype.com/dan/>

を販売しております。

**【Fd 教材開発】 (092) 811-0960**