

【】 鎌倉時代

【】 鎌倉幕府の成立

[鎌倉幕府の成立]

[問題1]

次の各問いに答えよ。

- (1) 壇ノ浦の戦いで、源氏の総大将として平氏をほろぼしたのは誰か。



- (2) 右の肖像画に描かれている人物はだれか。

- (3) 1185年、(2)の人物は朝廷にせまって(①)と(②)を置くことを認めさせた。  
 (①)は国ごとにおかれ、御家人の統率や殺人などの重い犯罪の取り締まりにあたった。(②)は荘園ごとにおかれ、年貢の取り立てなどにあたった。

- (4) ①(2)の人物は朝廷からどんな位をさずけられたか。  
 ②また、それは何年のことか。

(1) 源義経
(2) 源頼朝
(3)① 守護
② 地頭
(4)① 征夷大將軍
② 1192年

--

[問題2]

次の各問いに答えよ。

- (1) 1185年、( )の戦いで平氏が源氏によってほろぼされた。

- (2) 平氏をほろぼした後、源頼朝は守護・地頭をおくことを朝廷に認めさせたが、それは何年のことか。

- (3) ①守護、②地頭は、それぞれどんなところに置かれたか。

- (4) 頼朝は、平氏の滅亡後、弟の(①)をかくまったことを口実に、(②)氏を攻め滅ぼした。こうして東北地方にも幕府の支配が及ぶようになった。(②)氏のかつての繁栄を今に伝える建造物として、(③)寺金色堂が残されている。(②)氏の本拠地となった町は(④)である。

(1) 壇ノ浦
(2) 1185年
(3)① 国ごと
② 荘園や公領ごと
(4)① 源義経
② 奥州藤原
③ 中尊
④ 平泉

[問題 3]

次の各問いに答えよ。

- (1) 壇ノ浦の合戦が行われた場所を地図中の A～E より選べ。
- (2) 鎌倉の位置を地図中の A～E より選べ。



(1) E
(2) A

--

[問題4]

次の各問いに答えよ。

- (1) 鎌倉幕府を開いた人物は誰か。
- (2) 鎌倉幕府がおかれたのは現在の①何県の②何市か。
- (3) 鎌倉幕府が開かれて、1333年に滅亡するまでの時代を何時代というか。
- (4) 鎌倉幕府の組織で、御家人の統率にあたったのは( ① ), 御家人からの訴えを裁いたのが( ② ), 一般政務や財政をつかさどったのが( ③ )である。
- (5) 頼朝の死後、幕府の実権は( ① )氏に移り、以後(①)氏が( ② )の地位を独占した。

(1) 源頼朝
(2)① 神奈川県 ② 鎌倉市
(3) 鎌倉時代
(4)① 侍所 ② 問注所 ③ 政所
(5)① 北条 ② 執権

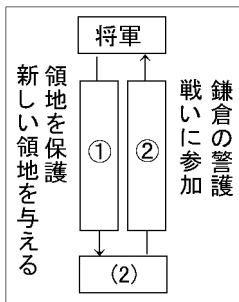
[御恩と奉公]

[問題 5]

次の文を読んで、後の各問いに答えよ。

鎌倉幕府の初代将軍の( ) は、彼と主従関係を結んだ武士を統率し、武士による政治のしくみを整えていった。

- (1) 文中の( )にあてはまる人名を答えよ。
- (2) 下線部について、このような武士は何と呼ばれたか。
- (3) 右図について、①, ②にあてはまる語句を答えよ。



(1) 源頼朝
(2) 御家人
(3)① 御恩 ② 奉公

--

[問題6]

次の各問いに答えよ。

- (1) 将軍と主従関係を結んだ武士を何というか。
- (2) 源頼朝は、御恩と奉公で結ばれた主従関係を基礎にして、武家政治を始めた。この御恩とは、どのようなことをいうか。
- (3) 奉公の内容を、「戦い」という語句を使って1つ説明せよ。

(1) 御家人
(2) 領地の支配を認めたり、守護や地頭に任命したりすること。
(3) 将軍のために、一族を率いて戦いに参加すること。

[承久の乱・御成敗式目]

[問題7]

資料を読んで、次の各問いに答えよ。

(資料)

みなのも、よく聞きなさい。これが最後の言葉です。頼朝公が 朝廷の敵をたおし、幕府を開いてこのかた、官職といい、土地といい、その恩は…(中略)。名誉を大事にする者は、京都に向かって出陣し、逆臣を討ち取り幕府を守りなさい。

- (1) 資料の言葉は、①何という戦乱のときに、②だれが御家人に訴えたものか。
- (2) この乱の首謀者は誰か。
- (3) この乱の後、朝廷を監視するために京都におかれた役所は何か。
- (4) 1232年、領地や裁判などについての武士のならわしをまとめた法律が作られたが、何という法律か。

(1)① 承久の乱
② 北条政子
(2) 後鳥羽上皇
(3) 六波羅探題
(4) 御成敗式目

--

[問題8]

次の各問いに答えよ。

- (1) 承久の乱は何年か。
- (2) 承久の乱のときの執権しつけんは誰か。
- (3) 承久の乱の後、後鳥羽上皇は現在の①何県の②どこに流されたか。
- (4) 承久の乱の後に設置された六波羅探題は、どこに置かれたか。

(1) 1221 年
(2) 北条義時 <small>ほうじょうよしとき</small>
(3)① 島根県
② 隠岐 <small>おき</small>
(4) 京都

[問題9]

次の各問いに答えよ。

- (1) 御成敗式目ごせいばいしきもくを定めたのは誰か。
- (2) ①御成敗式目が定められたのは何という乱のあとか。  
②また、何年に定められたか。
- (3) 御成敗式目を定めた理由は何か。

(1) 北条泰時
(2)① 承久の乱
② 1232年
(3) 御家人に対して裁判の基準を示すため。

[武士と民衆の生活]

[問題 10]

鎌倉時代の武士と民衆の生活について、次の各問いに答えよ。

- (1) 地頭と領主(領家)との間には、争いがたびたび起こった。この争いは幕府によって裁かれ、右下の絵図のように土地の半分が地頭にあたえられたりした。これを何というか。
- (2) 武士は、つねに馬や弓矢の武芸によって心身をきたえて、武士らしい心がまえを持つように努力していた。これを「何の道」と呼ぶか。
- (3) 武士の家は、一族の長である( ① )が中心となって子や兄弟などをまとめ、団結していた。領地は( ② )相続で、女子にもあたえられたので、女性の地頭も多くいた。

(1) 下地中分 <small>したじちゅうぶん</small>
(2) 弓馬の道(武士(もの)のふ)の道 <small>きゅうば</small>
(3)① 惣領 <small>そうりょう</small>
② 分割 <small>ぶんかつ</small>



[問題 11]

次の文の①，②に適語を入れよ。

鎌倉時代には農業生産が高まり，米の裏作に麦をつくる( ① )も行われるようになった。また，寺社の門前や交通の便利なところで( ② )市が開かれ，米や布などの日用品が売買された。

① <small>にちもうさく</small> 二毛作
② 定期

【】鎌倉文化

【鎌倉仏教】

【問題12】

次の各問いに答えよ。

- (1) ①浄土信仰じょうどしんこうを発展させ、「阿弥陀仏あみだぶつの救いを信じて念仏せよ」と説いたのは誰か。②また、何という宗派を開いたか。
- (2) ①「阿弥陀仏の救いを信じる心さえあればよく、自分の罪を自覚した悪人こそ救われる」と説いたのは誰か。②また、何という宗派を開いたか。
- (3) ①各地をまわって踊念仏おどりねんぶつを広めたのは誰か。②また、何という宗派を開いたか。
- (4) ①法華経ほけきょうこそ仏教の根本であるとしたのは誰か。②また、何という宗派を開いたか。
- (5) ①座禅ざぜんにより自力でさとりを開くことを重視した曹洞宗そうとうしゅうと臨済宗りんざいしゅうをあわせて何宗というか。
- (6) (5)のうち、臨済宗の開祖は( ① )で、曹洞宗の開祖は( ② )である。

(1)① 法然 <small>ほうねん</small>
② 浄土宗 <small>じょうどしゅう</small>
(2)① 親鸞 <small>しんらん</small>
② 浄土真宗 <small>じょうどしんしゅう</small>
(3)① 一遍 <small>いっぺん</small>
② 時宗 <small>じしゅう</small>
(4)① 日蓮 <small>にちれん</small>
② 日蓮宗 <small>にちれんしゅう</small> (法華宗 <small>ほっけしゅう</small> )
(5) 禅宗 <small>ぜんしゅう</small>
(6)① 栄西 <small>えいさい</small>
② 道元 <small>どうげん</small>

【問題13】

次の各問いに答えよ。

- (1) 鎌倉時代の新しい仏教宗派のうち念仏(南無阿弥陀仏)の3つの宗派をあげよ。
- (2) 法然の弟子の( )は、「南無阿弥陀仏」を唱えれば、煩惱深き悪人こそが救われるという悪人正機説を説いた。
- (3) 次の絵は 1299 年に描かれたものである。この絵にはある僧が描かれている。その僧の名前を、次の [ ] から 1 つ 選 べ。

[ 一遍 親鸞 空海 鑑真 ]




- (4) 日蓮は「南無妙法蓮華経」の( )を唱えれば、救われると説き、他宗をきびしく批判した。
- (5) 道元や栄西が禅宗を学んだのは何という国か。
- (6) 禅宗では、( )を組むことによって自分の力でさとりを開くことを重視した。
- (7) 禅宗の2つの宗派をあげよ。
- (8) 鎌倉時代に新しい仏教がおこってきたが、それらの教えが急速に広まっていった理由を簡単に説明せよ。

(1) 浄土宗, 浄土真宗, 時宗
(2) 親鸞
(3) 一遍
(4) 題目
(5) 宋
(6) 座禅
(7) 曹洞宗, 臨済宗
(8) 鎌倉仏教は簡単でわかりやすく, 実行しやすかったのだ。

[鎌倉時代の文化]

[問題14]

次の各問いに答えよ。



- (1) 鎌倉時代の文化の特色を「貴族」「武士や民衆」「力強い」の語句を使って説明せよ。
- (2) 琵琶法師によって広められた漢語や口語をまじえた文章で武士の活躍をえがいた物語を何というか。
- (3) 鎌倉時代の代表的な建築物 A は何か。
- (4) (3)の建築物に置かれている彫刻Bは何か。

(1) 貴族を中心にした伝統文化と、武士や民衆の親しみがあり力強い感じを与える文化。

(2) へいけものがたり  
平家物語

(3) とうだいじんなんだいもん  
東大寺南大門

(4) こんごうりきしぞう  
金剛力士像

[問題15]

次の各問いに答えよ。

- (1) 平氏の繁栄と滅亡を情感豊かにえがいた軍記物は何か。
- (2) (1)は、字の読めない武士や農民にも広められたが、誰によって広められたか。
- (3) つれづれぐさ  
徒然草の作者は誰か。
- (4) ほうじょうき  
方丈記の作者は誰か。
- (5) ①鎌倉時代の代表的な和歌集は何か。②また、その編者は誰か。
- (6) 金剛力士像の作者は誰か。

(1) 平家物語

(2) びわほうし  
琵琶法師

(3) よしだけんこう  
吉田兼好

(4) かもろちようめい  
鴨長明

(5) ① しんこきんわかしゅう  
新古今和歌集

② ていか  
藤原定家

(6) うんけい  
運慶



## 【】 元寇

### 【問題16】

次の各問いに答えよ。

- (1) 13世紀のはじめ、モンゴル高原で遊牧生活をしていてモンゴルの部族を統一して国を建設したのは誰か。
- (2) (1)の孫にあたる人物で、国号を元と改めたのは誰か。
- (3) 元によって滅ぼされた中国の王朝は何か。
- (4) ①元的首都は何という都市であったか。②また、それは現在は何という都市か。
- (5) ①元に旅行し、旅行記の中でわが国を「ジパング」とよび、黄金の島と紹介し、ヨーロッパの人々のアジアへの関心を高めた人物はだれか。②また、その著作は何か。
- (6) 元の時代に中国からヨーロッパに伝えられたものを2つあげよ。
- (7) 元の侵入を受けると都を江華島こうかとうに移し、30年以上も抵抗を続けた朝鮮の王朝は何か。

(1) チンギス・ハン

(2) フビライ・ハン

(3) 宋そう(南宋なんそう)

(4)① 大都だいと

② 北京ぺきん

(5)① マルコ・ポーロ

② 東方見聞録とうほうけんぶんろく

(6) 火薬、木版印刷術

(7) 高麗こうらい

【問題17】

次の図は、中国のある王朝の軍が1274年、1281年に日本に來襲したときの様子を表している。



- (1) この2回のできごとをまとめて何というか。
- (2) ①このときの中国の王朝は何か。②また、そのときの皇帝は誰か。
- (3) このときの幕府の執権は誰か。
- (4) 元軍が日本軍を苦しめた理由について、図を参考に、簡潔に説明せよ。
- (5) このできごとの後、鎌倉幕府と御家人の関係はどうなっていくか。次のことばをすべて使って説明せよ。  
[ 恩賞 不満 領地 ]
- (6) 生活が苦しくなった御家人を救おうとして幕府が定めた法令を何というか。

(1) げんこう 元寇

(2) ① げん 元

② フビライ・ハン

(3) ほうじょうときむね 北条時宗

(4) 集団戦法とすぐれた火器を使用したから。

(5) 幕府が恩賞として領地を与えることができなかったため、御家人は不満をもった。

(6) とくせいれい 徳政令

【問題18】

次の各問いに答えよ。

- (1) 元の第1回目の来襲を( ① )といい、第2回目の来襲を( ② )という。また、この2回の来襲を合わせて( ③ )という。
- (2) (1)①の後で、鎌倉幕府が九州の御家人に命じて博多湾の沿岸に築かせたものは何か。
- (3) 文永の役と弘安の役の時では、どちらの時が日本にやってきた兵の数が多いか。
- (4) 文永の役の時、元軍が最初にやってきた九州の町はどこか。
- (5) 永仁の徳政令が出されたのは何年か。
- (6) 永仁の徳政令の内容を説明せよ。

(1)① <small>ぶんえい</small> 文永の役
② <small>こうあん</small> 弘安の役
③ <small>げんこう</small> 元寇
(2) <small>せきるい</small> 石塁
(3) 弘安の役
(4) <small>はかた</small> 博多
(5) 1297 年
(6) 御家人の土地の売買や質入れを禁止しそれまで売った土地をただで返させた。

【】 室町時代

【】 建武の新政と室町幕府の成立

[建武の新政]

[問題19]

次の各問いに答えよ。

- (1) 鎌倉幕府を倒すために楠木正成くすのきまさしげなど幕府に不満を持つ武士に呼びかけて兵をあげた天皇は誰か。
- (2) 幕府の有力な御家人で、幕府の命令にそむいて京都の六波羅探題ろくはらたんたいを攻め落としたのは誰か。
- (3) 鎌倉幕府の滅亡は何年か。
- (4) (2)らの力によって鎌倉幕府は滅び、天皇親政の政治改革が行われたが、これを何というか。

(1) 後醍醐天皇 <small>ごだいご</small>
(2) 足利尊氏 <small>あしかがたかうじ</small>
(3) 1333 年
(4) 建武の新政 <small>けんむ しんせい</small>

[問題20]

次の各問いに答えよ。

- (1) 鎌倉幕府への反感が強まるのを見て、後醍醐天皇は朝廷に実権を取りもどそうと考えた。( )などの新興武士や有力御家人の足利尊氏らが加わり、1333 年ついに幕府を滅ぼした。
- (2) 建武の新政は、なぜ 2 年で失敗したのかを説明せよ。
- (3) 建武の新政に対抗して兵を挙げた中心人物は誰か。
- (4) ①(3)の人物にそむかれた後醍醐天皇ごだいごはどこに逃げたか。②また、それは現在の何県か。
- (5) (3)の人物は、京都に新しい天皇をたてたが、この朝廷を何というか。
- (6) 建武の新政が失敗に終わった後、約 60 年間戦乱が続いた。この戦乱の時代を何というか。

(1) 楠木正成 <small>くすのきまさしげ</small>
(2) 建武の新政は公家中心であったため、武士の不満が高まったから。
(3) 足利尊氏 <small>あしかがたかうじ</small>
(4)① 吉野 <small>よしの</small>
② 奈良県 <small>なら</small>
(5) 北朝 <small>ほくちょう</small>
(6) 南北朝時代 <small>なんぼくちよう</small>

[室町幕府の成立・南北朝の動乱]

[問題21]

次の各問いに答えよ。

- (1) 征夷大將軍に任命されて、1338年に室町幕府を開いたのは誰か。
- (2) 室町幕府で、鎌倉幕府の執権にあたるものは何か。
- (3) 南北朝の争乱の中で、守護は次第に一国を支配する領主に成長していった。このような守護を何というか。

(1) 足利尊氏
(2) 管領
(3) 守護大名

[問題22]

次の各問いに答えよ。

- (1) 足利尊氏によって開かれた幕府は何というか。
- (2) (1)が成立したのは何年か。
- (3) 管領の地位には、有力な( )が交代でついた。
- (4) 関東8か国のほか2か国を治める役所として置かれたものは何か。
- (5) 南北朝の争乱は約何年間続いたか。次から選べ。

[ 40年 60年 80年 100年 ]


(1) 室町幕府
(2) 1338年
(3) 守護大名
(4) 鎌倉府
(5) 60年

[足利義満と日明貿易]

[問題23]

次の各問いに答えよ。

- (1) 14世紀末に南北朝は再び合一したが、そのときの将軍は誰か。
- (2) 北九州や瀬戸内の武士などの中には、朝鮮半島や中国へ行き、貿易をおこなうだけでなく、ときには海賊となり、米などをうばい取っていた人々がいた。この人々を何というか。
- (3) 正式の貿易船に右図のような合い札の証明書を持たせた貿易は何とよばれたか。
- (4) 右図のような合い札を何というか。
- (5) (4)の合い札が用いられたのはなぜか、説明せよ。
- (6) (3)の貿易を始めた将軍は誰か。
- (7) (3)の貿易の相手国となった中国の王朝は何か。



(1) 足利義満
(2) 倭寇
(3) 勘合貿易(日明貿易)
(4) 勘合
(5) 正式な貿易船と倭寇を区別するため
(6) 足利義満
(7) 萌

--

[問題24]

次の各問いに答えよ。

- (1) 3代将軍足利義満が建てた京都室町の御所は、何と呼ばれたか。
- (2) 南北朝の合一は何年か。
- (3) 勘合貿易の開始は何年か。
- (4) 勘合貿易の主な輸入品は何か。1つあげよ。
- (5) 勘合貿易で日本が中国に輸出したものを次から1つ選べ。

[ 銅銭 絹織物 銅 香辛料 ]

(1) 花の御所
(2) 1392年
(3) 1404年
(4) 銅銭
(5) 銅

[朝鮮・琉球王国・アイヌ民族]

[問題25]

次の各問いに答えよ。

- (1) 朝鮮半島では、1392年(①)が(②)をほろぼして(③)を建国した。(③)では(④)という文字が作られた。(③)も、日本に倭寇の取り締まりを求め、さらに貿易を求めてきたため、足利義満は(⑤)貿易を始めた。
- (2) 沖縄では、15世紀はじめに高氏が(①)を建て、(②)を首都とし、明・日本・朝鮮・東南アジア各地に進出して(③)貿易を行った。
- (3) 室町時代のころ、現在の北海道で生活していた民族を何というか。

(1)① <small>りせいけい</small> 李成桂
② <small>こうらい</small> 高麗
③ <small>ちようせんこく</small> 朝鮮国
④ ハングル
⑤ <small>にっちょう</small> 日朝
(2)① <small>りゅうきゅうおうこく</small> 琉球王国
② <small>しゅり</small> 首里
③ <small>なかつぎ</small> 中継
(3) アイヌ民族

【】 民衆の成長・応仁の乱と戦国大名

[産業の発達・村の自治]

[問題26]

次の各問いに答えよ。

- (1) 室町時代の農村の自治組織を何というか。
- (2) 金融業を営んだ質屋は何と呼ばれたか。
- (3) 商工業者は同業者ごとに何という組合を作ったか。
- (4) 陸上の運送業者を1つあげよ。
- (5) 室町時代、商業が活発になると( )市が交通の要地や寺社の門前で月に6回開かれた。

(1) 惣 <small>そう</small>
(2) 土倉 <small>どそう</small>
(3) 座 <small>ざ</small>
(4) 馬借 <small>ばしかく</small>
(5) 定期

[問題27]

次の各問いに答えよ。

- (1) 室町時代、村ごとにつくられた自治的な組織を何というか。
- (2) 麦などを裏作とする( ① )が広まり、耕作のときに( ② )や馬を使い、かんがいに( ③ )を使用することも多くなった。
- (3) 桑くわ、漆うるし、茶などの( ① )作物が栽培されるようになり、16世紀には( ② )の栽培が始まった。
- (4) 酒屋や土倉などはどのような仕事をしていたか。
- (5) 取引に使われたお金にはどのようなものがあったか。2つあげよ。
- (6) 寺社の門前の市が発達して( )町ができた。
- (7) 港町に倉庫をかまえ、年貢ねんぐなどの輸送・保管を行った運送業者を何というか。
- (8) 朝廷、寺社などが通行料を取るために各地に設けたものは何か。
- (9) 日明貿易にちみんぼうえきで栄えた近畿地方の港町で商人を中心とした自治が行われた都市はどこか。
- (10) 戦国時代せんごくじだい、(9)などでは自治が行われたが、その中心となった有力商人を何というか。

(1) 惣
(2)① 二毛作 <small>にもうさく</small>
② 牛
③ 水車
(3)① 商品
② 綿
(4) 金融業(金貸し)
(5) 宋銭 <small>そうせん</small> 、明銭 <small>みんせん</small>
(6) 門前
(7) 簡
(8) 関所 <small>せきしよ</small>
(9) 堺 <small>さかい</small>
(10) 町衆 <small>まちしゆう</small>

--



[土一揆・応仁の乱など]

[問題28]

次の各問いに答えよ。

- (1) 近江の馬借ばしやくや京都の農民が 1428 年におこした土一揆つちいっきは何か。
- (2) (1)を起こした農民などが幕府に対して要求したことは何か。
- (3) 15 世紀後半、細川氏ほそかわしと山名氏やまなしの権力争いに将軍や管領家かんれいの相続争そうぞくいが結びついて、11 年間も京都での争いが続いた。この争いを何というか。
- (4) (3)の乱後、戦乱は全国に広がり約 100 年も続いた。この戦乱の時代を何というか。
- (5) 1485 年、京都南部の村々は、地侍じざむらいを中心としてまとまりを強めて守護大名の畠山氏を追い出して 8 年間自治を行った。この事件を何というか。
- (6) 15 世紀後半、加賀かがの一向宗いっこうしゅうの信徒が守護を攻め滅ぼし、約 100 年間自治を続け、「百姓の持ちたる国」とよばれた。この事件を何というか。

(1) 正長の土一揆 <small>しょうちょうのつちいっき</small>
(2) 徳政令 <small>とくせいれい</small> を出すこと。
(3) 応仁の乱 <small>おうにん</small>
(4) 戦国時代 <small>せんごくじだい</small>
(5) 山城国一揆 <small>やましろのくにいっき</small>
(6) 加賀の一向一揆 <small>いっこういっき</small>

--

[問題29]

次の各問いに答えよ。

- (1) 惣そうを中心に団結を固めた農民が、年貢ねんぐの軽減などを要求しておこした一揆が発生した。これを何というか。
- (2) 近江の馬借ばしやくや京都の農民が中心となった正長の(1)は何年か。
- (3) 応仁おうにんの乱が始まったのは何年か。
- (4) 第6代将軍義教の死後、幕府では( )大名間の勢力争いがおこり、細川氏と山名氏が将軍のあとつぎ問題をめぐって対立し、応仁の乱が起こった。
- (5) 応仁の乱の時期の室町幕府の将軍を答えよ。
- (6) 山城の国一揆が起こった山城の国は、現在の都道府県名ではどこにあたるか。
- (7) 加賀かがの一向一揆いっこういっきは何年におこったか。
- (8) 加賀で起きた一揆に関係の深い宗派は何か。

(1) 土一揆 <small>つちいっき</small>
(2) 1428年
(3) 1467年
(4) 守護
(5) 足利義政 <small>あしかがよしまさ</small>
(6) 京都府
(7) 1488年
(8) 浄土真宗(一向宗) <small>じょうどしんしゅう いっこうしゅう</small>

[下剋上・戦国大名]

[問題30]

次の各問いに答えよ。

- (1) 大名の家来が実力をのばして大名の地位を奪うばうようになったが、下の身分の者が上の者を倒すことを何というか。
- (2) 実力で領国りょうごくを支配するようになった大名を何というか。
- (3) (2)が領国統治のために制定した法令を何というか。

(1) 下剋上 <small>げこくじょう</small>
(2) 戦国大名 <small>せんごくだいみょう</small>
(3) 分国法 <small>ぶんこくほう</small>

【問題31】

次の各問いに答えよ。

- (1) 下剋上とはどのようなことか。簡単に書け。
- (2) 戦国大名は、城下に家来を集め、商工業者をよびあつめて( )町をつくった。
- (3) 戦国大名の保護のもとで博多の商人によって開発された現在の島根県にある銀山は何か。

(1) 身分の低い者が身分の高い者を倒すこと。
-------------------------

(2) 城下
--------

(3) <small>いわみぎんざん</small> 石見銀山
---------------------------------

【】 室町時代の文化

[北山文化と東山文化]

[問題32]

次の各問いに答えよ。

- (1) 第3代将軍の足利義満が建てた別荘で、金箔を用いた豪華絢爛な寝殿造りになっている建築物は何か。
- (2) ①次の写真の建物の名を書け。②また、この建物が建てられたころ栄えた文化を何と呼ぶか。



- (3) (2)の建築物は、図のような造りになっており、今日の住居のもとになっているといわれている。何という造りか。

(1) <small>きんかく</small> 金閣
(2)① <small>ぎんかく</small> 銀閣
② <small>ひがしやま</small> 東山文化
(3) <small>しよいんづくり</small> 書院造

[問題33]

次の各問いに答えよ。

- (1) 金閣をつくった将軍は誰か。
- (2) (1)の人物の時代の文化を何文化というか。
- (3) おうにん 応仁の乱をよそに、京都の ひがしやま 東山に銀閣を建てた将軍は誰か。
- (4) 室町時代の文化の特色を、「武家」「公家」「ぜんしゅう 禅宗」の3つの語句を使って書け。

(1) <small>あしかがよしみつ</small> 足利義満
(2) 北山文化
(3) <small>あしかがよしまさ</small> 足利義政
(4) 公家と武家の文化がとけあい、まじりあった文化で、禅宗の影響も受けている。

[能・水墨画など]

[問題34]

次の各問いに答えよ。

- (1) 田植えなどの際の芸能は、ある芸能に大成された。  
この芸能を何というか。
- (2) 「浦島太郎」や「物臭太郎」などの話をもとにした  
絵本を何というか。
- (3) ①和紙に墨一色の濃淡で描く画を何というか。  
②また、それを大成した人物は誰か。

(1) 能
(2) 御伽草子
(3)① 水墨画
② 雪舟

[問題35]

次の各問いに答えよ。

- (1) 能を大成したのは誰か。2人あげよ。
- (2) 能のあいまに演じられた喜劇は何か。
- (3) 和歌の上の句と下の句をつないでいく文学は何か。
- (4) 地方武士や都市有力者は、子どもに( )で教育  
を受けさせた。
- (5) 上杉氏は( )学校を保護した。
- (6) 農民より一段低い身分とみられていた人々の間から  
も優れた芸能や技術で文化を向上させる者も出た。  
莊園などに住み公家や寺社に奉仕した散所や、河川  
近くに住み芸能や庭園工事に従事した( )など  
がいる。

(1) 観阿弥, 世阿弥
(2) 狂言
(3) 連歌
(4) 寺
(5) 足利
(6) 河原者

--

[印刷／他のPDFファイルについて]

※ このファイルは、FdText 社会(9,600 円)の一部を PDF 形式に変換したサンプルで、印刷はできないようになっています。製品版の FdText 社会は Word の文書ファイルで、印刷・編集を自由に行うことができます。

※ FdText(英語・数学・社会・理科・国語)全分野のPDFファイル、および製品版の購入方法は<http://www.fdtype.com/txt/> に掲載しております。

※ 弊社は、FdText のほかに FdData 中間期末過去問(数学・理科・社会)(各 18,900 円)を販売しております。PDF 形式のサンプル(全内容)は、

<http://www.fdtype.com/dat/> に掲載しております。

※ [FdData 無料閲覧ソフト(RunFdData)]を、Windows のデスクトップ上にインストールすれば、FdData 中間期末の全 PDF ファイルを自由に閲覧できます。次のリンクを左クリックするとインストールが開始されます。

【 <http://fddata.deci.jp/lnk/instRunFdDataWDs.exe> 】

※ダイアログが表示されたら、【実行】ボタンを左クリックしてください。インストール中、いくつかの警告が出ますが、[実行][許可する][次へ]等を選択します。

【Fd教材開発】(092) 404-2266

<http://www.fdtype.com/dat/>