

【】年代・時代区分

[要点]

年代の表し方には、^{せいれき}西暦年と^{ねんごう}年号がある。西暦年はイエス・キリストが生まれたと考えられる年を^{きげん}紀元1(元)年と決めたもので、それよりも前を紀元前(B.C.)、後を紀元後(A.D.)で表す。年号(元号)は昭和 45 年とか平成 28 年などである。^{たいか}大化の^{かいしん}改新(西暦 645 年)の後、中国にならってはじめて「大化」という年号を定めた。

^{せいしき}世紀は 100 年を 1 つの単位として区切ったものである。1 年～100 年を 1 世紀、101 年～200 年を 2 世紀という。1192 年は 1101～1200 年の間にあるので 12 世紀である。また、1600 年は 1501～1600 年の間にあるので 16 世紀である。

[要点確認]

年代の表し方には、^{せいれき}西暦年と^{ねんごう}年号がある。()はイエス・キリストが生まれたと考えられる年を^{きげん}紀元1(元)年と決めたもので、それよりも前を()、後を()で表す。()は昭和 45 年とか平成 28 年などである。^{たいか}大化の^{かいしん}改新(西暦 645 年)の後、中国にならってはじめて「()」という年号を定めた。

^{せいしき}世紀は 100 年を 1 つの単位として区切ったものである。1 年～100 年を 1 世紀、101 年～200 年を 2 世紀という。1192 年は 1101～1200 年の間にあるので()世紀である。また、1600 年は 1501～1600 年の間にあるので()世紀である。

[問題]

次の各問いに答えよ。

- (1) (①) 暦はイエス・キリストが生まれたと考えられている年を紀元 1(元)年としてつくられている。省略して書くと、紀元前は(②), 紀元後は(③)となる。
- (2) 次は何世紀のできごとか。
- ① 源頼朝が征夷大將軍になった 1192 年。
- ② 関ヶ原の戦いがあった 1600 年。
- (3) 中国にならって、7 世紀の半ばごろから日本でも使われるようになった年代の表し方を何というか。

[解答欄]

(1)①	②	③	(2)①
②	(3)		

[解答](1)① 西 ② B.C. ③ A.D. (2)① 12 世紀 ② 16 世紀 (3) 年号(元号)

[問題]

次の時代区分を時代の古い方から順に並べよ。

平安時代 縄文時代 鎌倉時代 江戸時代 安土・桃山時代
弥生時代 室町時代 古墳時代 奈良時代

[解答欄]

--

[解答]縄文時代, 弥生時代, 古墳時代, 奈良時代, 平安時代, 鎌倉時代, 室町時代, 安土・桃山時代, 江戸時代

【】 原始・古代

【】 原始

[要点]

最古の人類は700万～600万年前にアフリカに現れた^{えんじん}猿人である。200万年前に出現した^{げんじん}原人は^{だせいせっき}打製石器を使い始めた。やがて、人類は^{だせい}火や^{ごんご}言葉を使うことができるようになった。今から20万年ほど前には、現在の人類の直接の祖先にあたる^{しんじん}新人(ホモ・サピエンス)があらわれ、世界中に広がった。^{だせい}打製石器を使い、狩りでけものを取り、木の実や草の根の採集をしていた時代を^{きゅうせき}旧石器時代という。約1万年前から^{しんせき}新石器時代が始まり、^{なう}磨製石器が使われ、^{のう}農耕や^{ぼくちく}牧畜が始まった。

[要点確認]

最古の人類は700万～600万年前にアフリカに現れた()である。200万年前に出現した()は^{だせいせっき}打製石器を使い始めた。やがて、人類は火や()を使うことができるようになった。今から20万年ほど前には、現在の人類の直接の祖先にあたる()があらわれ、世界中に広がった。^{だせい}打製石器を使い、狩りでけものを取り、木の実や草の根の採集をしていた時代を()時代という。約1万年前から()時代が始まり、^{なう}磨製石器が使われ、^{のう}農耕や()が始まった。

[問題]

次の各問いに答えよ。

- (1) 700万～600万年前に現れた最も古い人類の祖先は何か。
- (2) 最古の人類である(1)は、何大陸で誕生したか。
- (3) 200万年前に出現し、^{だせいせっき}打製石器を使い始めた人類は何か。
- (4) 20万年ほど前に現れた現在の人類の直接の祖先にあたる人類は何か。
- (5) 狩りや採集を行って移動しながら生活し、(①)石器を使っていた時代を(②)時代といい、今から約(③)万年ほど前まで続いた。

[解答欄]

(1)	(2)	(3)	(4)
(5)①	②	③	

【解答】(1) ^{えんじん}猿人 (2) アフリカ大陸 (3) ^{げんじん}原人 (4) ^{しんじん}新人(ホモ・サピエンス) (5)① ^{だせい}打製
② ^{きゅうせき}旧石器 ③ 1

[問題]

次の各問いに答えよ。

- (1) 陸地の 3 分の 1 が氷におおわれた寒冷な時代を何というか。
- (2) 約 1 万年前から生活が大きく変わったが、何が始まったからか。2 つ答えよ。
- (3) ①約 1 万年前以後の石器時代を何時代というか。②また、どのような石器が使われたか。
- (4) (3)の時代には、穀物を蓄えるための物も作られるようになった。何か。
- (5) 旧石器時代と新石器時代をあわせて(①)時代という。このころは(②)の差がまだなかった。その後農業生産が上がり、余裕が出てくると(③)が人々を支配するようになってくる。こうして、時代も(①)時代から(④)に入ってしまった。

[解答欄]

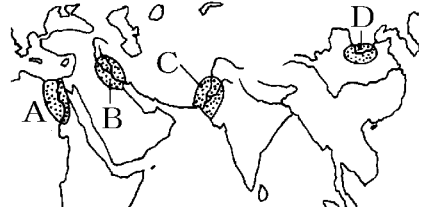
(1)	(2)	(3)①	②
(4)	(5)①	②	③
④			

[解答](1) 氷河時代 (2) 農耕と牧畜 (3)① 新石器時代 ② 磨製石器 (4) 土器 (5)① 原始 ② 貧富 ③ 支配者 ④ 古代

【】 古代文明

[要点]

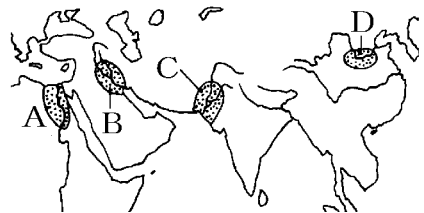
- (1) 地図Aのエジプト文明はナイル川の流域で、地図Bのメソポタミア文明はチグリス川とユーフラテス川の流域で、地図Cのインダス文明はインダス川の流域で発達した。



- (2) 地図Dの中国文明は黄河流域で発達し、紀元前1600年頃に殷という国が作られ、甲骨文が使われた。殷は周にほろぼされ、やがて、多くの国が争う春秋・戦国時代になった。孔子は儒学(儒教)を説いた。紀元前221年に秦の始皇帝が中国を統一し、遊牧民族の侵入を防ぐために万里の長城を築いた。秦が滅亡した後、漢が中国を統一した。この時代、シルクロードを通して中国から絹織物が西方に、西方から馬やぶどうが取引された。
- (3) ギリシャでは、多くの都市国家(ポリス)が生まれた。最大の都市のアテネでは、成人男子の市民による民主政治が行われた。紀元前4世紀の末、マケドニアのアレクサンドロス大王は大帝国をつくったが、その結果、ギリシャ文化が各地に伝わり、その土地の文化ととけあってヘレニズム文化がうまれた。紀元前後、地中海一帯をローマ帝国が支配した。
- (4) インドでは、シャカが仏教を始めた。パレスチナに生まれたイエスはキリスト教を始めた。7世紀のアラビア半島では、ムハンマド(マホメット)がアラーを唯一神とするイスラム教を始めた。

[要点確認]

- (1) 地図Aの()文明は()川の流域で、
地図Bの()文明は()川と()
川の流域で、地図Cの()文明は()
川の流域で発達した。



- (2) 地図Dの()文明は()流域で発達し、
紀元前1600年頃に()という国が作られ、()文字が使われた。()
は()にほろぼされ、やがて、多くの国が争う()時代になった。()
は儒学(儒教)を説いた。紀元前221年に()の()皇帝が中国を統一し、
遊牧民族の侵入を防ぐために()を築いた。()が滅亡した後、()が
中国を統一した。この時代、()を通して中国から絹織物が西方に、西方から
馬やぶどうが取引された。

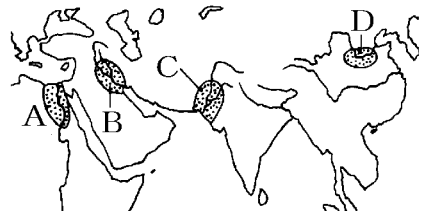
- (3) ギリシャでは、多くの()が生まれた。最大の都市の()では、成人男子の市民による民主政治が行われた。紀元前4世紀の末、マケドニアの()大王は大帝国をつくったが、その結果、ギリシャ文化が各地に伝わり、その土地の文化ととけあって()文化がうまれた。紀元前後、地中海^{ちゅうかい}一帯を()帝国が支配した。
- (4) インドでは、()が仏教を始めた。パレスチナに生まれた()はキリスト教を始めた。7世紀のアラビア半島では、()がアラーを唯一神とするイスラム教を始めた。

[古代文明のおこり]

[問題]

次の各問いに答えよ。

- (1) A, B, C, D はそれぞれ何という文明で何という川の周辺に発達したか。
- (2) なぜこれらの地域に早くから文明が発達したのか、主な理由をかけ。
- (3) A の文明でつくられた、石づくりの巨大な王の墓を何というか。
- (4) A の文明で使われた文字は何か。
- (5) A の文明でつくられ、1年を365日とする暦は何か。
- (6) B の地域で、紀元前18世紀ごろにつくられた法典を何というか。
- (7) B の地域で使われた文字は何か。
- (8) Cの文明では、()の遺跡^{いせき}が有名である。



[解答欄]


(1)A	B	
C	D	
(2)		
(3)	(4)	(5)
(6)	(7)	(8)

【解答】(1)A エジプト文明，ナイル川 B メソポタミア文明，チグリス川とユーフラテス川 C インダス文明，インダス川 D 中国文明，黄河 (2) 大きな川の流域にあり，農業が発達したから。(3) ピラミッド (4) 象形文字 (5) 太陽暦 (6) ハンムラビ法典 (7) 楔形文字 (8) モヘンジョ・ダロ

【中国文明の発展】

【問題】

次の各問いに答えよ。

- (1) 中国では，(①)という川の流域で(②)文明が栄えた。
- (2) 中国で紀元前1600年ころにおこった国は何か。
- (3) (2)では，右図のような漢字のもとになった文字がつけられた。この文字を何というか。
- (4) 紀元前 11 世紀に(2)を滅ぼした国は何か。
- (5) (4)の支配力が弱まって，多くの国が争う戦乱の時代になったが，この時代を何というか。
- (6) (5)の時代に儒学をはじめたのは誰か。
- (7) 紀元前 3 世紀に中国を統一したのは，(①)という国の(②)である。
- (8) (7)の人物が，北方の遊牧民の侵入を防ぐために築いたものを何というか。
- (9) 紀元前 3 世紀に，(7)の国にかわって中国をまとめ大帝国をつくりあげた王朝の名を書け。
- (10) (9)の時代，中国から絹織物が西方に，西方から馬やぶどうが取引されたが，このときの交易路を何というか。

【解答欄】

(1)①	②	(2)	(3)
(4)	(5)	(6)	(7)①
②	(8)	(9)	(10)

【解答】(1)① 黄河 ② 中国 (2) 殷 (3) 甲骨文字 (4) 周 (5) 春秋・戦国時代 (6) 孔子 (7)① 秦 ② 始皇帝 (8) 万里の長城 (9) 漢 (10) シルクロード(絹の道)

[ギリシャ・ローマの文明]

[問題]

次の各問いに答えよ。

- (1) アテネやスパルタなどの都市国家をカタカナで何というか。
- (2) アテネのアクロポリスの丘に建設された右の写真の建物を何というか。
- (3) ギリシャは、B.C.4世紀後半に、北方に成立した国に制圧された。①この国名と、②その国王の名を書け。
- (4) (3)の王は東方遠征を行い、領土を広げていったため、西洋の文化と、オリエントの文化が融合した新しい文化が誕生した。日本や朝鮮半島にも影響を及ぼしたこの文化を何というか。
- (5) 紀元前後、地中海^{ちちゅうかい} 一帯を支配した大帝国の名前を答えよ。



[解答欄]

(1)	(2)	(3)①
②	(4)	(5)

[解答](1) ポリス (2) パルテノン^{しんでん}神殿 (3)① マケドニア ② アレクサンドロス大王
(4) ヘレニズム文化 (5) ローマ帝国

[宗教のおこり]

[問題]

次のそれぞれ文の()に適語を入れよ。

- (1) 紀元前 5 世紀ごろにインドに生まれた(①)は、「心の迷いを取り去ることで、この世の苦しみからのがれられる」とする(②)教を説いた。
- (2) 紀元前後、ローマ帝国に支配されていたパレスチナに生まれた(①)は、「神を信じる者はだれでも救われる」と説いた。この教えは(②)教と呼ばれ、のちに(③)にまとめられた。
- (3) 7世紀に、アラビア半島に生まれた(①)が始めた(②)教は、唯一の神である(③)を信仰する宗教で、その教えは(④)に記されている。

【解答欄】

(1)①	②	(2)①	②
③	(3)①	②	③
④			

【解答】(1)① シャカ ② 仏 (2)① イエス ② キリスト ③ 聖書(新約聖書) (3)① ムハンマド(マホメット) ② イスラム ③ アラー ④ コーラン

【】 縄文・弥生・古墳時代

[年表]

年代	おもなできごと
1万2千年前 紀元前3世紀 57年	縄文時代：狩猟・採集，たて穴住居，貝塚，縄文土器，土偶 弥生時代：稲作が伝わる，高床倉庫，弥生土器，金属器 倭の奴の国王，漢に使いを送り金印を授けられる
1,2世紀	吉野ヶ里遺跡(佐賀県)
239年	邪馬台国の女王卑弥呼が魏に使いを送る
3世紀後半	大和地方：前方後円墳という日本独自の古墳，大仙古墳は日本最大 大和政権：大王(後の天皇) 朝鮮半島：伽耶地方の国と結んで高句麗や新羅と戦った→渡来人

年代	おもなできごと
1万2千年前 紀元前3世紀 57年	()時代：狩猟・採集，()住居，貝塚，()土器，土偶 ()時代：稲作が伝わる，()倉庫，()土器，金属器 倭の()の国王，漢に使いを送り()を授けられる
1,2世紀	()遺跡(佐賀県)
239年	()国の女王()が魏に使いを送る
3世紀後半	大和地方：()という日本独自の古墳，()古墳は日本最大 大和政権：()(後の天皇) 朝鮮半島：()地方の国と結んで高句麗や新羅と戦った→渡来人

(参考) 剛な(57)る奴国王，卑弥呼より文(23)く(9)る

[要点]

- (1) 縄文時代には，人々は集団でむらをつくり，植物を栽培し，狩猟を行い，たて穴住居で生活をしてきた。縄目の文様のついた縄文土器が使われ，魔よけや食物の豊かさをいのるために土偶が作られた。貝殻を捨てたあとである貝塚から発見される物から当時の様子を知ることができる。
- (2) 紀元前3世紀ごろ，朝鮮半島南部から稲作が伝えられた。このころから紀元3世紀までの時代を弥生時代という。うすくて飾りが少なく実用的な弥生土器が作られ，穀物の貯蔵のための高床倉庫が使われた。また，青銅器や鉄器などの金属器が使われた。
- (3) 紀元前後の日本は倭と呼ばれ，100あまりの国に分かれていた。1世紀の中ごろ(57年)，倭の奴の国王が後漢の皇帝に使いを送り，金印を授けられた。弥生時代の1，2世紀の頃の遺跡としては，佐賀県にある吉野ヶ里遺跡がある。239年，倭の邪馬台国の女王卑弥呼が中国の魏に使いを送ったことが，中国の歴史書の魏志倭人伝にしている。

- (4) 3世紀後半、大和地方には強力な国が生まれ、カギ形をした^{ぜんぽうごうえんかひ}前方後円墳などの古墳が作られるようになった。古墳のまわりには、はにわがおかれ、5世紀頃には世界最大級の^{たいせんこふん}大仙古墳がつくられた。この国を大和国家、その政府を大和政権といい、その王は^{おおきみ}大王と呼ばれた。
- (5) 朝鮮では^{こうくわ}高句麗が北から勢力をのぼし、南部では^{しんら}新羅と^{くたら}百済が小国の統一を進めた。大和国家は百済や、小国が分立していた^{かや}伽耶(任那)地方の国と結んで高句麗や新羅と戦った。朝鮮半島から日本へ移り住んだ人々は^{とらいじん}渡来人と呼ばれ、漢字・仏教・儒教や各種技術を伝えた。

[要点確認]

- (1) ()時代には、人々は集団でむらをつくり、植物を栽培し、^{しゅりょう}狩猟を行い、()住居で生活をしていた。^{なわめ}縄目の文様のついた()土器が使われ、魔よけや食物の豊かさをいのるために()が作られた。^{かいがら}貝殻を捨てたあとである()から発見される物から当時の様子を知ることができる。
- (2) 紀元前3世紀ごろ、朝鮮半島南部から稲作が伝えられた。このころから紀元3世紀までの時代を()時代という。うすくて飾りが少なく実用的な()土器が作られ、^{こくもつ}穀物の貯蔵のための()倉庫が使われた。また、()や鉄器などの金属器が使われた。
- (3) 紀元前後の日本は()と呼ばれ、100あまりの国に分かれていた。1世紀の中ごろ(57年)、倭の()の国王が漢の皇帝に使いを送り、()を授けられた。弥生時代の1、2世紀の頃の遺跡としては、佐賀県にある()遺跡がある。239年、倭の()国の女王()が中国の()に使いを送ったことが、中国の歴史書の魏志倭人伝にしるされている。
- (4) 3世紀後半、大和地方には強力な国が生まれ、カギ形をした()などの^{こふん}古墳が作られるようになった。古墳のまわりには()がおかれ、5世紀頃には世界最大級の()古墳がつくられた。この国を大和国家、その政府を()といい、その王は()と呼ばれた。
- (5) 朝鮮では()が北から勢力をのぼし、南部では()と()が小国の統一を進めた。大和国家は百済や、小国が分立していた()地方の国と結んで高句麗や新羅と戦った。朝鮮半島から日本へ移り住んだ人々は()と呼ばれ、漢字・仏教・儒教や各種技術を伝えた。

[日本列島の誕生]

[問題]

次の各問いに答えよ。

- (1) ナウマン象の化石が発見されたのは何県のどこか。
- (2) 群馬県の(①)遺跡^{いせき}では、氷河時代の地層から石おのなどの(②)石器が発見されている。このことから、日本にも(③)時代があったことが明らかになった。
- (3) 氷河期^{ひょうがき}が終わって海面が上昇し、日本列島が大陸から離れたのは約何万年前か。

[解答欄]

(1)	(2)①	②
③	(3)	

[解答](1) 長野県の野尻湖^{のじりこ} (2)① 岩宿^{いわじゆく} ② 打製^{だせい} ③ 旧石器 (3) 約1万年前

[縄文文化]

[問題]

次の各問いに答えよ。

- (1) 1万2000年前から紀元前3世紀の時代を何というか。
- (2) (1)の時代の人々が住んだ図Aのような家を何というか。
- (3) ①(1)の時代の土器は何というか。②また、その特徴は何か。
- (4) (1)の時代に、まじないに使われた図Bのような道具は何か。
- (5) (1)の時代の人々が食べた貝殻^{かいがら}が捨てられたところを何というか。



[解答欄]

(1)	(2)	(3)①
②	(4)	(5)

[解答](1) 縄文時代^{じょうもん} (2) たて穴住居 (3)① 縄文土器 ② 縄目の文様があること。 (4) 土偶^{どぐう} (5) 貝塚^{かいづか}

[問題]

次の各問いに答えよ。

- (1) 縄文時代に農耕・牧畜が発達しなかったのはなぜか。
- (2) 縄文時代の石器は何か。
- (3) 土偶は、何のためにつくられたか。簡単に答えよ。
- (4) 青森県で発見された縄文時代の代表的な遺跡は何か。

[解答欄]

(1)	
(2)	(3)
(4)	

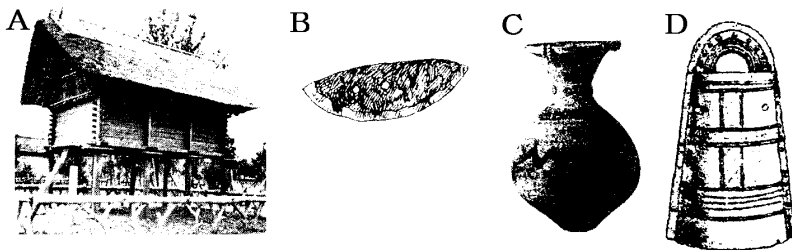
[解答](1) 周囲に木の実や動物や魚介類が豊富なので、あまり必要性を感じなかったから。

- (2) 磨製石器 (3) 魔よけや食物の豊かさをいのるため。 (4) 三内丸山遺跡

[弥生文化]

[問題]

次の資料について、後の各問いに答えよ。



- (1) 紀元前 3 世紀から紀元 3 世紀までの時代を何時代というか。
- (2) 穀物の貯蔵などに使われた図Aのような倉庫を何というか。
- (3) (2)の倉庫にはどんな工夫がみられるのか。「湿気」「ねずみ」という語句を使って説明せよ。
- (4) 稲の穂をつみとるのに使われた図 B の道具は何か。
- (5) ①図Cのような弥生時代の土器は何というか。②また、その特徴は何か。
- (6) 図 D のような遺物(金属器)の名を書け。

【解答欄】

(1)	(2)	
(3)		
(4)	(5)①	
②		(6)

【解答】(1) 弥生時代 (2) 高床倉庫 (3) 湿気を防ぐために床を高くし、はしごや柱の床下部にはねずみがえしがつけられている。 (4) 石包丁 (5)① 弥生土器 ② うすくて飾りが少なく実用的である。 (6) 銅鐸

【問題】

次の各問いに答えよ。

- (1) 紀元前 4 世紀ごろ()が伝わり、農耕生活が始まった。
- (2) 日本で(1)を始めた人々はどこからやってきたか。
- (3) 稲作とともに、金属器も伝えられたが、そのうち(①)は祭りの道具として使われ、(②)は開墾用のくわ、木をけずるおのなどとして使われた。
- (4) 弥生時代になって農耕が始まると、(①)の差が生じ(②)者が出現した。

【解答欄】

(1)	(2)	(3)①
②	(4)①	②


【解答】(1) 稲作 (2) 中国や朝鮮半島 (3)① 青銅器 ② 鉄器 (4)① 貧富 ② 支配

【縄文文化と弥生文化】

【問題】

次の各問いに答えよ。

- (1) A, B の土器の名称を、それぞれ答えよ。
- (2) 次の各文は、A, B どちらの土器が使われていたころの様子か。A または B で答えよ。
 - ① 木の実やけもの、鳥、魚などが豊富で、農耕や牧畜はあまり発達していなかった。
 - ② 人々は集団でむらをつくり、植物を栽培し、狩猟を行い、たて穴住居で生活をしていた。



- ③ むらには支配する者がはっきり現れ建物の周囲を柵や堀で囲むような集落を作った。
- ④ 土偶をまじないの道具として使った。
- ⑤ たて穴住居の近くには高床の倉庫もつくられた。
- ⑥ やじりが大きくなり、戦闘に適した武器が金属で作られるようになった。
- ⑦ 大陸から九州北部に稲作が伝えられた。
- ⑧ 銅鐸を祭りの道具として使った。

【解答欄】

(1)A	B	(2)①	②
③	④	⑤	⑥
⑦	⑧		

【解答】(1)A 縄文土器 B 弥生土器 (2)① A ② A ③ B ④ A ⑤ B ⑥ B ⑦ B ⑧ B

【国々の誕生・邪馬台国】

【問題】

次の各問いに答えよ。

- (1) 中国の歴史書に「楽浪のむこうに倭人が住んでいる。百余国に分かれて…」とある。このことから、紀元前後、中国の()の時代、倭人が百余りの国を作っていたことがわかる。
- (2) 1世紀の半ばに、倭の(①)国の王が中国の(②)に使いを送り、右の写真のような(③)を授けられた。この(③)は江戸時代に現在の(④)市の(⑤)で発見された。
- (3) 佐賀県で発見された弥生時代の大規模な集落あとで、二重の堀と物見やぐらをそなえていたとみられる遺跡名を書け。
- (4) 239年、倭の(①)国の女王(②)が中国の(③)に使いを送った。
- (5) (4)は中国の何という歴史書の何という部分に書かれているか。



【解答欄】

(1)	(2)①	②	③
④	⑤	(3)	(4)①
②	③	(5)	

【解答】(1) 漢 (2)① 奴 (2) 後漢 (3) 金印 (4) 福岡 (5) 志賀島 (3) 吉野ヶ里遺跡 (4) ① 邪馬台 (2) 卑弥呼 (3) 魏 (5) 魏志倭人伝

【問題】

次の各問いに答えよ。

- (1) 桑浪郡は、現在の何という国に位置するのか、国名を書け。
- (2) 日本のことを紀元前後のころ中国では何と呼んだか。
- (3) 「奴国」は、何地方にあったのか、次の中から1つ選び地方名を書け。
[北海道 東北 関東 中部 近畿 中国 四国 九州]
- (4) 金印にほられている文字は、何と書かれているか。
- (5) 吉野ヶ里遺跡は、現在の何県にあるか。
- (6) 卑弥呼が魏に使いを送ったのは何年か。
- (7) 邪馬台国のあった位置については学説が分かれている。どのように分かれているか。

【解答欄】

(1)	(2)	(3)	(4)
(5)	(6)		
(7)			

【解答】(1) 北朝鮮 (2) 倭 (3) 九州 (4) 漢委奴国王 (5) 佐賀県 (6) 239年 (7) 北部九州にあったとする説と近畿にあったとする説に分かれている。

【大王の時代】

【問題】

次の各問いに答えよ。

- (1) 権力者のシンボルとして、土を盛り上げて作った、カギ穴、まる、四角などの形をした建造物は何か。
- (2) カギ穴の形をした日本独特の(1)は何か。
- (3) 人物や動物をかたどった物で、(1)のまわりにおかれたものは何か。
- (4) 日本でもっとも大きい(1)は何か。
- (5) 大和・河内地方では、(①)(後の天皇)を中心とする(②)ができ、全国の統一を進めていった。
- (6) 朝鮮や中国から一族でまとまって日本に移り住み、技術や文化を伝えた人々を何とよぶか。

【解答欄】

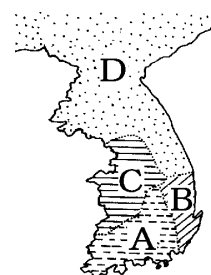
(1)	(2)	(3)	(4)
(5)①	②	(6)	

【解答】(1) 古墳 (2) 前方後円墳 (3) はにわ (4) 大仙古墳 (5)① 大王 ② 大和政権
(6) 渡来人

【問題】

次の各問いに答えよ。

- (1) 大和(奈良県)や河内(大阪府)に、4～5世紀頃の巨大古墳が数多くみられるが、その理由を説明せよ。
- (2) 「大王」は何と読むか。
- (3) 大和政権が朝鮮半島に勢力をのぼすときの根拠地にした地方は図のA～Dのどれか。また、何という地方か。
- (4) 日本が海をわたって朝鮮半島に攻め込んだことをしるした広開土王の碑のある国は図のA～Dのどれか。また、何という国か。
- (5) わが国に仏教を伝え、日本への移住者が多かった国は図のA～Dのどれか。また、何という国か。
- (6) 勢力を強め、676年に朝鮮を統一した国は図のA～Dのどれか。また、何という国か。
- (7) 次の資料は、倭王武が中国の南朝に送った手紙の一部である。このような手紙を送ったのは、どのようなことを認めてもらうためか、2つ答えよ。
「わが祖先は、よろいかぶとを身につけて休むまもなく国内を歩き回り、東は55国、西は66国、海の北は95国を征服した」
- (8) 渡来人によって伝えられた土器で、弥生土器よりも高温で焼いた質のかたい土器は何か。
- (9) 渡来人によって伝えられ、のちの日本の文化に大きな影響を与えたものを3つあげよ。



【解答欄】

(1)		
(2)	(3)	(4)
(5)	(6)	
(7)		
(8)	(9)	

【解答】(1) 大和政権とよばれる強力な政権がつくられていたため。(2) おおきみ (3) A, 伽耶(任那) (4) D, 高句麗 (5) C, 百濟 (6) B, 新羅 (7) 倭の王としての地位。朝鮮南部を軍事的に指揮する権利。(8) 須恵器 (9) 漢字, 仏教, 儒学

【】 飛鳥～大化改新

[年表]

年代	おもなできごと
589年	隋が中国を統一する
593年	聖徳太子が推古天皇の摂政になる。(蘇我馬子が協力)
603年	冠位十二階を制定(家柄や出身に関係なく才能のある人物を役人に登用)
604年	十七条の憲法を制定(「一に曰く、和をもって貴しとなし…」)
607年	遣隋使(小野妹子を中国の隋に派遣) 聖徳太子が法隆寺を建立→仏教の影響を受けた飛鳥文化
618年	唐が中国を統一する
645年	大化の改新(中大兄皇子と中臣鎌足が蘇我氏を滅ぼす) →公地公民, 唐を手本として改革に着手
663年	白村江の戦いで唐・新羅の連合軍に敗れる →中大兄皇子は即位して天智天皇になり, 国内の改革に専念
672年	壬申の乱(天智天皇の死後, 後継者の地位をめぐる争い) →勝利を得て, 天武天皇が即位

年代	おもなできごと
589年	()が中国を統一する
()年	()が推古天皇の()になる。(蘇我馬子が協力)
603年	()を制定(家柄や出身に関係なく, 才能のある人物を役人に登用)
604年	()を制定(「一に曰く, 和をもって貴しとなし…」)
607年	()(小野妹子を中国の隋に派遣) 聖徳太子が()寺を建立→仏教の影響を受けた()文化
618年	()が中国を統一する
645年	()()と中臣鎌足が蘇我氏を滅ぼす →公地公民, 唐を手本として改革に着手
663年	()の戦いで唐・新羅の連合軍に敗れる →中大兄皇子は即位して()天皇になり, 国内の改革に専念
672年	()の乱(天智天皇の死後, 後継者の地位をめぐる争い) →勝利を得て, ()天皇が即位

(参考) ご薄命(589)の隋王朝／五組(593)いっしょに裁く聖徳太子／むれみ(603)つ人に十二階／役人むつまじ(604)くあれと十七条／群れな(607)して行く遣隋使／めされ(630)て唐へ遣唐使／大化の改新むし殺し(645)／無(6)理な(7)争い2(2)人でし

【】 飛鳥時代

[要点]

593年、聖徳太子は推古天皇の摂政となり、蘇我馬子と協力して政治改革を進めた。まず、家柄にとらわれずに、有能な人物を役人にとりたてる冠位十二階の制度をつくった。また、十七条の憲法を定めて、役人の心得を示した。さらに、中国の隋に、小野妹子らを遣隋使として送った。聖徳太子は、仏教をさかんにするため、大和の斑鳩地方に法隆寺を建てた。この時代の文化を飛鳥文化という。

[要点確認]

593年、()は推古天皇の()となり、蘇我馬子と協力して政治改革を進めた。まず、家柄にとらわれずに、有能な人物を役人にとりたてる()の制度をつくった。また、()憲法を定めて、役人の心得を示した。さらに、中国の隋に、()らを()として送った。聖徳太子は、仏教をさかんにするため、大和の斑鳩地方に()寺を建てた。この時代の文化を()文化という。

[問題]

[資料]

- 一に曰く、和をもって貴しとなし、さからう(争う)ことなきを宗とせよ。
- 二に曰く、あつく三宝を敬え。三宝とは仏、法、僧なり。
- 三に曰く、詔をうけたまわりては、必ずつつしめ。

- (1) 上の資料は何の一部か。
- (2) これを制定した人物は誰か。
- (3) (2)の人物は、家柄や出身に関係なく才能のある人物を役人に登用する制度を始めた。この制度を何というか。
- (4) 上の資料は仏教の影響を強く受けているが、この当時(2)の人物が建てた現存する世界最古の木造建築物の寺院の名前を書け。
- (5) (4)の寺院などを中心にした文化を何文化というか。
- (6) 上の資料を制定した人物は進んだ文化や制度を取り入れようと中国へ使節を送っている。この使節を何というか。

[解答欄]

(1)	(2)	(3)
(4)	(5)	(6)

【解答】(1) 十七条の憲法 (2) 聖徳太子 (3) 冠位十二階 (4) 法隆寺 (5) 飛鳥文化 (6) 遣隋使

【問題】

次の各問いに答えよ。

- (1) 589年に中国を統一した王朝は何か。
- (2) 仏教の導入をめぐって豪族間に争いがおこり、仏教を取り入れようとする(①)氏が、これに反対する(②)氏を滅ぼした。
- (3) 聖徳太子がついた役職で、女性や幼少の天皇にかわって政治を行う役目を何というか。
- (4) 聖徳太子は、①何年に、②何という天皇の(3)となったか答えよ。
- (5) 聖徳太子は十七条の憲法で()の心構えを示した。
- (6) 法隆寺にある代表的な仏像は何か。
- (7) 聖徳太子は、中国に使節を送って中国との国交を回復し、留学生や留学僧にその政治制度や仏教を学ばせたが、当時の中国の王朝は何か。
- (8) 607年に遣隋使として中国へ派遣された人物は誰か。
- (9) (7)が滅んだ後、7世紀(628年)に中国を統一した(①)は、(②)という法律を作り、その都である(③)は国際都市として栄えた。

【解答欄】

(1)	(2)①	②	(3)
(4)①	②	(5)	(6)
(7)	(8)	(9)①	②
③			

【解答】(1) 隋 (2)① 蘇我 (2) 物部 (3) 摂政 (4)① 593年 (2) 推古天皇 (5) 役人 (6) 釈迦三尊像(釈迦如来像) (7) 隋 (8) 小野妹子 (9)① 唐 (2) 律令 (3) 長安

【】大化の改新

[要点]

中大兄皇子と中臣鎌足は、645年蘇我氏を倒して、唐を手本とし公地公民を大原則とする改革に乗り出した。この一連の改革を大化の改新という。このころ、新羅は朝鮮半島を統一すべく唐と連合して百済を滅ぼそうとした。中大兄皇子は、百済に援軍を送ったが、白村江の戦いで破れ、天智天皇となり、国内の改革に専念した。天智天皇の死後、672年、後継ぎの地位をめぐる壬申の乱がおきた。この争いに勝った大海人皇子は即位して天武天皇になった。

[要点確認]

()と()は、645年()氏を倒して、()を手本とし公地()を大原則とする改革に乗り出した。この一連の改革を()の改新という。このころ、()は朝鮮半島を統一すべく唐と連合して百済を滅ぼそうとした。中大兄皇子は、百済に援軍を送ったが、()の戦いで破れ、()天皇となり、国内の改革に専念した。天皇の死後、672年、後継ぎの地位をめぐる()の乱がおきた。この争いに勝った大海人皇子は即位して()天皇になった。

[大化の改新]

[問題]

次の各問いに答えよ。

- (1) 645年に政治の改革が起きた。この改革名を答えよ。
- (2) (1)の中心的人物で、後に天智天皇となった人物の名前を答えよ。
- (3) (2)の人物とともに大化の改新の中心になったのは誰か。
- (4) 全国の土地と人民を国のものとし、天皇が支配するという(1)の基本方針は何か。

[解答欄]

(1)	(2)	(3)	(4)
-----	-----	-----	-----

[解答](1) 大化の改新 (2) 中大兄皇子 (3) 中臣鎌足 (4) 公地公民

【問題】

次の各問いに答えよ。

- (1) 聖徳太子がなくなったのち、勢いをふるった豪族は何氏か。
- (2) 大化の改新は何年か。
- (3) 大化の改新で倒された豪族は何氏か。
- (4) 大化の改新は、どこの国にならって改革を進めようとしたものか。
- (5) この改革で行われた『公地公民』について次の言葉を使って説明せよ。

〔国家 人民 土地〕

- (6) 日本で最初に使われた年号は何か。

【解答欄】

(1)	(2)	(3)	(4)
(5)	(6)		

【解答】(1) 蘇我氏 (2) 645年 (3) 蘇我氏 (4) 唐 (5) 土地と人民を国家の直接の支配下に置く。 (6) 大化

【白村江の戦い・壬申の乱】

【問題】

次の各問いに答えよ。

- (1) 百済や高句麗を倒して朝鮮半島を統一した国はどこか。
- (2) わが国は、百済を助けるために大軍を送って(1)と唐の連合軍と戦ったが、この戦いを何というか。
- (3) 中大兄皇子は(2)に敗れた後、国内の改革に専念したが、中大兄皇子は即位して何天皇になったか。
- (4) (3)の天皇の死後、あとつぎをめぐっておこった内乱は何か。
- (5) (4)の乱に勝って即位した天皇は誰か。

【解答欄】

(1)	(2)	(3)	(4)
(5)			

【解答】(1) 新羅 (2) 白村江の戦い (3) 天智天皇 (4) 壬申の乱 (5) 天武天皇

[問題]

次の各問いに答えよ。

- (1) 大化の改新の政治改革が行われていたころ、朝鮮半島では、新羅が(①)と結んで(②)を攻めたので、日本は(②)を救援するために大軍を送った。
- (2) 壬申じんしんの乱は何年におこったか。
- (3) 7世紀末、奈良盆地の南に唐の都とうにならった都が作られた。何という都市か。

[解答欄]

(1)①	②	(2)	(3)
------	---	-----	-----

[解答](1)① 唐 ② 百濟 (2) 672年 (3) 藤原京ふじわらきょう

【】 奈良時代

[年表]

年代	おもなできごと
701年	大宝律令 <small>たいほうりつりょう</small> が制定される
708年	和同開珎 <small>わどうかいほん</small> という銅銭 <small>どうせん</small> が作られる
710年	平城京遷都 <small>へいじやうきやうせん</small> ：唐の長安 <small>ちやうあん</small> を手本にした都，794年までを奈良時代という <ul style="list-style-type: none"> ・中央<small>ちゆうぐわう</small>に二官八省<small>にくわんぱつしやう</small>，地方には国司<small>こくし</small>と郡司<small>ぐんじ</small>，九州には太宰府<small>ださいふ</small> ・班田収授法<small>はんてんしゆうじゆのほう</small>：6歳以上の人々に口分田<small>くぶんてん</small>が与えられ，死ねば国に返させる ・税や兵役<small>せいやへいやく</small>：租<small>そ</small>(稲<small>いん</small>)・庸<small>よう</small>(布<small>ふ</small>など)・調<small>てう</small>(特産物<small>とくさんぶつ</small>)・雑徭<small>ざくじやう</small>・防人<small>ぼうえい</small>・出拳<small>しゅけん</small>
743年	墾田永年私財法 <small>こんでんえいねんしさいほう</small> →公地公民の否定，荘園 <small>じやうえん</small> の始まり

年代	おもなできごと
701年	()が制定される
708年	()という銅銭 <small>どうせん</small> が作られる
710年	()遷都 <small>せん</small> ：唐の()を手本にした都，794年までを()時代という <ul style="list-style-type: none"> ・中央<small>ちゆうぐわう</small>に()，地方には()と郡司<small>ぐんじ</small>，九州には太宰府<small>ださいふ</small> ・()法<small>ほう</small>：6歳以上の人々に()田が与えられ，死ねば国に返させる ・税や兵役<small>せいやへいやく</small>：()<small>(稲)</small>・()<small>(布など)</small>・()<small>(特産物)</small>・雑徭<small>ざくじやう</small>・()<small>(出拳)</small>
743年	()法 <small>ほう</small> →公地公民の否定，荘園 <small>じやうえん</small> の始まり

(参考) 大宝律令慣れはじめ(701)／南都(710)平城京／なよみ(悩み)(743)多き私財法

【】 奈良時代

[要点]

- (1) 701年の大宝律令によって、律令国家のしくみがととのい、710年には奈良に都がうつされた。唐の都長安にならってつくられたこの都を平城京という。中央には三管八省の役所がおかれ、国ごとに国司がおかれた。九州には太宰府が設置された。
- (2) 6年ごとに作られる戸籍にもとづいて6歳以上の男女に口分田を分け与え死ねば返させる班田收授法が定められた。その一方で租(収穫した稲の3%)、庸(成年男子に布で納めさせた)、調(地方の特産物)、雑徭(国司のもとで年間60日以内の労働を行う)などの重い税を課し、高利で稲を強制的に貸し付ける出挙も行われた。また九州の防備のための防人という兵役もあった。
- (3) 重い税にたえかねて口分田をすてて逃亡する農民がふえて田は荒れ、人口増加もあって口分田が不足するようになった。これに対処するため、743年墾田永年私財法を出して、土地をあらたに開墾した場合は、永久に私有を認めることとした。その結果、貴族や寺社などが、逃亡してきた農民などを使って開墾を進めた。これが荘園の始まりである。

[要点確認]

- (1) 701年の()律令によって、律令国家のしくみがととのい、()年には奈良に都がうつされた。()の都()にならってつくられたこの都を()という。中央には()の役所がおかれ、国ごとに()がおかれた。九州には()が設置された。
- (2) 6年ごとに作られる戸籍にもとづいて()歳以上の男女に()田を分け与え死ねば返させる()法が定められた。その一方で()(収穫した稲の3%)、()(成年男子に布で納めさせた)、()(地方の特産物)、()(国司のもとで年間60日以内の労働を行う)などの重い税を課し、高利で稲を強制的に貸し付ける()も行われた。また九州の防備のための()という兵役もあった。
- (3) 重い税にたえかねて口分田をすてて逃亡する農民がふえて田は荒れ、人口増加もあって口分田が不足するようになった。これに対処するため、743年()法を出して、土地をあらたに開墾した場合は、永久に私有を認めることとした。その結果、貴族や寺社などが、逃亡してきた農民などを使って開墾を進めた。これが()の始まりである。

[律令国家の成立と平城京]

[問題]

次の各問いに答えよ。

- (1) 701年に中国(唐)にならって制定された律令を何というか。
- (2) 8世紀の初めに都が今の奈良に移されたが、この都は何と呼ばれたか。
- (3) (2)に都が移されたのは何年か。
- (4) (2)は、どこの国の何という都市を手本にしたものか。
- (5) 中央の役所の仕組みを何というか。
- (6) 国ごとに何をおいたか。

[解答欄]

(1)	(2)	(3)	(4)
(5)	(6)		

[解答](1) 大宝律令 (2) 平城京 (3) 710年 (4) 唐の長安 (5) 二官八省 (6) 国司

[問題]

次の各問いに答えよ。

- (1) 710年から794年までの間を何時代というか。
- (2) 平城京は現在の何県にあったか。
- (3) 平城京の中心部を通るもっとも幅の広い通りを何と叫んだか。
- (4) 中央の役所として、神祇官と一般の政治を行う()官と八つの省をおいた。
- (5) 国司の下には何をおいたか。
- (6) 九州地方の政治のほかに外交や防衛に当たった役所は何か。

[解答欄]


(1)	(2)	(3)	(4)
(5)	(6)		

[解答](1) 奈良時代 (2) 奈良県 (3) 朱雀大路 (4) 太政 (5) 郡司 (6) 太宰府

【問題】

次の各問いに答えよ。

- (1) 大宝律令は何という国にならって作られたものか。
- (2) 律令について、(①)は刑罰のきまり、(②)は政治を行ううえでのきまりである。
- (3) 律令にもとづいて政治が行われる国家を何というか。
- (4) 天皇を中心とする政府を何というか。
- (5) 中臣鎌足の子孫である(①)氏などの有力な一族は代々高い地位と給与を与えられたが、これらの人々を(②)という。
- (6) 奈良時代のはじめ、日本で最初の貨幣(右の写真)が作られたが、何か。



【解答欄】

(1)	(2)①	②	(3)
(4)	(5)①	②	(6)

【解答】(1) 唐 (2)① 律 ② 令 (3) 律令国家 (4) 朝廷 (5)① 藤原 ② 貴族 (6) 和同開珎

【班田收授法と税制】

【問題】

次の各問いに答えよ。

- (1) 戸籍にもとづいて人々に土地を与え、死亡したら国に返させる制度を何というか。
- (2) (1)で人々にあたえられた田を何というか。
- (3) 与えられた田の面積に応じて納めることとされた税を何というか。
- (4) 労役のかわりに布などを納める税を何というか。
- (5) 特産物を納めた税を何というか。
- (6) 成年男子にかかる労役で1年に最大60日国司のもとで労働を行うものを何というか。
- (7) 農民の重い負担となった、国司や豪族から高い利息で稲を借りる制度を何というか。
- (8) 北九州の防衛にあたる兵役は何か。

【解答欄】

(1)	(2)	(3)	(4)
(5)	(6)	(7)	(8)

【解答】(1) 班田收授法 (2) 口分田 (3) 租 (4) 庸 (5) 調 (6) 雑徭 (7) 出挙 (8) 防人

【問題】

次の各問いに答えよ。

- (1) (①)年ごとに戸籍こせきがつくられて、(②)歳以上の人々に口分田が与えられた。
 (2) 男子には(①)段、女子にはその(②)の口分田が与えられた。
 (3) 租は収穫の何%を納めなければならなかったか答えよ。
 (4) 戸籍に登録された農民たちには身分の違いがあった。身分が低いとされる農民たちを何というか。

【解答欄】

(1)①	②	(2)①	②
(3)	(4)		

【解答】(1)① 6 ② 6 (2)① 2 ② 3分の2 (3) 3% (4) 賤民せんみん

【農民の苦しみ】

【問題】

次の各問いに答えよ。

- (1) 奈良時代の農民にとって租・庸・調・雑徭などの税や兵役の義務は限度を超えた負担であった。(①)という和歌集におさめられている「から衣 すそに取りつき泣く子らを 置きてぞ来ぬや 母なしにして」という(②)の歌は、こうした農民の苦悩を表している。
- (2) 10世紀初めの戸籍をみると、右の表のように「女」の数が異常に多くなっている。これは農民が性別をいつわっていたためである。その理由を答えよ。
- | | A | B | C |
|---|-----|-----|-----|
| 男 | 7人 | 6人 | 14人 |
| 女 | 39人 | 25人 | 83人 |
- (3) 奈良時代になると口分田くぶんてんが不足してきたが、その原因は何か。2つ答えよ。

【解答欄】

(1)①	②
(2)	
(3)	

【解答】(1)① 万葉集まんようしゅう ② 防人さきもり (2) 庸，調，兵役，雑徭などは男子のみに課せられていたから。(3) 人口増加。農民の逃亡によって土地が荒れたこと。

[墾田永年私財法]

[問題]

次の各問いに答えよ。

- (1) 土地をあらたに開墾した場合は、永久に私有を認めるという 743年に出された法令は何か。
- (2) (1)の法律により豪族や寺院などが所有するようになった私有地を何というか。漢字 2 字で答えよ。
- (3) (1)の法律により大きく崩れていくことになった原則は何か。漢字 4 字で答えよ。

[解答欄]

(1)	(2)	(3)
-----	-----	-----

[解答](1) 墾田永年私財法 (2) 荘園 (3) 公地公民

[問題]

次の各問いに答えよ。

- (1) 墾田永年私財法を制定した天皇はだれか。
- (2) 墾田永年私財法が出された後の、貴族や寺院の動きを「私有地」という語句を使って書け。

[解答欄]

(1)
(2)

[解答](1) 聖武天皇 (2) 貴族や寺院は、農民などを使って開墾を進め私有地を広げた。

【】 天平文化

[要点]

- (1) 天平文化は、唐と仏教の影響を受けたはなやかな文化である。聖武天皇は、国王が仏教を厚く信仰すれば、わざわいがなくなり国が治まるという教えにもとづき、奈良には東大寺と大仏を、地方ごとに国分寺と国分尼寺をつくらせた。
- (2) この時代に遣唐使が派遣され、唐の制度や文化が取り入れられた。東大寺の正倉院には、遣唐使が持ち帰った工芸品がおさめられている。また、唐の僧である鑑真は失敗を重ね、盲目になりながらも、ようやく来日し、日本に仏教を伝えた。
- (3) この時代の和歌集としては万葉集があり、万葉仮名が使われている。歴史書としては古事記と日本書紀がある。また、国ごとに産物や歴史を記した風土記がつけられた。

[要点確認]


- (1) ()文化は、唐と仏教の影響を受けたはなやかな文化である。()天皇は、国王が仏教を厚く信仰すれば、わざわいがなくなり国が治まるという教えにもとづき、奈良には()寺と大仏を、地方ごとに()寺と国分尼寺をつくらせた。
- (2) この時代に()が派遣され、唐の制度や文化が取り入れられた。東大寺の()には、遣唐使が持ち帰った工芸品がおさめられている。また、唐の僧である()は失敗を重ね、盲目になりながらも、ようやく来日し、日本に仏教を伝えた。
- (3) この時代の和歌集としては()があり、()仮名が使われている。歴史書としては()と()がある。また、国ごとに産物や歴史を記した()がつけられた。

[正倉院・東大寺・国分寺など]

[問題]

次の各問いに答えよ。

- (1) (①)天皇は、仏教の力で国を守ろうと大仏を本尊とする(②)寺を都に建て、地方には(③)や国分尼寺を建てた。
- (2) (1)の天皇の日用品などを納めている、右の写真の倉庫は何か。



【解答欄】

(1)①	②	③	(2)
------	---	---	-----

【解答】(1)① 聖武 ② 東大 ③ 国分寺 (2) 正倉院

【問題】

次の各問いに答えよ。

- (1) 国ごとに国分寺と国分尼寺が建てられ、都には東大寺が建てられた。これらの寺院が建てられた目的を「仏教」「社会不安」という語句を使って説明せよ。
- (2) 民衆の間に仏教を広め、各地に橋やため池などを作り、東大寺の大仏建立にも協力した僧はだれか。
- (3) 正倉院の作りの特色は何か。漢字3字で書け。
- (4) 正倉院の中にはある天皇の愛用品が多く残されている。その天皇とはだれか。
- (5) 正倉院は「()の終着点」ともよばれている。

【解答欄】

(1)			
(2)	(3)	(4)	(5)

【解答】(1) 仏教の力で社会不安を取り除き、国をしずめまもるため。 (2) 行基 (3) 校倉造 (4) 聖武天皇 (5) シルクロード

【遣唐使】

【問題】

次の各問いに答えよ。

- (1) 7世紀から9世紀末にかけて、中国に使者を送り、中国の政治制度や文化を取り入れてきたが、それを何というか。
- (2) 奈良時代から、(1)がたびたび派遣されたのは、何のためか。
- (3) (1)として中国にわたり、遭難して帰れず、唐で一生を終えた人物は誰か。
- (4) 失敗を重ね、盲目になりながらも、ようやく来日し、日本に仏教を伝えた①人物(右の写真)は誰か。②また、その人物が建てた寺は何か。



【解答欄】

(1)	(2)		
(3)	(4)①	②	

【解答】(1) 遣唐使^{けんとうし} (2) 唐の制度や文化を取り入れるため。 (3) 阿倍仲麻呂^{あべのなかまろ} (4)① 鑑真^{かんじん}
 ② 唐招提寺^{とうしょうだいじ}

【歴史書と万葉集】

【問題】

次の各問いに答えよ。

- (1) 奈良時代の文化を何というか。
- (2) 奈良時代の和歌集は何か。
- (3) 奈良時代に作られた歴史書は何か。2つ答えよ。
- (4) 国ごとに作られ、その地方の産物や伝説などをしるした書物は何か。

【解答欄】

(1)	(2)	(3)
(4)		

【解答】(1) 天平文化^{てんぴやう} (2) 万葉集^{まんようしゅう} (3) 古事記,日本書紀^{こじき にほんしょき} (4) 風土記^{ふどき}

【問題】

次の各問いに答えよ。

- (1) 奈良時代になって歴史書が編さんされが、何のために行われたのか述べてよ。
- (2) 「から衣^{ころも}すそに取りつき泣く子らを置きてそ来ぬや母^{おと}なしにして」という万葉集におさめられている歌は誰が歌ったものか。次から選べ。

【渡来人^{とらいじん} 防人^{さきもり} 僧】

- (3) 万葉集で使われている仮名は何か。

【解答欄】

(1)		
(2)	(3)	

【解答】(1) 日本の国家のおこりや、天皇が国を治めるいわれを確かめるため。 (2) 防人
 (3) 万葉仮名

【】 平安時代

[年表]

年代	おもなできごと
794年	桓武天皇が都を平安京に移す
801年	坂上田村麻呂が征夷大将軍に任命され蝦夷の反乱をおさえる
9世紀初	最澄が比叡山に延暦寺を建て天台宗を開く 空海が高野山に金剛峯寺を建て真言宗を開く
894年	中国の国内が乱れ、国力がおとろえたので遣唐使を停止する。
9世紀後半	藤原氏が摂関政治をはじめ(天皇の幼少時は摂政, 成人後は関白) わが国独自の国風文化が栄える 仮名文字の発明→紫式部の源氏物語, 清少納言の枕草子, 古今和歌集, 寝殿造, 大和絵
935年	関東で平将門が反乱を起こす
939年	瀬戸内海で藤原純友が反乱を起こす
11世紀前半	藤原道長・藤原頼通親子のとき: 摂関政治の最盛期 藤原頼通は, 浄土信仰の影響を受けた平等院鳳凰堂を宇治に建てた
1086年	白河上皇が院政をはじめ
1156年	保元の乱がおこる
1159年	平治の乱がおこる(平氏と源氏の争い→平清盛が勝利)
1167年	平清盛が太政大臣となる, 兵庫の港を整備して中国の宋と貿易

年代	おもなできごと
794年	()天皇が都を()京に移す
801年	()が()に任命され蝦夷の反乱をおさえる
9世紀初	()が比叡山に延暦寺を建て天台宗を開く ()が高野山に金剛峯寺を建て真言宗を開く
894年	中国の国内が乱れ、国力がおとろえたので()を停止する。
9世紀後半	藤原氏が()政治をはじめ(天皇の幼少時は(), 成人後は()) わが国独自の()文化が栄える 仮名文字の発明→()の源氏物語,()の枕草子,()和歌集 ()造, ()絵
935年	関東で()が反乱を起こす
939年	瀬戸内海で()が反乱を起こす
11世紀前半	藤原()・藤原()親子のとき: 摂関政治の最盛期 藤原()は, 浄土信仰の影響を受けた()を宇治に建てた
1086年	白河上皇が()政をはじめ
1156年	()の乱がおこる
1159年	()の乱がおこる(平氏と源氏の争い→()が勝利)
1167年	()が太政大臣となる, 兵庫の港を整備して中国の()と貿易

(参考) 鳴くよ(794)ウグイス平安京／白紙(894)に返せ遣唐使／組み込む(935)大軍将門
の乱／威令^{いれい}広(1016)まる道長さん／威令は無(1086)院政開始／いいころ(1156)におこ
った保元の乱／人々ご苦勞(1159)平治の乱／いちいち無理な(1167)清盛さん

【】 平安京と東アジアの変化

[要点]

- (1) 8世紀後半、朝廷内の争いや僧の政治への口出しが多くなった。桓武天皇は、794年に平安京に都を移して政治の改革に着手した。桓武天皇は、坂上田村麻呂を征夷大将軍に任命して蝦夷の反乱を鎮圧させた。また、奈良仏教に対抗させるために真言宗の開祖である空海と、天台宗の開祖である最澄を保護した。
- (2) 9世紀に唐の勢力は急速におとろえた。894年に遣唐使に任命された菅原道真は、唐のおとろえと往復の危険を理由に遣唐使の停止をうったえて認められ、これ以降遣唐使は派遣されなかった。唐は10世紀のはじめにほろび、小国の分立を経て、宋が中国を統一した。同じころ朝鮮半島には高麗がおこった。これらの国との公式な交流はなかったが、商人たちが日本に文物をもたらした。

[要点確認]

- (1) 8世紀後半、朝廷内の争いや僧の政治への口出しが多くなった。()天皇は、794年に()に都を移して政治の改革に着手した。()天皇は、()を()に任命して蝦夷の反乱を鎮圧させた。また、奈良仏教に対抗させるために真言宗の開祖である()と、天台宗の開祖である()を保護した。
- (2) 9世紀に唐の勢力は急速におとろえた。894年に遣唐使に任命された()は、唐のおとろえと往復の危険を理由に遣唐使の停止をうったえて認められ、これ以降遣唐使は派遣されなかった。唐は()世紀のはじめにほろび、小国の分立を経て、()が中国を統一した。同じころ朝鮮半島には()がおこった。これらの国との公式な交流はなかったが、商人たちが日本に文物をもたらした。

[平安京・桓武天皇]

[問題]

次の各問いに答えよ。

- (1) 8世紀末に都が京都に移されたが、この新しい都は何と呼ばれたか。
- (2) (1)に都を移した天皇は誰か。
- (3) 当時、東北地方は蝦夷と呼ばれており、まだ、朝廷の支配が及んでいなかった。(2)の天皇は誰を征夷大将軍に任命して、その反乱をおさえさせたか。
- (4) (2)の天皇は、奈良仏教に対抗させるため、唐で学んで帰国した2人の僧を保護した。
 - ① 比叡山に延暦寺を建てたのは誰か。また、その宗派は何というか。
 - ② 高野山に金剛峯寺を建てたのは誰か。また、その宗派は何というか。

【解答欄】

(1)	(2)	(3)
(4)①		②

【解答】(1) 平安京 (2) 桓武天皇 (3) 坂上田村麻呂 (4)① 最澄、天台宗 ② 空海、真言宗

【問題】

次の各問いに答えよ。

- (1) 桓武天皇が平安京に都を移したのは何年か。
- (2) 平安京は現在の何市にあるか。
- (3) (1)から約 400 年間の時代を何というか。
- (4) 桓武天皇が平安京へ都を移した理由を述べよ。
- (5) 当時、東北地方は(①)と呼ばれており、まだ、朝廷の支配が及んでいなかった。
桓武天皇は坂上田村麻呂を(②)に任命して、その反乱をおさえさせ、(①)の指導者の(③)を河内国で処刑させた。
- (6) ①最澄が比叡山に建てた寺院は何か。②また、その寺院は現在の何県にあるか。
- (7) ①空海が高野山に建てた寺院は何か。②また、その寺院は現在の何県にあるか。

【解答欄】

(1)	(2)	(3)	
(4)			
(5)①	②	③	(6)①
②	(7)①	②	

【解答】(1) 794 年 (2) 京都市 (3) 平安時代 (4) 貴族や僧の争いが激しくなり政治が混乱したため、新しい都で政治を立て直そうとしたため。 (5)① 蝦夷 ② 征夷大將軍
③ アテルイ (6)① 延暦寺 ② 滋賀県 (7)① 金剛峯寺 ② 和歌山県

[東アジアの変化と遣唐使の停止]

[問題]

次の各問いに答えよ。

- (1) 遣唐使が停止されたのは何年か。
- (2) 遣唐使停止の意見を出して、後に太宰府だざいふに流された人物は誰か。

[解答欄]

(1)	(2)
-----	-----

[解答](1) 894年 (2) 菅原道真すがわらのみちざね

[問題]

次の各問いに答えよ。

- (1) 唐は何世紀に滅んだか。
- (2) 唐が滅んだ後、小国の分立を経て、中国を統一したのは何という王朝か。
- (3) 唐が滅亡した後、10世紀のはじめ朝鮮半島にたてられた国は何か。

[解答欄]

(1)	(2)	(3)
-----	-----	-----

[解答](1) 10世紀のはじめ (2) 宋そう (3) 高麗こうらい

【】 摂関政治と文化の国風化

[要点]

- (1) 9世紀中ごろから藤原氏が勢力をのびし、娘を天皇のきさきにして、孫である皇子を天皇にたてた。天皇が幼少のときは摂政として、成人してからは関白として政治の実権を握った。これを摂関政治という。11世紀の藤原道長・藤原頼通親子のときがその最盛期であった。藤原頼通は、浄土信仰の影響を受けた平等院鳳凰堂を宇治に建てた。
- (2) 平安時代半ばには文化の日本化が進んだ。これを国風文化という。貴族の住居は自然を取り入れた寝殿造となり、絵画では大和絵が描かれた。また、仮名文字の発明によって文学が発達した。紫式部の源氏物語、清少納言の枕草子、紀貫之らが編集した古今和歌集が代表的作品である。

[要点確認]

- (1) 9世紀中ごろから藤原氏が勢力をのびし、娘を天皇のきさきにして、孫である皇子を天皇にたてた。天皇が幼少のときは()として、成人してからは()として政治の実権を握った。これを()政治という。11世紀の藤原()・()親子のときがその最盛期であった。藤原()は、浄土信仰の影響を受けた()を宇治に建てた。
- (2) 平安時代半ばには文化の日本化が進んだ。これを()文化という。貴族の住居は自然を取り入れた()造となり、絵画では()が描かれた。また、()文字の発明によって文学が発達した。()の源氏物語、()の枕草子、紀貫之らが編集した()和歌集が代表的作品である。

[摂関政治]

[問題]

次の各問いに答えよ。

- (1) 藤原氏は、平安時代に天皇の補佐役となって実権をにぎり、政治を行った。このような政治を何というか。
- (2) 藤原氏は天皇が幼少のときは(①), 天皇が成人してからは(②)として政治の実権を握った。
- (3) 藤原氏はどのようにして政治の実権を握ったのか、「天皇、娘」という言葉を使って述べよ。
- (4) ①藤原氏の摂関政治は誰親子のときが最盛期か。②また、それは何世紀か。

【解答欄】

(1)	(2)①	②
(3)		
(4)①	②	

【解答】(1) 摂関政治 (2)① 摂政^{せつしょう} ② 関白^{かんぱく} (3) 娘を天皇のきさきにし、その子を次の天皇に立てることによって実権を握った。 (4)① 藤原道長^{みちなが}・頼通^{よりみち} ② 11世紀

【問題】

次の各問いに答えよ。

- (1) 「この世をば、わが世とぞ思う望月^{もちづき}のかけたることもなしと思えば」という和歌をつくったのは誰か。
- (2) 藤原氏の権力を支えたのは、ぼう大な私有地だが、この私有地を何というか。
- (3) 摂関政治の頃、地方の政治はほとんど(A)にまかされたので、自分の収入を増やすことだけにはげんだり、任地に代理を送って収入だけを得たりする(A)が多くなり、地方の政治は乱れた。Aにはいる語句を漢字2字で書け。

【解答欄】

(1)	(2)	(3)
-----	-----	-----

【解答】(1) 藤原道長 (2) 荘園^{しやうえん} (3) 国司

【国風文化】

【問題】

次の各問いに答えよ。

- (1) 平安時代半ば、わが国独自の文化が栄えた。この文化名を書け。
- (2) 漢字の「へん」や「つくり」などからできた文字を何というか。
- (3) ①平安時代の代表的随筆^{ずいひつ}は何か。②また、その作者は誰か。
- (4) ①平安時代の代表的小説は何か。②またその作者は誰か。
- (5) 平安時代の代表的和歌集は何か。
- (6) 貴族の住居は、美しい日本の自然を取り入れたものになったが、この様式を何というか。

【解答欄】

(1)	(2)	(3)①	②
(4)①	②	(5)	(6)

【解答】(1) 国風文化 (2) 仮名文字 (3)① 枕草子 ② 清少納言 (4)① 源氏物語 ② 紫式部 (5) 古今和歌集 (6) 寝殿造

【問題】

次の各問いに答えよ。

- 平安時代に漢字のへんやつくりから(①)が生まれ、草書体から(②)が生まれた。
- 平安時代に入って女性によってすぐれた文学作品がつけられた理由を説明せよ。
- 古今和歌集の編者は誰か。
- 唐風の絵画にかわり、日本の自然や風俗を描いた絵画を何というか。

【解答欄】

(1)①	②
(2)	
(3)	(4)

【解答】(1)① 片仮名 ② 平仮名 (2) 仮名文字の発明によってこまやかな感情を書き表すことができるようになったから (3) 紀貫之 (4) 大和絵

【浄土信仰】

【問題】

次の各問いに答えよ。

- 阿弥陀仏にすがって極楽浄土に生まれ変わろうという信仰は何か。
- (1)の信仰の影響を受けてつけられた宇治にある右図の建築物は何か。
- (2)をつくったのは誰か。



【解答欄】

(1)	(2)	(3)
-----	-----	-----

【解答】(1) 浄土信仰 (2) 平等院鳳凰堂 (3) 藤原頼通

【】 武士の登場・院政・平清盛

[要点]

- (1) 中央の武官と地方の豪族との、^{こんいん}婚姻や主従関係を結ぶなどの交流の中から武士がおこり、源氏や平氏などの武士団が生まれた。10世紀の中ごろ、関東では^{たいらのまさかど}平将門が乱を起こし、瀬戸内では^{すむらも}藤原純友が乱を起こした。東北地方では、^{おうしゅう}奥州藤原氏が勢力をのぼし、^{じょうとしんこう}浄土信仰の影響を受けて^{ひらいまが}平泉に^{ちゅうぜんじこんりきどう}中尊寺金色堂をつくった。
- (2) ^{しろかわ}白河天皇は、位を皇子にゆずってからも上皇として政治の実権を握った。これが^{いんせい}院政の始まりである。1156年に^{ほうげん}保元の乱、1159年に^{へいご}平治の乱がおこったが、これに勝利した^{たいらのきよもり}平清盛は、1167年に^{だいじょうだいじん}太政大臣となって政治の実権をにぎった。平清盛は、兵庫の港を整備して中国の^{そう}宋との間の貿易を積極的に行った。

[要点確認]

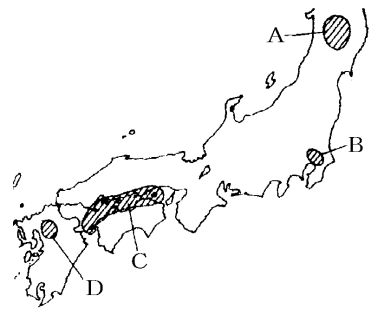
- (1) 中央の武官と地方の豪族との、^{こんいん}婚姻や主従関係を結ぶなどの交流の中から()がおこり、()氏や()氏などの武士団が生まれた。10世紀の中ごろ、関東では()が乱を起こし、瀬戸内では()が乱を起こした。東北地方では、()氏が勢力をのぼし、^{じょうとしんこう}浄土信仰の影響を受けて()に()寺()堂をつくった。
- (2) ^{しろかわ}白河天皇は、位を皇子にゆずってからも上皇として政治の実権を握った。これが()の始まりである。1156年に()の乱、1159年に()の乱がおこったが、これに勝利した()は、1167年に()となって政治の実権をにぎった。()は、兵庫の港を整備して中国の()との間の貿易を積極的に行った。

[武士の登場]

[問題]

次の各問いに答えよ。

- (1) 豪族や武官の交流の中からおこった武士が従者を組織してつくりあげたものは何か。
- (2) (1)の中でも有力になったのは何氏と何氏か。
- (3) ①10世紀の中ごろ、反乱をおこし、自ら^{しんのう}新皇(新しい天皇)と名乗ったのは誰か。②また、その場所は右の地図のA～Dのどこか。
- (4) ①10世紀の中ごろ、海賊を率いて反乱をおこしたのは誰か。②また、その場所は右の地図のA～Dのどこか。



【解答欄】

(1)	(2)	(3)①	②
(4)①	②		

【解答】(1) 武士団 (2) 源氏と平氏 (3)① 平将門^{たいらのまさかど} ② B (4)① 藤原純友^{すみとも} ② C

【問題】

次の各問いに答えよ。

- (1) 武士が発生したのは何世紀か。
- (2) 平将門の乱、藤原純友の乱は同じころにおこったが、それは何世紀か。
- (3) 平将門の乱がおこったのはどこか。次の[]から1つ選べ。

[九州 瀬戸内 近畿 関東 東北]

- (4) 藤原純友の乱がおこったのはどこか。(3)の[]から1つ選べ。

【解答欄】

(1)	(2)	(3)	(4)
-----	-----	-----	-----

【解答】(1) 10世紀 (2) 10世紀 (3) 関東 (4) 瀬戸内

【問題】

次の各問いに答えよ。

- (1) 11世紀の後半、安倍氏^{あべし}や清原氏^{きよはらし}の勢力争い(前九年の役・後三年の役)がおこったが、関東の武士を率いてこれをしずめたのは誰か。
- (2) 前九年の役・後三年の役がおこったのはどこか。次の[]から1つ選べ。
[九州 瀬戸内 近畿 関東 東北]
- (3) 安倍氏や清原氏にかわって勢力をのぼし、砂金や馬の売買で築いた富をもとに東北地方の統一をすすめたのは何氏か。
- (4) ①(3)が根拠地にした町はどこか。②また、それは現在の何県にあるか。
- (5) (3)が建てた寺院は何か。
- (6) ①(5)の寺院にある阿弥陀堂^{あみだどう}を何というか。②また、何という信仰の影響を受けたものか。

【解答欄】

(1)	(2)	(3)	(4)①
②	(5)	(6)①	②

【解答】(1) 源義家 (2) 東北 (3) 奥州藤原氏 (4)① 平泉 ② 岩手県 (5) 中尊寺 (6) ① 金色堂 ② 浄土信仰

【院政と武士】

【問題】

次の各問いに答えよ。

- (1) 白河上皇が院政を開始したのは何年か。
- (2) 武士の成長を支えたのは(①)という土地制度であった。武士は、開墾した領地を(②)して貴族や寺社の(①)とし、自分は(③)となって勢力を築いた。院政が始まると、上皇は(①)を保護したので、(①)は上皇のもとに集まった。
- (3) 武士たちは興福寺や延暦寺の武装した僧からも朝廷をまもった。武装した僧を何というか。

【解答欄】

(1)	(2)①	②	③
(3)			

【解答】(1) 1086年 (2)① 荘園 ② 寄進 ③ 荘官 (3) 僧兵

【平清盛】

【問題】

次の各問いに答えよ。

- (1) 11世紀の後半、白河天皇は、天皇の位をしりぞいて上皇となった後も自ら政治を行った。このような政治を何というか。
- (2) 1156年におこった乱は何か。
- (3) 1159年におこった乱は何か。
- (4) ①(3)の乱のとき、対立したのは何氏と何氏か。②また、この乱に勝って太政大臣になったのは誰か。
- (5) (4)の人物は、中国の何という王朝と貿易を行って利益をあげたか。
- (6) (4)の人物が、(5)の貿易を行うために整備した港はどこか。

【解答欄】

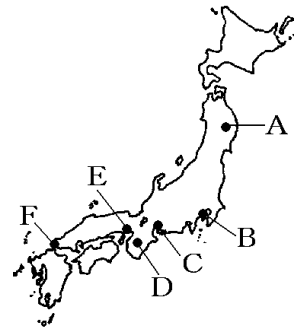
(1)	(2)	(3)	(4)①
②	(5)	(6)	

【解答】(1) 院政^{いんせい} (2) 保元の乱^{ほうげん} (3) 平治の乱^{へいじ} (4)① 源氏と平氏^{たいらのきよもり} ② 平清盛^{そう} (5) 宋
(6) 兵庫

【問題】

次の各問いに答えよ。

- (1) (①)天皇は、1086年、天皇の位を8歳の子にゆずって(②)となり、院とよばれる御所に住んだ。そして、院に移ったあとも院政をおこなった。
- (2) 保元の乱と平治の乱をきっかけとして、政治権力の担い手がどのように変化したかを説明せよ。
- (3) 平清盛は、武士として初めての地位について、政治の実権をにぎった。何という地位か。
- (4) (①)は娘を(②)のきさきとし、一族で高い官職を独占し、多くの公領や(③)を支配した。そのやり方は貴族とかわらないものであったため、貴族や寺社の反感があった。
- (5) 平清盛が行った宋との貿易で、主な輸入品を2つあげよ。
- (6) 平清盛は大輪田泊(兵庫)で宋との貿易を行った。大輪田泊の位置を地図のA～Fから選んで答えよ。



【解答欄】

(1)①	②		
(2)			
(3)	(4)①	②	③
(5)	(6)		

【解答】(1)① 白河 ② 上皇 (2) 武士が政治のうえで大きな力をふるうようになった。
(3) 太政大臣 (4)① 平清盛 ② 天皇 ③ 荘園 (5) 織物、宋銭 (6) E

[印刷／他のPDFファイルについて]

※ このファイルは、FdText 社会(9,600 円)の一部を PDF 形式に変換したサンプルで、印刷はできないようになっています。製品版の FdText 社会は Word の文書ファイルで、印刷・編集を自由に行うことができます。

※ FdText(英語・数学・社会・理科・国語)全分野のPDFファイル、および製品版の購入方法は<http://www.fdtype.com/txt/> に掲載しております。

※ 弊社は、FdText のほかに FdData 中間期末過去問(数学・理科・社会)(各 18,900 円)を販売しております。PDF 形式のサンプル(全内容)は、

<http://www.fdtype.com/dat/> に掲載しております。

※ [FdData 無料閲覧ソフト(RunFdData)]を、Windows のデスクトップ上にインストールすれば、FdData 中間期末の全 PDF ファイルを自由に閲覧できます。次のリンクを左クリックするとインストールが開始されます。

【 <http://fddata.deci.jp/lnk/instRunFdDataWDs.exe> 】

※ダイアログが表示されたら、【実行】ボタンを左クリックしてください。インストール中、いくつかの警告が出ますが、[実行][許可する][次へ]等を選択します。

【Fd教材開発】(092) 404-2266

<http://www.fdtype.com/dat/>