

【】 ヨーロッパ

[年表]

西暦	おもなできごと
1096年	第一回十字軍
1492年	コロンブス,アメリカ大陸を発見
1498年	バスコ・ダ・ガマ,インド航路を発見
1517年	ドイツのルターの宗教改革
1519年	マゼラン,世界一周

西暦	おもなできごと
1096年	第一回()軍
1492年	(),アメリカ大陸を発見
1498年	(),インド航路を発見
1517年	ドイツの()の宗教改革
1519年	(),世界一周

(参考) いよ！国(1492)発見コロンブス／意欲は(1498)はるかにインド航路／以後否(1517)とルター宗教改革／世界一周一行行く(1519)

【】 十字軍・ルネサンス

[要点]

- (1) 中世のヨーロッパ諸国においては、各国のキリスト教会の上に立つローマ教皇が各国の王をしのぐ力を持っていた。
- (2) 11世紀の中ごろ、西アジアに、イスラム教徒であるトルコ人の強国が生まれた。ローマ教皇は、聖地エルサレムへのキリスト教徒の巡礼が、このトルコ人によってさまたげられていると主張し、国王や領主にエルサレムの奪回をよびかけた。こうして、200年にわたって7回の遠征軍が送られた。これを十字軍という。しかし、イスラム教徒の強い反撃にあい、十字軍は失敗に終わった。十字軍の結果、教皇や領主の力がおとろえ、国王の力が増大した。また、西アジアとの貿易が盛んになりイタリアの都市が栄えた。
- (3) 十字軍は、ヨーロッパ社会にイスラム世界が保存していたギリシャ・ローマなどの文化を見直させるきっかけとなり、イタリアの都市を中心に。新たな文化面での動きをひきおこした。こうした動きをルネサンスという。美術では、レオナルド・ダ・ビンチの「モナ・リザ」、ミケランジェロの「ダビデ」が有名である。

[要点確認]

- (1) 中世のヨーロッパ諸国においては、各国のキリスト教会の上に立つ()が各国の王をしのぐ力を持っていた。
- (2) 11世紀の中ごろ、西アジアに、()教徒であるトルコ人の強国が生まれた。()は、聖地()へのキリスト教徒の巡礼が、このトルコ人によってさまたげられていると主張し、国王や領主に()の奪回をよびかけた。こうして、200年にわたって7回の遠征軍が送られた。これを()という。しかし、イスラム教徒の強い反撃にあい、十字軍は失敗に終わった。十字軍の結果、教皇や領主の力がおとろえ、()の力が増大した。また、西アジアとの貿易が盛んになり()の都市が栄えた。
- (3) 十字軍は、ヨーロッパ社会にイスラム世界が保存していたギリシャ・ローマなどの文化を見直させるきっかけとなり、()の都市を中心に。新たな文化面での動きをひきおこした。こうした動きを()という。美術では、()の「モナ・リザ」、()の「ダビデ像」が有名である。

[中世ヨーロッパ・十字軍]

[問題]

次の各問いに答えよ。

- (1) キリスト教の聖地とされたのは何という都市か。
- (2) (1)があった西アジアにトルコ人の強国がうまれたが、このトルコ人は何という宗教の教徒であったか。
- (3) (1)へのキリスト教徒の巡礼じゆんれいがトルコ人によってさまたげられたとして、聖地の奪回せいち だつがいを国王や領主によびかけたのは誰か。
- (4) (1)をとり返すため、約200年にわたって何度も遠征軍が送られたが、この遠征軍を何というか。
- (5) (4)の結果、力を強めたのは次のどれか。
[ローマ教皇 教会 国王 騎士]
- (6) (4)の結果、西アジアとの貿易がさかんになったが、これによって栄えたのはどこの都市か。次から選べ。
[ドイツ イタリア フランス]

[解答欄]

(1)	(2)	(3)	(4)
(5)	(6)		

[解答](1) エルサレム (2) イスラム教 (3) ローマ教皇きょうこう (4) 十字軍じゅうじぐん (5) 国王 (6) イタリア

[ルネサンス]

[問題]

次の各問いに答えよ。

- (1) 15世紀頃のヨーロッパで人間や自然をありのままに見ようとした古代ギリシャ・ローマの文化を学び直す運動が起こったが、これを何というか。カタカナで答えよ。
- (2) (1)はどこの都市で始まったか。次から選べ。
[ドイツ イタリア フランス]
- (3) 「モナ・リザ」や「最後の晩さん」を描いたイタリアの画家はだれか。
- (4) ミケランジェロの代表的彫刻は何か。

【解答欄】

(1)	(2)	(3)
(4)		

【解答】(1) ルネサンス (2) イタリア (3) レオナルド・ダ・ビンチ (4) ダビデ

【】 地理上の発見・宗教改革

[要点]

- (1) スペインとポルトガルは、香料を求めて直接アジアへ行く航路を求めた。スペインの援助を受けたコロンブスは大西洋を西へ向かい、1492年、アメリカ大陸を発見した。1498年、バスコ・ダ・ガマはアフリカ南端をまわってインドに至る航路を発見し、さらに1519年マゼランの一行は世界一周に成功した。
- (2) 16世紀のヨーロッパでドイツのルターは、免罪符販売などの教会の腐敗を批判し、宗教改革を始めた。改革派のキリスト教を新教、その信徒をプロテスタントという。これに対し、カトリック教会側でも反省がおこり、ロヨラやフランシスコ・ザビエルはイエズス会を組織して、カトリックを海外に広めた。

[要点確認]

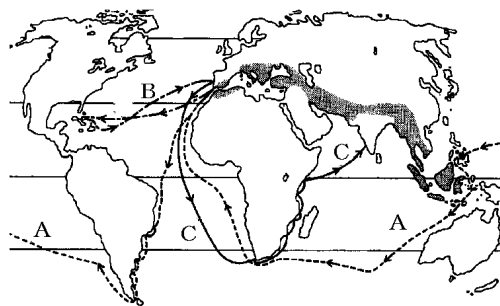
- (1) スペインとポルトガルは、()を求めて直接()へ行く航路を求めた。スペインの援助を受けた()は大西洋を西へ向かい、1492年、()大陸を発見した。1498年、()はアフリカ南端をまわってインドに至る航路を発見し、さらに1519年()の一行は世界一周に成功した。
- (2) 16世紀のヨーロッパでドイツの()は、免罪符販売などの教会の腐敗を批判し、()改革を始めた。改革派のキリスト教を新教、その信徒を()という。これに対し、カトリック教会側でも反省がおこり、ロヨラや()は()会を組織して、カトリックを海外に広めた。

[地理上の発見]

[問題]

次の各問いに答えよ。

- (1) スペインやポルトガルが新航路の発見に力を注いだのは、どこの地域の何を求めたためか。
- (2) 大西洋を西に行けばインドにつくと考えて、新大陸を発見した人物は誰か。また、その航路は地図のA~Cのどれか。
- (3) ヨーロッパからアフリカの南端をまわり、インドへ行く航路を、ヨーロッパ人で初めて発見したのはだれか。また、その航路は地図のA~Cのどれか。



(4) はじめて世界一周をしたのは誰の一行か。またその航路は地図の A～C のどれか。

【解答欄】

(1)	(2)	(3)
(4)		

【解答】(1) アジアの香辛料 (2) コロンブス, B (3) バスコ・ダ・ガマ, C (4) マゼラン, A

【問題】

次の各問いに答えよ。

- (1) 15, 16 世紀のころヨーロッパ人は、新航路を開拓してさかんに海外進出を行っていたが、①この時代を何というか。②また、その中心になった国を 2 つあげよ。
- (2) コロンブスはどこの国の支援を受けて航海に乗り出したか。
- (3) ①コロンブスが新大陸を発見したのは何年か。②また、新大陸とはどこか。
- (4) コロンブスは、到着した島をどこの一部だと思ったか。

【解答欄】

(1)①	②	(2)
(3)①	②	(4)

【解答】(1)① 大航海時代 ② スペイン, ポルトガル (2) スペイン (3)① 1492 年 ② アメリカ大陸 (4) インド

【アメリカの植民地化・アジアへの進出】

【問題】

次の各問いに答えよ。

- (1) スペインによって滅ぼされたアメリカ大陸の国を 2 つあげよ。また、その位置を地図の a, b から選べ。
- (2) アメリカ大陸はヨーロッパ人の植民地になったが、先住民だけでは労働力が足りなかつたのでアフリカの黒人を(①)として輸入し、アメリカ大陸・ヨーロッパ・アフリカの間で(②)貿易が行われた。
- (3) 地理上の発見ののち、アジアに進出して香辛料などのアジア貿易で巨利をあげた国はどこか。
- (4) 16 世紀末にスペインから独立して、東インド会社を設立し、(3)の国にかわってアジアに進出した国はどこか。



【解答欄】

(1)	(2)①	②
(3)	(4)	

【解答】(1) アステカ(a), インカ帝国(b) (2)① 奴隷 ② 三角 (3) ポルトガル (4) オランダ

【宗教改革】

【問題】

次の各問いに答えよ。

- (1) 16世紀のヨーロッパで、苦しくなった財政を補うために教会が売り出したものは何か。
- (2) ドイツにおいて、(1)を批判し、人は信仰しんこうによってのみ救われるのであり、信仰のよりどころは聖書であると主張したのは誰か。
- (3) (2)の改革を何というか。
- (4) スイスやフランスにおいて(3)の改革を行ったのは誰か。
- (5) (2)らの教えに従った新教徒しんきょうとを何というか。(カタカナで答えよ)
- (6) カトリック教会の反省と勢力回復のためにスペインで作られ海外布教に力をそいだ会は何か。
- (7) (6)の代表者の一人で日本にもやってきたのは誰か。

【解答欄】

(1)	(2)	(3)	(4)
(5)	(6)	(7)	

【解答】(1) 免罪符めんざいふ (2) ルター (3) 宗教改革 (4) カルバン (5) プロテスタント (6) イエズス会 (7) フランシスコ・ザビエル

【】 安土桃山時代

[年表]

西暦	おもなできごと
1543年	ポルトガル人が鹿児島県の種子島 <small>（ちまがしま）</small> に流れ着き鉄砲を伝える
1549年	イエズス会のフランシスコ・ザビエルがキリスト教を伝える
1560年	桶狭間の戦い <small>（たけがさのたたかい）</small> （織田信長が奇襲によって今川義元 <small>（いまがわのよしもと）</small> を破る） この頃、南蛮貿易 <small>（なんばんのうりばい）</small> がさかんになる
1573年	織田信長が足利義昭 <small>（あしかがのよしまさ）</small> を京都から追放して室町幕府を滅亡させる
1575年	長篠の戦い <small>（ながしののたたかい）</small> （信長、鉄砲隊を使って武田氏を破る） 信長、安土城 <small>（あづちのしろ）</small> を築き、城下では築市・築座 <small>（あきいち・あきざ）</small> を実施
1582年	本能寺の変 <small>（ほんのうじのへん）</small> がおこり、信長は家臣の明智光秀 <small>（あけちのみつひで）</small> に殺される
1582年	豊臣秀吉、太閤検地 <small>（たいこうけんち）</small> を実施し収穫高は石高で表す
1588年	刀狩令 <small>（かたなかりがい）</small> を出して兵農分離をすすめる
1590年	豊臣秀吉が全国を統一する ～この頃から桃山文化 <small>（ももやまのぶんか）</small> が栄える～
1592年	秀吉、朝鮮に出兵→李舜臣 <small>（りしゆんしん）</small> のひきいる水軍にやぶれ苦戦

西暦	おもなできごと
1543年	ポルトガル人が鹿児島県の()島に流れ着き()を伝える
1549年	イエズス会の()がキリスト教を伝える。
1560年	()の戦い <small>（たけがさのたたかい）</small> （織田信長が奇襲によって今川義元 <small>（いまがわのよしもと）</small> を破る） この頃、()貿易 <small>（なんばんのうりばい）</small> がさかんになる
1573年	織田信長が足利義昭 <small>（あしかがのよしまさ）</small> を京都から追放して()幕府を滅亡させる
1575年	()の戦い <small>（ながしののたたかい）</small> （信長、鉄砲隊を使って武田氏を破る） 信長、安土城 <small>（あづちのしろ）</small> を築き、城下では()を実施
1582年	()の変 <small>（ほんのうじのへん）</small> がおこり、信長は家臣の明智光秀 <small>（あけちのみつひで）</small> に殺される
1582年	豊臣秀吉、()を実施し収穫高は石高で表す
1588年	()令 <small>（かたなかりがい）</small> を出して兵農分離をすすめる
1590年	豊臣秀吉が全国を統一する ～この頃から()文化 <small>（ももやまのぶんか）</small> が栄える～
1592年	秀吉、朝鮮に出兵→()のひきいる水軍にやぶれ苦戦

(参考)一期四散(1543)の鉄砲伝来／以後よく(1549)発展キリスト教／以後情(1573)けは無用と義昭追放／一期の罰(1582)か本能寺／以後刃は(1588)没収刀狩／東国まる(1590)めて全国統一／異国に(1592)出兵文禄の役

【】 鉄砲とキリスト教の伝来

[要点]

1543年、ポルトガル人をのせた船が、台風にあつて現在の鹿児島県の種子島たねがしまに流れ着き、鉄砲てつぽうが伝えられた。これ以降、ポルトガル人やスペイン人との南蛮貿易なんぼんが盛んになった。1549年、イエズス会の指導者であるフランシスコ・ザビエルかごしやまが鹿児島島に上陸して日本にキリスト教を伝えた。

[要点確認]

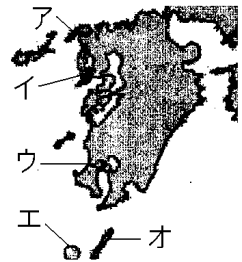
1543年、()人をのせた船が、台風にあつて現在の鹿児島県の()島に流れ着き、()が伝えられた。これ以降、ポルトガル人やスペイン人との()貿易が盛んになった。1549年、イエズス会の指導者である()が()に上陸して日本に()教を伝えた。

[鉄砲の伝来・キリスト教の伝来]

[問題]

次の各問いに答えよ。

- (1) 16世紀中頃、ヨーロッパ人をのせた船が、台風にあつて日本のある場所に流れ着いたが、①その場所の名前を答えよ。
②その場所を右の地図のア～オから選べ。
- (2) (1)は何年のできごとか。
- (3) (1)のヨーロッパ人とはどこの国の人か。
- (4) (1)のとき(3)の人が伝えたものは何か。
- (5) 16世紀中頃から(3)やスペインとの貿易がさかんになったが、この貿易を何というか。
- (6) 1549年に日本にキリスト教を伝えたのは誰か。
- (7) (6)が最初に上陸したのはどこか。右の地図のア～オから選べ。



[解答欄]

(1)①	②	(2)	(3)
(4)	(5)	(6)	
(7)			

[解答](1)① 種子島たねがしま ② オ (2) 1543年 (3) ポルトガル (4) 鉄砲てつぽう (5) 南蛮貿易なんぼん
(6) フランシスコ・ザビエル (7) ウ

【問題】

次の各問いに答えよ。

- (1) 鉄砲伝来の影響を次の語句を使用して説明せよ。

[全国統一 鉄砲 戦法 織田信長]

- (2) ポルトガル人につづいて(①)人も来航して貿易を行うようになった。ポルトガル人や(①)人をあわせて(②)人と呼んだ。
- (3) 鉄砲の生産がさかんになった現在の大阪府にある都市名を答えよ。
- (4) 南蛮貿易において、ヨーロッパ人たちは、鉄砲・火薬・中国産の生糸などを日本にもたらし、()などを持ち帰った。

【解答欄】

(1)			
(2)①	②	(3)	(4)

【解答】(1) 鉄砲は織田信長などの戦国大名によって活用され、戦法の変化をもたらすとともに、全国統一を早める力となった。 (2)① スペイン ② 南蛮 (3) 堺 (4) 銀

【問題】

次の各問いに答えよ。

- (1) ザビエルは、①日本のどこに上陸したか。②また、それは何年か。
- (2) ザビエルによって日本に伝えられ、日本の社会に大きな影響を与えた宗教は何か。
- (3) ザビエルによって伝えられた(2)の宗教の宗派は、①(カトリック／プロテスタント)で、ザビエルは(①)の(②)会の指導者の一人であった。
- (4) ザビエルが来日した背景となったヨーロッパの情勢を、「宗教改革」の語句を使って書け。
- (5) 仏教からキリスト教に宗教替えした信者を日本では(①)と呼んだ。大友・大村・有馬の(①)大名は、1582年宣教師のすすめで、4人の少年使節をローマ教皇のもとへ送った。この使節を(②)という。

【解答欄】

(1)①	②	(2)	(3)①
②	(4)		
(5)①	②		

【解答】(1)① 鹿児島 ② 1549 年 (2) キリスト教 (3)① カトリック ② イエズス
(4) 宗教改革に対抗するためカトリック教会は海外布教に力を入れた。 (5)① キリシタ
ン ② てんしょうげんおうしょうねんしせつ 天正遣欧少年使節

【】 安土桃山時代

[要点]

- (1) 織田信長は今川義元を桶狭間の戦いでやぶり、1573年には室町幕府をほろぼした。さらに、長篠の戦いで、鉄砲を使った集団戦法で武田氏をやぶった。琵琶湖のほとりに安土城を築き、城下に薬市・薬座令を出して誰でも自由に商工業ができるようにし、さらに各地の関所を廃止した。
- (2) 信長のあとをついだ豊臣秀吉は大阪城を作り、1590年に全国を統一した。秀吉は、太閤檢地を行い、収穫高は石高で示させた。これによって荘園は完全に消滅した。また、刀狩令を出して兵農分離を進めた。秀吉は最初キリスト教を保護したが、のちにこれを禁止した。1592年、朝鮮に出兵したが、李舜臣のひきいる水軍にやぶれ、苦戦した。

[要点確認]

- (1) 織田信長は今川義元を()の戦いでやぶり、1573年には()幕府をほろぼした。さらに、()の戦いで、()を使った集団戦法で()氏をやぶった。琵琶湖のほとりに()城を築き、城下に()令を出して誰でも自由に商工業ができるようにし、さらに各地の()を廃止した。
- (2) 信長のあとをついだ豊臣秀吉は()城を作り、()年に全国を統一した。秀吉は、()を行い、収穫高は石高で示させた。これによって荘園は完全に消滅した。また、()令を出して()分離を進めた。秀吉は最初()教を保護したが、のちにこれを禁止した。1592年、朝鮮に出兵したが、()のひきいる水軍にやぶれ、苦戦した。

[織田信長の統一事業]

[問題]

次の各問いに答えよ。

- (1) 織田信長が鉄砲隊を使って武田氏を破った戦いはいか。
- (2) 織田信長が座の特権を廃止し、自由に商人が取り引きできるようにした制度を何というか。

[解答欄]

(1)	(2)
-----	-----

[解答](1) 長篠の戦い (2) 薬市・薬座

【問題】

次の各問いに答えよ。

- (1) 織田信長が今川氏を破った戦いを何というか。
- (2) 信長は、三河の()と同盟を結んだ。
- (3) 信長は彼を倒そうとした将軍(①)を京都から追放して、(②)年に(③)幕府を滅ぼした。
- (4) 右図の長篠の戦いについて、
 - ① 信長が破った大名は何氏か。
 - ② 信長が、足軽に持たせた武器は何か。
 - ③ 信長軍を表しているのは右図の右側か左側か。選んだ理由もあわせて答えよ。
- (5) 信長が琵琶湖のほとりに築いた5層の天守閣をもつ城は何か。
- (6) 信長が出した楽市・楽座令によって、城下で人々はどのようなことができるようになったか。
- (7) 信長によって攻められ自治を奪われた都市はどこか。
- (8) 信長は、多くの莊園をもって勢力をふるっていた()寺を焼き討ちにした。
- (9) 信長は、北陸や東海地方の(①)をおさえ、その根拠地である大阪の(②)寺を攻め、10年間の戦いの末にこれを降伏させた。
- (10) 信長はキリスト教に対してどのような政策をとったか。
- (11) 信長は(①)で家臣の(②)によって殺された。



【解答欄】

(1)	(2)	(3)①	②
③	(4)①	②	
③			(5)
(6)			(7)
(8)	(9)①	②	
(10)		(11)①	②

【解答】(1) 桶狭間の戦い (2) 徳川家康 (3)① 足利義昭 ② 1573 ③ 室町 (4)① 武田氏 ② 鉄砲 ③ 鉄砲を使っているのが左側である。 (5) 安土城 (6) だれでも自由に商工業ができるようになった。 (7) 堺 (8) 延暦 (9)① 一向一揆 ② 本願 (10) 仏教勢力と対抗するため保護した。 (11)① 本能寺 ② 簡齋光秀

[豊臣秀吉の統一事業]

[問題]

次の各問いに答えよ。

- (1) 織田信長が本能寺で明智光秀によって殺された後、いちはやく明智光秀をたおして、信長の統一事業の後継者となったのは誰か。
- (2) (1)の人物が全国を統一したのは何年か。
- (3) (1)の人物は、朝廷から何という地位に任じられたか。
- (4) (1)の人物が石山本願寺のあった場所に築いた城は何か。
- (5) 室町幕府がほろんだ 1573 年から、1603 年に江戸幕府ができるまでの間を何時代というか。
- (6) 長崎がローマ法王に寄進されたことを知って、秀吉は(①)の国外追放を命令した。しかし、(②)貿易は奨励したので、命令は不徹底に終わった。

[解答欄]


(1)	(2)	(3)	(4)
(5)	(6)①	②	

[解答](1) 豊臣秀吉(羽柴秀吉) (2) 1590 年 (3) 関白 (4) 大阪城 (5) 安土桃山時代
 (6)① 宣教師 ② 南蛮

[太閤検地と刀狩り]

[問題]

次の各問いに答えよ。



一 百姓が刀・わきざし・弓・やり・鉄砲，その他の武具を所持することを禁止する

反対する者があつたら、城主なら城へ追い入れ、一人残さず皆殺しにせよ。百姓でも・・・なで切りにしてしまえ

- (1) 豊臣秀吉は年貢をきびしく取り立てるために、全国の耕地を調査した。何というか。
- (2) 右上は、豊臣秀吉がすべての農民から武器をとりあげた政策である。この政策を何というか。
- (3) (2)の目的は何か。
- (4) 農民・武士を区別することを何というか、漢字 4 字で答えよ。

【解答欄】

(1)	(2)	
(3)		
(4)		

【解答】(1) 太閤検地 (2) 刀狩 (3) 農民の一揆を防ぎ耕作に専念させること。 (4) 兵農分離

【問題】

次の各問いに答えよ。

- (1) 秀吉は、太閤検地において、どのようなことを調べたか。3つ簡単に書け。
- (2) 太閤検地では、収穫高を何で表したか。
- (3) 太閤検地の結果完全に消滅したものは何か。

【解答欄】

(1)	(2)	(3)
-----	-----	-----

【解答】(1) 田の面積, 耕作者, 収穫量 (2) 石高 (3) 荘園

【朝鮮侵略】

【問題】

次の各問いに答えよ。

- (1) 秀吉は中国を征服する目的で朝鮮に出兵したが、当時の中国の王朝は何か。
- (2) 秀吉の二度にわたる朝鮮出兵を何というか。
- (3) 豊臣秀吉の朝鮮出兵に対して、水軍を率いて日本軍を破った朝鮮の将軍は誰か。
- (4) 秀吉の軍は朝鮮の首都を占領したが、①この首都は何という都市か。②また、現在の都市名を答えよ。
- (5) 朝鮮出兵のとき朝鮮から連行された陶工によって、日本各地に陶磁器の名産地が生まれた。有田焼の祖といわれる人物は誰か。

【解答欄】

(1)	(2)	(3)	(4)①
②	(5)		

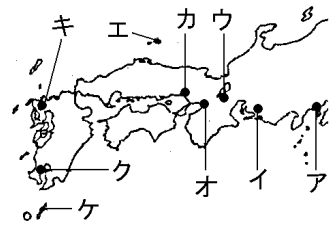
【解答】(1) 明 (2) 朝鮮侵略 (3) 李舜臣 (4)① 漢城 ② ソウル (5) 李參平

[全般]

[問題]

次の各文にあてはまる場所を右の地図中から選び記号で答えよ。また、その地名も書け。

- (1) ザビエルはここに上陸して日本にキリスト教を伝えた。
- (2) ポルトガル人が、ここに漂着し、日本に鉄砲を伝えた。
- (3) 秀吉は、ここに壮大な城を築き全国統一の拠点とした。
- (4) 信長は、ここに城を築き、城下町に商工業者を集めて産業をさかんにした。




[解答欄]

(1)	(2)	(3)
(4)		

[解答](1) ク、鹿児島 (2) ケ、種子島 (3) オ、大阪 (4) ウ、安土

[問題]

次の各問いに答えよ。

- (1) 「ア 織田がつき イ 羽柴がこねし 天下もち すわりしままで 食うはウ 徳川」ア, イ, ウの武将の名前と肖像画の記号を書け。

- (2) 歌の意味は次のうちどれがもっとも適切か。記号で1つ選べ。
ア 天下は3人が協力しておさめていたものなのだなあ。
イ 3人の性格はそれぞれ違っているものなのだなあ。
ウ 結局、3人の中で得をしたのは徳川さんなのだなあ。
エ 3人は、当時の日本でいちばんもちをつくのがうまいのだなあ。
- (3) 次の各文はそれぞれ誰のことを述べたものか。肖像画A, B, Cの記号で答えよ。
 - ① 鳴かぬなら 鳴くまでまとう ホトトギス
 - ② 鳴かぬなら 鳴かせてみせよう ホトトギス
 - ③ 鳴かぬなら 殺してしまえ ホトトギス

【解答欄】

(1)ア	イ	ウ
(2)	(3)①	②
		③

【解答】(1)ア 織田信長, A イ 豊臣秀吉, B ウ 徳川家康, C (2) ウ (3)① C ② B
③ A

【問題】

次のそれぞれの文は、織田信長、豊臣秀吉、徳川家康のうちの誰のことを説明しているか。信長、秀吉、家康という形で答えよ。

- (1) 桶狭間の戦いで今川義元を破った。
- (2) 関ヶ原の戦で、勝利して征夷大將軍になる。
- (3) 長篠の戦(1575年)では、足軽鉄砲隊を使い、その活躍で武田氏を破った。
- (4) 朝鮮に出兵の命令をだし、朝鮮国内に多くの被害をだした。
- (5) 足利義昭を追放し、室町幕府を滅ぼした。
- (6) 豊臣氏を滅ぼした。
- (7) 関白の地位を得る。
- (8) 安土城を築いた。
- (9) 大阪城を築いた。
- (10) 農民から武器を取り上げ、武士は農村から城下町に移した。
- (11) 太閤検地を行った。
- (12) 最初、キリスト教の布教を認めていたが、後に布教を禁じた。
- (13) キリスト教を保護し、各地の関所を廃止し、市場にかかる税をやめて、一部の商人たちの商業の独占をやめさせた。
- (14) 金山などを開発し、天正大判を作った。
- (15) 茶の湯を好み、千利休が仕えた。

【解答欄】

(1)	(2)	(3)	(4)
(5)	(6)	(7)	(8)
(9)	(10)	(11)	(12)
(13)	(14)	(15)	

[解答](1) 信長 (2) 家康 (3) 信長 (4) 秀吉 (5) 信長 (6) 家康 (7) 秀吉 (8) 信長 (9) 秀吉 (10) 秀吉 (11) 秀吉 (12) 秀吉 (13) 信長 (14) 秀吉 (15) 秀吉

【】 安土桃山文化

[要点]

安土桃山時代，豪華・雄大で活気にあふれた桃山文化が生み出された。狩野永徳はふすま絵をえがき，千利休は茶の湯を大成し，出雲の阿国は歌舞伎を始めた。また，朝鮮侵略の際に連れてこられた技術者によって，すぐれた陶磁器が作られるようになった。

[要点確認]

安土桃山時代，豪華・雄大で活気にあふれた()文化が生み出された。()はふすま絵をえがき，()は茶の湯を大成し，()は歌舞伎を始めた。また，朝鮮侵略の際に連れてこられた技術者によって，すぐれた()が作られるようになった。

[問題]

次の各問いに答えよ。

- (1) スペイン人やポルトガル人が伝えた文化を何文化というか。
- (2) 堺の商人で茶の湯を大成した人物は誰か。
- (3) かぶき踊りを始めた女性は誰か。
- (4) ふすま絵の代表的人物は誰か。
- (5) 桃山文化と関係の深いことを次から4つ選べ。

ア 禅宗の影響が強い文化 イ 簡素で気品のある文化 ウ 豪華で雄大な文化
エ 貴族 オ 大名・豪商 カ 庶民 キ 狩野永徳 ク 千利休

[解答欄]

(1)	(2)	(3)	(4)
(5)			

【解答】(1) 南蛮文化 (2) 千利休 (3) 出雲の阿国 (4) 狩野永徳 (5) ウ，オ，キ，ク

【問題】

次の各問いに答えよ。

- (1) 出雲の阿国が始めた踊りを何というか。
- (2) 三味線しやみせんのもととなった楽器はどこから伝わったか。
- (3) 茶の湯が大名，商人の間に広まり千利休せんりのきゅうがこれを()として大成した。
- (4) 衣服では小袖こそでが一般的となり，()が庶民の衣料として普及し始めた。
- (5) 宣教師せんきょうしによって()術が伝えられ，日本の書物もローマ字で印刷された。
- (6) このころ，有田・萩・薩摩などで作られるようになったものは何か。
- (7) この時代から，城には高くそびえる()がつくられるようになった。
- (8) 豊臣秀吉の時代の豪華・雄大で活気にあふれた文化を何というか。

【解答欄】

(1)	(2)	(3)	(4)
(5)	(6)	(7)	(8)

- 【解答】(1) かぶき踊り (2) 琉球りゅうきゅう (3) わび茶 (4) 木綿もめん (5) 活版印刷かっばんいんさつ (6) 陶磁器
(7) 天守閣てんしゅかく (8) 桃山文化

【】江戸時代

[年表]

年代	おもなできごと
1600	関ヶ原の戦い：徳川家康が石田三成らの豊臣方を破る
1603	徳川家康，征夷大將軍になり，江戸幕府を開く
1615	大阪の陣：豊臣家の滅亡
1615	武家諸法度の制定：大名が守るべき規則を定める
1635	参勤交代を定める：大名は1年おきに江戸と領地を往復。徳川家光のとき
1637	島原・天草一揆：キリスト教農民の一揆。絵踏や宗門改めを行う。
1639	鎖国の完成：ポルトガル人の来航を禁止。オランダと中国のみ，長崎の出島
1649	慶安の御触書：農民の生活を統制。五人組の制度で年貢納入の共同責任。 千歯こき，備中ぐわが普及，新田開発や干拓(有明海，児島湾)→農業の発達 商業の発達，都市の発達：大名が蔵屋敷を置いた大阪は「天下の台所」。五街道
1680	徳川綱吉，第5代將軍：財政不足→貨幣の質を落とす。儒学の中の朱子学を奨励 元禄文化：京都や大阪などの上方を中心に栄える。菱川師宣(浮世絵) 近松門左衛門(人形浄瑠璃)，并原西鶴(浮世草子)，松尾芭蕉(俳諧)
1716	徳川吉宗，第8代將軍に。享保の改革。公事方御定書(裁判の基準)，目安箱
1772	田沼意次，老中になる。：株仲間の奨励，わいろの横行
1774	前野良沢，杉田玄白が「解体新書」を著す。蘭学
1782	天明のききん→農村では百姓一揆，都市では打ちこわしが頻発した。
1787	松平定信が老中になり，寛政の改革
1798	本居宣長「古事記伝」を著し，国学を大成。このころ，寺子屋が普及。 化政文化：江戸を中心にした文化。狂歌や川柳，浮世→錦絵
1825	異国船打払令→蘭学者の渡辺崋山と高野長英が批判→処罰される
1833	天保のききん
1837	大塩平八郎の乱
1841	水野忠邦の天保の改革：異国船打払令の緩和，株仲間の解散

(参考) 人群多(1600)い関ヶ原／人群れ満(1603)ちる徳川幕府／異論以後(1615)ゆるさず
 武家諸法度／大名行列色みごと(1635)／人むざんなり(1637)島原・天草一揆／一路鎖国
 (1639)／人無視苦(1649)心の御触書／美男ヒーロー(1716)吉宗公／非難何(1772)するものぞと田沼さん／非難はな(1787)いかと定信さん／人なくば(1798)私が作ろう古事記伝
 ／いやに剛氣(1825)な打ち払い／人はみな(1837)大塩したい打ちこわし／日はよい
 (1841)改革水野さん

年代	おもなできごと
1600	()の戦い：()が石田三成らの豊臣方を破る
1603	(), 征夷大將軍になり, 江戸幕府を開く
1615	大阪の陣：豊臣家の滅亡
1615	()の制定：大名が守るべき規則を定める
1635	()を定める：大名は1年おきに江戸と領地を往復。徳川()のとき
1637	()一揆：キリスト教農民の一揆。()や宗門改めを行う。
1639	()の完成：()人の来航を禁止。オランダと中国のみ, ()の出島
1649	慶安の御触書：農民の生活を統制。()組の制度で年貢納入の共同責任。 千齒こき, ()ぐわが普及, 新田開発や干拓(有明海, 児島湾)→農業の発達 商業の発達, 都市の発達：大名が()屋敷を置いた大阪は「天下の()」五街道
1680	徳川(), 第5代将軍：財政不足→貨幣の質を落とす。儒学の中の()学を奨励 ()文化：京都や大阪などの上方を中心に栄える。菱川師宣(浮世絵) 近松門左衛門(人形浄瑠璃), 井原西鶴(浮世草子), 松尾芭蕉(俳諧)
1716	徳川(), 第8代将軍に。()の改革。公事方御定書(裁判の基準), 目安箱
1772	(), 老中になる。：株仲間の奨励, わいろの横行
1774	前野良沢, ()が「解体新書」を著す。蘭学
1782	()のききん→農村では百姓一揆, 都市では打ちこわしが頻発した。
1787	()が老中になり, ()の改革
1798	()「古事記伝」を著し, ()学を大成。このころ, 寺子屋が普及。 ()文化：江戸を中心にした文化。狂歌や川柳, 浮世→錦絵
1825	()令→蘭学者の渡辺華山と高野長英が批判→処罰される
1833	天保のききん
1837	()の乱
1841	()の()の改革：異国船打払令の緩和, ()の解散

【】幕藩体制

[要点]

- (1) 徳川家康は豊臣秀吉の死後、1600年に豊臣氏をもりたてようとする石田三成らを、関ヶ原の戦いでやぶり、1603年に征夷大将軍に任じられて、江戸幕府を開いた。1万石以上の領地を持つ武士を大名といい、その領地と支配の仕組みを藩といった。1万石未満の将軍の家臣を旗本、御家人と呼んだ。
- (2) 幕府は、大名を、将軍の一族である親藩、関ヶ原の戦いの前からの家臣である譜代大名、関ヶ原の戦以後家臣になった外様大名に分けた。重要な地方には親藩や譜代大名を配置し、外様大名は遠い地域に置いた。1615年、幕府は武家諸法度を定め、さらに第3代将軍徳川家光のときに参勤交代を制度化した。
- (3) 士農工商の身分制度を徹底させ、特に人口の85%をしめる農民については、1649年に「早起し、朝は草を刈り、昼は田畑を耕作し…」という慶安の御触書を出して日常生活を細かく統制した。また、年貢納入や犯罪防止などについて共同の責任を負わせる五人組の制度をつくった。

[要点確認]

- (1) ()は豊臣秀吉の死後、1600年に豊臣氏をもりたてようとする()らを、()の戦いでやぶり、1603年に()に任じられて、()幕府を開いた。1万石以上の領地を持つ武士を()といい、その領地と支配の仕組みを()といった。1万石未満の将軍の家臣を()、御家人と呼んだ。
- (2) 幕府は、大名を、将軍の一族である()、関ヶ原の戦いの前からの家臣である()、関ヶ原の戦以後家臣になった()に分けた。重要な地方には親藩や譜代大名を配置し、外様大名は()い地域に置いた。1615年、幕府は()を定め、さらに第3代将軍()のときに()を制度化した。
- (3) 士農工商の身分制度を徹底させ、特に人口の85%をしめる農民については、1649年に「早起し、朝は草を刈り、昼は田畑を耕作し…」という慶安の御触書を出して日常生活を細かく統制した。また、年貢納入や犯罪防止などについて共同の責任を負わせる()の制度をつくった。

[江戸幕府の成立]

[問題]

次の各問いに答えよ。

- (1) 1600年におこった徳川氏と豊臣氏の戦いは何か。
 (2) (①)は(②)年に、朝廷から(③)に任命されて江戸幕府を開いた。

[解答欄]

(1)	(2)①	②	③
-----	------	---	---

[解答](1) 関ヶ原せきがはらの戦い (2)① 徳川家康 ② 1603 ③ 征夷大将軍せいゐだいしょうぐん

[問題]

次の各問いに答えよ。

- (1) 関ヶ原せきがはらの戦いは何年か。
 (2) 関ヶ原の戦いでの徳川方の中心人物は誰か。
 (3) 関ヶ原の戦いでの豊臣方の中心人物は誰か。
 (4) 1603年、(2)の人物は() (地名)に幕府を開いた。
 (5) 1615年、(①)氏は徳川氏との戦いに敗れて滅びた。この戦いを(②)という。

[解答欄]

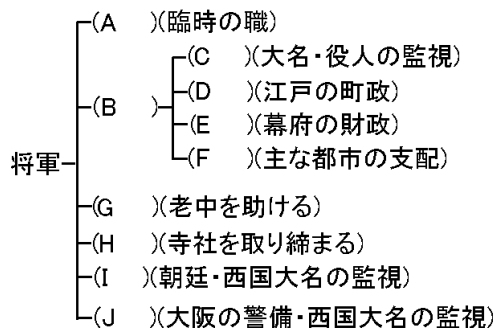
(1)	(2)	(3)	(4)
(5)①	②		

[解答](1) 1600年 (2) 徳川家康とくがわいえきやす (3) 石田三成いしだみつなり (4) 江戸 (5)① 豊臣 ② 大阪の陣

[江戸幕府のしくみ]

[問題]

次の江戸幕府の組織図のA～Jに適語を入れよ。



【解答欄】

A	B	C	D
E	F	G	H
I	J		

【解答】A 大老^{たいろう} B 老中^{らうちゆう} C 大目付^{おおめつけ} D 町奉行^{ぶぎやう} E 勘定奉行^{かんじやう} F 遠国奉行^{おんごく} G 若年寄^{わかとしより}
 H 寺社奉行^{てらしゃぶぎやう} I 京都所司代^{きやうとしよしだい} J 大阪城代^{おおさかじやうだい}

【幕藩体制の確立・大名の分類と配置】

【問題】

次の各問いに答えよ。

- (1) 1万石以上の武士を何といったか。
- (2) 1万石未満の将軍直属の武士で、将軍に直接会うことができた者を(①)といい、
会うことができなかった者を(②)という。
- (3) 大名が支配する領地とその仕組みを何というか。
- (4) 大名の中で徳川家の一族を何というか。
- (5) (4)の中でも、尾張^{おわり}、紀伊^{きい}、水戸^{みと}を特に何と呼んだか。
- (6) 幕府と藩が全国の土地と人々を統治する体制を何というか。

【解答欄】

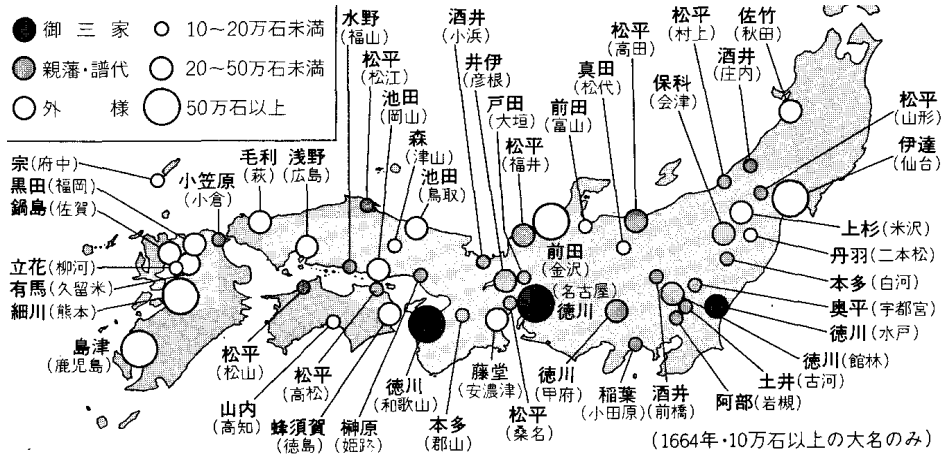
(1)	(2)①	②	(3)
(4)	(5)	(6)	

【解答】(1) 大名 (2)① 旗本^{はたもと} ② 御家人^{ごけにん} (3) 藩^{はん} (4) 親藩^{しんぱん} (5) 御三家^{ごさんけ} (6) 幕藩体制^{ぼくはん}

【問題】

次の各問いに答えよ。

- (1) 大名の中で、^{せきがほら}関ヶ原の戦いより前から徳川家の家臣であった大名を何というか。
- (2) 大名の中で、関ヶ原の戦い以降に徳川家に従った大名を何というか。
- (3) 幕府は大名をどのように配置したか。下の地図を参考にして答えよ。



【解答欄】

(1)	(2)
(3)	

【解答】(1) 譜代大名 (2) 外様大名 (3) 親藩や譜代大名を要所に配置し、有力な外様大名は江戸から遠い地方に配置した。

【問題】

次の各問いに答えよ。

- (1) 江戸幕府は、全国の約()分の 1 の領地を支配するなど強い経済力をもっていた。
- (2) 幕府の直轄地を何というか。
- (3) 幕府は重要な都市や鉱山を直接支配し、()の鑄造権も独占した。

【解答欄】

(1)	(2)	(3)
-----	-----	-----

【解答】(1) 4 (2) 幕領 (3) 貨幣

[武家諸法度・参勤交代]

[問題]

次の各問いに答えよ。

(1) 次は、何という法令か。

- 一 武士は文武弓馬の道をもっぱら心がけること。
- 一 大名は一年ごとに四月中に江戸へ参勤せよ。
- 一 新しく城の工事をすることは、固く禁止する。
- 一 大名たちが新しいことをくわだてたり、徒党を組んだりすることを禁止する。

(2) 大名は妻子を江戸におき、1年ごとに江戸と領国に住むことが定められた。これを何というか。

(3) (2)を定めた将軍は誰か。

[解答欄]

(1)	(2)	(3)
-----	-----	-----

[解答](1) 武家諸法度 (2) 参勤交代 (3) 徳川家光

[問題]

次の各問いに答えよ。

(1) 第3代将軍(①)は、大名を1年おきに(②)と領地に住ませる(③)の制度を定めた。

(2) (1)は大名にどのような影響を与えたか。

[解答欄]

(1)①	②	③
(2)		


[解答](1)① 徳川家光 ② 江戸 ③ 参勤交代 (2) 領地と江戸の往復のために多大の出費を強いられたため、大名の経済力が弱められた。

[身分別の人口の割合]

[問題]

次の各問いに答えよ。

- (1) グラフのア～エのうち武士はどれか，記号で答えよ。
- (2) グラフのア～エのうち農民はどれか，記号で答えよ。
- (3) グラフのア～エのうち町人はどれか，記号で答えよ。
- (4) 武士にだけ許された特権を次から 1 つ選べ。



[帯刀 お茶 結婚 寺社詣で]

- (5) 農工商の下に置かれた身分は何か。2 つ答えよ。

[解答欄]

(1)	(2)	(3)	(4)
(5)			

[解答](1) イ (2) ア (3) ウ (4) 帯刀 (5) えた身分，ひにん身分

[村と百姓]

[問題]

次の各問いに答えよ。

- (1) 村の政治をあずかった，庄屋などの有力者を何というか。
- (2) 農民のうち検地帳に名前があるものを何というか。
- (3) 農民のうちで土地をもたない者を何というか。
- (4) 年貢納入や犯罪防止などについて，農民に連帯責任を負わせた制度を何というか。
- (5) 百姓が納める年貢の割合には，五公五民，四公六民といわれるものがあるが，百姓にとっては，どちらがきびしいか。

[解答欄]

(1)	(2)	(3)	(4)
(5)			

[解答](1) 村役人 (2) 本百姓 (3) 水のみ百姓 (4) 五人組 (5) 五公五民

【】キリスト教の禁圧と鎖国

[要点]

- (1) 徳川家康は朱印船貿易をすすめ、東南アジア各地に日本町がつくられた。1637年、第3代将軍徳川家光のとき、島原・天草地方のキリスト教農民が島原・天草一揆をおこした。幕府はキリスト教の禁止を徹底して行い、絵踏を実施した。さらに、幕府は1639年にポルトガル人の来航を禁止し、ついでオランダ人を長崎の出島に集め、ここだけで貿易を許した。これを鎖国という。このころ中国では明が滅んで清が建国された。
- (2) 将軍がかわるたびごとに朝鮮通信使が訪れた。琉球王国は、17世紀のはじめに薩摩藩によって征服された。また、蝦夷地は松前藩による圧迫を受けたアイヌ民族が、その族長のシャクシャインの指揮のもと反乱をおこした。

[要点確認]

- (1) 徳川家康は()貿易をすすめ、東南アジア各地に()町がつくられた。1637年、第3代将軍()のとき、島原・天草地方のキリスト教農民が()一揆をおこした。幕府はキリスト教の禁止を徹底して行い、()を実施した。さらに、幕府は1639年に()人の来航を禁止し、ついで()人を()の()に集め、ここだけで貿易を許した。これを()という。このころ中国では明が滅んで()が建国された。
- (2) 将軍がかわるたびごとに()が訪れた。()は、17世紀のはじめに薩摩藩によって征服された。また、蝦夷地は()藩による圧迫を受けた()民族が、その族長の()の指揮のもと反乱をおこした。

[朱印船貿易と日本町]

[問題]

次の各問いに答えよ。

- (1) 鎖国前は、秀吉の奨励した貿易のしかたを引き継いでいた。この貿易を何というか。
- (2) (1)の貿易を始めた将軍は誰か。
- (3) (1)の貿易で、幕府が出した海外渡航の許可証を何というか。
- (4) (1)の貿易におけるおもな輸入品は、中国産の(①)や絹織物で、輸出品は(②)であった。
- (5) 東南アジアの各地に日本商人が進出し、日本人の町がつくられ、日本人による自治が行われた。このような町を何というか。

【解答欄】

(1)	(2)	(3)	(4)①
②	(5)		

【解答】(1) 朱印船貿易 (2) 徳川家康 (3) 朱印状 (4)① 生糸 ② 銀 (5) 日本町

【島原・天草一揆】

【問題】

次の各問いに答えよ。

- 1637年、キリスト教徒を中心に原城跡はらじょうあとに立てこもり、幕府にはむかう一揆がおきたが、これを何というか。
- キリスト教の信者であるかどうかを確かめるために行われたことは何か。(右図参照)



【解答欄】

(1)	(2)
-----	-----

【解答】(1) 島原・天草一揆 (2) 絵踏

【問題】

次の各問いに答えよ。

- 1612年、幕府は幕領に()令をだし、キリスト教を禁止した。
- 島原・天草一揆は何年か。
- 島原・天草一揆を起こしたのはどんな人々か。
- 島原・天草一揆がおこった場所は、今の何県か。2つあげよ。
- 島原・天草一揆がおこったときの将軍は誰か。
- 島原・天草一揆の後、幕府は絵踏を強化したが、その目的は何か。
- キリスト教の信者でなかった人は寺院の()という帳面につけられた。

【解答欄】

(1)	(2)	(3)
(4)	(5)	
(6)		(7)

【解答】(1) 禁教 (2) 1637 年 (3) キリスト教徒 (4) 長崎県と熊本県 (5) 徳川家光
 (6) キリスト教の信者を見つけ出すこと。 (7) 宗門改帳

【鎖国】

【問題】

次の各問いに答えよ。

- (1) 1639 年, (①)人の来航を禁止し, (②)が完成した。
- (2) (1)の後も貿易を許された 2 つの国の名を答えよ。
- (3) (1)で貿易を行う都市は 1 つになったが, それはどこか。
- (4) (3)の都市の一角に外国人を閉じこめたが, それはどこか。
- (5) なぜ鎖国政策がとられたのか, その理由を 2 つのべよ。

【解答欄】

(1)①	②	(2)
(3)	(4)	
(5)		

【解答】(1)① ポルトガル ② 鎖国 (2) オランダ, 中国 (3) 長崎 (4) 出島 (5) キリスト教禁止を徹底するため。貿易を統制してその利益を独占するため。

【問題】

次の各問いに答えよ。

- (1) 日本船が海外に行くことと, 海外にいる日本人が帰国することを禁止したのは, 誰が将軍のときか。
- (2) 鎖国の完成は何年か。
- (3) 鎖国によって貿易ができなくなった国はどこか。
- (4) 鎖国が完成し, ヨーロッパの国の中ではオランダのみが貿易を許されたが, その商館は(①)から(②)に移された。
- (5) 鎖国後も, 幕府は海外の事情をある程度知ることができたが, それはなぜか。
- (6) このころ中国では, (①)が減んで(②)が建国された。

【解答欄】

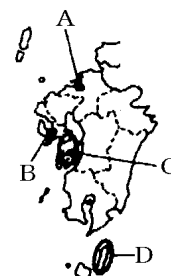
(1)	(2)	(3)	(4)①
②	(5)		
(6)①	②		

【解答】(1) 徳川家光 (2) 1639年 (3) ポルトガル (4)① 平戸 ② 長崎 (5) 毎年長崎に入港するオランダ船が、海外の事情を書いた風説書を幕府に提出したから。(6)① 明 ② 清

【問題】

次の場所を右の地図から選べ。

- (1) 鎖国の中の、オランダと中国に限って貿易が認められた都市。
- (2) キリスト教を中心とした農民の一揆が起こった。



【解答欄】

(1)	(2)
-----	-----

【解答】(1) B (2) C

【朝鮮との関係】

【問題】

次の各問いに答えよ。

- (1) ①将軍が変わるたびごとに、使節団を日本へ送った国はどこか。②また、この使節団を何というか。
- (2) (1)の使節団の目的は何か。
- (3) (1)の国との国交や貿易の拠点となった藩は何か。
- (4) (3)の藩が(1)から輸入した物を1つあげよ。

【解答欄】

(1)①	②
(2)	
(3)	(4)

【解答】(1)① 朝鮮 ② 朝鮮通信使 (2) 新しい将軍に祝賀の意を表すため。(3) 対馬藩 (4) 朝鮮にんじん

[琉球王国・アイヌ民族]

[問題]

次の各問いに答えよ。

- (1) 日本・中国・東南アジアとの中継貿易なかつぎばうえきで栄えたが、17世紀にある藩に征服され、支配されるようになった国はどこか。
- (2) (1)の「ある藩」とは何か。
- (3) 北海道は江戸時代には何と呼ばれていたか。
- (4) 北海道に住んでいた民族は何か。
- (5) 北海道に進出し、函館はこだて付近に砦とりでを構え、藩を置いたのは何氏か。
- (6) (5)は(4)との貿易で大きな利益をあげたが、不平等な貿易であったために(4)の反乱がおきた。この反乱の指導者は誰か。

[解答欄]

(1)	(2)	(3)	(4)
(5)	(6)		

[解答](1) 琉球王国りゅうきゅうおうこく (2) 薩摩藩さつまはん (3) 蝦夷地えぞち (4) アイヌ民族 (5) 松前氏まつまえし (6) シヤクシャイン

【】 産業・都市の発達

[要点]

- (1) 江戸時代初期、^{しんでんかいほつ}新田開発がさかんに行われ、九州の有明海や岡山の児島湾では^{かんたく}干拓が行われた。その結果、秀吉の時代から100年の間に田畑面積は約2倍になった。農具も改良され、土地を深く耕すことのできる^{ひうちゅうぐわ}備中ぐわ、^{だっこく}脱穀のための^{せんぼ}千歯こき、米の選別のための千石どおしが発明された。
- (2) 当時、江戸は「将軍のおひざもと」と呼ばれ、ここを中心として東海道や中山道などの^{ごかいどう}五街道が定められた。大阪は「天下の台所」と呼ばれ、年貢米の保管のために各大名が置いた^{くらやしき}蔵屋敷があった。また、京都は西陣織や清水焼で有名であった。江戸、大阪、京都をあわせて^{さんと}三都という。

[要点確認]

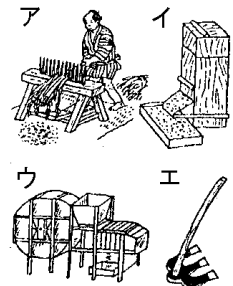
- (1) 江戸時代初期、()開発がさかんに行われ、九州の有明海や岡山の児島湾では()が行われた。その結果、秀吉の時代から100年の間に田畑面積は約()倍になった。農具も改良され、土地を深く耕すことのできる()^{だっこく}、脱穀のための()^{せんぼ}、米の選別のための千石どおしが発明された。
- (2) 当時、()は「将軍のおひざもと」と呼ばれ、ここを中心として東海道や中山道などの()が定められた。大阪は()と呼ばれ、年貢米の保管のために各大名が置いた()があった。また、()は西陣織や清水焼で有名であった。江戸、大阪、京都をあわせて()という。

[新田開発・農具の進歩]

[問題]

次の各問いに答えよ。

- (1) ^{しんでんかいほつ}新田開発、^{かんたく}干拓などによって、田畑面積は、秀吉の時代から100年の間に約何倍になったか。
- (2) 江戸時代に発明された田畑を深く耕すことを可能にした農具は何か。また右の図のどれか。
- (3) ^{だっこく}脱穀のための農具が発明されて、脱穀の能率が向上したが、何という農具か。また、それは右図のどれか。



[解答欄]

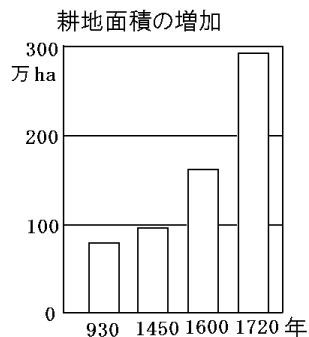
(1)	(2)	(3)
-----	-----	-----

【解答】(1) 約 2 倍 (2) 備中ぐわ^{びっちゅう}, エ (3) 千齒こき^{せんぼ}, ア

【問題】

次の各問いに答えよ。

- (1) 右のグラフから、1720 年ごろの全国の耕地面積は、安土・桃山時代の終わりに比べて約何倍になっているか。整数で答えよ。
- (2) 右のグラフのように、耕地面積がふえたもっとも大きな理由は何か。漢字 4 文字で答えよ。
- (3) (2)のため、有明海や児島湾などではどのようにして土地を広げたか。漢字 2 文字で答えよ。



【解答欄】

(1)	(2)	(3)
-----	-----	-----

【解答】(1) 約 2 倍 (2) 新田開発^{かんたく} (3) 干拓

【水産業】

【問題】

次の文章中の①～③にあてはまる語句を下の[]からそれぞれ選べ。

江戸時代、水産業では、麻糸でつくった強い網ができたため、九十九里浜では大規模な(①)漁が行われるようになった。(①)は干鰯^{ほしか}という肥料に加工され、おもに近畿地方などの綿作地域に売られた。また、紀伊や土佐では捕鯨^{ほげい}や(②)漁、蝦夷地では(③)漁やこんぶ漁がさかんになった。

[にしん かつお まぐろ いわし たい]

【解答欄】

①	②	③
---	---	---

【解答】① いわし ② かつお ③ にしん

[鉱業]

[問題]

次の文章中の①～⑥に適語を入れよ。

鉱山の採掘さいくつや精錬せいれん技術が進み、(①)金山(新潟県)、(②)銀山(島根県)、生野銀山(兵庫県)、別子銅山(愛媛県)、(③)銅山(栃木県)などの開発が進んだ。幕府は、江戸や(④)に設けた金座や(⑤)などで、大判・小判・一分金といった金貨や、銀貨をつくったほか、全国各地に設けられた錢座で(⑥)という銅貨を大量につくって全国に流通させた。

[解答欄]

①	②	③	④
⑤	⑥		

[解答]① 佐渡 ② 石見 ③ 足尾 ④ 京都 ⑤ 銀座 ⑥ 寛永通宝

[三都の繁栄・交通路の整備]

[問題]

次の各問いに答えよ。

- (1) 江戸時代の商業の中心となった都市はどこか。
- (2) 江戸時代、(1)は何と呼ばれていたか。
- (3) 大名が自分の領地でとれた米や特産物を保管するために(1)の都市に置いたものは何か。
- (4) 江戸を中心とする東海道や中山道などの5つの陸上交通路を総称して何というか。

[解答欄]

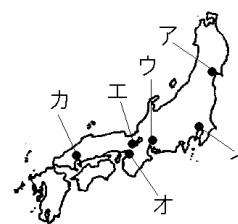
(1)	(2)	(3)	(4)
-----	-----	-----	-----

[解答](1) 大阪 (2) 天下の台所 (3) 蔵屋敷 (4) 五街道

【問題】

次の各問いに答えよ。

- (1) 大阪は右の地図のア～カのどれか。
- (2) 寺社への参詣人が集まり、西陣織にしじんおりや清水焼きよみずやきなどの伝統的な手工業がさかんだった都市はどこか。都市名と地図の記号を答えよ。
- (3) 大阪・京都を当時何と呼んだか。
- (4) 江戸時代、「将軍のおひざもと」とよばれた都市はどこか。都市名と地図の記号を答えよ。
- (5) (4)の都市の人口は約(10/50/100/200)万人であった。
- (6) 江戸，大阪，京都をあわせて何といったか。



【解答欄】

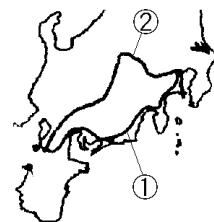
(1)	(2)	(3)	(4)
(5)	(6)		

【解答】(1) オ (2) 京都，エ (3) 上方かみがた (4) 江戸，イ (5) 100 (6) 三都

【問題】

次の各問いに答えよ。

- (1) 右図の①と②の街道名を書け。
- (2) 江戸時代の海運について、次の航路を何というか。
 - ① 東北・北陸地方の物資を、津軽海峡を通過して江戸に運ぶ航路。
 - ② 東北・北陸地方の物資を、日本海沿岸をまわって瀬戸内海を経て大阪に運ぶ航路。
- (3) 江戸と大阪の間を結んで物資を運んだ定期船を2つあげよ。



【解答欄】

(1)①	②	(2)①
②	(3)	

【解答】(1)① 東海道とうかいどう ② 中山道なかせんどう (2)① 東廻り航路まわ こうろ ② 西廻り航路 (3) 菱垣廻船ひがきかいせん、樽廻船たる

[商業]

[問題]

次の各問いに答えよ。

- (1) 大名や幕府の役人と結びつき、営業上の特権を得て、力をふるった同業者の組合を何というか。
- (2) 当時、地方によって通用する貨幣かへいが違ったので、貨幣を交換する仕事をする者が出てきた。これを何というか。
- (3) (2)の有力な商人を江戸、大阪について1人ずつあげよ。
- (4) 「現金掛値なし」の新しい商法で大成功した江戸の呉服店は何か。

[解答欄]

(1)	(2)	(3)江戸：	大阪：
(4)			

[解答](1) 株仲間かぶなかま (2) 両替りょうがえ (3) 江戸：三井 大阪：鴻池こうのいけ (4) 越後屋えちごや

【】 元禄文化

[要点]

- (1) 動物愛護の悪法である「生類憐みの令」で有名な第5代将軍徳川綱吉は、金貨の質を悪くして、財政難をきりぬけようとしたが、かえって物価の上昇を招いた。第6, 7代将軍に用いられた新井白石は金貨をもとにもどし、長崎貿易を制限して金銀の海外流出をふせいだ。
- (2) 17世紀末から18世紀はじめにかけて上方で栄えた文化を元禄文化という。文学では、『曾根崎心中』などの人形浄瑠璃の台本を書いた近松門左衛門、浮世草子の作者で「日本永代蔵」を書いた井原西鶴、俳諧の松尾芭蕉が名高い。絵画では、浮世絵の菱川師宣が有名である。

[要点確認]

- (1) 動物愛護の悪法である「()の令」で有名な第5代将軍()は、金貨の質を悪くして、財政難をきりぬけようとしたが、かえって物価の上昇を招いた。第6, 7代将軍に用いられた()は金貨をもとにもどし、長崎貿易を制限して()の海外流出をふせいだ。
- (2) 17世紀末から18世紀はじめにかけて上方で栄えた文化を()文化という。文学では、『曾根崎心中』などの人形浄瑠璃の台本を書いた()、浮世草子の作者で「日本永代蔵」を書いた()、俳諧の()が名高い。絵画では、浮世絵の()が有名である。

[元禄文化]

[問題]

次の各問いに答えよ。

- (1) 生類憐みの令という極端な動物愛護令を出した第5代将軍は誰か。
- (2) (1)の時代、大阪などを中心として17世紀末から18世紀はじめにかけて栄えた文化を何というか。
- (3) 義理と人情の板ばさみになってゆれる人間の気持ちを題材に『曾根崎心中』などの人形浄瑠璃の台本を書いた人物は誰か。
- (4) 浮世草子の作者で、「日本永代蔵」を書いた人物は誰か。
- (5) 「奥の細道」の作者で俳諧を完成させた人物は誰か。
- (6) ①右の「見返り美人」の作者は誰か。②また、このような絵を何というか。



【解答欄】

(1)	(2)	(3)	(4)
(5)	(6)①	②	

【解答】(1) 徳川綱吉 (2) 元禄文化 (3) 近松門左衛門 (4) 井原西鶴 (5) 松尾芭蕉
 (6)① 菱川師宣 ② 浮世絵

【問題】

次の各問いに答えよ。

- (1) 元禄文化がさかえたのは江戸か上方か。
- (2) 元禄文化が栄えたのは1700年の前後か、1800年ごろか。
- (3) 井原西鶴は町人の生活をありのままに()という小説に描いた。
- (4) 装飾画を大成した人物は誰か。
- (5) 「風神雷神図屏風」の作者は誰か。
- (6) 松尾芭蕉の代表作は何か。

【解答欄】

(1)	(2)	(3)	(4)
(5)	(6)		

【解答】(1) 上方 (2) 1700年の前後 (3) 浮世草子 (4) 尾形光琳 (5) 俵屋宗達 (6) 奥の細道

【綱吉の政治・正徳の治】

【問題】

次の各問いに答えよ。

- (1) 江戸の湯島に孔子を祭る聖堂を建てて儒学を奨励した将軍は誰か。
- (2) 幕府は儒学の中でも特に忠孝道徳を強調する()をすすめた。
- (3) 各藩がつくった学校を何というか。
- (4) (1)の将軍が出した動物愛護令は何か。
- (5) (1)の将軍が財政悪化の対策として行ったことは何か。
- (6) (5)の結果はどうなったか。
- (7) (1)の将軍の後の第6, 7代将軍に仕え、文治政治を行ったのは誰か。
- (8) (7)が長崎の貿易を制限したのは、何の海外流出をふせぐためか。
- (9) (7)が行った政治を何というか。

【解答欄】

(1)	(2)	(3)	(4)
(5)	(6)		
(7)	(8)	(9)	

【解答】(1) 徳川綱吉 (2) 朱子学 (3) 藩校 (4) 生類憐みの令 (5) 貨幣の質を落とした。 (6) 物価が上昇した。 (7) 新井白石 (8) 金銀 (9) 正徳の治

【】 享保の改革～寛政の改革

[要点]

- (1) 第8代将軍徳川^{よしむね}吉宗^{きょうほう}は享保の改革を実行し、新田開発や年貢の定率化によって財政の安定を図り、目安箱という投書箱を設置し、公事方御定書をつくって裁判の基準とした。この改革によって幕府の収入は安定したが、米価は安定せず、江戸ではじめての打ちこわしがおこった。
- (2) 18世紀ごろ、農村に貨幣経済が広がって小作人が増え、ききんのときには百姓一揆が起りやすくなった。江戸や大阪などの都市では、打ちこわしが起った。また、18世紀ごろから、問屋が農民に織機^{しよつき}やお金を前貸^{まか}して布を織らせる問屋制家内工業^{かないこうぎょう}がさかんになり、19世紀ごろには、工場制手工業^{こうじょうせいしゅこうぎょう}が起った。
- (3) 18世紀後半に老中になった田沼^{たぬま}意次^{いざ}は、商工業者に同業者の株仲間^{かぶなかま}をつくることを認め、営業を独占させるかわりに税を納めさせた。しかし、大商人と結びついたためわいろが横行し、政治が乱れた。18世紀後半、天明のききん^{てんめい}がおこり、農村では百姓一揆が、都市では打ちこわしが頻発し、老中の田沼意次は失脚した。
- (4) かわって白河藩主の松平^{まつだいら}定信^{さだのぶ}が老中としてむかえられ、寛政の改革^{かんせい}をおこなった。定信は、農民の都市への出かせぎを禁止した。また、旗本や御家人の借金を帳消しにした。さらに、昌平坂^{しょうへいざか}学問所では朱子学^{しゅしがく}以外の学問を禁止した。

[要点確認]

- (1) 第8代将軍()は()の改革を実行し、新田開発や年貢の定率化によって財政の安定を図り、()という投書箱を設置し、()をつくって裁判の基準とした。この改革によって幕府の収入は安定したが、米価は安定せず、江戸ではじめての()がおこった。
- (2) 18世紀ごろ、農村に()経済が広がって小作人が増え、ききんのときには()一揆^{いっぎ}が起りやすくなった。江戸や大阪などの都市では、()が起った。また、18世紀ごろから、問屋が農民に織機^{しよつき}やお金を前貸^{まか}して布を織らせる()家内工業^{かないこうぎょう}がさかんになり、19世紀ごろには、()手工業^{しゅこうぎょう}が起った。
- (3) 18世紀後半に老中になった()は、商工業者に同業者の()をつくることを認め、営業を独占させるかわりに税を納めさせた。しかし、大商人と結びついたため()が横行し、政治が乱れた。18世紀後半、()のききんがおこり、農村では()が、都市では()が頻発し、老中の田沼意次は失脚した。
- (4) かわって白河藩主の()が老中としてむかえられ、()の改革をおこなった。定信は、農民の都市への出かせぎを禁止した。また、旗本や御家人の借金を帳消しにした。さらに、昌平坂^{しょうへいざか}学問所では()学以外の学問を禁止した。

[享保の改革]

[問題]

次の各問いに答えよ。

- (1) 1716年に第8代将軍となったのは誰か。
- (2) (1)の将軍が行った改革を何というか。
- (3) (2)の改革で、人々の意見を聞くために設置した投書箱を何というか。
- (4) (2)の改革で、裁判の基準とするために作った法令集を何というか。

[解答欄]

(1)	(2)	(3)	(4)
-----	-----	-----	-----

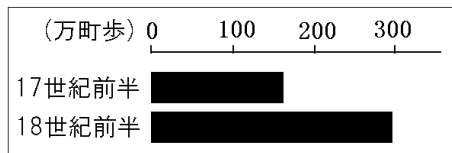
[解答](1) 徳川吉宗 (2) 享保の改革 (3) 目安箱 (4) 公事方御定書

[問題]

享保の改革について、次の各問いに答えよ。

- (1) 享保の改革を行った将軍は誰か。
- (2) 幕府の財政を立て直すために具体的にどのようなことを行ったか。右の資料から分かることを書け。
- (3) 幕府の収入をふやすため、参勤交代で大名が江戸にいる期間を1年から半年に短縮するかわりに1万石につき100石の米を幕府におさめさせることとしたが、この制度を何というか。
- (4) 公事方御定書とはどのようなものか、簡単に説明せよ。

[耕地面積の変化]



[解答欄]

(1)	(2)	(3)
(4)		

[解答](1) 徳川吉宗 (2) 新田開発を進めた。 (3) 上げ米の制 (4) 裁判の基準となる法令集

[貨幣経済の広がり]

[問題]

次の各問いに答えよ。

- (1) 貨幣経済の広がりによって起こった農村の変化を「貧富の差」「小作人」の2語を使って説明せよ。
- (2) 材料や道具を農民に貸し、製品を買い取ることを、何工業というか。
- (3) 19世紀にはいると、豊かな地主は、村内の小作人を作業所に集め道具をそろえて分業をさせるようになった。これを何というか。

[解答欄]

(1)		
(2)	(3)	

[解答](1) 貧富の差が大きくなり、土地を手放して小作人になる者が増えた。 (2) とんやせいかないこうぎょう 問屋制家内工業 (3) こうじょうせいしゅこうぎょう 工場制手工業

[百姓一揆と打ちこわし]

[問題]

次の各問いに答えよ。

- (1) 18世紀になると、団結した農民が、領主に年貢の軽減や不正な代官の交代などを要求して城下におし寄せなどの行動を起こした。これを何というか。
- (2) 都市の貧しい人々が団結して、米の買い占めをした商人に対しておこした暴動を何というか。
- (3) (1)や(2)は、どのようなできごとのときに最も多く起こったか。ひらがな3文字で答えよ。

[解答欄]

(1)	(2)	(3)
-----	-----	-----

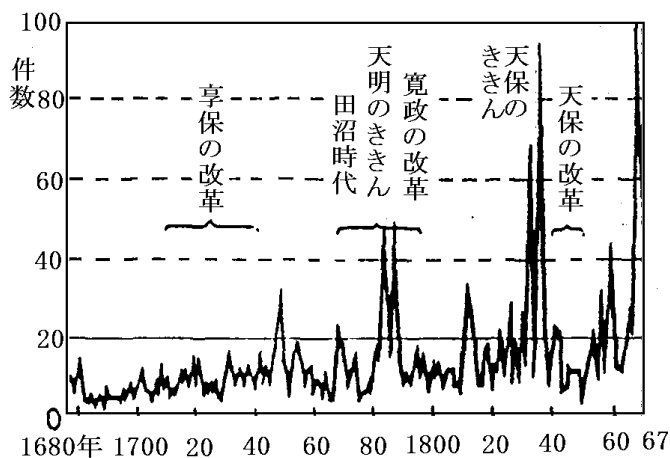
[解答](1) ひゃくしゅういつき 百姓一揆 (2) 打ちこわし (3) ききん

[問題]

次の各問いに答えよ。

- (1) 次のグラフをみて、文中の①～④にあてはまる語句を答えよ。

百姓一揆の件数が、最初に年間30件をこえたのは、(①)の改革のあとである。また、(②)のききんのときには、年間40件をこえ、(③)のききんのときは60件以上に達した。百姓一揆は、村々の農民がこぞって城下などにおしかけ、集団の力を示しながら、(④)の軽減や不正な代官の交代などを要求するようになった。



- (2) 右の資料は、百姓一揆のとき、参加した人が署名したもので、一揆の中心人物がわからないように円形に署名がなされている。これを何連判状と呼ぶか。
- (3) 江戸や大阪などの都市では、貧しい人々が、米の値段をつり上げる大商人をおそった。こうした行動を何というか。



[解答欄]

(1)①	②	③	④
(2)	(3)		

【解答】(1)① 享保 ② 天明 ③ 天保 ④ 年貢 (2) からかさ連判状 (3) 打ちこわし

[田沼の政治と寛政の改革]

[問題]

次の各問いに答えよ。

- (1) 18世紀後半に老中ろうじゆうになった人物で、蝦夷地えぞちの開拓かいたくや長崎貿易の拡大などで収入を増やして幕府財政の建て直しをはかろうとしたのは誰か。
- (2) (1)の人物は同業の商工業者がつくる(①)を認めて営業を独占させるかわりに一定の税を納めさせて財政収入を増やそうとした。しかし、その政治は、大商人と結びついたために(②)が横行した。
- (3) 18世紀後半、浅間山あさまやまの大爆発ききょうさくがおこり、その火山灰の影響などで凶作きようさくが続き、大 ききんがおこったが、このききんを何というか。
- (4) (3)のききんによって百姓一揆いっかいや打ちこわしがおこり、その責任を取って田沼意次が失脚したが、その後、老中になって改革を行ったのは誰か。
- (5) (4)の人物の行った改革を何というか。

[解答欄]

(1)	(2)①	②	(3)
(4)	(5)		

[解答](1) 田沼意次たぬまおきつぐ (2)① 株仲間かぶなかま ② わいろ (3) 天明のききんてんめい (4) 松平定信まつだいらさだのぶ (5) 寛政かんせいの改革

[問題]

次の各問いに答えよ。

- (1) 田沼意次は、現在の千葉県千葉県の(①)の干拓かんたく、この当時はまだ未開発のままだった(②)の開発かいはい、(③)での貿易の振興をすすめた。
- (2) 田沼意次が失脚した後、松平定信が()になって改革に着手した。
- (3) 松平定信は昌平坂学問所しやうへいざかでは、()以外の学問を禁止した。
- (4) 寛政の改革の結果で正しいものを1つ記号で選べ。
 - ア わいろがさかんに行われた。
 - イ 幕府の収入が増加し一時的に財政は立ち直った。
 - ウ ぜいたくになりすぎた。
 - エ きびしすぎたため、失敗に終わった。

【解答欄】

(1)①	②	③	(2)
(3)	(4)		

【解答】(1)① 印旛沼 (2) 蝦夷地 (3) 長崎 (2) 老中 (3) 朱子学 (4) エ

【問題】

次の各問いに答えよ。

(1) 下線部 a, c は、それぞれ誰のことをさしているか。

a 白河の清きに魚のすみかねて
もとの b 濁りの c 田沼恋しき

(2) 下線部 b は、何がさかんに行われていたことをさしているか。

(3) 資料は、短歌の形を借りて、世相を風刺したものである。このようなものを何というか。

(4) この資料は何という改革を風刺したものか。

【解答欄】

(1)a	c	(2)	(3)
(4)			

【解答】(1)a 松平定信 c 田沼意次 (2) わいろ (3) 狂歌 (4) 寛政の改革

【】 外国船の出現と天保の改革

[要点]

- (1) 1792年にロシアのラクスマンが根室に、1804年にレザノフが長崎に来航して通商を求めたが幕府はこれを拒絶した。ロシアを警戒した幕府は、近藤重蔵や間宮林蔵に蝦夷地や樺太の調査を行わせた。1808年、イギリスの軍艦がオランダ船をとらえるために長崎港に侵入するというフェートン号事件が起こった。1825年、幕府は異国船打払令を出した。蘭学者の高野長英と渡辺崋山はこれを批判して処罰された(蛮社の獄)。
- (2) 1830年代に天保のききんがおこり、大阪では、儒学者(陽明学)の大塩平八郎が大塩の乱を起こした。幕領である大阪で奉行所のもとの役人が反乱を起こしたことは、幕府に大きな衝撃を与えた。このような中で、1841年、老中の水野忠邦は天保の改革を行い、株仲間の解散などを行った。水野忠邦は、アヘン戦争で清がイギリスに敗れたことを知ると、異国船打払令をやめた。

[要点確認]

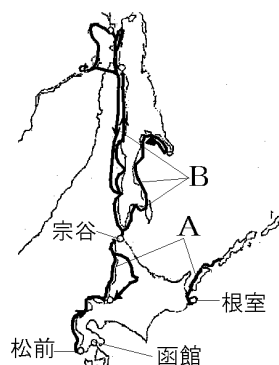
- (1) 1792年にロシアの()が根室に、1804年に()が長崎に来航して通商を求めたが幕府はこれを拒絶した。ロシアを警戒した幕府は、近藤重蔵や()に蝦夷地や樺太の調査を行わせた。1808年、イギリスの軍艦がオランダ船をとらえるために長崎港に侵入するという()事件が起こった。1825年、幕府は()令を出した。蘭学者の()と渡辺崋山はこれを批判して処罰された(蛮社の獄)。
- (2) 1830年代に()のききんがおこり、大阪では、儒学者(陽明学)の()が()の乱を起こした。幕領である大阪で奉行所のもとの役人が反乱を起こしたことは、幕府に大きな衝撃を与えた。このような中で、1841年、老中の()は()の改革を行い、()の解散などを行った。水野忠邦は、アヘン戦争で清がイギリスに敗れたことを知ると、()令をやめた。

[外国船の出現と異国船打払令]

[問題]

次の文の①～⑧に適語を入れよ。

- 1792 年, (①)(国名)の使節である(②)が根室に来航し, 漂流民を送り届けるとともに通商を求めたが, 幕府は長崎で交渉すると回答した。
- 1804 年に①の(③)が長崎に来航して通商を求めたが, 幕府は拒否した。
- ①を警戒した幕府は蝦夷地や樺太の調査を行わせた。右の地図中の A を探検したのは(④)で, B を探検したのは(⑤)である。
- 1808 年にはイギリスの軍艦がオランダ船をとらえるために長崎港に侵入するという(⑥)事件が起きた。
- 1825 年, 幕府は, 外国の船が来航したらこれを追い払えという(⑦)令を出した。
- 1837 年, アメリカの商船(⑧)号が日本の漂流民を届けて通商を要求してきたが, これを砲撃する事件が起きた。



[解答欄]

①	②	③	④
⑤	⑥	⑦	⑧

[解答]① ロシア ② ラクスマン ③ レザノフ ④ 近藤重蔵 ⑤ 間宮林蔵 ⑥ フェートン号 ⑦ 異国船打払令 ⑧ モリソン

[問題]

次の各問いに答えよ。

- (1) 外国の船が来航したらこれを追い払えという法令が出されたが, 何という法令か。
- (2) (1)の法令が出されたのは何年か。
- (3) (1)を批判した蘭学者を 2 人あげよ。
- (4) (3)は幕府の厳しい処罰を受けたが, この事件を何というか。

[解答欄]

(1)	(2)	(3)
(4)		

[解答](1) 異国船打払令 (2) 1825 年 (3) 高野長英, 渡辺華山 (4) 蛮社の獄

[大塩の乱・天保の改革]

[問題]

次の各問いに答えよ。

- (1) 1830年代におこった大ききんは何か。
- (2) (1)のききんで人々が苦しむ中、奉行所や大商人が貧しい人の救済を行わないことになり、いきどおり、1837年に大阪で乱を起こしたもと奉行の役人で儒学者であった人物は誰か。
- (3) ①19世紀前半に行われた幕府政治の改革は何か。②また、その改革を行ったのは誰か。
- (4) (3)の人物が物価の引き下げをはかるために行った政策は何か。
- (5) (3)の人物は、異国船打払令をやめたが、そのきっかけになった海外の事件は何か。

[解答欄]

(1)	(2)	(3)①	②
(4)	(5)		

[解答](1) 天保てんぽうのききん (2) 大塩平八郎おおしおへいはちろう (3)① 天保の改革 ② 水野忠邦みずのただくに (4) 株仲間かぶなかまの解散 (5) アヘン戦争

[問題]

次の各問いに答えよ。

- (1) 大塩平八郎は儒学じゆがくの中でも知行一致を重視する学問の学者であった。何という学問か。
- (2) 大塩の乱は1日で鎮圧ちんあつされたが、幕府は強い衝撃しょうげきを受けた、その理由を「役人」という語句を使って説明せよ。
- (3) 天保の改革の内容にあてはまらないものをア～エから1つ選べ。
 ア 農民が江戸に出かせぎに来るのを禁止し、江戸に出ている農民を村に帰らせた。
 イ 株仲間をおおいに認め、奨励した。
 ウ 出版や風俗を厳しく規制した。
 エ 江戸・大阪周辺の領地を幕府の領地にしようとした。

[解答欄]

(1)	(2)
(3)	

[解答](1) 陽明学ようめいがく (2) 奉行所のもとの役人が反乱を起こしたから。 (3) イ

[幕政の改革全般]

[問題]

次は、誰が行った何という改革か。

- (1) 旗本・御家人の借金を帳消しにした。
- (2) 凶作やききんに備え、米をたくわえさせた。
- (3) 株仲間を解散させた。
- (4) 江戸・大阪の周辺の大名家や旗本の領地を幕府の直轄地にしようとした。
- (5) 商工業者の株仲間を奨励した(人物のみ)。
- (6) 新田開発を行い、きめられた率の年貢をとるようにした。
- (7) 公事方御定書という法令集を作り裁判の公正をはかった。
- (8) 長崎貿易で、海産物などの輸出を奨励した。(人物のみ)
- (9) 昌平坂学問所で朱子学以外の学問を禁止した。
- (10) 鉾山や印旛沼など新田の開発をすすめた。(人物のみ)
- (11) わいろがさかんになった。(人物のみ)
- (12) 江戸に目安箱という投書箱をもうけた。

[解答欄]

(1)	(2)	(3)
(4)	(5)	(6)
(7)	(8)	(9)
(10)	(11)	(12)

【解答】(1) 松平定信、寛政の改革 (2) 松平定信、寛政の改革 (3) 水野忠邦、天保の改革 (4) 水野忠邦、天保の改革 (5) 田沼意次 (6) 徳川吉宗、享保の改革 (7) 徳川吉宗、享保の改革 (8) 田沼意次 (9) 松平定信、寛政の改革 (10) 田沼意次 (11) 田沼意次 (12) 徳川吉宗、享保の改革

[問題]

次は、誰が行った改革か。

- (1) 林羅山がたてた孔子をまつる聖堂と私塾を盛んにし、学問を進めた。
- (2) 金貨の質を悪くして財政難をきりぬけようとした。
- (3) 長崎貿易を制限し金銀の海外流失を防いだ。
- (4) 農民の都市への出稼ぎを禁止した。

- (5) 有能な武士は俸禄の低い者でも取り立てた。
- (6) 幕府政治の改革を行ったが、厳しすぎたため 2 年余りで改革は失敗した。
- (7) 昌平坂学問所しょうへいざかで朱子学しゅしがく以外の学問を禁止した。
- (8) 異国船打払令を緩和した。
- (9) 長崎貿易で、銅や海産物の輸出を奨励した。

【解答欄】

(1)	(2)	(3)	(4)
(5)	(6)	(7)	(8)
(9)			

【解答】(1) 徳川綱吉つなよし (2) 徳川綱吉 (3) 新井白石あらいはくせき (4) 松平定信 (5) 徳川吉宗 (6) 水野忠邦 (7) 松平定信 (8) 水野忠邦 (9) 田沼意次

【雄藩の成長】

【問題】

次の各問いに答えよ。

- (1) 諸藩でも財政難ざいせいなんへの対策がたてられたが、その例をあげよ。
- (2) 財政の建て直しに成功し、幕末の政治に大きな影響を与えた藩を 2 つあげよ。
- (3) 岡山藩では 1855 年、農民の不満をそらすため、差別強化を行った。この翌年差別された人々が一揆を起こした。この一揆を何というか。

【解答欄】

(1)	(2)
(3)	

【解答】(1) 特産物を専売品せんばいひんにした。 (2) 薩摩藩さつまはん、長州藩ちようしゅうはん (3) 渋染一揆しぶぞめいっぎ

【】新しい学問と化政文化

[要点]

- (1) 本居宣長は古典を研究して、古事記伝を著し、国学を大成した。蘭学者の前野良沢と杉田玄白はオランダの人体解剖書を翻訳して解体新書を著した。伊能忠敬は正確な日本地図をつくった。町人や農民の子供たちは寺子屋で読み・書き・そろばんを習った。
- (2) 19世紀はじめに江戸を中心として化政文化がさかえた。浮世絵の技術も進み、錦絵という多色刷りの版画も作られた。風景画では葛飾北斎や歌川安藤 広重、美人画では喜多川歌麿が有名である。小説では「東海道中膝栗毛」の十返舎一九、「南総里見八犬伝」の滝沢馬琴、俳諧では与謝蕪村や小林一茶がいる。また、政治を風刺した狂歌や川柳が好まれた。

[要点確認]

- (1) ()は古典を研究して、古事記伝を著し、()学を大成した。蘭学者の()と()はオランダの人体解剖書を翻訳して()を著した。()は正確な日本地図をつくった。町人や農民の子供たちは()で読み・書き・そろばんを習った。
- (2) 19世紀はじめに()を中心として()文化がさかえた。浮世絵の技術も進み、()という多色刷りの版画も作られた。風景画では()や歌川安藤 広重、美人画では喜多川歌麿が有名である。小説では「東海道中膝栗毛」の()、「南総里見八犬伝」の()、俳諧では与謝蕪村や小林一茶がいる。また、政治を風刺した()や()が好まれた。

[新しい学問]

[問題]

次の各問いに答えよ。

- (1) 日本の古典を研究して、古代日本人の精神を知ろうとする学問は何か。
- (2) 古事記伝を著し、(1)を大成した人物は誰か。
- (3) 西洋の学問文化を研究する学問は何と呼ばれたか。
- (4) 前野良沢 と(①)はオランダの人体解剖書を翻訳して(②)を著した。
- (5) 全国を測量して正確な日本地図を作った人は誰か。
- (6) 町人や農民の子供が読み・書き・そろばんを習った場所を何というか。

【解答欄】

(1)	(2)	(3)	(4)①
②	(5)	(6)	

【解答】(1) 国学 (2) 本居宣長 (3) 蘭学 (4)① 杉田玄白 (2) 解体新書 (5) 伊能忠敬 (6) 寺子屋

【問題】

次の各問いに答えよ。

- (1) 本居宣長の代表的著作は何か。
- (2) 江戸時代後半，長崎に鳴滝塾をつくったオランダ商館の医師はだれか。
- (3) 江戸時代，寺子屋で子供たちに教えた内容を3つ書け。

【解答欄】

(1)	(2)	(3)
-----	-----	-----


【解答】(1) 古事記伝 (2) シーボルト (3) 読み・書き・そろばん

【化政文化】

【問題】

次の各問いに答えよ。

- (1) ①江戸時代の後期の文化・文政年間を中心に栄えた文化は何か。②また，中心都市はどこか。
- (2) 「白河の清きに魚のすみかねてもとの濁りの田沼恋しき」のような作品を何というか。
- (3) 「東海道中膝栗毛」というこっけいな小説を書いた人物は誰か。
- (4) 富士山を中心に右の図のような「富嶽三十六景」を描いた浮世絵師は誰か。
- (5) この時代になると，浮世絵の技術も進み，()という多色刷りの版画も作られた。



【解答欄】

(1)①	②	(2)	(3)
(4)	(5)		

【解答】(1)① 化政文化 ② 江戸 (2) 狂歌 (3) 十返舎一九 (4) 葛飾北斎 (5) 錦絵

【問題】

次の各問いに答えよ。

- (1) 化政文化がさかえたのはいつ頃か。
- (2) 教訓を含んだ「南総里見八大伝」を書いた小説家は誰か。
- (3) 「菜の花や 月は東に日は西に」という俳諧の作者は誰か。
- (4) 「われときて遊べや親のない雀」という俳諧の作者は誰か。
- (5) 浮世絵の「東海道五十三次」を描いた人物は誰か。
- (6) 美人画を得意にした浮世絵師は誰か。

【解答欄】

(1)	(2)	(3)	(4)
(5)	(6)		


【解答】(1) 19世紀のはじめ (2) 滝沢馬琴 (3) 与謝蕪村 (4) 小林一茶 (5) 歌川(安藤) 広重 (6) 喜多川歌麿

【文化全般】

【問題】

次の各問いに答えよ。

- (1) 次の A～E は、それぞれ桃山文化、元禄文化、化政文化のいずれの時期のものか。
- (2) Aの絵の作者は誰か。
- (3) Fの絵の作者は誰か。



[解答欄]

(1)A	B	C	D
E	F	(2)	(3)

[解答](1)A 化政文化 B 桃山文化 C 元禄文化 D 桃山文化 E 桃山文化 F 元禄文化 (2) 葛飾北齋 (3) 菱川師宣

[印刷／他のPDFファイルについて]

※ このファイルは、FdText 社会(9,600 円)の一部を PDF 形式に変換したサンプルで、印刷はできないようになっています。製品版の FdText 社会は Word の文書ファイルで、印刷・編集を自由に行うことができます。

※ FdText(英語・数学・社会・理科・国語)全分野の PDF ファイル、および製品版の購入方法は<http://www.fdtype.com/txt/> に掲載しております。

※ 弊社は、FdText のほかに FdData 中間期末過去問(数学・理科・社会)(各 18,900 円)を販売しております。PDF 形式のサンプル(全内容)は、

<http://www.fdtype.com/dat/> に掲載しております。

※ [FdData 無料閲覧ソフト(RunFdData)]を、Windows のデスクトップ上にインストールすれば、FdData 中間期末の全 PDF ファイルを自由に閲覧できます。次のリンクを左クリックするとインストールが開始されます。

【 <http://fddata.deci.jp/lnk/instRunFdDataWDs.exe> 】

※ダイアログが表示されたら、【実行】ボタンを左クリックしてください。インストール中、いくつかの警告が出ますが、[実行][許可する][次へ]等を選択します。

【Fd教材開発】(092) 404-2266

<http://www.fdtype.com/dat/>